

3.Sınıf

Haftalık Ödev

14-18 HAZİRAN



SIİRT
İL MİLLÎ EĞİTİM MÜDÜRLÜĞÜ

[www.
siirt.meb.gov.tr](http://www.siirt.meb.gov.tr)



Esma'ya öğretmeni günlük yazmaları için ödev verdi. Fakat Esma nasıl yazacağını bilmiyordu. Annesi ise günlük yazmanın belirli kuralları vardır. Öncelikle tarih sırasına göre düzenli bir şekilde ve olayları günü gününe yazmalısın. Günlük kısa ve samimice yazılan yazılardır.

Esma annesini dinledikten sonra heyecanla yarın ilk günlüğümü yazacağım söyledi.

1. ,2. Ve 3. Soruları yukarıdaki metine göre cevaplayınız.

1. Aşağıdakilerden hangisi günlük yazmanın özelliklerinden değildir?

- A) Olaylar tarih sırasına göre ve düzenli yazılır.
- B) Kısa ve samimi yazılardır.
- C) Aylık olayları yazabiliriz.

2. Esma neden günlük yazmak istedi?

- A) Arkadaşları yazdığı için
- B) Öğretmeni yazmasını istediği için
- C) Annesi günlük yazmasını istediği için

3. “Sevgili günlük,

Bugün yeni yılın ilk günü. Düünden beri kar yağıyor.”

Esma yukarıda günlüğüne yazdığı yazıyı hangi tarihte yazmış olabilir?

- A) 1 Ocak
- B) 3 Ocak
- C) 5 Ocak

4. İssız bir adaya düşseniz yanınıza alacağınız 3 şey nedir sorusuna;

Büşra → Telefon---Kitap---Kalem

Fatih → Bilgisayar---Kitap---Oyuncak

Süleyman → Tablet---Kalem---Yemek

Yukarıdaki cevabı veren öğrencilerden hangisi verdikleri cevaplar alfabetik sıraya göre sıralanmıştır?

- A) Büşra
- B) Fatih
- C) Süleyman

5. Hafta sonu köye dedemi ziyarete gittik. Dedem çok yaşlıydı. Bizi görünce çok sevindi. Bize okul ile ilgili sorular sordu. Sonra öğüt vermeye başladı. Dedemin Öğütlerini her zaman dinlerim.

Yukarıdaki metinde verilen altı çizili kelimelerin hangisini zıt anlamı aşağıda verilmemiştir?

- A) Genç
- B) Nasihat
- C) İmtihan

6. İstanbul Boğazı şehre ayrı bir güzellik katmış.

Yukarıdaki boğaz kelimesi aşağıdakilerden hangisinde farklı anlamda kullanılmıştır?

- A) Boğazdan gemiler geçti.
- B) Evimiz boğaz manzaralıdır.
- C) Yediğim yemek boğazımda kaldı.

Güzel	Okumak	Kitap	Alışkanlıktır	Bir
1	2	3	4	5

7. Yukarıdaki sözcüklerle anlamlı ve kurallı cümle oluşturduğumuzda doğru sıralanışı aşağıdakilerden hangisidir?

- A) 3-2-1-5-4
- B) 3-2-5-1-4
- C) 2-1-5-4-3

8. Tuna arkadaşları Mine ve Ali ile oyun oynamak için buluştu. Doyasıya oyun oynadılar. Oynarken Tuna'nın gözüne top geldi. Hemen eve geri döndüler. Bir daha oyun oynarken daha çok dikkat etmeleri gerektiğini anladılar.

Yukarıdaki unsurlarından hangisine hikaye verilmemiştir?

- A) Yer
- B) Zaman
- C) Kişiler

9. Aşağıdakilerden hangisinde Sebep-Sonuç cümlesi vardır?

- A) Yemeğin tadı damağımda kaldı.
- B) İlkbahar mevsiminde ağaçlar çiçek açar.
- C) Sağlıklı olmak için süt içmeliyiz.

10. Annesi Ece'ye sürpriz doğum günü yapacaktı ()Ece için en çok istediği elbiseyi () renkli boya kalemleri almıştı. Ece pastayı üflerken; Eyvah () mumlar saçımı yaktı()

Yukarıdaki metinde sırasıyla hangi noktalama işaretleri kullanılmalıdır?

- A) (.) (,) (,) (!)
- B) (.) (,) (!) (.)
- C) (.) (,) (,) (.)

11. Aşağıdaki cümlelerin hangisinde yazım yanlışı yapılmıştır?

- A) Sevgi teyze geçen hafta İstanbul'a taşındı.
- B) Öğretmen tuz gölü ve van gölünü araştırmamızı istedi
- C) Atatürk 19 Mayıs 1919'da Samsun'a çıktı.

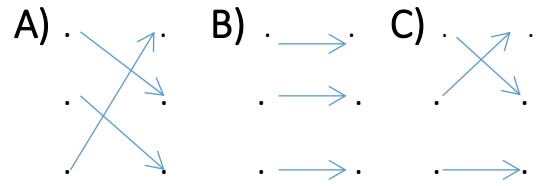
12. Aşağıdaki atasözlerinden hangisi tasarruf ile ilgilidir?

- A) Bugünün işini yarına bırakma.
- B) İyi dost kara günde belli olur.
- C) Damlaya damlaya göl olur.

13.

Kabak tadı vermek	Titizlikle incelemek
Ayaklı Kütüphane	Bıktırmak
Kılı kırk yarmak	Çok Kitap Okumuş

Yukarıdaki deyimler ve anlamları eşleştirildiğinde aşağıdaki şekillerden hangisi oluşur?



14. Aşağıda belirtilen iş-oluş-hareket bildiren sözcüklerden hangisi farklı zamanda gerçekleşmiştir?

- A) Geçen yaz Antalya'ya gittim.
- B) Haftaya sinemaya gideceğiz.
- C) Sinan'lar pikniğe gitmişler.

15. Aşağıdaki cümlelerin hangisinde ismin yerine kullanılan sözcük yoktur?

- A) Bütün yaşadıklarına sen sebep oldun
- B) Onlar birlikte mi gideceksin?
- C) Kitaplarımı çok seviyorum.

16. Merhaba, ben Mert. Ailece kitap okumayı çok seviyoruz. Her akşam kitap okuma saati yapıyoruz. Kitaplarımızı alır okuma köşemize geçeriz. Kitap okumamız bittikten sonra kitaplarımızı kitaplığımıza yerleştiriyoruz.

Yukarıdaki metine göre kitap ile kitaplık arasındaki ilişki aşağıdakilerden hangisinde yoktur?

- A) Alış-veriş yaptıktan sonra parayı cüzdanıma koydum.
- B) Yere düşen kalemrimi kalemlığime yerleştirdim.
- C) Babam çaya şeker atıp çay kaşığı ile karıştırdı.

17. Bir zaman sonra Uyuyan Güzel iyi kalpli prens ile evlenmiş. İyilik perileri onları hiç yalnız bırakmamışlar. Huzur içinde yaşamışlar.

(Yukarıda Uyuyan Güzel hikayesinden alınan metin bulunmaktadır.)

Buna göre yukarıdaki metin hikayenin hangi bölümüne ait olabilir?

- A) Giriş
- B) Sonuç
- C) Gelişme

18. Aşağıdaki cümlelerin hangisinde eş sesli (sesteş) kelimeler farklı anlamlarıyla beraber kullanılmıştır?

- A) Bahçedeki gülleri topladım,kırmızı gülleri anneme verdim
- B) Tatilde günlük yazmaya başladım,günlüğüme şiirler de yazdım.
- C) Dün gece düşümde havuza düştüğümü gördüm.

19. Hatice bu sabah eski arkadaşlarını karşısında görünce çok şaşırdı.

Yukarıdaki cümlede hangi sorunun cevabı yoktur?

- A) Kim?
- B) Ne Zaman?
- C) Nerede?

20.

- ❖ İlk işim sınıfıma gitmek oldu. (1)
- ❖ Sonra sınıfıma baktım ve masama oturdum.(2)
- ❖ İlk Önce okula geldim.(3)
- ❖ Masamda kitaplarımı inceledim, öğrencilerimi bekledim.(4)
- ❖ En son anladım ki bugün tatildi öğrenciler okula gelmeyecektiler.(5)

Yukarıdaki verilen olayların oluş sırasına göre sıralanışı aşağıdakilerden hangisidir?

- A) 3-1-2-4-5
- B) 1-2-3-5-4
- C) 3-1-4-2-5

OKUNUŞU	SAYI
Dokuz Yüz Elli	950
Beş Yüz Beş	550
Dört Yüz Otuz İki	432

1. Yukarıdaki okunuşları verilen doğal sayılardan hangisi sayı olarak yanlış yazılmıştır?

- A) 950 B) 550 C) 432

Doğal Sayı	En Yakın Onluğa Yuvarlaması
425	430
224	230
529	530

2. Yukarıda verilen doğal sayılardan kaç tanesi en yakın onluğa yuvarlaması doğru yazılmıştır?

- A) 1 B) 2 C) 3

954, 960, 854, 899

3. Yukarıda verilen doğal sayıların büyükten küçüğe doğru sıralanışı aşağıdakilerden hangisinde doğru verilmiştir?

- A) 960-954-854-899
B) 960-899-954-854
C) 960-954-899-854

4. 48'den başlayarak 7'şer ritmik sayınca
4. Sırada bulunan sayı aşağıdakilerden hangisidir?

- A) 62 B) 55 C) 69

36

44

40

48

44

5. Yukarıdaki örüntü ile aynı kurala ait örüntü aşağıdakilerden Hangisidir?

A)

12

20

16

24

20

B)

18

26

34

42

50

C)

24

32

30

38

36

Doğal Sayı	TEK	ÇİFT
457	✓	
648		✓
836	✓	

6. Yukarıdaki tabloya göre hangi doğal sayı yanlış işaretlenmiştir?

A) 457

B) 648

C) 836

7. Pınar 775 TL olan çamaşır makinası ile fiyatı 215 TL olan ütü alıp 5 taksit ile ödeyecektir. 1.Taksit kaç TL olacaktır?

A) 197

B) 198

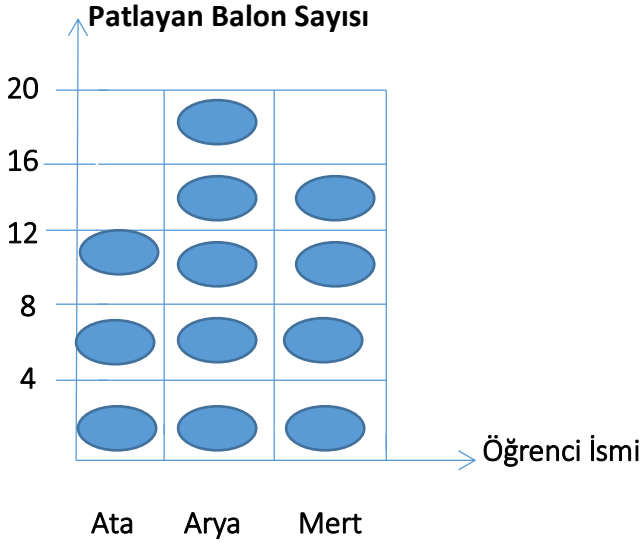
C) 298

8. Bir mağaza 834 TL olan bulaşık makinasında önce 45 TL indirim yapmış, daha sonra 120 TL indirim yapmıştır. Buna göre bulaşık makinasının son fiyatı kaç TL olmuştur?

A) 659

B) 660

C) 658



●:Patlatılan balonları ifade ediyor.

Her şekil 4 balon göstermektedir.

3-B Sınıfında sınıf başkanlığı seçiminde 3 öğrenci eşit oy almıştır. Aralarında yapılan yarışmaya göre yukarıdaki grafik oluşturulmuştur.

9.,10., ve 11. Soruları grafiğe göre cevaplayınız.

9. Grafiğe göre balon patlatma yarışmasını kim kazanmıştır?

- A) Ata B) Arya C) Mert

10. 3 öğrencinin patlattığı balon sayılarının toplamı kaçtır?

- A) 48 B) 46 C) 36

11. Arya'nın patlattığı balonlar ile Ata'nın patlattığı balonların farkı kaçtır?

- A) 4 B) 6 C) 8

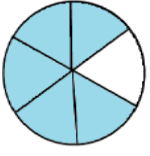
12. Bir sitede 5 blok vardır. Her blokta 12 kat vardır. Her katta 4 daire vardır. Buna göre sitede toplam kaç daire vardır?

- A) 60 B) 240 C) 244

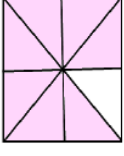
13. ? 8 **Yandaki bölme işleminde bölünen sayı kaçtır?**

$$\begin{array}{r} \text{---} \\ 4 \overline{) 14} \\ \underline{12} \\ 2 \end{array}$$


- A) 114 B) 112 C) 116



$$\frac{5}{6}$$



$$\frac{6}{8}$$



$$\frac{5}{9}$$

14. Yukarıdaki kesirlerden hangisi model üzerinde yanlış gösterilmiştir?

A) $\frac{5}{6}$

B) $\frac{6}{8}$

C) $\frac{5}{9}$

15. 20:45'te başlayan bir televizyon dizisi 23:10'da bitmiştir. Buna göre dizi kaç saat sürmüştür?

A) 3:25 dk.

B) 2:25 d

C) 2:15 dk.

16. Eylül'ün babası Eylül'den 62 kilogram fazladır. Eylül'ün annesi Eylül'ün babasından 12 kilogram hafiftir. Eylül 20 kilogram olduğuna göre annesi kaç kilogramdır?

A) 62



B) 60

C) 70

6 kg +  kg = 14 kg

300 gr +  gr = 450 gr

17. Yukarıda verilen eşitliğe göre

 + 

İşleminin sonucu kaçtır?

A) 8150 gr

B) 8250 gr

C) 8200 gr

Toplu İğne-----Pipet-----Tren Rayları

18. Yukarıdaki örneklerin modelleri sırası ile aşağıdakilerden hangisinde verilmiştir?

- A) Işın-----Doğru Parçası-----Doğru
- B) Doğru Parçası-----Doğru-----Işın
- C) Işın-----Doğru-----Doğru Parçası

19. Aşağıdaki nesnelerden hangisinin uzunluğunu adım ile ölçmek doğru olur?

- A) Kitabın Boyu
- B) Halı
- C) Cep Telefonu

1-) $9 \text{ m} = 900 \text{ cm}$

2-) $5 \text{ m } 62 \text{ cm} = 562 \text{ cm}$

3-) $7 \text{ m } 5 \text{ cm} = 750 \text{ cm}$

20. Yukarıdaki eşitliklerden hangileri doğrudur?

- A) 1 ve 3
- B) 2 ve 3
- C) 1 ve 2

1. Aşağıdaki ifadelerden hangisi doğrudur?

- A) Eskiden insanlar Dünya'nın şeklini düz bir masaya benzetmişlerdir.
- B) Dünya'mızın bir öküzün boynuzları üzerinde durduğuna inanmışlardır.
- C) Fillerin hortumlarıyla Dünya'yı döndürdüklerini düşünüyorlardı.

2. Aşağıda verilen bilgilerden kaç tanesi doğrudur?

- I. Günümüzde uzaydan çekilen fotoğraflar Dünya'mızın şekli hakkında bilgi vermektedir.
- II. Dünya'mız alttan ve üstten şişkin, yanlardan basık bir balona benzemektedir.
- III. Dünya üzerindeki büyük su kütlelerine okyanus denir.

- A) 1 B) 2 C) 3

3. Dünya'mızın katmanları ile ilgili olarak aşağıda verilen bilgilerden hangisi doğrudur?

- A) Kara katmanı (Yer kabuğu) en dıştaki katmandır.
- B) Çekirdek Dünya'nın en sıcak ve ağır katmanıdır.
- C) Magma canlıların en çok yaşadığı katmandır.

4. "Eyüp sokakta yürürken birden yağmur yağmaya başlıyor."

Eyüp hangi duyularını kullanarak yağın yağmuru fark edemez?

- A) Koklama Ve Tatma
- B) İşitme Ve Görme
- C) Dokunma Ve İşitme

5. Göz sağlığına dikkat etmeyen Haydar böyle devam ederse aşağıdakilerden hangisini kullanmak zorunda kalacaktır?

- A) Gözlük
- B) Teleskop
- C) Kaykay

6. Kibrit çöpü ile kulağını karıştıran Asel bu davranışı ile hangi duyusuna zarar verebilir?

- A) İşitme duyusuna
- B) Koklama duyusuna
- C) Tatma duyusuna

7. Aşağıdakilerden hangisi tehlike oluşturmaz?

- A) Koşan bir çocuğun, arkadaşına çarpması
- B) Çok soğuk havalarda yerlerin buz tutması
- C) Hızlı giden bir otomobilin yavaşlaması

8. Aşağıda bazı nesneler yazılmıştır.

- ✓ Saat
- ✓ Vantilatör
- ✓ Mikser (Mutfak araç gereci)

Yukarıdaki araçlar çalışırken yaptıkları hareketlerden hangisi her üçünde de ortaktır?

- A) Sallanma
- B) Dönme
- C) Yön Değiştirme

9. Aşağıdakilerden hangisi kendi kendine hareket edebilen varlıklara örnek verilebilir?

- A) Masa
- B) Ayçiçeği
- C) Otomobil

10. Aşağıdakilerden hangisinde verilen bilgi yanlıştır?

- A) Limonata ve vişne suyu tadına bakılarak ayırt edilebilir .
- B) Tuz, un ve şeker renkleri ile ayırt edilebilir.
- C) Pamuk ile demiri dokunarak ayırt edebiliriz.

11. Aşağıdakilerden hangisi gaz halindeki bir maddeye örnek verilebilir?

- A) Göldeki sular
- B) Havadaki bulut
- C) Dağlardaki karlar

12.

- I. Katı maddelerin belirli bir şekli yoktur.
- II. Gazlar bulundukları kabın şeklini almazlar.
- III. Gazlar bulundukları ortama yayılırlar.
- IV. Pirinç, toz şeker ve tuz gibi küçük parçacıklı katı maddeler bulundukları kabın şeklini alırlar.
- V. Katı maddeler dışarıdan bir etki aldıklarında şekil değiştirebilirler.
- VI. Sıvı maddelerin belirli bir şekilleri vardır.

Yukarıda verilen bilgilerden kaç tanesi doğrudur?

- A) 3
- B) 4
- C) 5

13. Bazı cisimler ışık kaynağı olmadığı halde ışıklı ortamlarda ışık kaynağı gibi görünür.

Aşağıdakilerden hangisi bu cisimler arasında yer almaz?

- A) Ayna
- B) Ay
- C) Tahta kaşık

14.

- I. Ateş böceği - doğal ışık kaynağı
- II. Fener – yapay ışık kaynağı
- III. Floresan lamba - doğal ışık kaynağı

Yukarıdaki ışık kaynaklarından hangilerinin türü yanlış yazılmıştır?

- A) Yalnız I
- B) Yalnız III
- C) I ve II

15. Aşağıdakilerden hangisi yapay çevre örneğidir?

- A) Dağ
- B) Orman
- C) Otoyollar



16. Yukardaki orman görseli için aşağıdakilerden hangisi söylenemez?

- A) Birçok canlıya ev sahipliği yapar.
- B) Doğal çevredir.
- C) İnsan eliyle oluşturulmuştur.



17. Resimdeki Őeklin anlamı hangisidir?

- A) İleride   p bidonu var.
- B) İleriden d n nce   p  atabilirsın.
- C) Geri d n Ő m kutusu

18. AŐaŐıda verilen elektrikli ara lardan hangisinin iŐlevi ampul n ki ile aynıdır?

- A) Radyo
- B) Fl oresan
- C) Elektrik sobası

19. Elektrik kablolarının etrafının plastikle kaplanmasının nedeni nedir?

- A) G zel g r nmesi i in.
- B) Plastik yalıtkan olduĐu i in.
- C) Plastik esnek olduĐu i in.

20. AŐaŐıdakilerden hangisi pil ile  alıŐmaz?

- A) Fener
- B) Kol saati
- C)  t 

1. Aşağıdakilerden hangisi yardımlaşma ve dayanışmanın bireye sağladığı faydalardan biri değildir?

- A) Toplumdaki olaylara karşı daha duyarlı olmasını sağlar.
- B) Bireyin sosyalleşmesini sağlar.
- C) Bireyin sadece kendini düşünmesi gerektiğini öğretir.

2. Aşağıdakilerin hangisinde dayanışmaya örnek bir davranış vardır?

- A) Fakir öğrencilere zaten belediye yardım ediyor. Benim yardım etmeme gerek yok.
- B) Okulumuzdaki durumu iyi olmayan öğrenciler için elimden bir şey gelmez.
- C) Okulumuzdaki durumu iyi olmayan öğrenciler için yardım kampanyası başlatmak istiyorum.

3.

- I. Yardımlaşma ve dayanışma faaliyetleri ile ihtiyaç sahiplerine destek oluruz.
- II. Kimsenin yardıma ihtiyacı yoktur.
- III. Bir gün bizim de yardıma ihtiyacımız olabilir.

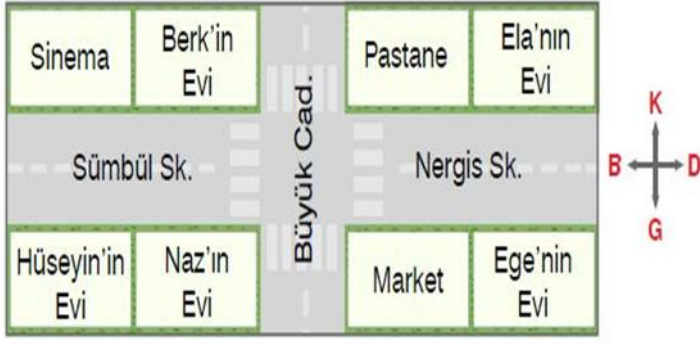
Yukarıdaki bilgilerden hangileri doğrudur?

- A) I-II
- B) I-III
- C) I-II-III

4. Esilay aile büyüklerinin çocukluğunu araştırıyor.

Esilay hangi sonuca ulaşamaz?

- A) Geçmişten günümüze teknolojik gelişmeler olmuştur.
- B) Geçmişten günümüze giyim eşyaları değişmiştir.
- C) Geçmişten günümüze ulaşım araçları değişmemiştir.



5. H seyin'in evi nerededir?

- A) H seyin'in evi S mb l Sokağının batısında, sinemanın g neyindedir.
- B) H seyin'in evi Naz'in evinin batısında Berk'in evinin kuzeyindedir.
- C) H seyin'in evi sinemanın g neyinde, marketin doğusundadır.

6. Aşağıdaki ifadelerden hangisi yanlıştır?

- A) Evdeki elektrikli aletlerin t m n  çocuklar kullanabilir.
- B) Evdeki teknolojik  r nler hayatımızı kolaylaştırır.
- C) Evdeki teknolojik  r nleri çocuklar b y klerinin kontrol nde kullanabilir.

7. Hayvanları muayene ve tedavi eden meslek grubu hangisidir?

- A) Manav
- B) Veteriner
- C) Diř Hekimi

8. Aşağıdakilerden hangisi bitkisel bir  r nd r?

- A) Tereyağı
- B) S t
- C) Zeytinyağı

9. **Yatmadan  nce** fır alamalıyız. Bořluklu yere ne gelmelidir?

- A) Sa larımızı
- B) Diřlerimizi
- C) Ayakkabımızı

10. Aldığımız ürünlerin ambalajlarının üstünde TSE damgası bulunmalıdır. Türk Standartları Enstitüsünün kısa adı olan bu damga ne anlama gelir?

- A) Yurt dışından aldığımız ürünleri ifade eder.
- B) Aldığımız ürünün son kullanma tarihinin geçmediğini gösterir.
- C) Ürünün belirlenen kriterlere uygun üretildiğini gösterir.

11. Telefonda "155" i arayan bir kişi kimi aramış olur?

- A) İtfaiye
- B) Polis
- C) Jandarma

12. Aşağıdakilerden hangi renk "GEÇ" anlamına gelir?

- A) Kırmızı
- B) Sarı
- C) Yeşil

13. İstiklal Marşı'mızın şairi kimdir?

- A) Mehmet Zeki ÜNGÖR
- B) Fevzi ÇAKMAK
- C) Mehmet Akif ERSOY

14. Atatürk ile ilgili verilen bilgilerden hangisi yanlıştır?

- A) 1938' de Dolmabahçe'de gözlerini ebediyete yummuş.
- B) 23 Nisan 1920'de TBMM'yi açmış.
- C) 1981 tarihinde Selanik'te doğdu.

15. Yerel seçimler kaç yılda bir gerçekleşir?

- A) 5
- B) 4
- C) 6

16. Fıkralarıyla insanları güldüren ve onlardan ders çıkarmasını sağlayan Akşehir doğumlu ünlü şahsiyet kimdir?

- A) Yunus Emre
- B) Hacıvat Karagöz
- C) Nasreddin Hoca

17. Aşağıdakilerden hangisi ortak kullanım alanı değildir?

- A) Parklar
- B) Mutfak
- C) Belediye durakları

18. "Bitkiler, insan ve hayvanların ihtiyacı olan üretirler."

Yukarıdaki boşluk hangi kelimeyle dolmalıdır?

- A) Oksijeni
- B) Karbondioksiti
- C) Gübreyi

19. Hangi hayvan güvenliği sağlamak için insanlara yardımcı olur?

- A) Köpek
- B) Kedi
- C) İnek

20. Aşağıdakilerden hangisi farklı yönü gösterir?

- A) Kutup Yıldızı
- B) Karınca yuvalarının girişi
- C) Ağaçların yosunlu tarafı

1. What is this?



- A) Motorbike
- B) Bike
- C) Car

2. Resim kelime eşleştirmelerinden hangisi yanlış verilmiştir?

A) Car-----



B) Bus-----



C) Boat-----



3. Where is the boat?



- A) It is on the road.
- B) It is in the air
- C) It is on the river.

4. How can I go to the school?

-.....



- A) You can go by bike.
- B) You can go by bus
- C) You can go by train.

5. Is it a train?



- A) Yes, it can.
- B) Yes, it is.
- C) No, it is.

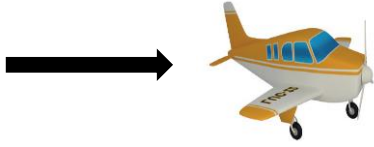
6. How can I go to Ankara?

- A) You can take a ship.
- B) You can take a boat.
- C) You can take a train.

7. Aşağıdakilerden hangisi farklıdır?

- A) vehicle
- B) plane
- C) minibus

8. Where is the helicopter?



- A) Over here.
- B) Over there
- C) I don't know.

9. Aşağıdaki kelimeleden hangisi yanlış yazılmıştır?

- A) transportation
- B) vehicle
- C) pilane

10. How can I go to the hospital?

- A) You can take a plane.
- B) You can take a car.
- C) You can take a helicopter.

11. Is it a ship?

-.....



- A) Yes, it is.
- B) No, it isn't.
- C) It is a ship.

12. Where is the river?



- A) Over there
- B) Over here
- C) I don't know.

13. Where is the motorcycle?

- A) It is in the road.
- B) It is on the road.
- C) It is on the railway.

14. Farklı olanı seçiniz.

- A) boat
- B) river
- C) sea

CEVAP ANAHTARI

TÜRKÇE TESTİ

1	2	3	4	5	6	7	8	9	10	11	12	13	14	15	16	17	18	19	20
C	B	A	B	C	C	A	B	C	A	B	C	A	B	C	C	B	C	C	A

MATEMATİK TESTİ

1	2	3	4	5	6	7	8	9	10	11	12	13	14	15	16	17	18	19	20
B	B	C	C	A	C	B	A	B	A	C	B	C	B	B	C	A	A	B	C

FEN BİLİMLERİ TESTİ

1	2	3	4	5	6	7	8	9	10	11	12	13	14	15	16	17	18	19	20
B	C	B	A	A	A	C	B	B	B	B	C	C	B	C	C	C	B	B	C

HAYAT BİLGİSİ TESTİ

1	2	3	4	5	6	7	8	9	10	11	12	13	14	15	16	17	18	19	20
C	C	B	C	A	A	B	C	B	C	B	C	C	C	A	C	B	A	A	B

İNGİLİZCE TESTİ

Answer Key (Cevap Anahtarı)

1	2	3	4	5	6	7	8	9	10	11	12	13	14
B	C	C	A	B	C	A	B	C	B	A	C	B	A

Çalışmada Emegi Geçen Öğretmenlerimiz:

NEVZAT YILMAZ

(SINIF ÖĞRETMENİ-FEVZİ ÇAKMAK İLKOKULU)

ARZU ÖZBİLİCİ

(SINIF ÖĞRETMENİ-YUNUS EMRE İLKOKULU)

SEDA AYDINLI

(İNGİLİZCE ÖĞRETMENİ-80.YIL İLKOKULU)

ÖZGÜR ÖNER

(SINIF ÖĞRETMENİ-FEVZİ ÇAKMAK İLKOKULU)

LOKMAN İLİK

(BİLİŞİM TEKNOLOJİLERİ ÖĞRETMENİ-MEHMET AKİF ERSOY ORTAOKULU)

Bu çalışma Siirt İl Milli Eğitim Müdürlüğü öğretmenleri tarafından hazırlanmıştır. Emeklerinden dolayı teşekkür ederiz.