

1. “ Beş yüz yirmi üç ” şeklinde okunan sayı aşağıdakilerden hangisidir?

- A. 503                      B. 513                      C. 523

2. 702 doğal sayısının okunuşu aşağıdakilerden hangisidir?

- A. Yedi yüz on iki                      B. Yedi yüz iki  
C. Yetmiş iki

3. “ 100 ” sayısı ile ilgili aşağıda verilen bilgilerden hangisi doğrudur?

- A. 1 yüzlük, 1 onluk ve 1 birlikten oluşur.  
B. Yüzler ve onlar basamağında sıfır vardır.  
C. 1 yüzlükten oluşmuştur.

4. Aşağıdaki sayılardan hangisinin okunuşu yanlış yazılmıştır?

- A. 105 : Yüz elli                      B. 234 : İki yüz otuz dört  
C. 325 : Üç yüz yirmi beş

5. 945 sayısındaki 4 rakamının basamak değeri aşağıdakilerden hangisidir?

- A. 4                      B. 40                      C. 400

6. Üç basamaklı en küçük sayı kaçtır?

- A. 101                      B. 001                      C. 100

7. Üç basamaklı en büyük sayı aşağıdakilerden hangisidir?

- A. 099                      B. 999                      C. 199

8. 4, 7 ve 3 rakamlarını kullanarak yazabileceğimiz 3 basamaklı en büyük sayı kaçtır?

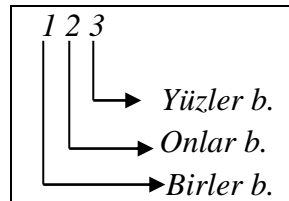
- A. 473                      B. 374                      C. 743

9. Üç basamaklı bir sayı ile ilgili aşağıda verilen bilgilerden hangisi yanlıştır?

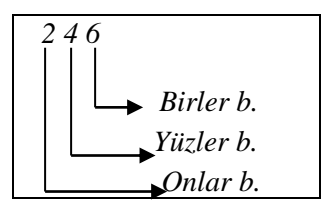
- A. Birler basamağına sıfır (0) yazabiliriz.  
B. Onlar basamağına sıfır (0) yazabiliriz.  
C. Yüzler basamağına sıfır (0) yazabiliriz.

10. Doğal sayıların basamak adları hangi seçenekte doğru yazılmıştır?

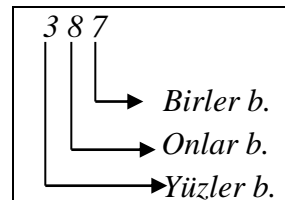
A.



B.



C.



11. Aşağıdaki sayılardan hangisinin en yakın onluğa yuvarlanması yanlıştır?

247	→	250
912	→	910
149	→	140

A. 247 B. 912 C. 149

12. “ 528 ” sayısının en yakın yüzlüğe yuvarlanması aşağıdakilerden hangisidir?

A. 400 B. 500 C. 600

13. Hangi sayı çiftinin arasına “>” sembolü konulursa karşılaştırma doğru olur?

A) 125 ..... 135

B) 210 ...310

C) 398 ... 125

14. “170, 165, 115, 180” sayılarının küçükten büyüğe doğru sıralanışı nasıldır?

A) 165 < 115 < 170 < 180

B) 115 < 165 < 180 < 170

C) 115 < 165 < 170 < 180

15. Aşağıda ileriye doğru altışar ritmik saymada yanlış yazılan sayı hangisidir?

6 - 12 - 18 - 25 - 30 - 36

A. 25 B. 18 C. 36

16. Aşağıdaki yedişer ritmik saymada “ ? ” ile gösterilen yere hangi sayı gelmelidir?

7 - 14 - 21 - 28 - ? - 42 - 49

A. 33 B. 36 C. 35

17. Aşağıdaki sekizer ileriye ritmik saymada 33 sayısından sonra hangi sayı gelmelidir?

17 - 25 - 33 - .....

A. 41 B. 40 C. 42

18. Aşağıda dokuzar ileriye doğru ritmik saymada boş bırakılan yerlere hangi sayılar gelmelidir?

9 - 18 - ..... - 36 - 45 - 54 - ..... - 72

A. 26 - 60 B. 25 - 61 C. 27 - 63

19. Aşağıdaki sayılardan hangisi tek sayıdır?

A. 153 B. 238 C. 370

20. Aşağıdaki sayılardan hangisi çift sayıdır?

A. 345 B. 346 C. 347