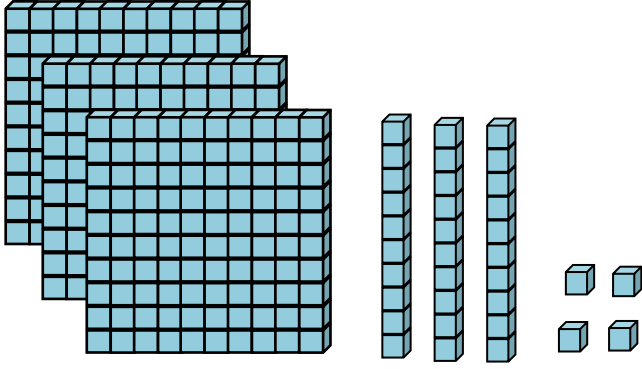



75. YIL İLKOKULU MATEMATİK DERSİ DOĞAL SAYILAR ÇALIŞMASI

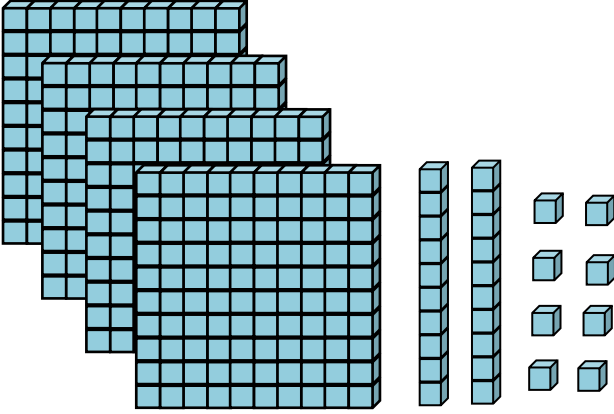
🌈 Taban bloklarıyla modellenen doğal sayıları ve okunuşlarını yazınız.



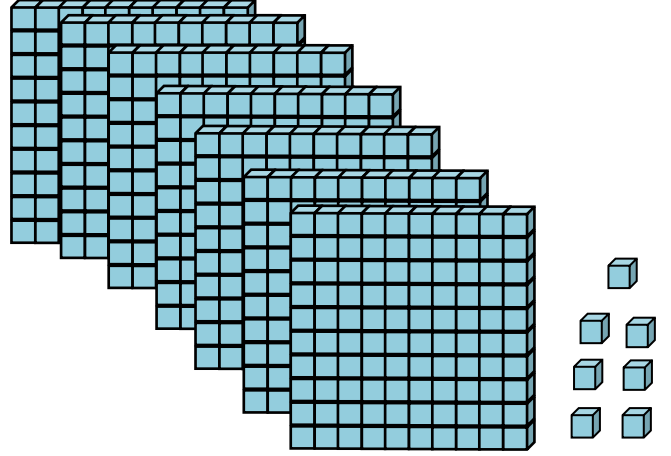
.....
.....



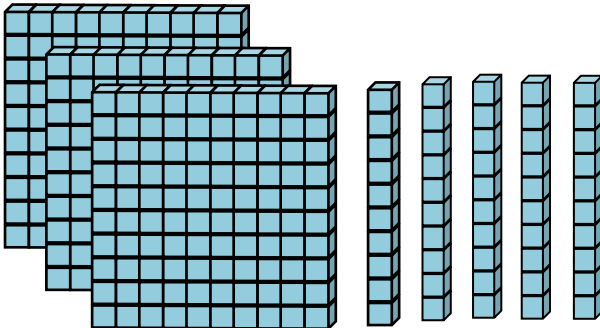
.....
.....



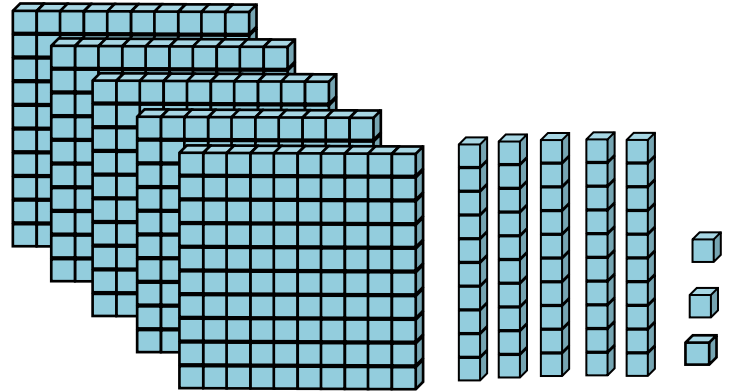
.....
.....



.....
.....

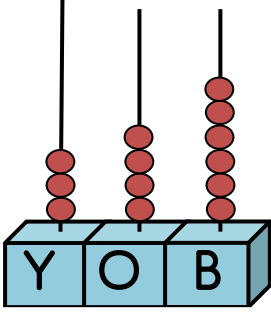


.....
.....

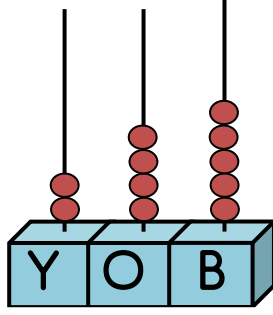


.....
.....

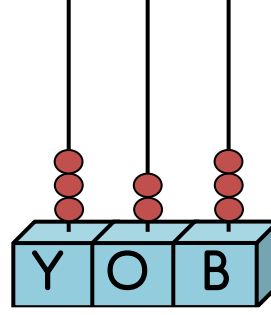
Abaküslerle modellenen sayıları yazınız.



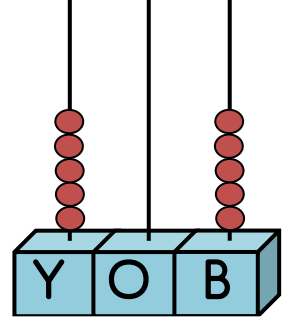
.....



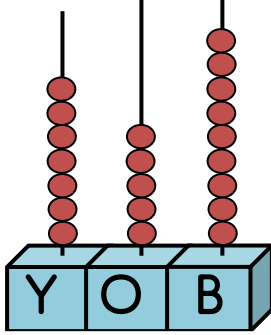
.....



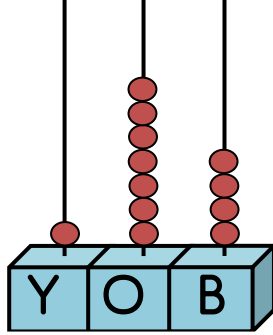
.....



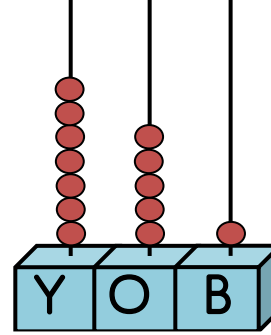
.....



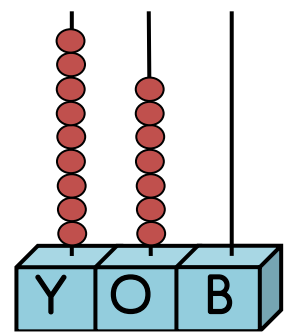
.....



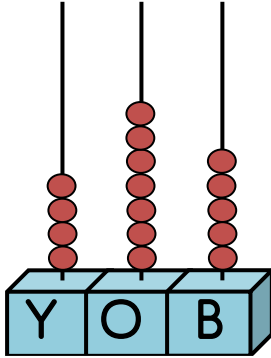
.....



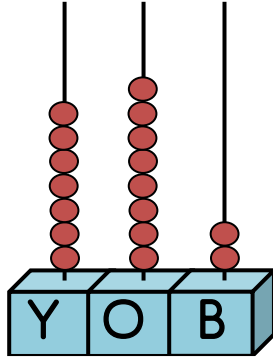
.....



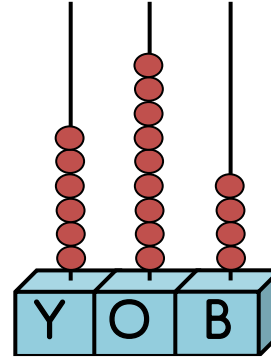
.....



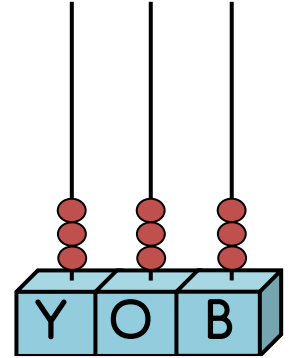
.....



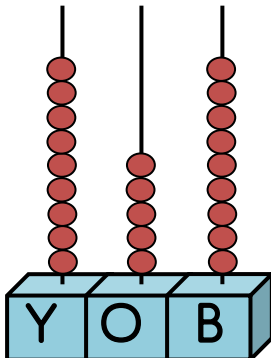
.....



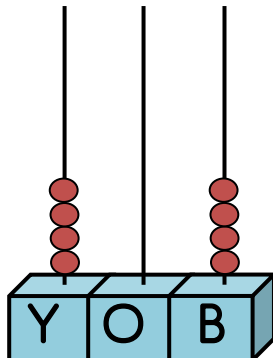
.....



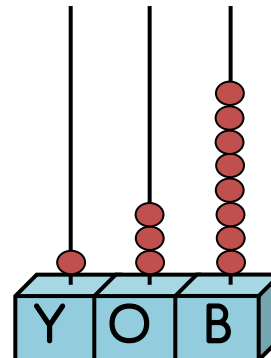
.....



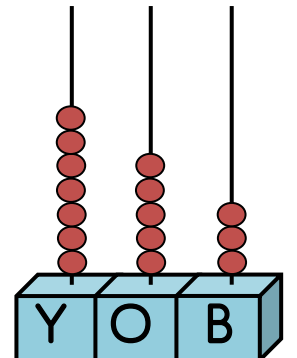
.....



.....



.....



.....



Aşağıda verilen doğal sayıların okunuşlarını yazınız.

520

.....

755

.....

978

.....

453

.....

284

.....

548

.....

155

.....

890

.....

748

.....

808

.....

813

.....

689

.....

292

.....

658

.....

549

.....

344

.....

860

.....

685

.....

618

.....

767

.....

914

.....

467

.....

796

.....

253

.....



Aşağıda okunuşları verilen doğal sayıları yazınız

..... Üç yüz otuz iki

..... Dört yüz otuz dört

..... Sekiz yüz altmış iki

..... Dokuz yüz seksen üç

..... Yedi yüz yirmi altı

..... Dört yüz altmış üç

..... Üç yüz seksen dört

..... Yedi yüz altmış

..... İki yüz elli sekiz

..... Üç yüz yirmi

..... Dört yüz on üç

..... Yedi yüz iki

..... Sekiz yüz elli altı

..... Dört yüz yirmi dokuz

..... İki yüz doksan altı

..... Dokuz yüz on iki

..... Yüz altmış yedi

..... Dokuz yüz yirmi

..... İki yüz üç

..... Yedi yüz yirmi altı

..... Beş yüz elli dokuz

..... Altı yüz elli altı

..... Yüz doksan yedi

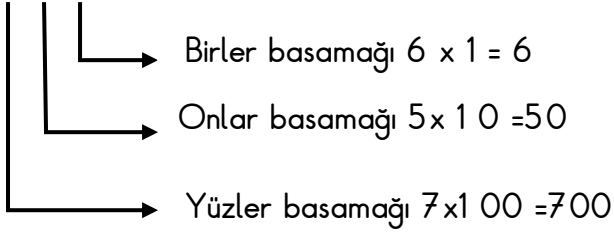
..... Sekiz yüz altmış beş

Çözümlmeleri ve basamak değeri verili sayıları yazınız

6 yüzlük 3 onluk 8 birlik <input type="text"/>	1 onluk 2 yüzlük 3 birlik <input type="text"/>	5 onluk 3 yüzlük 4 birlik <input type="text"/>	9 yüzlük 3 onluk <input type="text"/>	3 yüzlük 2 birlik <input type="text"/>
5 birlik 5 yüzlük 7 onluk <input type="text"/>	9 yüzlük 4 onluk 1 birlik <input type="text"/>	8 yüzlük 6 onluk <input type="text"/>	3 onluk 7 yüzlük 6 birlik <input type="text"/>	3 yüzlük 6 onluk 1 birlik <input type="text"/>
8 yüzlük 7 onluk 7 birlik <input type="text"/>	2 yüzlük 9 birlik 4 onluk <input type="text"/>	7 onluk 9 yüzlük <input type="text"/>	3 birlik 6 yüzlük <input type="text"/>	6 yüzlük 8 onluk 7 birlik <input type="text"/>
1 yüzlük 6 birlik 3 onluk <input type="text"/>	1 birlik 3 yüzlük 7 onluk <input type="text"/>	9 yüzlük 8 onluk 5 birlik <input type="text"/>	2 yüzlük 1 birlik <input type="text"/>	3 yüzlük 5 onluk <input type="text"/>
8 yüzlük 3 birlik <input type="text"/>	5 yüzlük 8 onluk 0 birlik <input type="text"/>	8 birlik 8 yüzlük <input type="text"/>	1 yüzlük 7 birlik 4 onluk <input type="text"/>	3 yüzlük 1 birlik 2 onluk <input type="text"/>

Aşağıda verilen sayıların okunuşlarını, basamak adlarını ve basamak değerlerini örnekteki gibi karşılarına yazınız.

756 Yedi yüz elli altı





Aşağıdaki sayıları örnekteki gibi çözümleyiniz.

748

7 yüzlük + 4 onluk + 8 birlik

956

$(9 \times 100) + (5 \times 10) + (6 \times 1)$

174

778

826

485

748

278

126

619

367

512

606

956

795

918

513

545

888

216

75. YIL İLKOKULU MATEMATİK DERSİ DOĞAL SAYILAR ÇALIŞMASI

Üç basamaklı en büyük sayı



.....

Üç basamaklı en küçük sayı



.....

✚ Verilen rakamlardan sadece üçünü birer kez kullanarak istenilen sayıları yazınız.

3

4

7

9

Üç basamaklı en büyük sayı :.....

Üç basamaklı en büyük çift sayı :.....

Üç basamaklı en büyük tek sayı :.....

Üç basamaklı en küçük sayı :.....

Üç basamaklı en büyük çift sayı :.....

Üç basamaklı en küçük tek sayı :.....

470'ten büyük en küçük sayı :.....

470'ten küçük en büyük sayı :.....

0

1

5

6

Üç basamaklı en büyük sayı :.....

Üç basamaklı en büyük çift sayı :.....

Üç basamaklı en büyük tek sayı :.....

Üç basamaklı en küçük sayı :.....

Üç basamaklı en büyük çift sayı :.....

Üç basamaklı en küçük tek sayı :.....

650'den büyük en küçük sayı :.....

650'den küçük en büyük sayı :.....