

KUBİLAY İLKOKULU 2/D SINIFI RİTMİK SAYMA PROBLEMLERİ

Adım- Soyadım:

No:.....

PUANIM:.....

1.



Anne sincabın yuvasında geçen kıştan 3 ceviz kaldı. Eylül ayında 11 gün boyunca yuvasına her gün 2 ceviz taşıdığına göre şimdi yuvasında kaç ceviz olur?

A. 25

B. 23

C. 27

2.



Keloğlan'ın altın yumurtlayan tavuğu düzenli olarak her gün 3 altın yumurta yumurtluyor. Bir hafta sonra Keloğlan bu yumurtaların 9 tanesini satıyor. Geriye kaç yumurta kalır?

A.11

B. 15

C. 12

3-



Geceden 5 balık tutan balıkçı, gündüz oltasını 10 defa denize atıyor ve her defasında 4'er balık yakalıyor. Sonra yakaladığı balıkların 3 düzinesini satıyor. Geriye kaç balık kalır?

A. 5

B. 7

C. 9

4-

Merdivenin 1. Basamağındaki adam. Bir adımda 3 basamak ilerlemektedir. 15 adım attığında kaçınıcı basamakta olur?

A. 46

B.57

C.45



5-




Bir lunaparktaki kulenin yüksekliği 75 metredir. Bu kuleden paraşütle atlayan Ali, saniyede 4 metre aşağıya doru inmektedir. 8 saniye sonra kaçınıcı metrede olur?

A .49

B. 57

C.43

6-






Yandaki 3 düzine yumurtanın 2 destesi satıldı, 9 tanesi kırıldı. Geriye kaç yumurta kalır?

A. 8

B.7

C.4

7– Birler basamağındaki rakamı 3, onlar basamağındaki rakamı 6 olan sayıyı, kim doğru çözümlemiştir?

- A. Ali  3 onluk + 38 birlik
 B. Veli  14 birlik + 5 onluk
 C. Ayşe  23 birlik + 4 onluk

8-

57-54-51-48-45

CAN

63-67-72-76-80

CEM

47-42-37-32-27

BERK

Yukarıdaki saymalara baktığımızda kimin ya da kimlerin saymaları ritmik saymadır?

A.CAN-CEM

B. CAN-BERK

C.BERK

9-



Özkan Efelerin bahçesinde 79 çiçek var. Ö. Efe bu çiçeklerden her gün 4 tanesi öğretmenine götürüyor. 2 hafta sonra bahçe-
de kaç çiçek kalır?

A.28

B.35

C.23

10-



Yaşasın! Havuzda tam iki basamaklı en büyük sayı ka-
dar balık saydım. Oltamı her attığımda 5 balık yakalı -
yorum. 6 kez olta attığımda havuzda kaç balık kalır?
(Söz, doğru cevaplayan arkadaşlara tuttuğum
balıklardan vereceğim.)

A.63

B.68

C.67