

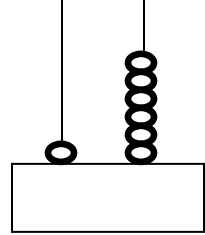
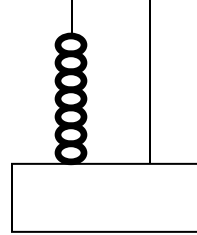
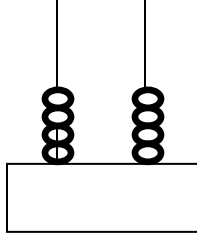
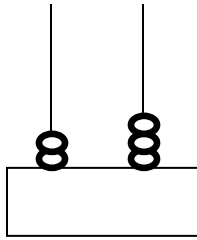
2.SINIF MATEMATİK "ONLUK - BİRLİKLERE AYIRMA ve DESTE - DÜZİNE"

Aşağıdaki tabloyu, örneği dikkatli inceleyerek tamamlayın.



Sayı	Sayının okunuşu	Onluk ve Birlik sayısı
52	Elli iki	5 onluk, 2 birlik
74		
85		
31		
95		
60		
48		
29		
13		

Aşağıdaki abaküslerde oluşturulan sayıları altlarına yazın.



Aşağıdaki boşlukları uygun şekilde doldurun.



5 onluk, 2 birlik →

9 onluk, 1 birlik →

8 onluk, 9 birlik →

2 onluk, 5 birlik →



6 onluk, 0 birlik →

4 onluk, 3 birlik →



DESTE: Aynı türden 10 nesneden oluşur.

DÜZİNE: Aynı türden 12 nesneden oluşur.

Aşağıdaki nesnelerin 1 destesini boyayın.



Aşağıdaki nesnelerin 1 düzinesini boyayın.



Aşağıdaki nesnelerden 1 deste olanın kutusunu boyayın.

