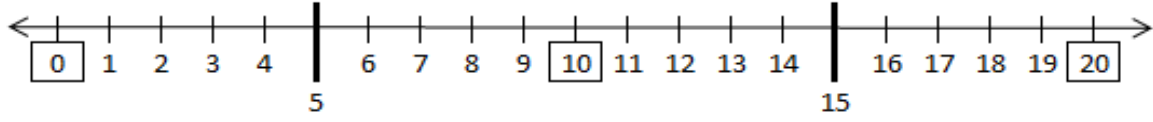


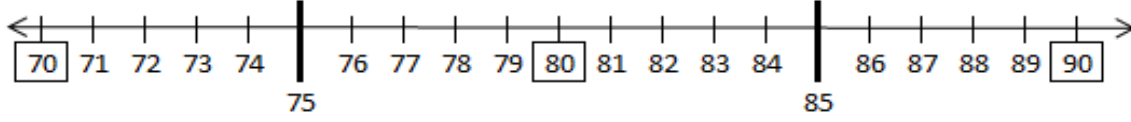
ONLUĞA YUVARLAMA 1

S1.Sayı doğru ları üzerindeki sayıları, yakın oldukları onluğun kutusu içine yazalım.



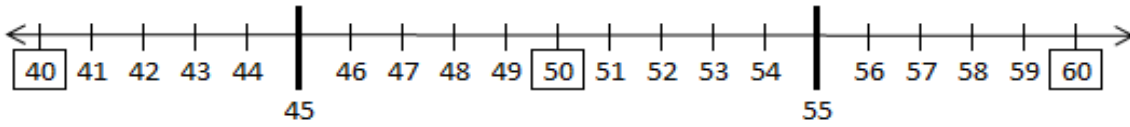
10 'a yuvarlanan sayılar

20 'ye yuvarlanan sayılar



70 'e yuvarlanan sayılar

80 'e yuvarlanan sayılar



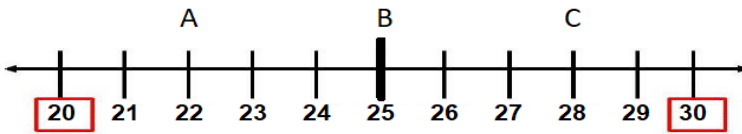
40 'a yuvarlanan sayılar

50 'ye yuvarlanan sayılar

S2. Üstte verilen sayının yakın olduğu onluğı boyayalım.

54	87	26	43
50	80	20	40
60	90	30	50
15	62	88	76
10	60	80	70
20	70	90	80

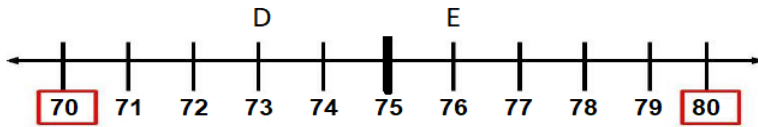
S3.Sayı doğru su üzerinde verilen harflerin en yakın olduğu onluğı yazalım.



A :

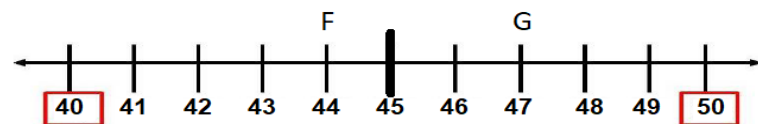
B:

C:



D:

E :



F:

G:

S4. Aşağıdaki tabloda verilen sayılardan üstteki onluğa yuvarlanmayan sayıyı bulup boyayalım.

51	58	47	52	53	45	54	48
----	----	----	----	----	----	----	----

36	32	25	26	34	29	31	33
----	----	----	----	----	----	----	----

22	24	28	18	16	23	19	17
----	----	----	----	----	----	----	----

73	66	69	78	65	74	72	67
----	----	----	----	----	----	----	----

S5. Şeklin ortasında bulunan onluğa yuvarlanan (yakın olma) sayıları boyayalım.

24	26	47	43	7	12	31	33
20	40	10	30				
17	22	38	41	5	16	36	27
86	79	46	54	72	77	65	63
80	50	70	60				
82	84	53	42	68	74	55	62
93	88	34	39	25	23	44	52
90	30	20	50				
95	85	26	42	16	19	49	51