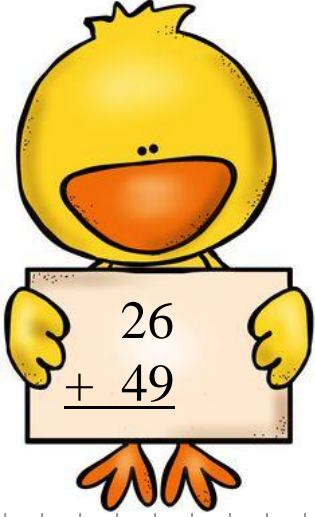


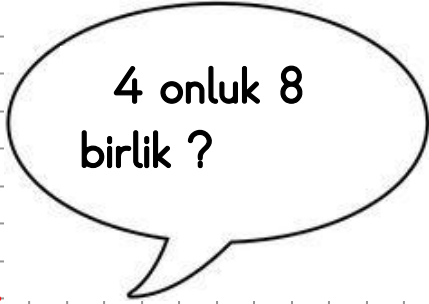
## MATEMATİK TEKRAR SORULARI



1. Yandaki toplama işleminin sonucu kaçtır ?

2. 30-27-A-21-B-15

Yukarıda verilen geriye ritmik saymada gizlenmiş A ve B sayılarının toplamı kaçtır ?



3. 4 onluk 8 birlikten oluşan sayının "en yakın onluğu" kaçtır ?

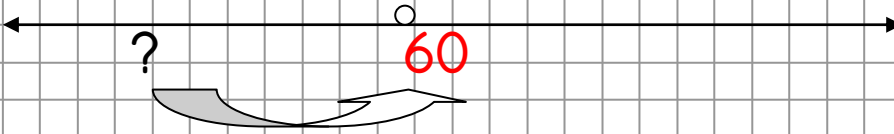
4. Bir terzi 72 metre kumaşın 26 metresi ile etek ,10 metresi ile gömlek dikmiştir. Geriye kaç metre kumaş kalmıştır?




5. Basketbol maçında toplam 96 sayı atılmıştır. Birinci takım 56 sayı attığına göre ikinci takım kaç sayı atmıştır?

$$\begin{array}{r} \boxed{?} \\ + 56 \\ \hline 96 \end{array}$$

6. En yakın onluğu 60 olan en küçük sayı kaçtır?



7. 45 sayısının 16 fazlasına 14 eklersek hangi sayıyı buluruz?



8. Zihinden çıkarma işlemi yapmak isteyen Dino aşağıdaki işlemlerin sonuçlarını kaç bulmalıdır ?

$$\begin{array}{r} 80 \\ - 40 \\ \hline \end{array} \quad \begin{array}{r} 70 \\ - 30 \\ \hline \end{array} \quad \begin{array}{r} 90 \\ - 20 \\ \hline \end{array}$$

9. Kırtasiyeci 80 kaleminden iki düzinesini satıyor . Geriye kaç kalem kalmıştır ?

10. Aşağıda büyükten küçüğe doğru verilen sıralamayı bozan sayı kaçtır?

$$25 > 23 > 27 > 19 > 14$$