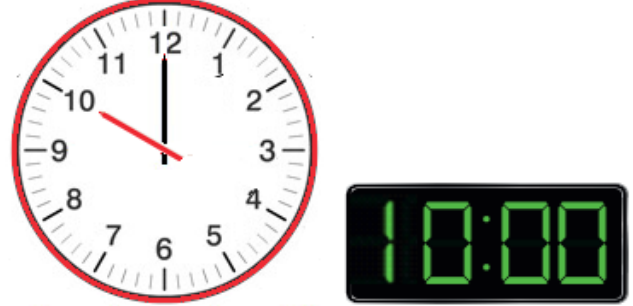
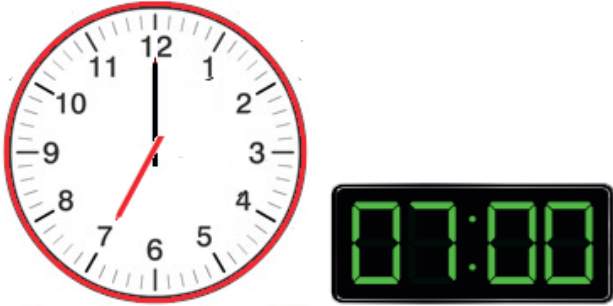


TAM , YARIM , ÇEYREK SAATLER

TAM SAATLER : Analog saatlerde , saat başlarında yelkovan 12'yi ; dijital saatlerde saat başlarında : ' dan sonraki kısım 00 olur.



Altın Bilgi : Bir gün 24 saattir. Analog saatler de akrep gün içinde 2 kez aynı saati gösterir. Zamanı tam olarak belirtmemiz için sabah , öğleden önce , öğleden sonra , akşam ya da gece yarısı gibi ifadeleri kullanmamız gerekir Öğleden sonraki saatleri okurken 12 ekleyerek okuruz.



Saat : 03.00
Öğleden sonra
15.00



Saat : 08.00
Öğleden sonra
20.00



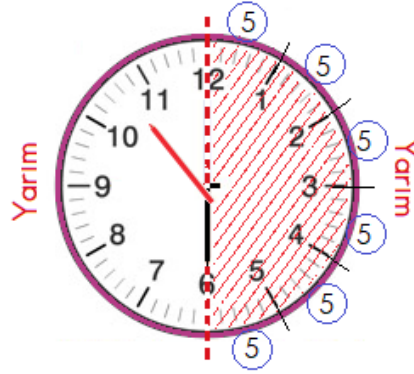
Saat : 1.00
Öğleden sonra
13.00



Saat : 10.00
Öğleden sonra
22.00

YARIM SAATLER : Analog saatlerde ,
saat başlarında yelkovan 6'yı , akrep ise
iki sayının tam ortasında bulunur.
Dijital saatlerde saat başlarında
: dan sonraki kısım 30 olur.

Yarım saat = 30 dakika



Saat : 01.30
Bir buçuk
Öğleden sonra
13.30



Saat : 04.30
Dört buçuk
Öğleden sonra
16.30



Saat : 10.30
On buçuk
Öğleden sonra
22.30



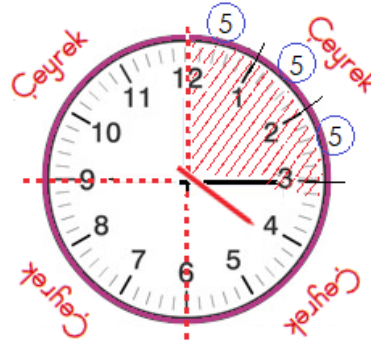
Saat : 07.30
Yedi buçuk
Öğleden sonra
19.30



ÇEYREK SAATLER : Analog saatlerde ,
saat başlarında yelkovan 3'ü ,
Dijital saatlerde saat başlarında
: dan sonraki kısım 15 olur.

Çeyrek saat = 15 dakika

Saatin , çeyrek saati göstermesi için
yelkovanın 3'ün ya da 9'un üzerinde
olması gerekir. Yelkovanın 3'ün üzerindeyken çeyrek geçiyor.
9'un üzerindeyken çeyrek var deriz.



Saat : 07.15
Yediyi çeyrek geçiyor.
Öğleden sonra
19.15



Saat : 12.15
On ikiyi çeyrek geçiyor.
Öğleden sonra
00.15



Saat : 05.15
Beşi çeyrek geçiyor.
Öğleden sonra
17.15



Saat : 10.15
Onu çeyrek geçiyor.
Öğleden sonra
22.15

ETKİNLİK

Aşağıdaki saatlerin öğleden önceki okunuşlarını ve öğleden sonraki okunuşlarını altlarına yazınız.



Saat :

Öğleden sonra

.....



Saat :

Öğleden sonra

.....



Saat :

Öğleden sonra

.....



Saat :

Öğleden sonra

.....



Saat :

Öğleden sonra

.....



Saat :

Öğleden sonra

.....



Saat :

Öğleden sonra

.....



Saat :

Öğleden sonra

.....



Saat :

Öğleden sonra

.....



Saat :

Öğleden sonra

.....



Saat :

Öğleden sonra

.....



Saat :

Öğleden sonra

.....

ETKİNLİK





Aşağıdaki analog saatleri dijital saatlerle eşleştiriniz.

☀

☀

☀

☀





			
<input type="radio"/> 04:00	<input type="radio"/> 04:05	<input type="radio"/> 06:30	<input type="radio"/> 03:45
<input type="radio"/> 02:00	<input type="radio"/> 03:30	<input type="radio"/> 05:30	<input type="radio"/> 04:45
<input type="radio"/> 02:30	<input type="radio"/> 03:45	<input type="radio"/> 05:45	<input type="radio"/> 05:45

☀

☀

☀

☀



			
<input type="radio"/> 06:30	<input type="radio"/> 02:30	<input type="radio"/> 09:05	<input type="radio"/> 02:30
<input type="radio"/> 07:45	<input type="radio"/> 09:00	<input type="radio"/> 03:30	<input type="radio"/> 03:30
<input type="radio"/> 06:45	<input type="radio"/> 02:00	<input type="radio"/> 08:05	<input type="radio"/> 06:00

☀

☀

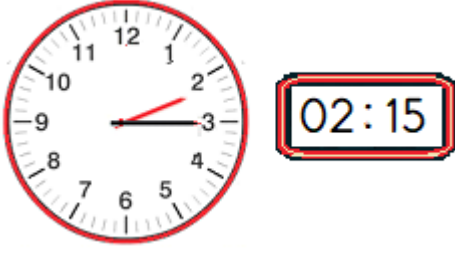
☀

☀

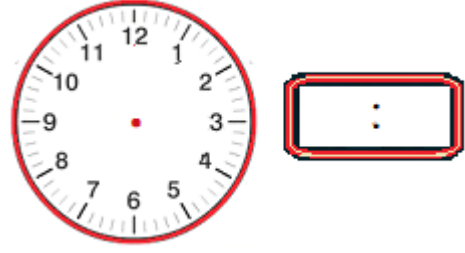
			
<input type="radio"/> 08:05	<input type="radio"/> 08:30	<input type="radio"/> 09:05	<input type="radio"/> 09:00
<input type="radio"/> 03:45	<input type="radio"/> 09:30	<input type="radio"/> 08:05	<input type="radio"/> 09:45
<input type="radio"/> 09:05	<input type="radio"/> 06:30	<input type="radio"/> 08:45	<input type="radio"/> 02:00

ETKİNLİK

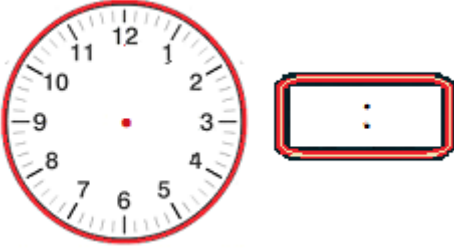
Aşağıda okunuşları verilen saatleri örnekteki gibi gösteriniz.




Saat ikiyi çeyrek geçiyor .



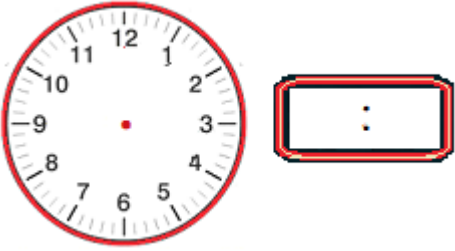
Saat on buçuk .



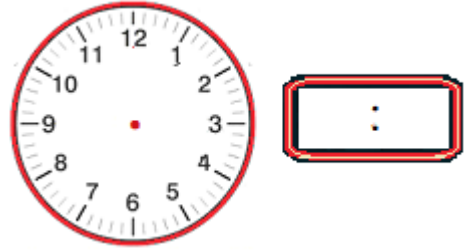
Saat sekiz .



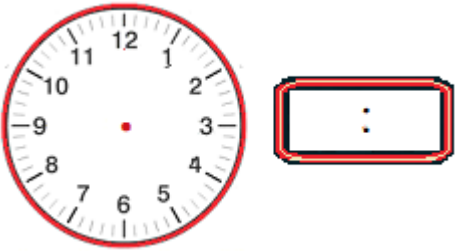
Saat beşi çeyrek geçiyor.



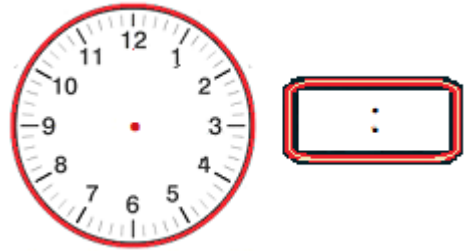
Saat üç buçuk .



Saat on iki .



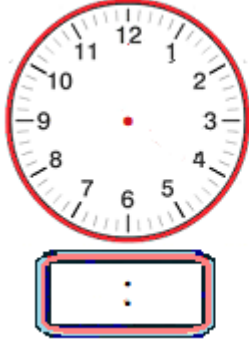
Saat yediyi çeyrek geçiyor.



Saat bir buçuk

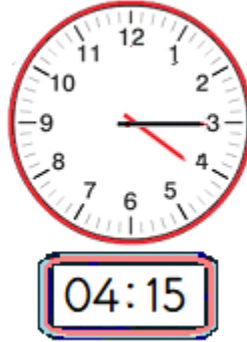
ETKİNLİK

Aşağıda verilen saatleri dikkate alarak yönergelere uygun analog ve dijital görünümelerini yazınız .



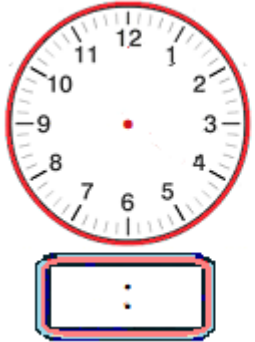
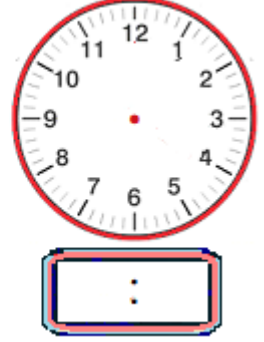
1 saat

önce



2 saat

sonra



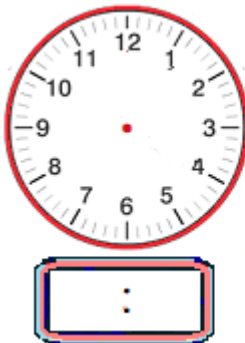
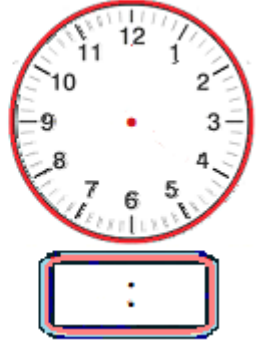
Yarım saat

önce



Yarım saat

sonra



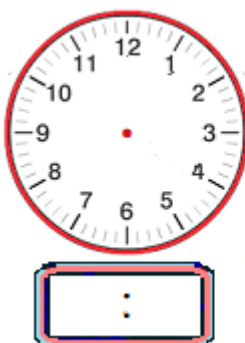
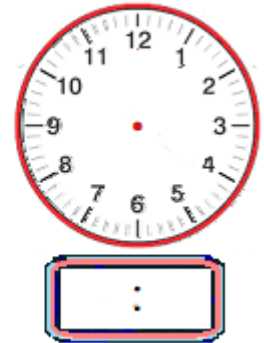
Yarım saat

önce



Yarım saat

sonra



Çeyrek saat

önce



Çeyrek saat

sonra

