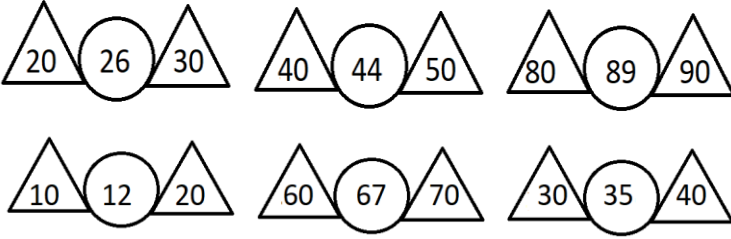
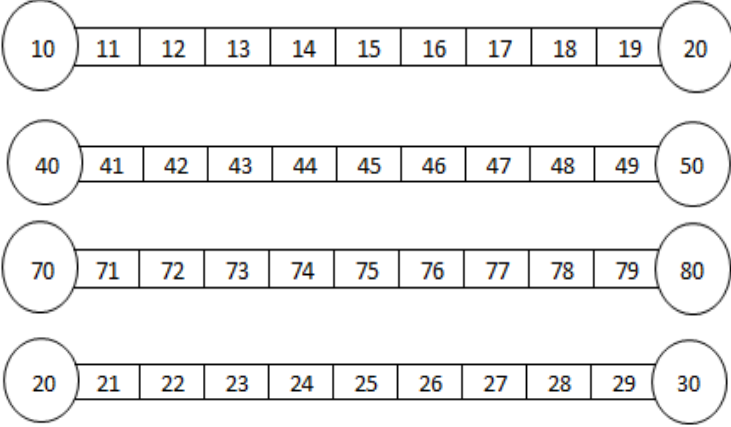


### ONLUĞA YUVARLAMA 3

Ortada bulunan sayının yakın olduğu onluğı boyyalım.



Verilen sayılardan kendi onluğunda kalanları maviye, sonraki onluğa yuvarlananları kırmızıya boyyalım.



Verilen sayıları yakın oldukları onluklarla eşleştirelim.

43	•	•	60	78	•	•	70
59	•	•	30	15	•	•	30
12	•	•	90	41	•	•	20
86	•	•	40	65	•	•	80
34	•	•	10	32	•	•	40

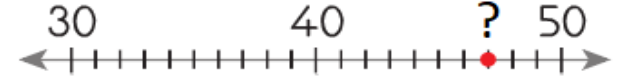
Verilen onluğa yakın olan sayıları "X" ile işaretleyelim.

30	27	36	25	37	32
50	44	53	51	55	49
10	19	13	8	5	15
70	72	74	68	59	66
80	88	86	78	83	75
60	63	65	56	59	61

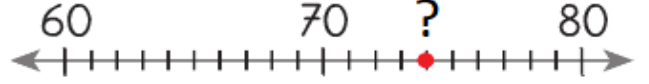
Yukarıda verilen sayının yakın olduğu onluğı boyyalım.

35	82	16	63
30	40	80	90
10	20	60	70
45	57	21	92
40	50	20	30
90	100		

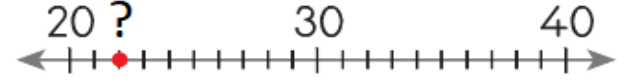
Aşağıdaki sayı doğrularında "?" ile gösterilen sayıları bulup, hangi onluğa yakın olduğunu yaz.



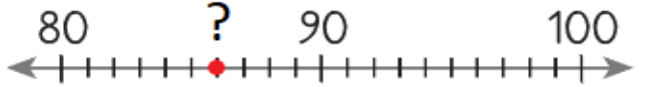
? = ..... = ..... daha yakındır.



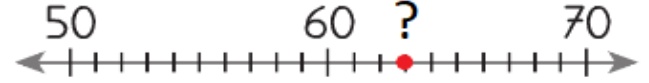
? = ..... = ..... daha yakındır.



? = ..... = ..... daha yakındır.



? = ..... = ..... daha yakındır.



? = ..... = ..... daha yakındır.

Ortada verilen onluğa yakın olan sayıları yazalım.

