

ADI:..... SINIFI:.....

SOYADI:..... NO: .....

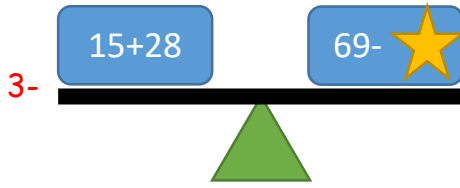
MATEMATİK  
DEĞERLENDİRME TESTİ

1- Bir çıkarma işleminde eksilen 79, çıkan 35 tir. Eksilen ve çıkanın en yakın onluğu alındığında tahmini sonuç kaçtır?

- A) 40 B) 50 C) 60

2- 84-28 işleminde eksilen ve çıkan en yakın onluğu alınarak yapılan tahmin, işlemin gerçek sonucundan ne kadar azdır?

- A) 4 B) 6 C) 8






Yukarıdaki tahterevallide yer alan işlemlerin dengede durması için ★ olan yere hangi sayı gelmelidir?

- A) 24 B) 25 C) 26










Ankara'dan İstanbul'a giden bir otobüste 46 yolcu vardır. Yolculardan bir kısmı Sakarya'da inmiştir. Otobüs İstanbul'a 32 yolcu ile vardığına göre Sakarya'da inen yolcu sayısı kaçtır?

- A) 13 B) 14 C) 12

5-  $50+20 =$    
 $30+30 =$    
 $20+70 =$  

Yukarıdaki işlemleri zihinden yapan Ezgi'nin bulduğu sonuçlar hangisidir?

- A)  70  60  80  
B)  70  60  70  
C)  70  60  90




6-  $1 \text{ onluk} + 3 \text{ onluk} = 40$   
 $3 \text{ birlik} + 6 \text{ birlik} = 9$   
 $40 + 9 = 49$

Emir toplama işlemini zihinden yukardaki yapmıştır. Bu işlem aşağıdakilerden hangisi olabilir?

- A)  $13 + 36$   
B)  $26 + 23$   
C)  $31 + 36$

7- 59 sayısının 36 fazlası kaç eder?

- A) 94 B) 95 C) 96

8-  + 18 = 46  
 -  = 22

Yukarıdaki eşitliğe göre  yerine hangi sayı gelmelidir?

- A) 50 B) 45 C) 55