


1)



Yukarıdaki eşitliğin sağlanması için □ şekli ile gösterilen yere hangi sayı gelmelidir?

a)7 b)6 c)5

2)



Görseldeki arıların sayısı hangi onluğa daha yakındır?

a)20 b)30 c)40

3)



Yukarıdaki simitlerin sayısı ile ilgili verilenlerden hangisi yanlıştır?

a)Birler basamağındaki rakam 6'dır.

b)Onlar basamağındaki rakamın basamak değeri 10'dur.

c)1 düzineden 6 fazladır.

4)83 sayısındaki 8 rakamının basamak değeri aşağıdakilerden hangisidir?

a)80 b)30 c)3



5)Yukarıda çözümlenişi verilen sayı aşağıdakilerden hangisidir?

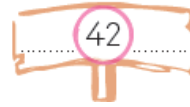
a)44 b)54 c)64

6) Aşağıdaki abaküs çubuklarının birinden 3 boncuk çıkarırsak hangi sayıyı elde edebiliriz?



a)25 b)15 c)32

7)Aşağıda verilen sayıdan önce ve sonra gelen sayılar hangileridir?



a)41-44 b)40-43 c)41-43

8)Bir kümeste 17 tane tavuk,12 tane kaz ve 26 tane hindi vardır. Bu kümeste toplam kaç hayvan vardır?

a)55 b)48 c)64

9)





Bir sürahi, 5 bardak su ile dolmaktadır.4 sürahi kaç bardak su ile dolar?

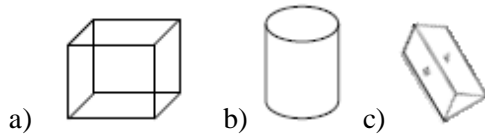
- a)20)24 c)25

11) 

Yukarıdaki işlemin sonucu 43'den büyükse " A " ile belirtilen sayı en az kaçtır?

- a)18 b)17 c)16




12)Aşağıdaki geometrik cisimlerin hangisinin ayrıtı yoktur?






13)Okuduğum kitabın son sayfasını en yakın onluğa yuvarladığımda 40 sayısına ulaşıyorum. Buna göre okuduğum kitabın sayısı aşağıdakilerden hangisi olamaz?

- a)35 b)43 c)45

14)

	12	15	18	21	24
	25	28	31	34	37
	38	42	46	50	54

Yukarıdaki örüntülerden hangisinin kuralı diğerlerinden farklıdır?


- a)  b)  c) 



Yukarıda modellenen sayı çarpma işlemi hangisidir?

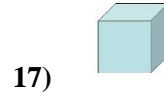
- a)7x2 b)7+7+7 c)7x7

16)

 $\times 3 = 3 \times 5$

Yukarıdaki eşitlikte  yerine yazılması gereken sayı hangisidir?

- a)4 b)5 c)8





Yukarıda verilen geometrik şekil ile ilgili verilen bilgilerden hangisi yanlıştır?

a)6 tane yüzü vardır.

b)Boyutu küçültüldüğünde ve büyütüldüğünde özellikleri değişir.

c)8 tane köşesi vardır.

18)  Çıkarma işleminde  yerine

$$\begin{array}{r} - 34 \\ \hline 46 \end{array}$$
 hangi sayı gelmelidir?

- a)75 b)80 c)90

19)  Yandaki şeklin simetrisi aşağıdakilerden hangisidir?



20)Bir çıkarma işleminde eksilen 55 ,fark 36'dır.Çıkan sayı kaçtır?

- a)91 b)21 c)19