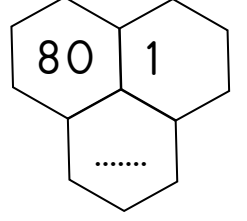
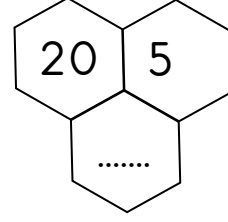
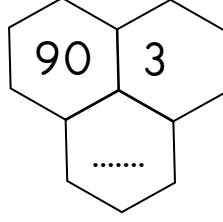
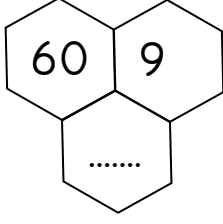
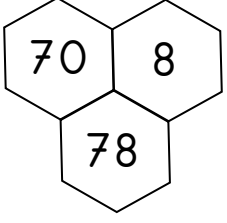


75. YIL İLKOKULU MATEMATİK DERSİ BASAMAK DEĞERİ ÇALIŞMASI-2

Basamak değerleri verilen sayıları yazınız.



Verilen soruların doğru cevapların altındaki yıldızı boyayınız.

- 6 onluk, 7 birlikten oluşan sayı aşağıdakilerden hangisidir?

76
★

77
★

67
★


- 2 birlik, 8 onluktan oluşan sayı aşağıdakilerden hangisidir?

28
★

82
★

80
★

- ❖ Birler basamağında 3, onlar basamağında 4 olan sayı kaçtır?.....
- ❖ İki basamaklı en küçük sayı kaçtır?
- ❖ İki basamaklı en büyük sayı kaçtır?
- ❖ Birler basamağında 8 olan iki basamaklı en büyük sayı kaçtır?
- ❖ 37 sayısında 3 rakamının basamak değeri kaçtır?
- ❖ 19 doğal sayısının birler basamağındaki rakamın basamak değeri bir düzineden kaç eksiktir?
.....
- ❖ 17 ve 24 sayılarının onlar basamağındaki rakamların basamak değerlerinin toplamı kaçtır?
.....
- ❖ 5 ve 7 rakamlarını kullanarak yazabileceğimiz en büyük ve en küçük sayıları yazınız.
En büyük sayı: En küçük sayı:

- ❖  rakamlarından sadece ikisini kullanarak yazabileceğimiz en büyük ve en küçük sayıları yazınız.

En büyük sayı:

En küçük sayı: