

DEĞERLENDİRME SORULARI


1 - Üçer üçer 45'e kadar yazınız.

Çözüm:
.

2 - Dörder dörder 52'ye kadar yazınız.

Çözüm:
.

3 - Aşağıdaki kalemlerin sayısını önce toplama , sonra çarpma işlemiyle bulunuz.



$$... + ... + ... + ... + ... + ... + ... = ...$$

$$... \times ... = ...$$

4 - Aşağıdaki çiçeklerin sayısını önce toplama , sonra çarpma işlemiyle bulunuz.



$$... + ... + ... + ... + ... + ... + ... + ... = ..$$

$$... \times ... = ...$$

5 - Aşağıdaki toplama işlemlerini çarpma işlemi şeklinde yazınız.

- * $5 + 5 + 5 + 5 + 5 = ?$ → ... x ... = ...
- * $3 + 3 + 3 + 3 + 3 + 3 + 3 + 3 = ?$ → ... x ... = ...
- * $2 + 2 + 2 + 2 + 2 + 2 + 2 + 2 + 2 = ?$ → ... x ... = ...
- * $4 + 4 + 4 + 4 + 4 + 4 + 4 = ?$ → ... x ... = ...
- * $1 + 1 + 1 + 1 + 1 + 1 + 1 + 1 + 1 + 1 = ?$ → ... x ... = ...

6 - Aşağıdaki çarpma işlemlerini toplama işlemi şeklinde yazınız.

- * $5 \times 3 = ?$ →
- * $3 \times 4 = ?$ →
- * $6 \times 5 = ?$ →
- * $4 \times 10 = ?$ →

7 -



Bir sürahi limonata 5 bardağı tam olarak dolmaktadır.
4 sürahi limonata ile aynı bardaklardan kaç tane doldurur ?

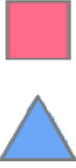

Çözüm :
.
.



8 - Hüma İnci , her gün 2 bardak süt içmektedir. Hüma İnci , bir haftada kaç bardak süt içer ?

Çözüm :
.

9 - “ Ali Sabri tanesi 3 lira olan simitlerden 6 tane alarak satıcıya 20 lira veriyor. “
Saticı , Ali Sabri’ye para üstü olarak kaç lira verir ?

Çözüm :
.
.

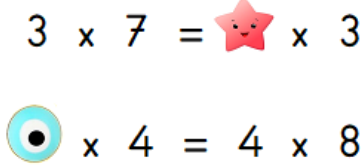


10 -  = 7 x 5
 = 4 x 3



Yandaki işlemlere göre :
 +  = ?

Çözüm :
.

11 - Nazlı Asya 8 yaşındadır. Babasının yaşı , Nazlı Asya’nın yaşının 5 katından 3 fazladır. Nazlı Asya’nın babası kaç yaşındadır ?

Çözüm :
.
.

12 -  x 7 =  x 3
 x 4 = 4 x 8


Yandaki işlemlerine göre :
 +  = ?

Çözüm :
.

13 - Dedemlerin 7 tavuk ile 5 tavşanları var. Buna göre tavuklar ile tavşanların ayak sayıları farkı kaçtır ?

Çözüm :

14 -

$$\begin{array}{r} 4 \\ \times 2 \\ \hline \end{array}$$


$$\begin{array}{r} \square \\ \times 3 \\ \hline \end{array}$$

Yandaki çarpma işlemine göre “ ? ” yerine hangi sayı yazılır ?

Çözüm :

15 - Annem manavdan kilosu 7 lira olan mandalinadan 3 kilogram , kilosu 9 lira olan muzlardan 2 kilogram aldı. Annem satıcıya kaç lira öder ?

Çözüm :

16 -

x	5	7	9
3	15	21	A
4	20	B	36

Yandaki tabloya göre :

$$A + B = ?$$

Çözüm :

Başarılar dilerim.