









1. İki basamaklı rakamları farklı en büyük tek sayıyı + İki basamaklı rakamları farklı en küçük tek sayıyı = Eee ben kaçın?

 +  = 




a)90 b)110 c)88

2. İki basamaklı rakamları aynı en küçük çift sayıyı + O halde ben kaçın? İki basamaklı rakamları aynı en büyük çift sayıyı =

 +  = 




a)78 b)66 c)82

3. Hey çocuk! Ben 90'dan büyük en küçük tek sayıyı - Ben de 50'den küçük en büyük çift sayıyı = Acaba ben kaçın?

 -  = 

a) 43 b)72 c)42

4. İki düzineden 5 fazlayım + 3 yarım desteden 2 fazlayım = Acaba ben kaçım

 +  = 

a)46 b)57 c)59

5. Dr. Cem Bey hastaya ne kadar ilaç yazmıştır?



- a)50
b)34
c)41

6. Aşağıdaki konuşmalara göre karga kaç yaşındadır?



- a)79 b)88 c)96

7. Konuşmalara göre aşağıdaki şıklardan hangisi doğrudur?



- a)Fırtına Ali, Voleci Veli'den 4 gol fazla atmış
b)Voleci Veli, Fırtına Ali'den 2 gol fazla atmış
c)İkisinin de gol sayıları eşittir.

8. Anne ayının yakaladığı balıkların kaçı kalmıştır?



- a)59
b)48
c)57

