

1- Muş'a dün çok kar yağdı.

Ne yağdı?

Ne zaman yağdı?

Nereye yağdı?

2-İsmail yarın Konya'ya gidecek.

Kim gidecek?

Ne zaman gidecek?

Nereye gidecek?

3- Gülçin akşam bahçede kayıp düştü.

Kim düştü?

Nerede düştü?

Ne zaman düştü?

4- Semra her sabah süt içiyor.

Kim içiyor?

Ne zaman içiyor?

Ne içiyor?

5- Berat salı günü hastaneye gidecek .Hastaları ziyaret edecek.

Kim gidecek?

Nereye gidecek?

Ne zaman gidecek?

Nerede izliyor?

Kimi ziyaret edecek?.....

Etkinlik: Karışık olarak verilmiş heceleri düzenleyerek anlamlı kelimeler oluşturunuz.

- le - bek - ke
- daş - ka - ar
- ra - pı - sa
- di - ke - ler
- lık - çay - dan
- can - pat - lı
- mir - iz
- ce - re - pen
- bak - ka
- kal - sa
- noz - ka - va
- kul - o
- ta - pas
- tık - yas

- kal - sa
- noz - ka - va
- kul - o
- ta - pas
- tık - yas
- vuç - ha
- yik - ge
- na - kar - ma
- ye - dal - san
- dak - bar
- çe - pe - te
- de - de
- kal - ta - por
- na - kar - ma

Onluk ve birlikleri verilen sayıları örnekteki gibi yazınız.

5 onluk	4 birlik	→	54
7 onluk	6 birlik	→	
8 onluk	0 birlik	→	
1 birlik	4 onluk	→	
9 onluk	3 birlik	→	
6 birlik	2 onluk	→	
1 onluk	9 birlik	→	
9 birlik	1 onluk	→	

Verilen sayıların onluk ve birliklerini örnekteki gibi yazınız.

45	→	4 onluk	5 birlik
20	→		
58	→		
9	→		
76	→		
94	→		
38	→		
74	→		

Kelime	HARF SAYISI	ÜNLÜ HARF	ÜNSÜZ HARF	HECE	HECE SAYISI
Mutfak	6	u - a	m-t-f-k	mut-fak	2
Kestane					
Makara					
Portakal					
Börekçi					
Ulaşım					
Kelebek					
Otomobil					
Bilgisayar					
Televizyon					
Yastık					
Kamyonet					
Şekerlik					
Bilgisayar					

Aşağıdaki sayıların basamak adlarını yazın.

6 2 ┌┐ └┐ Birler basamağı └┐ Onlar basamağı	2 8 ┌┐ └┐ └┐	3 7 ┌┐ └┐ └┐
4 3 ┌┐ └┐ └┐	1 6 ┌┐ └┐ └┐	5 9 ┌┐ └┐ └┐

Aşağıdaki sayıların basamak adlarını ve basamak değerlerini yazın.

7 4 ┌┐ └┐ Birler basamağı └┐ Onlar basamağı	<u>Basamak adı</u>	<u>Basamak değeri</u>
		4
		70
3 2 ┌┐ └┐ └┐	<u>Basamak adı</u>	<u>Basamak değeri</u>
	
	
8 5 ┌┐ └┐ └┐	<u>Basamak adı</u>	<u>Basamak değeri</u>
	
	
1 3 ┌┐ └┐ └┐	<u>Basamak adı</u>	<u>Basamak değeri</u>
	
	
9 7 ┌┐ └┐ └┐	<u>Basamak adı</u>	<u>Basamak değeri</u>
	
	

Öğrendiklerimizi Değerlendirelim

- 63 sayısının onluk ve birliklerine ayrılmış şekli aşağıdakilerden hangisidir?
A. 6 birlik + 3 birlik B. 3 onluk + 6 birlik C. 3 birlik + 6 onluk
- Birler basamağı 4 olan iki basamaklı en büyük doğal sayı kaçtır?
A. 49 B. 99 C. 94
- Onlar basamağı 3 olan iki basamaklı en büyük doğal sayı kaçtır?
A. 93 B. 39 C. 30
- 2 birlik + 4 onluktan oluşan doğal sayı aşağıdakilerden hangisidir?
A. 24 B. 20 C. 42
- “ 91 ” sayısının okunuşu aşağıdakilerden hangisidir?
A. doksan bir B. dokuz bir C. on dokuz

BENİM HAYATIM ÖNEMLİ DEĞİLDİR

1921 yılında düşman orduları Sakarya'ya doğru ilerliyordu. Mustafa Kemal Paşa, başkomutan olarak düşman ordusunun ilerleyişini durdurmak için ordunun yönetimini eline aldı. Cepheye gitti.

Bir gün Sakarya'da cephede dolaşırken ayağı üzengiden kayarak yere düştü. Kaburga kemikleri kırılan Mustafa Kemal, alçılar içinde yatağa girdi. Doktorlar kendisine uzun süre dinlenmesini, böyle yapmazsa hayatının tehlikeye gireceğini söyledikleri zaman Mustafa Kemal:

- Hayır, diye cevap verdi. Benim hayatım değil memleketin kurtulması önemlidir!

5N 1K SORULARI

Mustafa Kemal **nerede** dolaşıyordu ?

.....
.....

Mustafa Kemal, ordunun yönetimini **niçin** ele aldı?

.....
.....

Düşman orduları, **ne zaman** Sakarya'ya doğru ilerliyordu?

.....
.....

Başkomutan **kimdi** ?

.....
.....
.....

Doktorlar, Mustafa Kemal'e **ne** söylediler ?

.....
.....
.....

Mustafa Kemal, doktorlara **nasıl** cevap verdi?

.....
.....
.....

Aşağıdaki kelimeleri alfabetik olarak sıralayınız.

- Salı - Çarşamba - Perşembe →
- Dünya - Güneş - Ay →
- Erik - Üzüm - Kayısı →
- Bilgisayar- sandalye - dolap →
- Kırmızı- Mavi - Pembe →
- Bisiklet- Beton- Bardak →



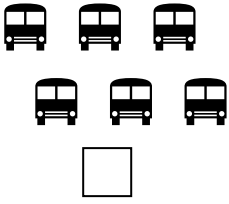
1 DESTE = 1 ONLUK = 10 TANE

1 DÜZİNE=12 ADET



1- Aşağıdaki çiçeklerden bir deste kadarını boyayınız.



2- Aşağıdaki şekiller bir düzineden ne kadar eksiktir? Altındaki kutucuğa yazınız.



3- Aşağıdaki şekilleri bir desteye tamamlayınız.



4- Aşağıdaki sayılarla deste ve düzine kavramlarını eşleştiriniz.

80	4 deste
24	3 düzine
40	10 deste
100	2 düzine
36	8 deste

5- Erdem'in 2 deste bilyesi vardı. Bir düzine de babası aldı. Erdem'in kaç bilyesi oldu?

6- Bir bakkal 3 düzine yumurtanın önce 2 destesini sattı. Kaç tane yumurta kaldı?

7- Necati ve kardeşi annelerinin yaptığı 2 düzine kurabiye'nin 1 destesini yediler. Geriye kaç kurabiye kaldı?

Kelime gruplarını inceleyiniz. Eş anlamlı olanları sarıya, zıt anlamlı olanları pembeye boyayınız.



EŞ ANLAMLI KELİMELER

Aşağıdaki sözcüklerin eş anlamlılarını bulup karşılıklarına yazınız.

- Sene=
- Cevap=
- Sonbahar=
- Beyaz=
- Büyük=
- Küçük=
- Konuk=
- Konut=
- Asır=
- Düşünce=
- Yararlı=
- Yoksul=
- Muallim=
- Sulh=
- Talebe=
- Hekim=
- Kırmızı=
- Siyah=

ZIT ANLAMLI KELİMELER

Aşağıdaki sözcüklerin ZIT anlamlılarını bulup karşılıklarına yazınız.

- Sıcak X
- Çalışkan X
- Yüksek X
- Tok X
- Ağır X
- Gece X
- Sabah X
- Temiz X
- Güzel X
- Dar X
- İyi X
- Açık X
- Az X
- Büyük X
- Kısa X
- Aşağı X
- Yaz X
- Siyah X
- Tatlı X
- Var X
- İlk X

TOPLAMA İŞLEMLERİ YAPALIM

Haydi çocuklar eldeli toplama işlemi yapıyoruz

$$\begin{array}{r} 65 \\ + 19 \\ \hline \end{array}$$

$$\begin{array}{r} 54 \\ + 37 \\ \hline \end{array}$$

$$\begin{array}{r} 46 \\ + 49 \\ \hline \end{array}$$

$$\begin{array}{r} 45 \\ + 38 \\ \hline \end{array}$$

$$\begin{array}{r} 54 \\ + 27 \\ \hline \end{array}$$

$$\begin{array}{r} 78 \\ + 17 \\ \hline \end{array}$$

$$\begin{array}{r} 39 \\ + 58 \\ \hline \end{array}$$

$$\begin{array}{r} 44 \\ + 49 \\ \hline \end{array}$$

$$\begin{array}{r} 55 \\ + 36 \\ \hline \end{array}$$

$$\begin{array}{r} 58 \\ + 37 \\ \hline \end{array}$$

$$\begin{array}{r} 79 \\ + 17 \\ \hline \end{array}$$

$$\begin{array}{r} 46 \\ + 45 \\ \hline \end{array}$$

$$\begin{array}{r} 39 \\ 37 \\ + 14 \\ \hline \end{array}$$

$$\begin{array}{r} 25 \\ 14 \\ + 12 \\ \hline \end{array}$$

$$\begin{array}{r} 36 \\ 28 \\ + 25 \\ \hline \end{array}$$

$$\begin{array}{r} 27 \\ 34 \\ + 19 \\ \hline \end{array}$$

$$\begin{array}{r} 35 \\ 23 \\ + 29 \\ \hline \end{array}$$

$$\begin{array}{r} 37 \\ 36 \\ + 19 \\ \hline \end{array}$$

$$\begin{array}{r} 36 \\ 25 \\ + 14 \\ \hline \end{array}$$

$$\begin{array}{r} 29 \\ 26 \\ + 27 \\ \hline \end{array}$$

$$\begin{array}{r} 29 \\ 36 \\ + 47 \\ \hline \end{array}$$

$$\begin{array}{r} 55 \\ 18 \\ + 10 \\ \hline \end{array}$$

$$\begin{array}{r} 32 \\ 37 \\ + 18 \\ \hline \end{array}$$

$$\begin{array}{r} 35 \\ 28 \\ + 27 \\ \hline \end{array}$$

1.)Aşağıdaki doğal sayıları büyükten küçüğe doğru sıralayınız.(>)

Sayılar	Sıralanışı
13, 34, 25, 76	
27, 13, 78, 56	
95, 97, 76, 23	
86, 75, 22, 88	
57, 75, 20, 51	
76, 93, 64, 84	
37, 12, 45, 64	
18, 39, 47, 36	

2.)Aşağıdaki doğal sayıları küçükten büyüğe doğru sıralayınız.(<)

Sayılar	Sıralanışı
27, 15, 36, 85	
67, 15, 36, 89	
24, 12, 73, 63	
36, 24, 47, 52	
95, 12, 75, 63	
84, 24, 62, 13	
57, 89, 32, 94	
63, 99, 17, 34, 8	

NOKTALAMA İŞARETLERİ

Aşağıdaki cümlelerde boş bırakılan yerlere uygun noktalama işaretlerini koyunuz.

- Seni tanıdı mı ()
- Yaşasın() babam geliyor()
- Yaşasın () Babam geliyor()
- Dayım Ankara () dan geldi ()
- Nasrettin Hoca() mahkemeye biraz geç gelir ()
- Gördüğümü görüyor musun ()
- Göktürk () ün gözleri çok güzel ()
- Güller () nasıl kokarmış ()
- Hangi okula gidiyorsun ()
- Annem() babam () kardeşim ve ben bir aileyiz ()

- Atatürk cad () Palamut sok ()
- Ömerler Ordu () dan geldi mi()
- Tühh () otobüs kaçtı ()
- Tühh () Otobüs kaçtı ()
- 29 Ekim 1923 () te cumhuriyet ilan edildi ()
- 29 () Ekim () 2013 Salı günü törende görüşürüz ()
- 17 () Sokak
- Ayşe () bana su verir misin()
- Kimi getirdiniz ()
- Üff () çok sıcak ()
- Üff () Çok sıcak ()
- Ali 3() sınıfa gidiyor.
- Bahçede kaç öğrenci var ()

<u>Kelime</u>	<u>Zıt (karşıt) Anlamlısı</u>
hızlı	...yavaş.....
yumuşak
az
uzun
küçük
zayıf
soğuk
sevinçli

<u>Kelime</u>	<u>Eş Anlamlısı</u>
cevapyanıt.....
mektep
hikaye
sene
rüzgar

<u>Kelime</u>	<u>Zıt (karşıt) Anlamlısı</u>
ileri
siyah
yaşlı
acı
açık
fazla
aşığı
güzel

<u>Kelime</u>	<u>Eş Anlamlısı</u>
sözcük
isim
vasıta
beyaz
cümle

EN YAKIN ONLUĞA YUVARLAMA

1-Aşağıda verilen sayıların hangi sayıya yakın olduğunu belirleyin.Örnekteki gibi çember içine alın.

42 → 40 50

67 → 60 70

58 → 50 60

24 → 20 30

83 → 80 90

55 → 50 60

65 → 60 70

48 → 40 50

2- Aşağıda sayıları en yakın onluğa yuvarladığımızda kaç olur ?

47 → 50 olur

33

86

7

72

35

56

41

98

49

56

63

ELDELİ TOPLAMA İŞLEMLERİ

$$\begin{array}{r} 65 \\ +25 \\ \hline \end{array}$$

$$\begin{array}{r} 45 \\ +26 \\ \hline \end{array}$$

$$\begin{array}{r} 76 \\ +35 \\ \hline \end{array}$$

$$\begin{array}{r} 45 \\ +39 \\ \hline \end{array}$$

$$\begin{array}{r} 87 \\ +55 \\ \hline \end{array}$$

$$\begin{array}{r} 57 \\ +68 \\ \hline \end{array}$$

$$\begin{array}{r} 28 \\ +84 \\ \hline \end{array}$$

$$\begin{array}{r} 56 \\ +27 \\ \hline \end{array}$$

$$\begin{array}{r} 85 \\ +49 \\ \hline \end{array}$$

$$\begin{array}{r} 78 \\ +34 \\ \hline \end{array}$$

$$\begin{array}{r} 95 \\ +55 \\ \hline \end{array}$$

$$\begin{array}{r} 65 \\ +75 \\ \hline \end{array}$$

$$\begin{array}{r} 49 \\ +36 \\ \hline \end{array}$$

$$\begin{array}{r} 47 \\ +46 \\ \hline \end{array}$$

$$\begin{array}{r} 75 \\ +58 \\ \hline \end{array}$$

$$\begin{array}{r} 28 \\ +69 \\ \hline \end{array}$$

$$\begin{array}{r} 46 \\ +36 \\ \hline \end{array}$$

$$\begin{array}{r} 59 \\ +49 \\ \hline \end{array}$$

$$\begin{array}{r} 59 \\ +25 \\ \hline \end{array}$$

$$\begin{array}{r} 38 \\ +57 \\ \hline \end{array}$$

$$\begin{array}{r} 28 \\ +87 \\ \hline \end{array}$$

$$\begin{array}{r} 49 \\ +49 \\ \hline \end{array}$$

$$\begin{array}{r} 39 \\ +43 \\ \hline \end{array}$$

$$\begin{array}{r} 49 \\ +57 \\ \hline \end{array}$$