



2.Sınıf

Haftalık Ödev

17-21 MAYIS



Siirt
İL MİLLÎ EĞİTİM MÜDÜRLÜĞÜ

[www.
siirt.meb.gov.tr](http://www.siirt.meb.gov.tr)



/siirtmem

Kocaman bir ağzı var
Kıpkırmızıdır burnu,
Güldürüyor herkesi
Sahnedeki palyaço.

Bazen kayıp düşüyor
Bazen takla atıyor,
Mesleğini seçmiş o
Palyaçoluk yapıyor.

İçi kan ağlasa da
Güldürüyor herkesi,
Seyircisi çok ama
Belki yok hiç kimsesi.

Atilla ÇAKIROĞLU

**İlk 3 soruyu yukarıdaki şiire göre
yanıtlayın.**

**1) Şiire en uygun başlık
aşağıdakilerden hangisidir?**

- A) Pinokyo
- B) Palyaço
- C) Korkuluk

**2) Şiirde bahsedilen kişi için
aşağıdakilerden hangisi
söylenemez?**

- A) Herkesi güldürebiliyor.
- B) Bazı zamanlar mutsuz
olabiliyor.
- C) Birçok arkadaşı vardır.

**3) Şiirde verilmek istenen ana
düşünce aşağıdakilerden
hangisidir?**

- A) Palyaçoluk mesleği çok
eğlencelidir.
- B) Palyaçolar her zaman mutsuz
olurlar.
- C) Palyaçoların içi kan ağlasa bile
meslekleri gereği herkesi
güldürmek zorundadırlar.

**4) Aşağıdaki cümlelerin hangisi
bir duyguyu belirtmektedir?**

- A) Öğretmenimi görünce çok
sevindim.
- B) Yarım saat sonra dizi
başlayacak.
- C) Bize de üç tane kalem verir
misin?

**5) Aşağıdaki cümlelerim
hangisinin sonuna soru işareti
(?) kullanılmaz?**

- A) Nereden geldi bu kitap,
bilemedim
- B) Sen kimi soruyorsun
- C) O çocuğu sen de tanıyor
musun

6) “Anı” sözcüğünün eş anlamlısı aşağıdaki cümlelerin hangisinde vardır?

- A) Annem, bize çocukluk hatıralarını anlattı.
- B) Kalemrimi koyduğum yeri unuttum.
- C) Anlamadığım konuları öğretmenime sordum.

7) Aşağıdaki cümlelerin hangisinde büyük harflerin kullanımı yanlıştır?

- A) Lale Sokağı hemen önümüzde, sağ taraftadır.
- B) Azra ’nın ablası Hira daha okula gitmemişti.
- C) Bu yıl Ramazan bayramında akraba ziyaretleri olmayacakmış.

8) Aşağıdakilerden hangisinde satır sonu hece ayırımında hangi çocuk yanlışlık yapılmıştır?



9) Aşağıdaki atasözlerinin hangisinde “tutumluluk” anlamı vardır?

- A) Bakarsan bağ, bakmazsan dağ olur.
- B) Öfkeyle kalkan zararlar oturur.
- C) Damlaya damlaya göl olur.

1. Fırçaladım
2. Dişlerimi
3. Yedikten
4. Sonra
5. Yemeğimi

10) Yukarıdaki kelimeler anlamlı bir cümle olacak şekilde nasıl sıralanır?

- A) 5-3-2-4-1
- B) 5-3-4-1-2
- C) 5-3-4-2-1

11) Aşağıdaki cümlelerin hangisinde zıt anlamlı kelimeler bir arada verilmiştir?

- A) Esra yalan yanlış konuştuğu için kimse ona inanmıyordu.
- B) Babam gelir ve giderlerimize göre aile bütçesini oluşturdu.
- C) Ahmet ile Elif kocaman iki papağan besliyorlardı.

12) "Şimdi gidiyorum... .. yarın geleceğim". Cümlesinde boş bırakılan yere aşağıdakilerden hangisi gelirse cümlemin anlamı bozulmaz?

- A) Veya
- B) Ya da
- C) Ama

- 1.Eyvah, yangın çıktı ()
- 2.Yeni oyuncağını beğendin mi ()?
- 3.Yarın sinemaya gideceğiz ()
- 4.Öğretmen, Arzu () yu tahtaya çıkardı.

13) Yukarıda belirtilen parantez içlerine sırasıyla hangi noktalama işaretleri konmalıdır?

A)	(!)	B)	(!)	C)	(.)
	(.)		(?)		(?)
	(.)		(.)		(.)
	(.)		(.)		(.)

14) Aşağıdaki cümlelerden hangisi olumlu cümledir?

- A) Kitapçı aradığım kitabı bulamadığını söyledi.
- B) Dün gürültüden hiç uyuyamadık.
- C) Yağmur bütün gece yağmadı.

15) Ömer, Berat ve Hira tatilde sıkılınca bir oyun oynamaya karar verirler. Bu oyunda herkes aklına gelen ilk meyvenin adını bir kâğıda yazacaktır. Yazılan meyve isimlerinden hangisi alfabetik sıralamaya göre ilk sırada geliyorsa o ismi yazan öğrenci oyunu kazanacaktır.

Ömer:
ayva



Berat:
armut



Hira:
ananas



Buna göre oyunu kazanan kişi aşağıdakilerden hangisidir?

- A) Ömer
- B) Berat
- C) Hira

Mahallemizde
Senden başka ağaç olsaydı
Seni bu kadar sevmezdim.
Fakat eğer sen
Bizimle beraber
Kaydırak oynamasını bilseydin
Seni daha çok severdim.

Güzel ağacım!
Sen kurduğun zaman
Biz de inşallah
Başka mahalleye taşınmış
oluruz.

ORHAN VELİ KANIK

**16) Bu ana duygusu
aşağıdakilerden hangisidir?**

- A) Oyun Sevgisi
- B) Ağaç Sevgisi
- C) Mahalle Sevgisi

öretmen
yanlış
kirbit
yaprak
herkez
kiprik

**17) Yukarıdaki kelimelerden kaç
tanesi yanlış yazılmıştır?**

- A) 4
- B) 5
- C) 6

**18) Aşağıdaki kelimelerden
hangisi hem hece hem kelimedir?**

- A) Dost
- B) Millet
- C) Ülke

Miraç , okuldan eve dönerken bir
köpek gördü. Gördüğü köpeği
annesine anlattı. Miraç, o gün
yorulduğu için erkenden yattı.

- 1-Okuldan eve dönerken köpek gören
kimdir?
- 2-Miraç nerede çok yoruldu?
- 3-Miraç yolda gördüğüne kime anlattı?

**19) Yukarıdaki metne göre hangi
soruların cevapları vardır?**

- A) 1-3
- B) 2-3
- C) 1-2-3

**20) Çocukkenressam
olmayı hayal ettim.
.....bir kursa yazıldım ve resim
çizmeye başladım.
.....üniversitede resim eğitimi
aldım.**

**Fatma'nın sözlerinde noktalı
yerlere sırasıyla aşağıdakilerden
hangisi gelmelidir?**

- A) Önce – Sonra--- Daha sonra
- B) Önce— Daha sonra-- Son olarak
- C) Sonra – Önce- Daha sonra

Cevap Anahtarı

1-B

2-C

3-C

4-A

5-A

6-A

7-C

8-B

9-C

10-C

11-B

12-C

13-B

14-A

15-C

16-B

17-A

18-A

19-C

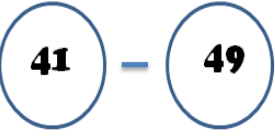
20-A

1. Aşağıdaki seçeneklerin hangisinde ileriye doğru dörder ritmik sayma yapılmıştır?

- A) 15-18-21-24-27
B) 16-20-24-28-32
C) 40-36-32-28-24

2. 8 birlik 5 onluktan oluşan sayı hangi seçenekte doğru verilmiştir?

- A) 85 B) Elli Beş C) 58

3.  Yanda verilen sayılar arasında kaç çift sayı vardır?

- A) 3 B) 4 C) 5

4. Aşağıda verilen işlemlerden hangisi yanlıştır?

- A) $33+58 = 91$
B) $69-27 = 42$
C) $73-48 = 35$

5. Aşağıda onluğa göre yuvarlanmış sayıların hangisi yanlıştır?

- A) **75** \longrightarrow **70**
B) **49** \longrightarrow **50**
C) **51** \longrightarrow **50**

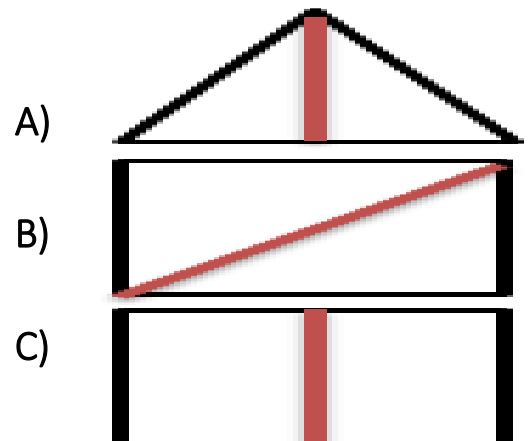
6. Ahmet 23 yaşında ve kardeşi Mehmet'ten 14 yaş büyüktür. Buna göre iki kardeşin yaşları toplamı kaçtır?

- A) 37 B) 32 C) 51

7. Semanur arkadaşı Derasu'ya 3 toka verince ikisinin tokaları eşit oluyor. Derasu'nun 8 tokası olduğuna göre Semanur'un kaç tokası vardır?

- A) 5 B) 14 C) 11

8. Aşağıdaki seçeneklerden hangisinin simetri doğrusu yanlıştır?



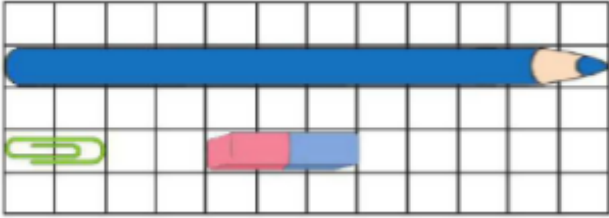
9. Beratlar'ın bağında 38 badem ağacı, badem ağaçlarından 19 fazla fıstık ağacı vardır. Buna göre Beratlar'ın bağında kaç ağaç vardır?

- A) 95 B) 57 C) 66

10. 76 soruluk bir testin önce 28, sonra 19 sorusunu çözdüm. Geriye çözmem gereken kaç soru kaldı?

- A) 29 B) 48 C) 67

11.



Adar yukarıdaki mavi kalemin boyunu ataş ve silgi ile ölçüyor. Ölçüm sonuçları ile ilgili aşağıdaki bilgilerden hangisi **yanlıştır**?

- A) Kalem 6 ataş uzunluğundadır.
B) Kalem 3 ataş, 2 silgi uzunluğuna eşittir.
C) Kalem 3 silgi uzunluğundadır.

12.



Yukarıda belirtilen şekildeki kova 5 sürahi su almaktadır. Damacana 3 kova su ile dolmaktadır. Damacanayı sürahi ile su doldurmak isteyen Elif bu iş için kaç sürahi su kullanacaktır?

- A) 8 B) 15 C) 18

13. Bir günde bir düzine çiçek satan bir çiçekçi bir hafta sonunda kaç çiçek satar?

- A) 70 B) 84 C) 19

14. 21 tane muz, 3 kişi her gün birer tane yiyoruz. Muzlar kaç haftada biter?

- A) 1 B) 7 C) 2

15. Bir terzi 18 metrelik kumaştan 3'er metrelik pantolonlar dikiyor. Pantolonların tanesini 15 TL'ye satıyor. Terzi tüm pantolonları sattığına göre bu iş sonunda kaç TL kazanır?

- A) 36 B) 90 C) 63

16. Bir kırtasiyeci satılacak bir deste kalemin yarısını sattığına göre satılacak kaç kalem kalmıştır?

- A) 6 B) 10 C) 5

17. 4 kardeş 32 TL'yi eşit olarak paylaşacak. Her biri kaç TL alır?

- A) 7 B) 9 C) 8

18. Saat 8.00'da başlayan çizgi film saat 9.30'da bitmiştir. Buna göre çizgi filmin süresi aşağıdakilerden hangisidir?

- A) 1 saat 30 dakika
B) 2 saat
C) 2 saat 30 dakika



Aşağıda Cumhuriyet İlkokulu 4/A sınıfı öğrencilerinin oynadığı sporların grafiği verilmiştir.

(Not:19 ve 20. soruları grafiğe göre cevaplayınız.)



19. Grafiğe göre 4/A sınıfının mevcudu kaçtır?

- A) 10 B) 27 C) 30

20. 4/A sınıfında voleybol oynayanlar basketbol oynayanlardan kaç fazladır?

- A) 3 B) 1 C) 2

Cevap Anahtarı

1. B
2. C
3. B
4. C
5. A
6. B
7. C
8. B
9. A
10. A
11. C
12. B
13. B
14. A
15. B
16. C
17. C
18. A
19. C
20. A

1) Aşağıdakilerden hangisi görgü kuralıdır?

- ★ Yemeğe herkes ile başlamak
- ▲ Yemekte gereksiz konuşmamak
- Kıyafetlerimizi temiz tutmak

A) ★ ● B) ● ▲ C) ▲ ★

2) Sağlıklı beslenmek için aşağıdakilerden hangisini yapmalıyız?

- A) Meyve ve sebzeleri mevsimi dışında bolca tüketmeliyiz.
- B) Meyve ve sebzelerden sadece sevdiklerimizi tüketmeliyiz.
- C) Mevsimine uygun meyve ve sebzeler tüketmeliyiz

3) Aşağıdaki mesleklerden hangisi çalıştığı alana göre diğerlerinden farklıdır?

- A) Hemşire
- B) Berber
- C) Hasta bakıcı

Miray düzenli olarak banyo yapıyor. Haftada bir tırnaklarını kesiyor. Her gün saçını tarıyor. Günde 3 kere dişlerini fırçalıyor.”

4) Buna göre Miray aşağıdakilerden hangisine özen gösteriyor?

- A) Kişisel bakımına
- B) Kişisel iletişime
- C) Bireysel Farklılığa

5) Geceleri araçların bizi rahat görmeleri için aşağıdakilerden hangisinin giyilmesi güvenlik anlamında uygundur?

- A) açık renkli kıyafetler
- B) koyu renkli kıyafetler
- C) soluk kıyafetler

6) Merdivenden inip çıkarken hangi taraftan yürümeliyiz?

- A) solundan
- B) sağından
- C) ortasından

7) Hangi davranışımız sağlık ve güvenliğimiz için tehlikeli bir durum değildir?

- A) Elektrikli aletleri tamir etmeye çalışmak
- B) Tatile çıkarken su vanalarını kapatmak
- C) Prizlere ıslak elle dokunmak

8) Aşağıda hayvanlarla ilgili verilen bilgilerden hangisi yanlıştır?

- A) Tüm hayvanlar ormanda yaşamaktadır.
- B) Hayvanların görünüşleri ve yaşadıkları ortam birbirinden farklı olabilir.
- C) Hayvanların bir kısmı su ihtiyacını doğal ortamlardan karşılarlar.

9)Aşağıdakilerden hangisi toplu taşıma araçlarında uymamız gereken davranışlardandır?

- A) Telefonda yüksek sesle konuşmak
- B) Emniyet kemerini takmamak.
- C) Boş bir koltuğa oturup ayakta yolculuk etmemek.

10)

	Yabancı kişiler bizimle konuşmak istediklerini söylediklerinde kabul etmeliyiz.
	Tanıdığımız veya tanımadığımız kişilere karşı nazik davranmalıyız.
	Gerçek yaşamda tanımadığımız kişilere nasıl davranmamız gerekiyorsa, sanal ortamda da aynı davranmalıyız.

Yukarıda bos bırakılan kutucuğa söylenen davranış doğru ise (D) , yanlış ise (Y) yazılacaktır.

Buna göre kutucuklara sırayla hangi harfler yazılmalıdır?

A)

Y
D
Y

B)

D
Y
D

C)

Y
D
D

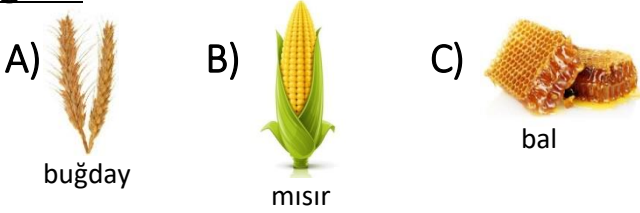
11) Aşağıdakilerden hangisi tarımsal alanlarda yapılan üretim faaliyetlerinden değildir?

- A) Kuzuları otlatma
- B) Mısır ekilmesi
- C) Buğdayın ekilmesi

12) Ülkemiz hangi kıtaları birbirine bağlayan konumdadır?

- A) Asya-Afrika
- B) Avrupa-Amerika
- C) Asya-Avrupa

13) Aşağıdakilerden hangisi tarım ile uğraşan bir kişinin elde ettiği ürünlerden değildir?



14) Aşağıdakilerden hangisi kültürümüze ait müziklerden değildir?

- A) Bale
- B) Deyişler
- C) Bozlaklar

15) Bal Fındık Yoğurt

Yukarıdaki ürünlerden hangisi hayvansal ürün değildir?

- A) Bal
- B) Fındık
- C) Yoğurt

16) İstiklal Marşı' mızı kim bestelemiştir?

- A) Mehmet Akif ERSOY
- B) Osman Zeki ÜNGÖR
- C) Mustafa Kemal ATATÜRK


17) Aşağıdakilerden hangisi ülkemizin bağımsızlığını ve özgürlüğünü temsil eder?

- A) Başkentimiz
- B) Türk bayrağı
- C) Halk oyunları

18) Aşağıda bayramlar ile ilgili verilen bilgilerden hangisi doğru değildir?

- A) Milli bayramlarda okullarda törenler yapılır.
- B) Cumhuriyet Bayramı çocuklara armağan edilmiştir.
- C) Dini bayramlarda bando takımı müzik dinletisi yapar.

19) Aşağıdakilerden hangisi kültürümüze ait oyunlardan değildir?



C)



Bayrak töreninde; İstiklal Marşımız coşku ile söylenir, saygı duruşunda durulur

20) Aşağıdakilerden hangisi bayrak töreninde yapılmalıdır?

A) İstiklal Marşı'na eşlik edilir.

B) Öğrenciler kendi aralarında konuşur.

C) Sadece Pazartesi günleri bayrak töreni yapılır.



Cevap Anahtarı

1-C

2-C

3-B

4-A

5-A

6-B

7-B

8-A

9-C

10-C

11-A

12-C

13-C

14-A

15-B

16-B

17-B

18-C

19-B



1. Read the text and answer the questions. (Parçayı okuyalım ve soruları cevaplayalım.)

Hello! My name is Aslı. I'm seven years old. This is my room. There is a schoolbag. There are five notebooks, six books and two scissors in my schoolbag. There are two red pencils, four blue pencils and one yellow pencil. I like colours and I like colourful pencils.

- 1- What is her name?

.....

- 2- How old is she?

.....

- 3- How many books are there?

.....

- 4- How many pencils are there?

.....

- 5- How many blue pencils are there?

.....



2. Test Time

- 1- Aşağıdaki harflerden hangisi hem Türk hem de İngiliz alfabesinde vardı?

A) Ş B) C C) Q

- 2-Aşağıdaki kelimeler hangi harf ile başlar?

...mbulance ...stronaut
...sprin

A) E B) S C) A

- 3-Görseli destekleyen ifade hangi seçenekte verilmiştir?



- A) Good morning
B) Good afternoon
C) Good bye

3. NI_E TO MEET Y_U

Eksik verilen harfler hangi seçenekte doğru verilmiştir?

- A) C/U B) E/O C) C/O

4. Aşağıdaki ifadelerden hangisi yanlıştır?

- B) turn left -----geriye dön
C) turn right ----- sağa dön
D) turn around ----- etrafında dön

5. Arkadaşınıza teşekkür etmek için hangisini söylersiniz?

- A) I'm sorry.
B) Thank you.
C) Sorry.

6. Görseli destekleyen ifade aşağıdakilerden hangisidir?



- A) four pencils
B) one pencil
C) six pencils

7. Hangi sorunun cevabı yanlıştır?

- A) six + two = eight
B) three - two = five
C) ten - four = six



8. Aşağıdakilerden hangisi yanlıştır?

- A) I like green
B) B- I like orange
C) C- I like pink

9. I like purple.

- A) Kırmızıyı severim.
B) Moru severim.
C) Turuncuyu severim.

Answer Key (Cevap Anahtarı)

1. Read the text and answer the questions. (Parçayı okuyalım ve soruları cevaplayalım.)

Hello! My name is Aslı. I'm seven years old. This is my room. There is a schoolbag. There are five notebooks, six books and two scissors in my schoolbag. There are two red pencils, four blue pencils and one yellow pencil. I like colours and I like colourful pencils.

- 1- Her name is Aslı
2- She is seven years old.
3- Six books.
4- Seven pencils.
5- Four blue pencils.



Test Time

- 1- B
2- C
3- A
4- C
5- A
6- B
7- C
8- B
9- C
10- B

ÇALIŞMADA EMEĞİ GEÇEN ÖĞRETMENLERİMİZ

Abdurrahman CELAN Mehmet EKİNCİ

Seda AYDINLI Ekrem AYBEK

Kasım AYDIN

Bu çalışma Siirt Milli Eğitim Müdürlüğü öğretmenleri tarafından hazırlanmıştır. Emeklerinden dolayı teşekkür ederiz.