

HAYAT BİLGİSİ BÖLÜMÜ

1- “Dengeli ve düzenli beslenmek” ne anlama gelir?

- A) Yemeklerden fazla fazla yemek
- B) Her besinden yeteri kadar yemek
- C) Sık sık yemek yemek

2- Dış görünüşümüz ile ilgili özelliklerimize.....özelliklerimiz de diyebiliriz.”

Yukarıdaki cümlede boş bırakılan yere aşağıdakilerden hangisi getirilmelidir?

- A) Fiziksel B) Kişisel C) Duygusal

3- Aşağıdaki ifadelerden hangisi doğrudur?

- A) Yetenek ve ilgiler kişiden kişiye değişir.
- B) Herkes bir müzik aleti çalabilir.
- C) Bir ailedeki üyelerin tüm özellikleri birbirine benzer.

4- Aşağıdakilerden hangisi büyüdükçe değişmeyen bir özelliğimizdir?

- A) Yaş B) Kilo C) Göz rengi

5- Aşağıdakilerden hangisi aile içi görevlerimizdendir?

- A) Para kazanmak
- B) Kitaplığımızı düzenlemek
- C) Yemek yapmak

6- Aşağıdakilerden hangisi temel ihtiyaçlarımızdan değildir?

- A) Kitap okumak B) Uyumak
- C) Giyinmek

7- Aşağıdakilerden hangisi ev adresinde bulunmaz?

- A) Bina adı
- B) Mahalle adı
- C) Binanın kaç katlı olduğu

8- Aşağıdakilerden hangisi milli bayramlarımızdan değildir?

- A) 30 Ağustos Zafer Bayramı
- B) 29 ekim Cumhuriyet Bayramı
- C) Ramazan Bayramı

9- “Empati” sözcüğünden ne anlıyorsunuz?

- A) Sorumluluklarımı bilmektir.
- B) Arkadaşlarımızla iyi geçinmektir.
- C) Kendini karşıdakinin yerine koymaktır

10- Aşağıdakilerden hangisi kişisel eşyamız değildir?

- A) Diş fırçası
- B) Televizyon
- C) Tarak

☁ Sağlıklı olmak için spor yapmalıyız.

☁ Düzenli uyku uyumak bizi sağlıklı yapmaz.

☁ Yemekten önce ve sonra ellerimi yıkarım.

11-Yukarıdaki cümlelerde doğru ifade için D, yanlış ifade için Y harfi koyarsak sıralama nasıl olur?

- A) ☐ D ☐ D ☐ D
☐ D ☐ D ☐ Y
☐ D ☐ Y ☐ D



12- Yukarıdaki ürünlerden kaç tanesini kahvaltıda tüketiriz?

- A) 6 B) 7 C) 8

13- Aşağıdaki çocuklardan hangisi sağlıklı yaşamı tercih etmemiştir?



14- Evinden kırtasiyeye gitmek isteyen Ece hangi yolu kullanmalıdır?

- A) Yel Sokaktan Gül Sokağa gitmeli.
B) Önce Yavuz Selim Caddesi'ne çıkmalı, sonra Gül Sokağı takip etmeli.
C) Önce Yavuz Selim Caddesi, sonra Kadife Sokağa girmeli.

Açıkta satılan yiyecekleri

.....

15- Yukarıdaki boşluğu hangisi ile doldurursak doğru olur?

- A) almamalıyız B) yemeliyiz
C) bol bol tüketmeliyiz

TÜRKÇE BÖLÜMÜ

Keloğlan arkadaşlarını çok bekledi. Ama kimse gelmedi. Biraz daha bekledikten sonra oradan ayrıldı. Arkadaşlarının dedikleri saatte gelmemeleri onu çok üzdü.

16- Yukarıdaki metnin konusu hangisi olabilir?

- A) Keloğlan'ın üzülməsi
- B) Arkadaşların verdikleri sözde durmaması.
- C) Keloğlan'ın arkadaşları

Denize doğru bakan Hayri bütün gemileri inceledi. Biliyordu içlerinden birinde babası vardı. Çok uzun zaman olmuştu. Kaptan olan babası yakın zamanda gelecekti.

17- Yukarıdaki metnin konusu ne olabilir?

- A) Hayri'nin denizi çok seviyor olması.
- B) Hayri'nin gemileri çok seviyor olması.
- C) Hayri'nin babasını çok özlemiş olması.

18- Aşağıdaki cümlelerin hangisinde özel isim yanlış yazılmıştır?

- A) Zeynep yozgat'ta yaşıyor.
- B) Kedim Boncuk çok acıkmış.
- C) Bugün okulda Keloğlan masalını okudum.

19- 'Akşam çok rüzgâr esti.'

Yukarıdaki cümlede altın çizili sözcüğün yerine hangi sözcüğü yazarsak cümlelerin anlamı değişmez?

- A) Yel
- B) Soğuk
- C) Yağmur

20- "Mustafa, sokakta arkadaşlarıyla maç yapıyordu."

Yukarıdaki cümlede, hangi sorunun cevabı yoktur?

- A) Kim?
- B) Nerede?
- C) Ne zaman?

21- Yağmurda kaldığı için kitapları

1

2

ıslanmış.

3

Yukarıdaki cümleye '**Neden**' sorusunu sorduğumuzda kaç numaralı cevabı alırız?

- A) 3
- B) 1
- C) 2

22- Aşağıdaki kelimelerin hangisi sözlükte diğerlerinden önce gelir?

- A) bal
- B) bel
- C) bot

23- " Ayşe () Semiha ve İlknur ()un okula neden gelmediğini biliyor musunuz ()

Yukarıdaki boşluklara hangi noktalama işaretleri yazılmalıdır?

- A) (.)(')(?)
- B) (,)(,)(.)
- C) (,)(')(?)

24- 'Bizim siyah tay çok hızlı koşar.'

Yukarıdaki cümlede kaç tane eş anlamlı sözcük vardır?

- A) 3
- B) 2
- C) 1

25- Aşağıdaki sözcüklerden hangisinin zıt anlamlısı yoktur?

- A) Doğru
- B) Tabiat
- C) Zengin

.....
19 Mayıs 1919'da,
Görüldü Bandırma, Samsun'da,
Başladı Kurtuluş Savaşı,
Yurdun dört bir yanında.

* * *

29 Ekim 1923'te,
İlan edildi Cumhuriyet.
Yaptığın yeniliklerin,
İzindeyiz ilelebet.

Nihan M. PAŞAOĞLU

Aşağıdaki 26,27 ve 28.soruyu şiire
göre cevaplayınız.

26- Şiirin konusu aşağıdakilerden hangisi
olabilir?

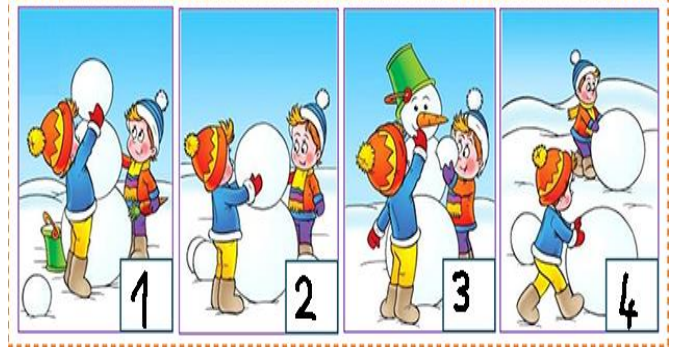
- A) Atatürk'ün vatani için çalışması.
- B) Atatürk'ün Samsun'a gitmesi
- C) Cumhuriyet'in ilanı

27- Yukarıdaki şiirin şairi kimdir?

- A) İsmail Hakkı TALAS
- B) Ülkü DUYSAK
- C) Nihan M. PAŞAOĞLU

28- Şiir kaç mısradan oluşmuştur?

- A) 7
- B) 8
- C) 9



29- Yukarıdaki görselleri olayların oluş
sırasına göre sıraladığımızda doğru
sıralama nasıl olur?

- A) 4 – 2 – 1 – 3
- B) 2 – 3 – 4 – 1
- C) 3 – 2 – 1 – 4

Babam ile hafta sonu parka
gittik. Parktan sonra beni kâğıt
helva yemeye götürdü. Daha
sonra deniz kıyısında biraz
oturduk. Bana gemileri anlattı.
..... mutlu bir çocuk
olarak eve geri döndük.

30- Yukarıdaki metinde çocuk yaptıklarını
sırasıyla anlatmıştır.

Boş bırakılan yere olayları sıraya
koyma ifadelerinde hangisi getirilirse
hikâye tamamlanmış olur?

- A) Önce
- B) Sonra
- C) En sonunda

MATEMATİK BÖLÜMÜ

**31- 12'den başlayıp 2'şerli saydığımızda
söylediğimiz 5. Sayı kaçtır?**

- A) 20 B) 22 C) 24

32- Aşağıdaki tahmini sonucu yazılan toplama işlemlerinden hangisinin sonucu yanlış yazılmıştır?

- A) 37 B) 27 C) 71

$$\begin{array}{r} + 43 \\ \hline 80 \end{array}$$

$$\begin{array}{r} + 18 \\ \hline 40 \end{array}$$

$$\begin{array}{r} + 14 \\ \hline 80 \end{array}$$

33- 2 deste 1 düzine daha kaç eder ?

- A) 34 B) 30 C) 32

34- Annem 35 yaşındadır. Babam annemden 8 yaş büyük olduğuna göre ikisinin yaşları toplamı kaçtır?

- A) 43 B) 78 C) 70

35- Yağız'ın 45 yumurtası vardı. Yumurtaların birazı kırılınca 30 yumurtası kaldı. Yağız'ın kaç yumurtası kırıldı?

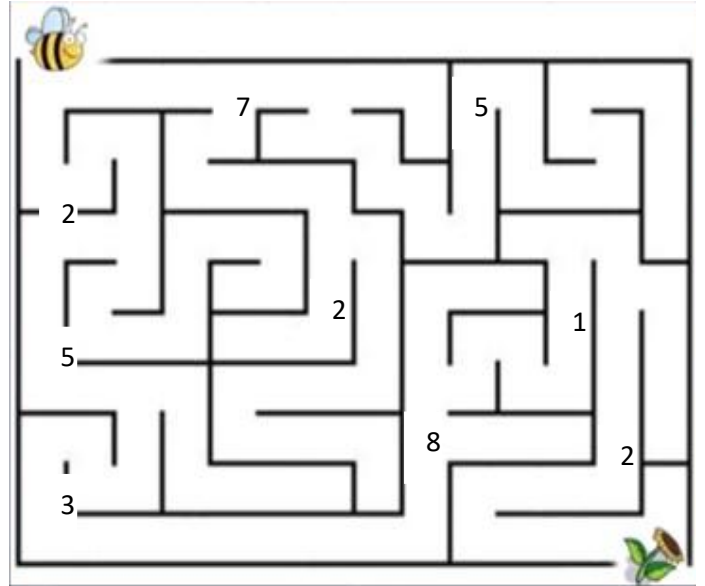
- A) 15 B) 75 C) 25

36- Yusuf'un 50 lirası vardı. 35 lira daha dedesi verdi. 18 lirasını harcarsa kaç lirası kalır?

- A) 68 B) 67 C) 69


37- Bir çiftlikte 15 kaz, 18 ördek, 22 delhi hindi vardır. Bu çiftlikte kaç hayvan vardır?

- A) 55 B) 33 C) 40



38- Arının çiçeğe ulaşması için labirentten geçmesi gerekiyor. Arının gittiği yoldaki rakamların toplamı kaçtır?

- A) 19 B) 20 C) 21



39- Yukarıdaki resimde gizlenen rakamların toplamı kaçtır?

- A) 21 B) 22 C) 23

40- Birler basamağındaki sayının basamak değeri 8, onlar basamağındaki sayının basamak değeri 30 olan sayı kaçtır?

- A) 83 B) 28 C) 38



41- Yukarıdakilerden kaç tanesi sıvı maddedir?

- A) 3 B) 2 C) 1



42- Yukarıdaki görsel için hangisi söylenemez?

- A) Su bardağı daha az portakal suyu alır.
B) İkisi de eşit miktarda portakal suyu alır.
C) Sürahi daha fazla portakal suyu alır.



1



2



3



4

43- Yukarıdaki kapları **en çok sıvı alandan en az sıvı alana** doğru sıralarsak doğru sıralama nasıl olur?

- A) 2 - 4 - 3 - 1 B) 2 - 3 - 4 - 1
C) 2 - 1 - 3 - 4



44- Yukarıdaki görselde şişe 3 bardak su almaktadır. Tencere 6 şişe su almaktadır. Bu bilgilere göre tencere kaç bardak su ile doldurulabilir?

- A) 15 B) 18 C) 21

45-



Yukarıdaki eşitliğin doğru olması için şekli ile gösterilen yere hangi sayı gelmelidir?

- A) 8 B) 7 C) 6

Sınavınız bitmiştir. Cevaplarınızı kontrol ediniz.



Muharrem ETİZ