

1)30'a yuvarlanan sayılar kovanın içine atılacaktır.Buna göre kovaya atılan topların sayısı kaç tanedir?



a)4 b)5 c)6



2)Büşra ile Birgül ikiz kardeşler.Birgül 9 yaşında olduğuna göre 3 yıl sonra ikiz kardeşlerin yaşları toplamı kaç olur?

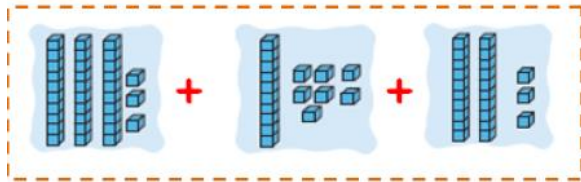
a)18 b)21 c)24

3)

$$14 + 4 = 20 - \square$$

Yukarıdaki eşitliğe göre \square yerine hangi sayı gelmelidir?

a)4 b)3 c)2



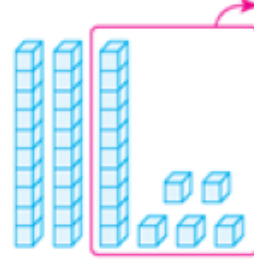
4)Yukarıda onluk bloklarla gösterilen sayıların toplamı kaçtır?

a)73 b)72 c)63

5)19 kişinin olduğu bilet kuyruğunda sondan 7.olan kişi baştan kaçıncı sıradadır?

a)12 b)13 c)14

6) Aşağıdaki çıkarma işlemi ile ilgili verilen bilgilerden hangisi yanlıştır?



a)Eksilen 20'dir.

b)Çıkan 15'dir.

c)Fark 20'dir.



7)Yukarıda abaküsle gösterilen sayıdan başlayarak ileriye doğru 3'er sayarsam 4.söylediğim sayı kaç olur?

a)30 b)33 c)36

16	20		28
12	15		21

8)Yukarıdaki tabloda verilmeyen yerlere uygun sayılar hangileridir?

a)24-18 b)22-16 c)25-20



9) Melek uçağa bakmaktadır. Melek saat yönü tersinde 3 çeyrek tur dönüş yaparsa hangi araca bakar?

a) kamyon b) gemi c) araba

10) $4+4+4+4+4+4+4$ şeklinde verilen sayı çarpma işlemi ile nasıl ifade edilir?

a) $7+4$ b) 7×4 c) 4×6

11) Aşağıda verilen sayıların tahmini olarak farkı kaçtır?



a) 20 b) 30 c) 40

12) Bir sınıfta 16 tane kız öğrenci vardır. Erkek öğrencilerin sayısı kızların sayısından 5 fazla olduğuna göre bu sınıfta toplam kaç öğrenci vardır?

a) 37 b) 21 c) 27

13) Aşağıdaki harflerden hangisi simetrik değildir?

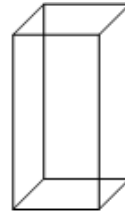
a) A b) E c) Z



14) Aşağıdaki sayılardan hangisi en yakın onluğa yuvarlanırsa yukarıdaki sayı elde edilmez?

a) 75 b) 84 c) 85

15) Kare prizmanın özellikleri arasında verilen bilgilerden hangisi yanlıştır?



a) 8 tane köşesi vardır.

b) Tüm yüzeyleri karedir.

c) 12 tane ayrıtı vardır.

16)




Yukarıdaki görselde şişe 3 bardak su, tencere ise 6 şişe su ile dolduğuna göre; tencere kaç bardak su ile dolar?

a) 15 b) 18 c) 21

17) Birler basamağındaki sayının basamak değeri 7, onlar basamağındaki sayının basamak değeri 50 olan sayı kaçtır?

a) 75 b) 57 c) 67

18)



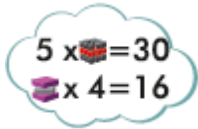
Yukarıdaki toplama işleminin sonucuna ait aşağıdaki ifadelerden hangisi doğrudur?

- a)9 onluk 1 birlikten oluşur.
- b)Birler basamağında en küçük rakam yer alır.
- c)En yakın olduğu onluk 80'dir.




19)Çalışkan Ahmet dün akşam en yakın onluğu 90'a yuvarlanan sayıda soru çözmüştür.Buna göre Çalışkan Ahmet en az kaç soru çözmüştür?

- a)94 b)89 c)85



20) ise $5 \times 6 = 30$ $4 \times 4 = 16$ işleminin sonucu kaçtır?

- a)24 b)20 c)12



21)Yukarıdaki işlemin tahmini sonucu kaçtır?

- a)60 b)70 c)80



22)3 kuş ile 5 koyunun ayakları toplamı kaçtır?

- a)32 b)30 c)26



23)Yanda verilen pil

hangi geometrik cisme benzer?

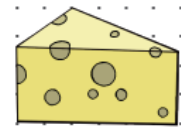
- a)Silindir b)Küp c)koni

24)



Yukarıdaki sayılar hangi seçenekte büyükten küçüğe doğru sıralanmıştır?

- a)11,12,24,22
- b)22,12,24,11
- c)24,22,12,11



25)Yandaki peynir hangi

geometrik cisme benzer?

- a)kare prizma b)üçgen prizma c)küp