



2.Sınıf

# Haftalık Ödev

10-14 MAYIS



**Siirt**  
İL MİLLÎ EĞİTİM MÜDÜRLÜĞÜ

[www.  
siirt.meb.gov.tr](http://www.siirt.meb.gov.tr)





1. Yukarıdaki sembolün anlamı aşağıdakilerden hangisidir?

- A) Kavşak
- B) Geri Dönüşüm
- C) Yeşil Alan



Kaybolan çocuk köşe-  
başına oturmuş, hıçkırık  
hıçkırık ağlıyordu.

2. Aynur'un cümlesi anlam bakımından nasıl bir ifade içermektedir.

- A) abartılı ifade
- B) sevinçli ifade
- C) duygusal ifade

çalışıyor - Veli - ders - evde

3. Sözcüklerinden kurallı bir cümle oluşturulursa en sonuna hangisi gelir?

- A) ders
- B) veli
- C) çalışıyor



Yaz tatilinde köye  
gideceğiz.

Serap

4. Serap'ın cümlesi aşağıdakilerden hangisinin cevabı olabilir?

- A) Yaz tatiline kaç kişi gideceksiniz.
- B) Yaz tatilinde nereye gideceksiniz.
- C) Yaz tatiline kiminle gideceksiniz.

5. Hangi öğrencinin cümlesinde abartı yapılmıştır?

A)



Sabahları yüz-  
meyi severim.

B)



Dere kenarından  
geçtim.

C)



Film izlerken  
gülmekten öldüm.

6. Aşağıdakilerden hangisi olumlu cümledir?

- A) Fatma yemek yemedi.
- B) Ayşe telefonla konuştu.
- C) Gülnur ders çalışmıyor



Erhan

Özkan ile Ege aynı  
takımı tutuyor.

7. Erhan'ının cümlesinde karşılaştırma  
cümlesi katan sözcük hangisidir?

- A) Takım
- B) Tutuyor
- C) Aynı



Eylem

..... kalemi çıkarır,  
sonra yazı yazarım.

8. Eylem'in cümlesindeki noktalı yere  
hangisi sözcük gelmelidir.

- A) okul
- B) önce
- C) bilgi

9. Ekmek – Ekmeksiz sözcükleri  
arasındaki anlam ilişkisi aşağıdakilerden  
hangisinde vardır?

- A) Saç - Saçsız
- B) Saç - Saçlı
- C) Saç - Kaş



Umut

Çok yağmur yağı-  
yordu ..... top  
oynayamadık.

10. Umut'un cümlesinde noktalı yere  
aşağıdakilerden hangisi yazılmalıdır?

- A) bu nedenle
- B) fakat
- C) gibi

11. Hangi öğrencinin söylediği cümle  
kurallı cümledir?



A)

Öğretmen sınıfa  
geldi.



B)

Ali geldi sınıfa.



C)

Sınıfa geldi Ali.

12.



Zeynep

Annem beni dok-  
tora götürdü.

Zeynep'in cümlesinde aşağıdaki  
sorulardan hangisinin cevabı vardır?

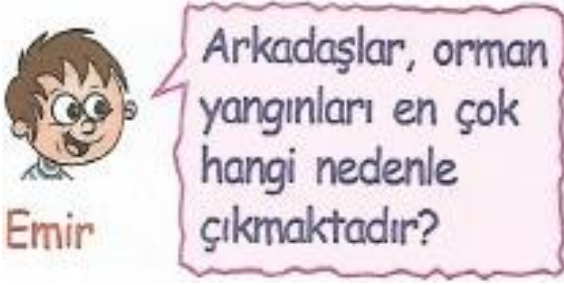
- A) Kim?
- B) Nereye?
- C) Niçin?

13. Yazmadım bugün yazı.

Cümlesi nasıl bir cümledir?

- A) Kurallı Cümle
- B) Devrik Cümle
- C) Karışık Cümle

14.



- A) Hava sıcaklığı
- B) İnsanların dikkatsizliği
- C) Yıldırım düşmesi

15. Gönlüm hep seni arıyor, neredesin sen?

Cümlesinde nasıl bir anlam vardır?

- A) Korku anlamı
- B) Sevinç anlamı
- C) Duygusal anlam

16. Hangi öğrencinin cümlesinde abartı vardır?

- A)  Ayakkabımı boyadım.
- B)  Heyecandan kalbim yerinden fırladı.
- C)  Çok korkmuştum.




17. Chan şeker yemedi.

Cümlesinin olumlu şekli aşağıdakilerden hangisidir?

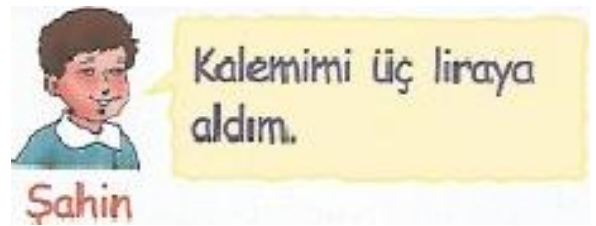
- A) Cihan şeker sever.
- B) Cihan şeker yedi.
- C) Cihan şeker istedi.

18. Sona kalan Dona kalır.

Atasözünün anlamını hangi öğrenci doğru açıklamıştır?

- A)  Başkasının işine karışma.
- B)  İşimizi zamanında yapmalıyız.
- C)  Herkes kendi işine baksın.

19.



Şahin'in cümlesi aşağıdaki sorulardan hangisinin cevabı olabilir?

- A) Kalemi kaç liraya aldın?
- B) Kalemi kim aldı?
- C) Kalemi nereden aldın?



20.



Teyzemin kalem gibi kaşları var.

Gönül'ün cümlesinde benzetme anlamı katan sözcük hangisidir?

- A) kalem
- B) gibi
- C) kaşları

## Cevap Anahtarı

1-B

2-C

3-C

4-B

5-C

6-B

7-C

8-B

9-A

10-A

11-A

12-C

13-B

14-B

15-C

16-B

17-B

18-B

19-A

20-B

1. Serhat'ın 8 düzine kalemi var. Serhat 2 deste kalemini kardeşi Melike'ye veriyor. Buna göre Serhat'ın kaç kalemi kalır?

- A) 10 B) 60 C) 76

2. Özgür haftada 3 kez spora gidiyor. Buna göre özgür bir ayda kaç kez spora gitmiş olur?

- A) 30 B) 12 C) 33

3. 4 hafta kaç gün eder?

Nisan						
Pt	Sa	Ca	Pe	Cu	Ct	Pz
		1	2	3	4	5
6	7	8	9	10	11	12
13	14	15	16	17	18	19
20	21	22	23	24	25	26
27	28	29	30			

- A) 11 B) 28 C) 30



Yukarıdaki kek sayısını aşağıdaki işlemlerden hangisi belirtmektedir?

- A)  $6 \times 2$  B)  $2 \times 6$  C)  $3 \times 4$

5. Bir mağaza günde 7 takım elbise satıyor. Bu mağaza 4 günde kaç takım elbise satar?

- A) 28 B) 11 C) 32

6. Bir basamaklı en büyük sayının 4 katı kaç eder?

- A) 32 B) 13 C) 36



Semanur yukarıda çileklerde bulunan sayıları birbiri ile çarpıp sonucu çileklerin altında bulunan renkli kutulara yazıyor.

Semanur'un bulduğu cevapları büyükten küçüğe doğru sıralarsak sıralama aşağıdakilerden hangisi gibi olur?

- A)

- B)

- C)

8. Enes 8 yaşındadır babasının yaşı Enes'in yaşının 5 katıdır. Buna göre ikisinin yaşları toplamı kaçtır?

- A) 13 B) 40 C) 48

9. Cumhuriyet ilkokulu 2/C sınıfında 12 sıra, 2/E sınıfında 14 sıra var. Her sırada iki öğrenci oturduğuna göre **iki sınıfta kaç öğrenci vardır?**

- A) 52                      B) 26                      C) 38

10. Yanda verilen çıkarma işlemlerinin bölme işlemi şeklinde gösterimi aşağıda - kilerden hangisidir?

$$\begin{array}{r} 15 - 3 = 12 \\ 12 - 3 = 9 \\ 9 - 3 = 6 \\ 6 - 3 = 3 \\ 3 - 3 = 0 \end{array}$$

A)  $\begin{array}{r} 15 \quad 3 \\ \hline \end{array}$       B)  $\begin{array}{r} 15 \quad 5 \\ \hline \end{array}$       C)  $\begin{array}{r} 12 \quad 3 \\ \hline \end{array}$

11. Berat 32 şekeri her arkadaşına 4' er şeker vererek eşit bir şekilde paylaştırıyor. Buna göre Berat'ın kaç arkadaşı var?

- A) 28                      B) 36                      C) 8

12. Hatice teyze kümesinden topladığı 35 yumurtayı sepetlere beşer beşer yerleştirmek istiyor. Hatice teyze bu iş için kaç sepet kullanmalıdır?

- A) 5                      B) 8                      C) 7




13. Sınıfımızdaki 3 pencereye 24 bayrağı eşit olarak paylaştıracağız. Buna göre her pencereye kaç bayrak düşer?

- A) 7                      B) 8                      C) 9

14. Aşağıdaki işlemlerin hangisinin sonucu **yanlıştır?**

- A)  $15:3 = 5$   
B)  $17 \times 3 = 51$   
C)  $36 + 24 = 50$

(Bir kırtasiyede bir günde satılan kalem, defter ve silgilerin sayısı aşağıdaki tabloda verilmiştir.)

Kırtasiyede Satılan Ürünler	
Ürün Adı	Ürün Sayısı
Kalem	
Silgi	
Defter	

Not: 15 ve 16. Soruyu yukarıdaki şekle göre yapınız.

15. Kırtasiyeci 5 günde kaç silgi satar?

- A) 13                      B) 40                      C) 45

16. Ekrem öğretmen kırtasiyede üç günde satılan kalem sayısı kadar kalem satın alıp dört öğrencisine eşit bir şekilde paylaştırıyor. Her öğrenciye kaç kalem düşer?

- A) 4                      B) 5                      C) 6



17. Yanda analog saate belirtilen vakitten 5 saat sonraki saat aşağıdakilerden hangisi ile **gösterilemez**?



A) 19:30      B) 7:30      C) 7:00

18. Pazar alışverişi için 50 TL ile pazara çıkan Ayşe Teyze, pazarda 37 lira 75 kuruş harcıyor. **Ayşe Teyzenin cüzdanında kalan para ne kadardır?**



19. Aşağıda belirtilen ifadelerden doğru olanlara “D” yanlış olanlara “Y” yazılırsa **doğru-yanlış sıralaması nasıl olur?**

( ) 8 eş çeyrek 2 bütündür.

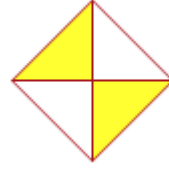
( ) Bir bütün üç eş çeyrekten küçüktür.

( ) 2 eş yarım 4 çeyrek olur.

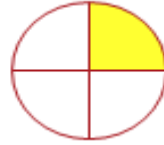
A) D-Y-D      B) Y-Y-D      C) D-D-Y

20. Aşağıdaki seçeneklerden hangisi yarımı **göstermez**?

A)



B)



C)



## Cevap Anahtarı

1. C
2. B
3. B
4. A
5. A
6. C
7. B
8. C
9. A
10. A
11. C
12. C
13. B
14. C
15. B
16. C
17. C
18. A
19. A
20. B



Ağız ve diş sağlığını korumak için senede bir defa kontrole giderim.

1. Bilge senede bir defa kime gitmektedir?

- A) Diş hekimi
- B) Hemşire
- C) Göz Doktoru



Kışın toplanan ıspanakla yazın toplanan arasında vitamini açısından fark saptanmıştır.

2. Haberleri dinleyen Tülay, dinlediği haberler ile ilgili aşağıdakilerden hangisine ulaşır?

- A) Ispanak Yememeliyiz.
- B) Bütün meyve ve sebzeleri tüketmeliyiz.
- C) Mevsim dışında yetişen sebzeler daha yararlıdır.

3. Aşağıdaki ifadelerden hangisi yanlıştır?

- A) Mevsiminde yetişen meyve ve sebzeler hem daha sağlıklı, hem daha lezzetlidir.
- B) doğal olarak yetiştirilen sebze ve neyveler daha lezzetli olurlar
- C) Mevsiminde alınan meyve ve sebzeler, fiyat olarak daha pahalıdır.

4.

- 1 Meslekler belli bir eğitim alınarak edinilir.
- 2 Dürüstçe yapılan her iş ve meslek aynı derecede saygındır.
- 3 Bazı iş ve meslekler gereksizdir.
- 4 Severek yapılan iş ve mesleklerde daha başarılı olunur.



Mesleklerle ilgili verilen bilgilerden hangileri doğrudur?

- A) 2 , 3
- B) 1 , 2, 4
- C) 1, 2, 3, 4

5.

karalahana

havuç

karnabahar

bal kabağı



Arzu

Yukarıda verilen sebzelerden kaç tanesi kış sebzesidir?

A) 2

B) 3

C) 4

6.



Çiğdem

Bu mevsimde karpuz, kiraz, şeftali gibi meyveler bol ve tazedir.

Çiğdem, aşağıdakilerden hangisini giyerse mevsime göre giyinmiş olur.

A)



B)



C)



7.



Yukarıdaki giysiler hangi mevsimde giyilmelidir?

A) Kış

B) Yaz

C) Sonbahar

8. Aşağıdakilerden öğrencilerden hangisi yaz mevsimindedir?

A)



Dedemin bahçesindeki kiraz ağacı meyve vermeye başladı.

B)



Annem, pazardan aldığı ıspanak ile börek yaptı.

C)



Ninem bahçesinden pırasa topladık.

9.



Yukarıdaki giysiler hangi mevsimde giyilmelidir?

A) Kış

B) Yaz

C) Sonbahar

10. Aşağıdakilerden hangisi yağışlı havalarda giyilmesi gereken kıyafetlerdendir?

A) yağmurluk

B) şort

C) terlik

11.



Yukarıdaki öğrencilerden hangileri yemek yerken görgü kurallarına uymaktadır?

- A) Yanlız Hale
- B) Hale ve Buse
- C) Sinan ve Buse

12.

Ayşe yemek yerken uyulması gereken görgü kuralları ile ilgili bilgi kartları



hazırlıyor.

Ayşe hangi numaralı karta hatalı bilgi yazmıştır.

- A) 1
- B) 2
- C) 3

13. Can kardeşi Melis'e yemek yerken uyulması gereken görgü kurallarını öğretiyor.

Can aşağıdakilerden hangisini Melis'e söylemez.

- A) Çatal, bıçak ve kaşık kullanmalısın
- B) Ellerinle yemek yemelisin
- C) Yiyecekleri yerken ağzını kapatmalısın

14. Aşağıdakilerden hangisi yemek yerken uyulması gereken görgü kurallarındandır?

- A) Masaya yaslanarak yemek yemeliyiz.
- B) Yemekte hoş olmayan konular konuşmalıyız.
- C) Yiyebileceğimiz kadar yemek almalıyız.

15. aşağıdakilerden hangisi doğru değildir?

- A) Yemekte çatal, bıçak, kaşık peçete kullanmakla temizlik ve görgü kurallarına uymuş oluruz.
- B) Ağızda yemek varken konuşmak doğru değildir ama gülebiliriz.
- C) Yemeği yapana " eline sağlık ! " demekle, onun emeğine saygımızı göstermiş oluruz.





Ağzımızda yemek  
varken konuşursak  
...

16. Sevgi'nin tümcesini hangisi doğru olarak tamamlamaz.

- A) Sesimizi kimse duymaz.
- B) Çiğnediklerimizi görenler için hoş olmaz.
- C) Yiyecek parçaları etrafa saçılabilir.

17. Emre, yemeğin tuzsuz olduğunu görüp tuzluğa almak istemiştir. Ancak tuz masanın diğer ucundadır.

Buna göre Emre nasıl davranmalıdır?

- A) Masada tuza uzanmalıdır.
- B) Kalkıp masanın diğer ucundan almalıdır.
- C) Tuzluğa yakın duran kişiden istemelidir.

18.

- ❖ Aslı, sürahiden su içiyor.
- ❖ Meltem herkes ile birlikte sofraya oturuyor ve kalmak istediğinde izin istiyor.
- ❖ Hatice, yemek masasında otururken ayağını karşıdakinin ayağına kadar uzatıyor.

Buna göre hangisi görgü kurallarına uymaktadır?

- A) Aslı      B) Meltem      C) Hatice

19.

Bilgisayar oyunu ..... tir.

Yemek yemek .....tir.

Yukarıdaki cümlelere sırayla hangisi yazılmalıdır.

- A) İhtiyaç – İstek
- B) İstek - İhtiyaç
- C) İhtiyaç - İhtiyaç

20. Aşağıdakilerden hangisi doğrudur.

- A) Evimizdeki kuralları annemiz ve babamız belirlemelidir.
- B) Evimizde uygulanacak kurallar belirlenirken herkesin görüşü alınmalıdır.
- C) Evimizdeki kuralları babamız belirlemeli , herkes uymalıdır.

## Cevap Anahtarı

1-A

2-B

3-C

4-B

5-C

6-B

7-B

8-A

9-A

10-A

11-B

12-A

13-B

14-C

15-B

16-A

17-C

18-B

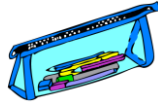
19-B

20-B

## NUMBERS

A) Answer the questions. (Soruları cevaplayalım.)

1) What is this?



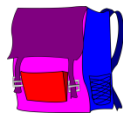
This is a -----

2) What is this?



This is a -----

3) What is that?



-----

4) What is this?



-----

5) What is that?



-----

6) What is this?



-----

B) Look at the pictures and answer the question.

(Resimlere bakalım ve soruları cevaplayalım.)

1. How many tables are there?



.....

.....

2. How many rulers are there?

.....



...

3. How many books are there?

.....





4. How many pencils are there?




.....

C) Answer the questions. (Soruları cevaplayalım.)

1) How old are you?   
.....


2) How old are you?   
.....

3) How old are you?   
.....  
.....

4) Verilen rakam hangisidir?

8 a) three b) eight c) seven

5) Aşağıdaki resme uygun ifade

hangisidir? 

a) four crayons b) three crayons  
c) five crayon

### *Answer Key(Cevap Anahtarı)*

*A) Answer the questions. (Soruları cevaplayalım.)*

- 1) This is a **pencilcase**.*
- 2) This is **a notebook**.*
- 3) **That is a schoolbag***
- 4) **This is a book***
- 5) **That is a pencil**.*
- 6) **This is a pencilsharpener**.*

*B) Answer the question. (Soruları cevaplayalım.)*

- 1. **One table / a table***
- 2. **Five rulers***
- 3. **Three books***
- 4. **Six pencils**.*

*C) Answer the questions. (Soruları cevaplayalım.)*

- 1. **I'm three years old**.*
- 2. **I'm five years old**.*
- 3. **I'm seven years old**.*
- 4. **B***
- 5. **C***

**ÇALIŞMADA EMEĞİ GEÇEN ÖĞRETMENLERİMİZ**

Ekrem AYBEK, Hasan YILMAZ,  
Seda AYDINLI, Kasım AYDIN