

2.Sınıf

# Haftalık Ödev

14-18 HAZİRAN



**SIİRT**  
İL MİLLÎ EĞİTİM MÜDÜRLÜĞÜ

[www.  
siirt.meb.gov.tr](http://www.siirt.meb.gov.tr)



Küçük Mustafa tertemiz bir çocuktur. Altın saçlı, mavi gözlü bu çocuğu herkes severdi. Komşuları, “Zübeyde Hanım’ın oğluna bakın, ne temiz giyiniyor.” derlerdi. Küçük Mustafa’nın en sevdiği şey, bahçede bulunan dut ağacına çıkmaktır.

**İlk 3 soruyu metne göre cevaplayınız.**

**1. Yukarıdaki metinde Mustafa ile ilgili hangi bilgi çıkarılamaz?**

- A) Matematik dersini çok sevmektedir.
- B) Temiz ve bakımlı bir çocuktur.
- C) Sarı saçlı, mavi gözlü bir çocuktur.

**2. Yukarıdaki metnin konusu aşağıdakilerden hangisidir?**

- A) Mustafa Kemal’in eğitim hayatı
- B) Mustafa Kemal’in çocukluğu
- C) Kurtuluş Savaşı

**3. Mustafa’nın hangi özelliği komşularının dikkatini çekmiştir?**

- A) Dut ağacına çıkması
- B) Mavi gözlü oluşu
- C) Temiz ve bakımlı olması

Nuray bu akşam odasında temizlik yaptı.

**4. Yukarıdaki cümlede hikâyenin unsurlarından olan **zaman ve olay** sırasıyla aşağıdakilerden hangisidir?**

- A) Bu akşam – Ders çalışmak
- B) Nuray - Odada
- C) Bu akşam – Temizlik yapmak

**5. Aşağıdaki cümlelerin hangisinde **eş anlamlı** kelimeler bir arada kullanılmıştır?**

- A) Al yanaklı, kırmızı ceketli birisini arıyorum.
- B) Ödevimi zamanında yaparım.
- C) Yaz kış demeden çalışır.

**6. Aşağıdaki cümlelerin hangisinde “neden?” sorusunun cevabı **yoktur**?**

- A) Komşuların gürültüsünden uyuyamadım.
- B) Para kazanmak için çalışıyor.
- C) Dikkatli olursan başarılı olursun.

Minik serçe güzeldi, hoştu, çok tatlı ve cana yakındı. Âma kötü bir huyu vardı: Yalancının biriydi.

Bu kötü huyu yüzünden bütün arkadaşlarını kaybetmişti. Günlerden bir gün Minik serçe yuvasından havalandı. Uçtu uçtu, yükseklerle çıktı...

7. Yukarıdaki metne göre, minik serçenin bütün arkadaşlarını kaybetmesinin sebebi nedir?

- A) Arkadaşlarından ayrılması
- B) Yalan söylemesi
- C) Cana yakın olması

Atatürk, çocuklardan Belkıs( ) ı kucağına aldı( ) Belkıs ise ilgisini Atatürk'ün yanında getirdiği köpeğine yöneltmişti. Atatürk:  
- Beni mi seviyorsun, yoksa köpeği mi ( )?

8. Paragrafta ( ) ile belirtilen yerlere sırasıyla hangi noktalama işaretleri konmalıdır?

- A) ( , ) ( , ) ( . )
- B) ( ' ) ( , ) ( . )
- C) ( ' ) ( . ) ( ? )

Evcil hayvanların birçok yararı vardır.  
**Örneğin** besin elde etmek, güvenliği sağlamak, yük taşımak...

9. Yukarıdaki paragrafta altı çizili kelimenin kullanım amacı aşağıdakilerden hangisidir?

- A) Karşılaştırma yapmak
- B) Sebep göstermek
- C) Açıklama yapmak

gördü-  
klerim

gü-  
zellik

gelir-  
ken

10. Yukarıdaki kelimelerden hangisinde alt satıra geçerken yanlış ayrılmıştır?

- A) Gördüklerim
- B) Güzellik
- C) Gelirken

11. "Aynı işten bir kere zarar gören kişi ikinci sefer daha dikkatli olur."

Anlamına gelen atasözü aşağıdakilerden hangisidir?

- A) Akla gelmeyen başa gelir.
- B) Ava giden avlanır.
- C) Sütten ağzı yanan yoğurdu üfleyerek yer.



Umut

“ Büyük pastayı, yuvarlak  
tabağa koydu.”

12. Umut’un cümlesinde **varlığın**  
**özelliğini** belirten kelimeler  
hangisidir?

- A) büyük – yuvarlak
- B) pasta – tabak
- C) büyük – pasta

13.



Aşağıdaki ifadelerden  
hangisi doğrudur?

- A) Tarihlerin yazımında gün, ay, yıl  
sayılarının arasına nokta konur.
- B) Tümcelerın sonuna her zaman  
nokta konur.
- C) Özel adlara gelen ekler bitişik  
yazılır.



Ali

Yolculuğunuz sırasında  
Sinoptan sonra Tokat’a da  
uğrayacak mısınız?



Ömer

Yolculuğunuz sırasında  
Sinoptan sonra Tokat’a da  
uğrayacak mı siziz?



Murat

Yolculuğunuz sırasında  
Sinop’tan sonra Tokat’a da  
uğrayacak mısınız?

14. Yukarıdaki öğrencilerin yazdığı  
cümlelerden hangisi yazım ve  
noktalama bakımından **doğrudur**?

- A) Ali
- B) Ömer
- C) Murat

Derse – bugün – teneffüs – kaldım –geç

15. Yukarıda yazılı kelimelerinden  
anamlı bir cümle oluşturursak hangi  
kelime **kullanılmaz**?

- A) derse
- B) bugün
- C) teneffüs

16. Ocak kelimesi aşağıdaki hangi cümlede **farklı** anlamda kullanılmıştır?

- A) Bu sene ocak ayında çok kar yağdı.
- B) Ablam ocakta yemeği unutunca dibine tutmuş.
- C) Yılın ilk ayı ocaktır.

17. “**Diz**” kelimesi aşağıdaki hangi cümlede vücudumuzun bir parçası anlamında kullanılmıştır?

- A) Azra yıkadığı bardakları rafa dizdi.
- B) Kenan oyunda taşları üst üste dizdi.
- C) Hasip bisikletten düşünce dizi kanadı.



18. Fatma'nın cümlesinde **kaç tane yazım ve noktalama yanlış** vardır?

- A) 4
- B) 3
- C) 2

"Ebru yüzüne krem sürdü."

19. Aşağıdaki hangi cümledeki **yüz** kelimesi yukarıdaki cümledekiyle aynı anlamdadır?

- A) Berat, Ömer'in yüzüne tokat attı.
- B) Esra yüz kere ip atladı.
- C) Miray'ın babası kurbanlık koyunu yüzdü.

- 1- Annem gidip açtı.
- 2- Çok gürültü yaptığımızı söyledi.
- 3- Gürültüyle oynarken kapının zili çaldı.
- 4- Gelen ev sahibimizdi.
- 5- Kendimizi suçlu hissettik.

20. Yukarıdaki olayların oluş sırasına göre sıralaması hangi seçenekte verilmiştir?

- A) 3-4-1-5-2
- B) 3-1-4-2-5
- C) 1-3-2-4-5

## **Cevap Anahtarı**

**1-A**

**2-B**

**3-C**

**4-C**

**5-A**

**6-C**

**7-B**

**8-C**

**9-C**

**10-A**

**11-C**

**12-A**

**13-A**

**14-C**

**15-C**

**16-B**

**17-C**

**18-A**

**19-A**

**20-B**

1. Yanda verilen işlemlere göre,

**□ + 44 = 82**  
**74 - ○ = 40**

$$74 - \bigcirc = 40$$


 ve 'nin farkı kaçtır?

- A) 72                      B) 4                      C) 62

2. Benim yaşıma en yakın olduğu onluğa yuvarlarsak yetmiş oluyor. **Diyen biri aşağıdakilerden hangisi olabilir?**

- A)



3. Yanda verilen görselin simetrisi, aşağıdakilerden hangisidir? 



- A)  B)  C)



4. Enes her gün 12 soru çözmektedir.  
Enes bir haftada kaç soru çözer?

- A) 84                      B) 19                      C) 74

5. Aşağıdaki seçeneklerin hangisinde “güz” mevsiminin ayları doğru verilmiştir?

- A) Ekim, Kasım, Aralık  
B) Eylül, Ekim, Kasım  
C) Ağustos, Eylül, Ekim



6. Yukarıdaki dede torun konuşmasına göre, **okulların açılmasına kaç gün kalmıştır?**

- A) 35                      B) 44                      C) 47

7. Yandaki çıkarma işlemine göre,

verilmeyen sayı kaçtır?

- A) 31                      B) 23                      C) 54

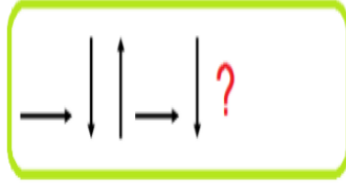


8. Yanda verilen ardışık çıkarma işlemi ile ilgili, aşağıdakilerden hangisi söylenemez?

$$\begin{array}{r} 12 - 3 = 9 \\ 9 - 3 = 6 \\ 6 - 3 = 3 \\ 3 - 3 = 0 \end{array}$$

- A) Bölüm bölenden fazladır.  
B) Bölen sayı 3'tür.  
C) Bölünen ile bölümün toplamı 15'tir

9. Yanda verilen örüntüye göre, soru işareti yerine hangisi gelmelidir?



- A)  $\longrightarrow$  B)  $\uparrow$  C)  $\downarrow$

10.



Yukarıda öğrencilerin verdiği bilgilere göre, üçünün kalemлeri toplamı kaçtır?

- A) 42 B) 45 C) 54

11. Yanda verilen işlemin sonucunun iki basamaklı bir sayı olduğu biliniyor.

$$93 + \text{●}$$

Buna göre ● 'nin değeri aşağıdakilerden hangisi olamaz?

- A) 5 B) 6 C) 7

12.



Yukarıdaki nesnelerin uzunluğu ile ilgili, verilen bilgilerden hangisi yanlıştır?

- A) Silgi ile açacağıın uzunlukları toplamı 5 cm'dir.  
B) Kalemın uzunluğu 9 cm'dir.  
C) Kalem açacıktan 8 cm uzundur.



13. Yukarıdaki tabloda verilen bilgileri "DOĞRU YANLIŞ" şeklinde yazarsam tablonun görünümü nasıl olur.

- A) B) C)





14. “2 ve 6” rakamlarını kullanarak yazılabilecek **en büyük ve en küçük** sayıların farkı kaç olur?

- A) 4                      B) 88                      C) 36

15. Yandaki şekli saat yönünde 3 çeyrek tur döndürürsek, **yeni şekil** nasıl olur?



A)



B)



C)



16. Aşağıdakilerden kaç tanesini **metre** ile ölçeriz?

- Ağacın boyu
- Evimizin duvarı
- Buzdolabı
- Silgi
- Kitap
- Sınıfımızın genişliği
- Kalemimizin uzunluğu

- A) 6                      B) 5                      C) 4

17.



Yukarıda belirtilen her ağacın arasında 3 metre uzaklık vardır.

Buna göre, ilk ve son ağaç arasında kaç metre uzaklık vardır?

- A) 18                      B) 21                      C) 15

18. Fatma Öğretmen evde yaptığı 20 keki 5 öğrencisine paylaşmak istiyor. Her bir öğrencisine kaç kek düşer?

- A) 3                      B) 4                      C) 5

Aşağıda bir çiftlikte bulunan hayvanların sayısı çetele tablosunda gösterilmiştir.

Çetele Tablosu	
Hayvan Türü	Hayvan Sayısı
Köpek	
Kedi	
Tavuk	
Koyun	

(Not: 19 ve 20. Soruları verilen çetele tablosuna göre cevaplayınız.)

19. Tabloda verilen bilgilere göre, aşağıdakilerden hangisi söylenemez?

- A) Çiftlikte bulunan tavukların sayısı köpeklerden fazladır.
- B) Bu çiftlikte 56 hayvan bulunur.
- C) Bu çiftlikte 12 koyun vardır.

20. Tabloda bulunan tavukların, toplam kaç ayağı vardır?

- A) 44
- B) 88
- C) 40

## C e v a p   A n a h t a r ı

- 1.B
- 2.A
- 3.B
- 4.A
- 5.B
- 6.C
- 7.A
- 8.C
- 9.B
- 10.B
- 11.C
- 12.C
- 13.A
- 14.C
- 15.B
- 16.C
- 17.A
- 18.B
- 19.C
- 20.A

I. Sınıfa girerken geç kalmışsam  
özür dilerim.

II. Koridorlarda koşturam.

III. Okul bahçesine çöp atmam.

IV. Söz almadan konuşurum.

V. Okula zamanında gelirim.

**1. Sınıf panosuna okul kuralları  
yazılırken yazılmaması gereken  
kural veya kurallar aşağıdakilerden  
hangisidir?**

A) I ve III

B) II ve V

C) IV

**2. Fiziksel ve bireysel  
farklılıklarımıza saygı duyarsak  
arkadaşlarımız ile aramızda  
aşağıdakilerden hangisi olur?**

A) Tartışma

B) Paylaşım

C) Bencillik

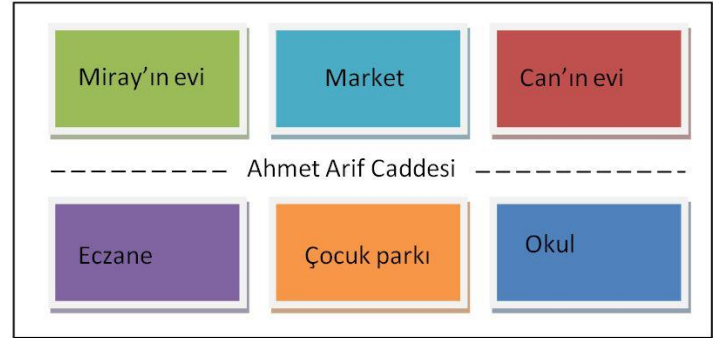


**3. Miray'ın söylediği cümlede boş  
bırakılan yere aşağıdakilerden  
hangisi getirilirse aile içi  
demokrasiye örnek verilebilir?**

A) kıyafetlerime

B) fikirlerime

C) temizliğime



**4. Yukarıdaki krokiye göre Miray'ın  
evine en uzak olan aşağıdakilerden  
hangisidir?**

A) Can'ın evi

B) Market

C) Okul



İzlediğim film bitince  
televizyonu kapatırım.

Ömer

**5. Ömer için aşağıdakilerden hangisi söylenebilir?**

- A) Aile bütçesini düşünen
- B) İsraf eden
- C) Savurgan

Planlı olmak

Acelecilik olmak

Sabırlı olmak

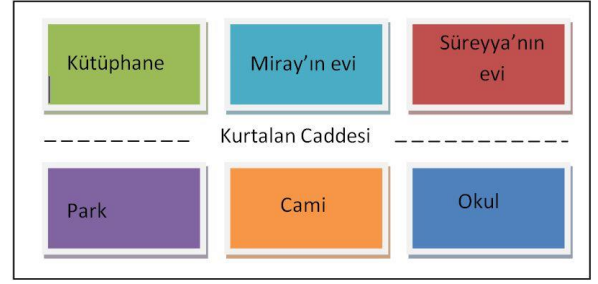
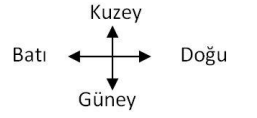
Çalışkan olmak

**6. Başarılı olabilmek için yukarıda söylenenlerden kaç tanesine sahip olmak gereklidir?**

- A) 2
- B) 3
- C) 4

**7. İhtiyacımızdan daha fazla besin alırsak aşağıdaki sorunlardan hangisi ile karşılaşırız?**

- A) sağlıklı oluruz
- B) şişmanlarız
- C) zayıflarız



**8. Krokiye göre aşağıda verilen bilgilerden hangisi yanlıştır?**

- A) Süreyya'nın evi, Miray'ın evinin doğusundadır.
- B) Park, caminin batısındadır.
- C) Kütüphane, parkın güneyindedir.

**Can:** Geç saatlerde yatağa geçip tablette oyun oynarım.

**Seher:** Annemin telefonu şarjda iken de kullanırım.

**Baran:** Bilgisayarda çalışırken yiyecek ve içecekleri yememeye çalışırım.

**9. Yukarıdaki çocuklardan hangisi elektrikli aletleri güvenlik kurallarına uygun kullanmaktadır?**

- A) Can
- B) Seher
- C) Baran

**10. Hangisi toplu taşıma aracı değildir?**

- A)
- B)
- C)

11. Hırsızlık olayı olduğunda aşağıdakilerden hangisini aramalıyız?

- A)  B)  C) 

12. Hava çok sıcak olur. Karpuz ve kavun en çok bu mevsimde yetişir. İnsanlar serinlemek için denize girer.

Ben ..... mevsimiyim.

Yukarıda boş bırakılan yere aşağıdaki sözcüklerden hangisi gelmelidir?

- A) Sonbahar B) İlkbahar C) Yaz

I. Ülkemizin üç tarafı denizler ile kaplıdır

II. Ülkemizin en büyük gölü Van Gölü'dür

III. Ankara'nın denize kıyısı vardır.

IV. İzmir yurdumuzun en çok nüfusa sahip ilidir.

13. Ülkemiz ile ilgili verilen bilgilerden hangisi veya hangileri yanlıştır?

- A) I ve III  
B) II ve IV  
C) III ve IV

14.



Hasan

- Benim yaşadığım şehir ülkemizin başkentidir.
- TBMM benim yaşadığım şehirdedir.

Hasan'ın verdiği bilgilere göre Hasan hangi şehirde yaşamaktadır?

- A) İstanbul  
B) Ankara  
C) Siirt

15.



**Canan;** canlıların korunması ilgili bir konu hazırlamaktadır. Yukarıda numaralandırılmış görsellerden hangisini **olumsuz** bir örnek olarak kullanabilir?

- A) 1  
B) 2  
C) 3



16.

Çivi - Gazete - Plastik bardak –  
Domates - Kitap

**Yukarıda verilenlerden kaç tanesini  
geri dönüşüm için kullanabiliriz?**

- A) 5      B) 4      C) 3

17. Havadaki su buharının , sıcaklığın etkisi ile su damlacıklarına dönüşerek yeryüzüne ..... olarak düşer.

**Verilen cümlede boş bırakılan yere  
aşağıdakilerden hangisi gelmelidir?**

- A) kar  
B) dolu  
C) yağmur

18. Dünyanın kendi etrafında bir kez dönmesi sonucunda aşağıdakilerden hangisi gerçekleşmektedir?

- A) bir gün  
B) bir yıl  
C) bir mevsim

19.



Benim pencerem  
sabahları çok ışık alıyor.

**Ali'nin verdiği bilgiye göre Ali'nin  
penceresi hangi yöne bakmaktadır?**

- A) Kuzey    B) Güney    C) Doğu

20.

Sel	Trafik Kazası	Çığ
Erozyon	Tsunami	Kasırga

**Yukarıda verilenlerden hangisi doğal  
afet değildir?**

- A) Tsunami  
B) Trafik Kazası  
C) Çığ

## **Cevap Anahtarı**

**1-C**

**2-B**

**3-B**

**4-C**

**5-A**

**6-B**

**7-B**

**8-C**

**9-C**

**10-C**

**11-A**

**12-C**

**13-C**

**14-B**

**15-C**

**16-B**

**17-C**

**18-A**

**19-C**

**20-B**

1. What is it?

- A- A dog
- B- A cat
- C- A bird



2. How many fish are there?



- A- four
- B- seven
- C- five

3. Is it a rabbit?

- A- It is a
- B- Yes, it is.
- C- No, it isn't.



mouse.

4. Hello! I'm a

- A- duck
- B- turtle
- C- rabbit



.....

5. Where is the dog?

- A- It is on the box.
- B- It is in the box.
- C- It is under the box.



8. This is a .....

- A- rabbit
- B- mouse
- C- parrot



9. Aşağıdaki kelimelerin hangisi

DOĞRU yazılmıştır?

- A- mause
- B- brid
- C- turtle



10. How many dogs are there?

- A- There are three dogs.
- B- There is three dog.
- C- There are three dog.

11. Hello! My name is Jerry. I'm a

.....

- A- parrot
- B- turtle
- C- mouse



12. Where is the cat?



A- It is in the chair.

B- It is under the table.

C- It is under the chair.

13. Boşluğa aşağıdakilerden hangisi getirilmelidir?

- .....?

- It is a hamster.

A- Where is the hamster?

B- What is it?

C- Is it a hamster?

14. - Where is the mouse?

- It is ..... the box.

A- on

B- in

C- under



15. -

.....?

- It is in the cage.

A- How many birds?

B- Where is the bird?

C- What is this?



## Answer Key

- 1- B
- 2- A
- 3- C
- 4- B
- 5- B
- 6- A
- 7- C
- 8- A
- 9- C
- 10- C
- 11- B
- 12- A
- 13- B

### ÇALIŞMADA EMEĞİ GEÇEN ÖĞRETMENLERİMİZ

**Abdurrahman CELAN    Mehmet EKİNCİ**

**Seda AYDINLI              Ekrem AYBEK**

**Kasım AYDIN**

Bu çalışma Siirt Milli Eğitim Müdürlüğü öğretmenleri tarafından hazırlanmıştır. Emeklerinden dolayı teşekkür ederiz.