

DOĞAL SAYILAR

Sayıları Karşılaştırma ve Sıralama - Test

Ad Soyad:


Sınıf: 2/...

No: ...

Aşağıdaki soruları cevaplayınız.



- Yukarıdaki öğrencilerden hangisi 80'den büyük bir sayı söylemiştir?
A) Deniz B) Derya C) Numan
- $16 - 38 - 42 - 17 - 79$
Yukarıda verilen sayılardan en büyük ve en küçük olanı hangi seçenekte birlikte verilmiştir?
A) $16 - 42$ B) $17 - 79$ C) $79 - 16$
- Aşağıda ayrı duran ve üzerinde "?" olan yapboz parçasındaki sayı, diğerlerinde yazılı olan en küçük doğal sayıdan büyük, en büyük doğal sayıdan küçüktür. Soru işaretinin olduğu yapboz parçasındaki sayı, seçeneklerde verilenlerden hangisi olabilir?



- A) 12 B) 94
C) 63



- "74" doğal sayısından bir önce ve bir sonra gelen sayılar hangi seçenekte verilmiştir?
A) $73 - 76$
B) $70 - 75$
C) $73 - 75$

5.

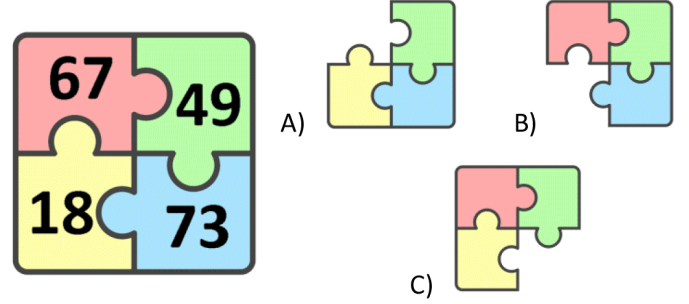


Yukarıdaki çantalardan en pahalı olan hangisidir?




- 51 ile 49 arasında hangi sayı vardır?
A) 48
B) 50
C) 52

- Aşağıdaki yapbozdan en büyük sayının yazılı olduğu parça alınırsa yapbozun görüntüsü aşağıda verilen seçeneklerden hangisindeki gibi olur?



- 51, 59, 53, 50, 55 sayılarının **büyükten küçüğe** doğru sıralanışı hangi seçenekte doğru verilmiştir?
A) $59 - 55 - 51 - 53 - 50$
B) $51 - 50 - 59 - 55 - 53$
C) $59 - 55 - 53 - 51 - 50$

9.



Hangi çocuk, söylediği sayıları **küçükten büyüğe** doğru sıralamıştır?

- A) Belkis B) Çınar C) Gökhan

10.



Ellerinde tuttıkları sayıları **büyükten küçüğe** doğru sıraladıklarında yukarıdaki çocukların en çok sevdikleri bir şeyin adı ortaya çıkıyor. Buna göre bu çocukların en sevdiği şey nedir?

- A) ALEM B) ELMA C) MEAL

- Hangi seçenekteki kuşların taşıdığı pankartta sayılar **büyükten küçüğe** doğru sıralanmıştır?

