

DOĞAL SAYILAR

Doğal Sayılar (Ritmik Sayma)

Ad Soyad:

Sınıf: 2/...

No: ...

❖ 3'er Ritmik Sayma Yapalım



➤ 3'ten başlayarak 30'a kadar 3'er ritmik sayma yapalım. 5. saymada hangi sayıyı söylediğimize dikkat edelim.



5. saymada 15 sayısını söyledik.

ETKİNLİK-1

Aşağıdaki tabloda 3'ten başlayarak 30'a kadar üçer ritmik sayınız. Sayma esnasında söylediğiniz sayıların kutularını örnekteki gibi aynı renge boyayınız. Boyadığınız kutulardaki sayıları altta boş bırakılan bölümlere yazınız.

1	2	3	4	5	6	7	8	9	10
11	12	13	14	15	16	17	18	19	20
21	22	23	24	25	26	27	28	29	30

3 - 6 - - - - - - -

Aşağıdaki tabloda 2'den başlayarak 29'a kadar üçer ritmik sayınız. Sayma esnasında söylediğiniz sayıların kutularını örnekteki gibi aynı renge boyayınız. Boyadığınız kutulardaki sayıları altta boş bırakılan bölümlere yazınız.

1	2	3	4	5	6	7	8	9	10
11	12	13	14	15	16	17	18	19	20
21	22	23	24	25	26	27	28	29	30

2 - 5 - - - - - - -

Aşağıdaki tabloda 1'den başlayarak 28'e kadar üçer ritmik sayınız. Sayma esnasında söylediğiniz sayıların kutularını örnekteki gibi aynı renge boyayınız. Boyadığınız kutulardaki sayıları altta boş bırakılan bölümlere yazınız.

1	2	3	4	5	6	7	8	9	10
11	12	13	14	15	16	17	18	19	20
21	22	23	24	25	26	27	28	29	30

1 - 4 - - - - - - -


ETKİNLİK-2

30'dan başlayarak geriye doğru 0'a kadar üçer ritmik sayınız.

30 - 27 - - - - - - -

ETKİNLİK-2

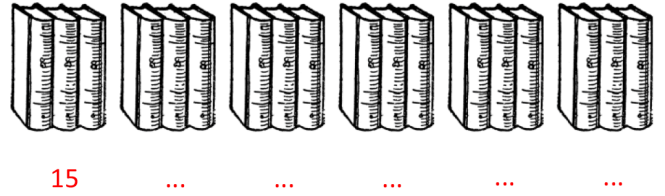
Vazolardaki çiçekleri üçer ritmik sayma yaparak altlarındaki boşlukları uygun sayılarla doldurunuz.



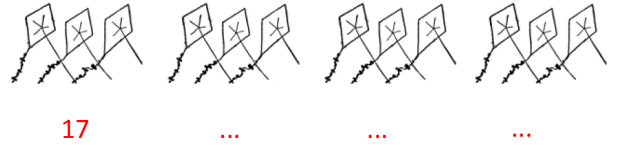
ETKİNLİK-3

Görsellerin altındaki üçer ritmik saymaları devam ettiriniz.

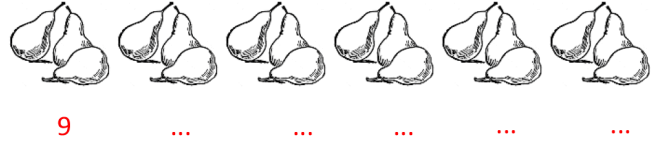
a.



b.



c.



ETKİNLİK-4

Aşağıdaki görsellerde eksik bırakılan sayıları **geriye doğru** üçer ritmik sayma ile devam ettiriniz.

a.



Aşağıda görsellerde eksik bırakılan sayıları **geriye doğru** üçer ritmik sayma ile devam ettiriniz.

b.

