

DOĞAL SAYILAR

Sayı Örüntüleri


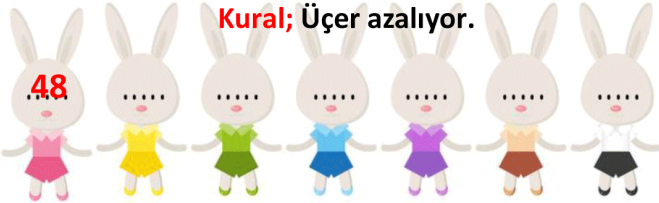
Ad Soyad:

Sınıf: 2/...

No: ...


ETKİNLİK-1

Birinci tavşanda yazan sayıdan başlayarak **verilen kurala göre** örüntüleri devam ettiriniz.



ETKİNLİK-2

Aşağıda verilen sayı örüntülerinde kuralı bozan sayının bulunduğu güneşi sarıya boyayınız.



ETKİNLİK-3

Tablonun üst tarafında verilen örüntülerin kuralını bulup altına aynı kurala uygun yeni örüntüler oluşturunuz.

8 – 10 – 12 – 14 – 16 – 18 – 20 – 22 – 24 – 26 – 28 – 30

Kural;

42 – – – – – – – – – –

14 – 19 – 24 – 29 – 34 – 39 – 44 – 49 – 54 – 59 – 64 – 69

Kural;

27 – – – – – – – – – –

19 – 22 – 25 – 28 – 31 – 34 – 37 – 40 – 43 – 46 – 49 – 52

Kural;

1 – – – – – – – – – –

58 – 56 – 54 – 52 – 50 – 48 – 46 – 44 – 42 – 40 – 38 – 36

Kural;

74 – – – – – – – – – –