

DOĞAL SAYILAR

Doğal Sayılar (Ritmik Sayma)

Ad Soyad:


Sınıf: 2/...

No: ...


❖ 10'ar Ritmik Sayma Yapalım

ETKİNLİK-1

Aşağıdaki dönme dolapların kabinlerini 10'ar 10'ar sayarak yazınız.




.....



.....


ETKİNLİK-2

Aşağıdaki uğur böceklerinin onar onar sayımında eksik bırakılan saymaları tamamlayınız.



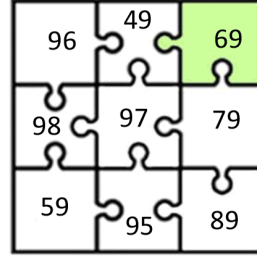
ETKİNLİK-3

Aşağıdaki onar sayılarda eksikleri tamamlayınız.

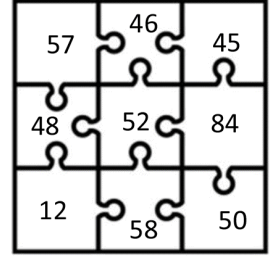


ETKİNLİK-4

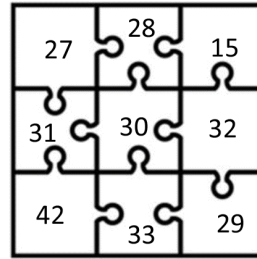
Yapbozların altındaki yönergelere göre uygun parçayı bulup örnekteki gibi boyayınız.



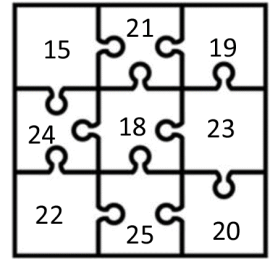
99'dan başlayıp **geriye doğru** onar sayarken **4.** olarak söylenen sayı



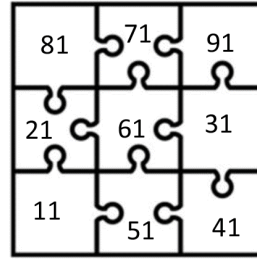
8'den başlayıp **ileriye doğru** onar sayarken **5.** olarak söylenen sayı



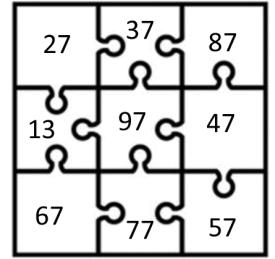
12'den başlayıp **ileriye doğru** onar sayarken **3.** olarak söylenen sayı



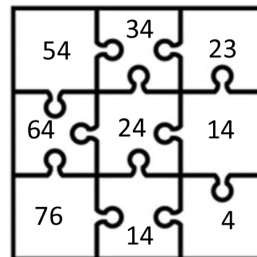
35'ten başlayıp **geriye doğru** onar sayarken **2.** olarak söylenen sayı



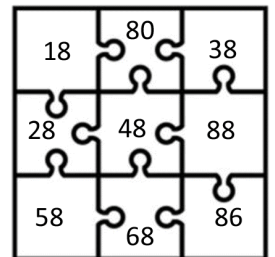
21'den başlayıp **ileriye doğru** onar sayarken **5.** olarak söylenen sayı



7'den başlayıp **ileriye doğru** onar sayarken **6.** olarak söylenen sayı



84'den başlayıp **geriye doğru** onar sayarken **6.** olarak söylenen sayı



98'den başlayıp **geriye doğru** onar sayarken **5.** olarak söylenen sayı