

SAYILAR VE İŞLEMLER

Doğal Sayılar

Ad Soyad:

Sınıf: 2/...


No: ...

❖ Nesne Sayısını Belirleyelim

ETKİNLİK-1

Aşağıdaki varlıkları sayınız. Varlık sayılarını alttaki kutuya yazınız.

a.




...

b.




...

c.



...

d.




...

ETKİNLİK-2

Tablo içindeki varlıkları sayınız. Her gruptaki varlıktan yanında belirtilen sayı kadarını boyayınız.


a.




b.



c.



d.



e.

