


❖ Nesne Sayısını Belirleyelim

ETKİNLİK-1

Aşağıda verilen nesnelerin sayılarını örnekteki gibi yazınız.




Rakamla; 24

Yazıyla; yirmi dört




Rakamla;

Yazıyla;



Rakamla;


Yazıyla;



Rakamla;

Yazıyla;


ETKİNLİK-2



Yandaki nesnelerin kaçar tane olduklarını sayıp ilgili kutuya yazınız.



Yandaki nesnelerin kaçar tane olduklarını sayıp ilgili kutuya yazınız.



Yandaki nesnelerin kaçar tane olduklarını sayıp ilgili kutuya yazınız.

