

Adı Soyadı.....No:.....

1) Aşağıdakilerden hangisi toplu taşıma aracıdır?

A) otobüs B) otomobil C) traktör

2) Samsun'dan İstanbul'a deniz yoluyla gitmek isteyen Meral, hangi ulaşım aracına binmelidir?

A) tramvay B) uçak C) gemi

3) Aşağıdaki ulaşım araçlarından hangisi diğerlerinden farklıdır?

A) otomobil B) kamyon C) tramvay

4) Aşağıdakilerden hangisi hava taşıtlarından birisi değildir?

A) helikopter B) uçak C) vapur

5) Aşağıdaki seçeneklerde taşıtlar ve sürücüleri eşleştirilmiştir. Hangi seçenekteki eşleştirme yanlıştır?

A)  Şöför

B)  Pilot

C)  Kaptan




6) Aşağıdakilerden hangisi deniz yolu taşıtı değildir ?

A) vapur B) kayık C) zeplin

7) Aşağıdaki taşıtlardan hangisi diğerlerinden farklıdır?

A) tramvay B) tren C) tır

8) Aşağıdakilerden hangisi zeplindir?

A)  B) 
C) 

9) Aşağıdaki davranışlardan hangisi trafikte yapılmaması gereken bir davranıştır?

A) Yayaların kaldırımda yürümesi.
B) Araçların yeşil ışıkta geçmesi.
C) Yol boş olduğunda kırmızı ışıkta geçmek.

10) Aşağıdaki seçeneklerde belirtilenlerden hangisi yanlıştır?

A) Yayalar için kırmızı ışık yanıyorsa durmalıyız.
B) Şilep, yük taşımaya yarayan bir deniz taşıdır.
C) Zeplin, kara yolu taşıdır.

11) Trafik kurallarına uymak neden gereklidir?

A) Can güvenliği açısından önemlidir.
B) İyi bir öğrenci olmak için.
C) Cezalardan kurtulmak için.

12) Aşağıdaki taşıtlardan hangisi diğerlerinden daha hızlıdır?

A) otobüs B) tren C) uçak

13) En fazla yük ve yolcu taşıyabilen ulaşım taşıtları hangisidir?

A) Kara taşıtları B) Deniz taşıtları
C) Hava taşıtları

14) En güvenli ve en ucuz ulaşım araçları hangisidir?

A) Kara taşıtları B) Deniz taşıtları
C) Demiryolu taşıtları

15) Deniz taşıtlarının yolcu ve yük indirip bindirdiği yere ne denir?

- A) Liman B) Havaalanı C) İstasyon

16) Aşağıdakilerden hangisi kara taşıtı değildir?

- A) Tır B) Tren C) Kayık

17) Demir yolu taşıtlarının yolcu ve yük indirip bindirdiği yere ne denir?

- A) Liman B) Havaalanı C) İstasyon

18) Deniz taşıtlarını kullanan kişilere ne denir?

- A) Kaptan B) Şoför C) Makinist

19) Kara taşıtlarını kullanan kişilere ne denir?

- A) Kaptan B) Şoför C) Makinist

20) Aşağıdaki taşıtlardan hangisini kullanana makinist denir?

- A) Helikopter B) Vapur C) Tren

21) Hava taşıtlarını kullanan kişilere ne denir?

- A) Kaptan B) Pilot C) Makinist

22) Hava taşıtlarının yolcu ve yük indirip bindirdiği yere ne denir?

- A) Liman B) Havaalanı C) İstasyon

23) Treni kullanan kişilere ne denir?

- A) Kaptan B) Şoför C) Makinist

24) Tramvayı kullanan kişilere ne denir?

- A) Vatman B) Şoför C) Makinist

25) Kara taşıtlarının yolcu indirip bindirdiği yere ne denir?

- A) Terminal B) Havaalanı C) İstasyon

26) Aşağıdakilerden hangisi kara taşıtı değildir?

- A) at arabası B) bisiklet C) feribot

27- Ahmet "Kara Taşıtlarını" sayarken hangi seçenekte hata yapmıştır?

- A) otomobil B) helikopter C) kamyon

28- Aşağıdakilerden hangisi bir kara taşıtıdır?

- A) Tren B) Gemi C) Helikopter

29- Otobüslerin yolcu alıp bindirdikleri yere ne denir?

- A) Liman B) Gar C) Terminal

30- Deniz taşıtlarını kullananlara ne ad verilir?

- A) Pilot B) Kaptan C) Makinist

31- Aşağıdakilerden hangisi bir hava taşıtıdır?

- A) Vapur B) Balon C) Tramvay

32- Yayalar ve sürücüler için yollara konulan işaretlere ne denir ?

- A) afiş B) trafik işaretleri C) reklam levhaları

33- Aşağıdakilerden hangisi suda çalışan taşıtlardan biridir?

- a) Kamyon b) Teleferik c) Gemi

34- Aşağıdakilerden hangisi doğru bir davranıştır?

- a) Taşıtların penceresinden elimizi, kolumuzu ve başımızı çıkarmamak.
b) Park etmiş taşıtların arasından geçmek
c) Taşıtların arkasına asılmak.

35) Trenlerin gidip geldikleri yollara ne ad verilir ?

- A) Havayolu B) Karayolu C) Demiryolu

1- Aşağıdakilerden hangisi taşıtlara bindiğimizde içeride uymamız gereken kurallardandır?

- A) Araç içinde yüksek sesle konuşmalıyız.
- B) İneceğimiz yere varmadan iniş kapısına yaklaşmalıyız.
- C) Yolculuk sırasında şoförle konuşmalıyız.

2- Aşağıdakilerden hangisi trafikte geç anlamındadır?

- A) Sarı Işık B) Yeşil Işık C) Kırmızı Işık

3- Karşıdan karşıya nasıl geçmeliyiz?

- A) Önce sola sonra sağa sonra tekrar sola bakarak
- B) Etrafımıza bakmadan
- C) Yolda koşarak geçmeliyiz

4- Trafikte (!) işaretinin anlamı nedir?

- A) Dur B) Dikkat C) Işıklı İşaret

5- Aşağıdakilerden hangisi karşıdan karşıya geçişin en güvenli olduğu yerlerden biridir?

- A) Alt ve üst geçitler
- B) Taşıtların kolay görüneceği kavşaklar
- C) Kaldırımın olmadığı yerler

6- Aşağıdakilerden hangisi trafik akışını etkiler?

- A) Hava koşulları B) Kaldırımlar
- C) Yaya geçitleri

7- Yaya kaldırımı olmayan yerlerde yolun neresinden yürümeliyiz?

- A) Ortasından B) Sağından C) Solundan

8- Trafik kazalarından korunmak için ne yapmalıyız?

- A) Emniyet kemerini takmalıyız.
- B) Bisikletlerimizi taşıt yolunda sürmeliyiz.
- C) Bisiklet kullanırken hızlı olmalıyız.

9- Aşağıdaki taşıtlardan hangisi daha çok yolcu taşır ?

- A) Otobüs B) Tren C) Taksi

10- Aşağıdakilerden hangisi tren sürücüsünün adıdır ?

- A) Pilot B) Sürücü (şoför) C) Makinist

11- Yolcular şehirler arası otobüslere nerelerde binip inerler?

- A) Otogar B) Durak C) Liman

12- Aşağıdakilerden hangisi yayaları ilgilendiren trafik işaretidir ?

- A) "yaya giremez" işareti
- B) "kaygan yol" işareti
- C) "park yapılmaz" işareti

13- Gemilerin yolcu ve yük alıp indirdikleri yere ne ad verilir ?

- A) liman B) hava limanı C) istasyon

14- Uçakların inip kalktıkları yerlere ne ad verilir?

- A) hava limanı B) gar C) terminal

15- Aşağıdakilerden hangisi taşıtlarda uymamız gereken kurallardan biridir?

- A) yüksek sesle konuşmamak
- B) sürücünün dikkatini dağıtmak
- C) pencereden dışarıyı seyretmek

16- Trafik işaret ve levhalarını niçin korumalıyız ?

- A) yolların güzel görünmesini sağlamak için
- B) kazaları önlemek için
- C) trafik polisine kuralları hatırlatmak için

17- En güvenli oyun alanları aşağıdakilerden hangisidir ?

- A) işlek yollar
- B) parklar ve çocuk bahçeleri
- C) cadde ve sokaklar

18- Otobüs, minibüs ve otomobillerin gidip geldikleri yola ne denir?

A) hava yolu B) deniz yolu C) kara yolu

19- Yolcu ve yük taşımaya yarayan araçlara ne denir?

A) trafik B) yol C) taşıt

20- Aşağıdakilerden hangisi suda çalışan taşıtlardan biridir?

A) bisiklet B) kamyon C) gemi

21- Pilot aşağıdakilerden hangisini kullanır?

A) gemi B) uçak C) kamyon

22- Pilot aşağıdaki taşıtlardan hangisini kullanır?

a) Otobüs b) Uçak c) Tren

23- Aşağıdakilerden hangisi tren sürücüsünün adıdır?

a) Makinist b) Kaptan c) Vagon

24- Aşağıdakilerden hangisi, şehirler arası otobüslerin kalkış yeridir?

a) İstasyon b) Terminal c) Durak

25- Uçakların inip kalktıkları yere ne ad verilir?

a) Gar b) Hava Yolu c) Hava limanı

26- Yolcu ve yük taşımaya yarayan araçlara ne denir?

a) Taşıt b) Trafik c) Otobüs

27- Otobüs, minibüs ve taksilerin gidip geldikleri yola ne denir?

a) Hava Yolu b) Deniz Yolu c) Kara Yolu

28- Aşağıdakilerden hangisi kara taşıtı değildir?

a) Taksi b) Kayık c) Kamyon

29- Şehir içinde çalışan otobüslere, yolcuların inip-bindiği yer aşağıdakilerden hangisidir?

a) Durak b) Otogar c) Terminal

30- Otobüs ile durak arasında bir ilişki vardır. Uçak ile aşağıdakilerden hangisi arasında böyle bir ilişki kurulabilir?

a) İstasyon b) Liman c) Hava Alanı

31- Yayalar ve sürücüler için yollara konulan işaretlere ne denir?

a) Afiş
b) Trafik işaret ve levhaları
c) Yaya Levhaları

32- Aşağıdakilerden hangisi doğru bir davranıştır?

a) Cadde ve sokaklarda, yaya kaldırımlarından yürümeliyiz.
b) Işıklı kavşaklarda, kırmızı ışıpta geçmeliyiz.
c) İşaretlerin bulunmadığı yerlerde, yolun ortasından karşıya geçmeliyiz.

33- Trenlerin gidip-geldikleri yollara ne denir?

a) Kara Yolu b) Hava Yolu c) Demir Yolu

34- Otomobil, otobüs, kamyon, minibüs, ve taksileri kullananlara ne denir?

a) Makinist b) Kaptan c) Şoför

35- Trafik ışıklarının anlamları hangi seçenekte doğru olarak eşleştirilmiştir?

a) Yeşil-geç / sarı-dur / kırmızı-hazırlan
b) Yeşil-dur / sarı-hazırlan / kırmızı-geç
c) Yeşil-geç / sarı- hazırlan / kırmızı- dur

36- Aşağıdakilerden hangisi hava taşıtlarındandır?

a) Balon b) Feribot c) bisiklet

1- Taşıt içinde aşağıdakilerden hangisini yapmak yanlış bir davranıştır?

- a) Otobüsün içinde kabuklu yemiş yemeliyiz.
- b) Yüksek sesle konuşmamalıyız.
- c) Yaşlılara, çocuklu ve hamile bayanlara yer vermeliyiz.

2- Şehir içinde otobüse binerken aşağıdakilerden hangisini yapmalıyız?

- a) Otobüse binerken, sıraya girerek biniş kapısına yürümeliyiz.
- b) Otobüs durmadan binmeye çalışmamalıyız.
- c) Kuyruğa girmeden, herkesi iterek otobüse binmeliyiz.

3- Aşağıdakilerden hangisi yanlıştır?

- a) Cadde ve sokaklarda oyun oynamamalıyız.
- b) Bisikletle yük taşımamalıyız
- c) Trafik polisinin işaretlerine uymalıyız.

4- Karşıdan karşıya geçerken aşağıdakilerden hangisini yapmalıyız?

- a) Yolda taşıt varsa, karşıya geçmeliyiz
- b) Sarı ışıktaki geçmeliyiz
- c) Yeşil ışıktaki geçmeliyiz.

5-Trafik işaret ve levhalarını niçin korumalıyız?

- a) Yolların güzel görünmesini sağlamak için
- b) Kazaları önlemek için
- c)Trafik polislerine kuralları hatırlatmak için

6- Bir otobüste yaşlıları görünce ne yapmalıyız?

- a) Pencereden dışarıya bakmalıyız
- b) Kitap okumalıyız
- c) Yerimizi ona vermeliyiz.

7- Gemilerin ,yük alıp indirdikleri yere ne ad verilir?

- a) Hava alanı
- b) Liman
- c) Gar

8- Aşağıdakilerden hangisi taşıtlara binip inerken uymamız gereken kurallardan birisidir?

- A) Taşıtlara sıraya girmeden karışık olarak binmeliyiz.
- B) Taşıtlara inip binerken durmasını beklememeliyiz.
- C) Taşıtlara sağ ön kapıdan binip yine sağ arka kapıdan inmeliyiz.