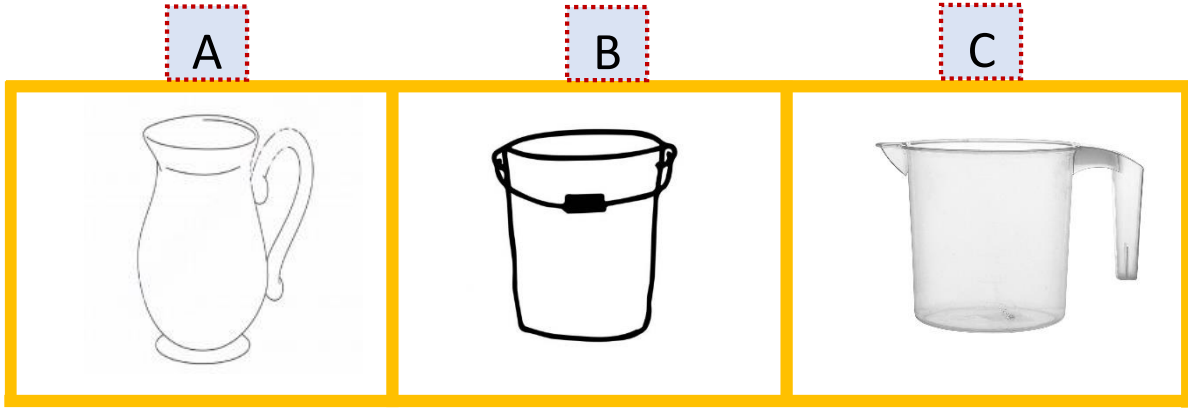


Problem: Emre'nin 50 lirası var. Emre 20 liraya kitap, 10 liraya boya kalemleri aldı.....

1. Yukarıdaki problemin devamı nasıl olmalıdır?

- A) Emre'nin kaç lirası var?
- B) Emre kaç tane kitap almıştır?
- C) Emre'nin kaç lirası kalmıştır?

2. Aşağıdakilerden hangisi daha fazla sıvı madde alır?



3. Yukarıda bir çaydanlıktan kaç bardak çay çıktığı gösterilmiştir. Buna göre 4 çaydanlıktan kaç bardak çay çıkar?

- A) 40 bardak
- B) 16 bardak
- C) 30 bardak



Yukarıda bir şişe sütün kaç bardak süt dolduğu gösteriliyor.

4. Yukarıdaki bilgiye göre aşağıdakilerden hangisi yanlıştır?

- A) 3 şişe süt ile 15 bardak dolar.
- B) 5 şişe süt ile 25 bardak dolar.
- C) 10 şişe süt ile 100 bardak dolar.

Problem: Bir pastaneci 1 şişe sütün 10 kâse sütlaç yapıyor. Bu pastaneci 3 şişe sütün sütlaç yapmış ve 24 kâsesini satmış. Geriye kaç kâse sütlaç kalmıştır?

5. Yukarıdaki problemin çözümü nasıldır?

A

$$10+4= 14$$
$$24-10= 14 \text{ kâse}$$

B

$$10+10+10= 30$$
$$30-24= 6 \text{ kâse}$$

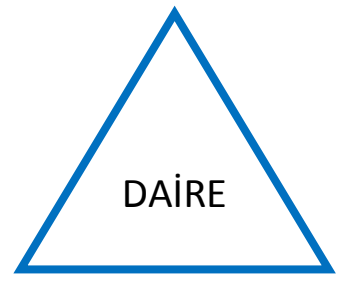
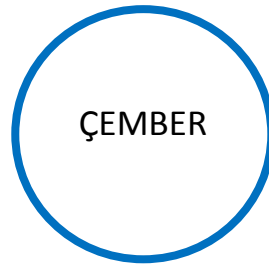
C

$$10+10+10= 30$$
$$30-3= 27 \text{ kâse}$$

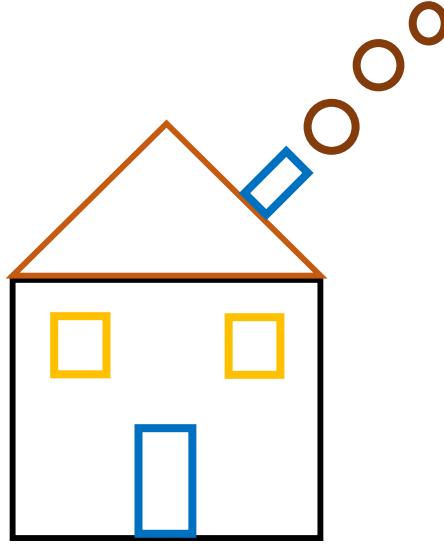
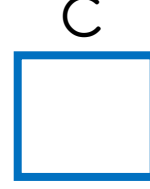
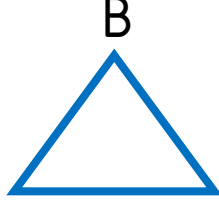

Problem: Bir koyun günde 3 şişe süt veriyor. 4 koyun bir günde kaç şişe süt verir?

6. Yukarıdaki problemin cevabı kaçtır?

- A) $3 + 3 + 3 + 3 = 12$ şişe
- B) $4 + 4 + 4 + 4 = 16$ şişe
- C) $4 + 3 = 7$ şişe



7. Yukarıdaki geometrik şekillerin isimleri içlerine yazılmıştır. Hangisinde hata yapılmıştır?



Aşağıdaki 8. ve 9. soruları ev resmine göre cevaplayın.

8. Yukarıdaki ev resminde en az çizilen şekil hangisidir?

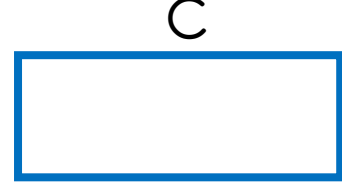
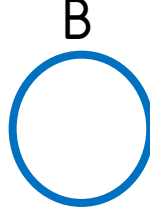
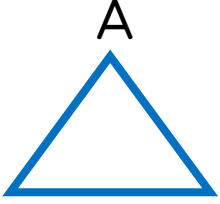
- A) Çember
- B) Dikdörtgen
- C) Üçgen

9. Yukarıdaki ev şeklinde hangi iki şekil eşit sayıda çizilmiştir?

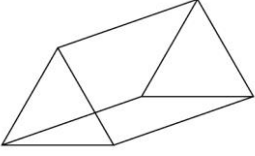
- A) Çember - Kare
- B) Üçgen - Dikdörtgen
- C) Kare - Dikdörtgen

3 köşem ve 3 kenarım var.
Birbirine eşit 4 kenarım ve 4 köşem var.
Benim köşem de yok kenarım da yok.

10. Yukarıda kendini tanıtan geometrik cisimlerden hangisi aşağıdakilerin arasında yoktur?

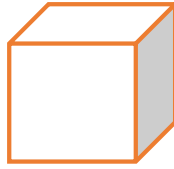


1



Üçgen prizma

2



Kare prizma

3



Küp

4



Dikdörtgen prizma

Yukarıdaki geometrik cisimlerin üzerlerinde numaraları altlarında adları yazılmıştır. Fakat isimleri yazılırken bir hata yapılmıştır.

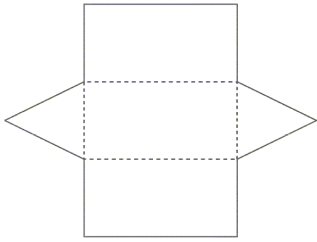
11. Hangi numaralı geometrik cisimlerin altındaki isimleri yer değiştirilirse hata düzeltilmiş olur?

- A) 2 ile 4
- B) 3 ile 4
- C) 2 ile 3

Annem fırında yemek yapmak için salça kutusunun açmaya çalışıyordu. Bu sırada kardeşimin vurduğu top annemin elindeki salça kutusuna değdi ve yere düşürdü.

12. Yukarıdaki metinde altı çizili olan nesnelerin benzediği geometrik cisimlerin hangisi aşağıdakilerden biri değildir?

- A) Kare prizma
- B) Küre
- C) Küp



13. Yukarıda açılımları verilmiş olan iki geometrik cisim aşağıdakilerden hangisidir?

- A) Üçgen prizma - Daire
- B) Üçgen prizma - Silindir
- C) Üçgen prizma - Küre

14. Aşağıdaki bilgilerden hangisi yanlıştır?

- A) Küpün 8 köşesi vardır.
- B) Kürenin 1 tane yüzü vardır.
- C) Silindir 1 kare ile 2 daire şeklinden oluşur.

15. Aşağıdaki nesnelerin hangisi farklı bir geometrik cisme benzemektedir?

A



B



C

