

1. Yukarıdaki şeklin boyalı kısmının sayısı kaçtır?

- A) 30
- B) 35
- C) 40

2. 84 sayısı kaç onluk ile kaç birlikten oluşur?

A

8 onluk ile 4 birlik

B


4 onluk ile 8 birlik

C

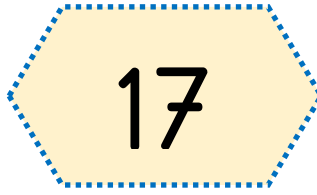
8 onluk ile 8 birlik

3. Aşağıdaki hangi sayıda yer alan "7" rakamının basamak değeri 70'tir.


A



B



C



4. Aşağıdaki topların sayısı bir düzineden kaç tane fazladır?



A




B




C






5. Yukarıdaki çiçeklere kaç çiçek eklersek bir deste olur?


A



B

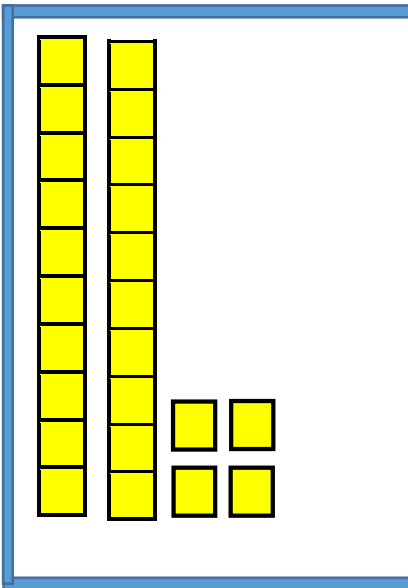


C

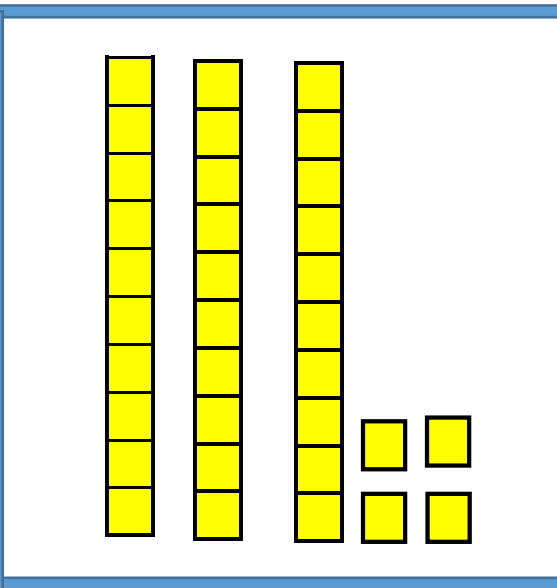


6. Yukarıdaki kurabiyelerin sayısının taban model ile gösterimi aşağıdakilerden hangisidir?

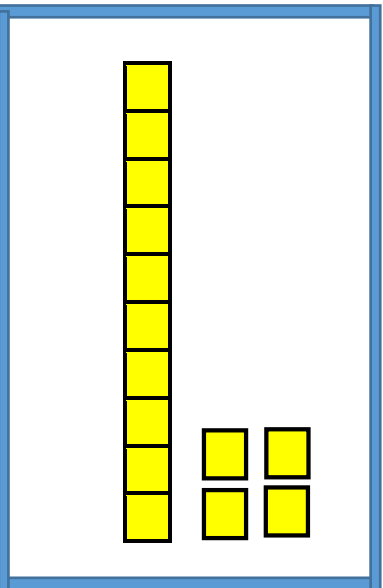
A



B



C



Sayı	<div style="text-align: center;"> </div>	
Basamak Adı	Onlar basamağı	Birler basamağı
Basamak Değeri	90	2
Sayının Okunuşu	Yirmi dokuz	

7. Yukarıdaki tabloda nerede hata yapılmıştır?

- A) Basamak adında
- B) Basamak değerinde
- C) Sayının okunuşunda

3	6	9	12	18	21	24	27
---	---	---	----	------	----	----	----	----	------

8. Yukarıdaki ritmik saymada verilmeyen sayıların toplamı kaç eder?

- A) 45
- B) 55
- C) 65

9. Aşağıdaki ritmik saymaların hangisinde hata yapılmıştır?

- A) 40 - 35 - 30 - 25 - 20 - 15 - 10 - 5
- B) 28 - 25 - 22 - 19 - 16 - 13 - 10 - 8
- C) 10 - 14 - 18 - 22 - 26 - 30 - 34

$$20 - 23 - 26 - ? - 32 - 35 - 38$$

10. Yukarıdaki ? yerine hangi sayı gelmelidir?

- A) 27
- B) 28
- C) 29

$$20 - 30 - 40 - - 60 - 70 -$$

11. Yukarıdaki örüntüde verilmeyen sayıları birbirinden çıkarırsak sonuç kaç olur?

- A) 30
- B) 40
- C) 50

$$47 - 30 - 55 - 19 - 81 - 75 - 90$$

12. Yukarıdaki sayılar büyükten küçüğe sıralanırsa ilk başta ve en sonda hangi sayılar yazılır?

A

$$19 - 90$$

B

$$90 - 30$$

C

$$90 - 19$$

58 sayısından önce sonra da sayısı gelir.

13. Yukarıdaki boşluklara sırası ile hangi sayılar gelmelidir?

A

$$57 - 56$$

B

$$57 - 59$$

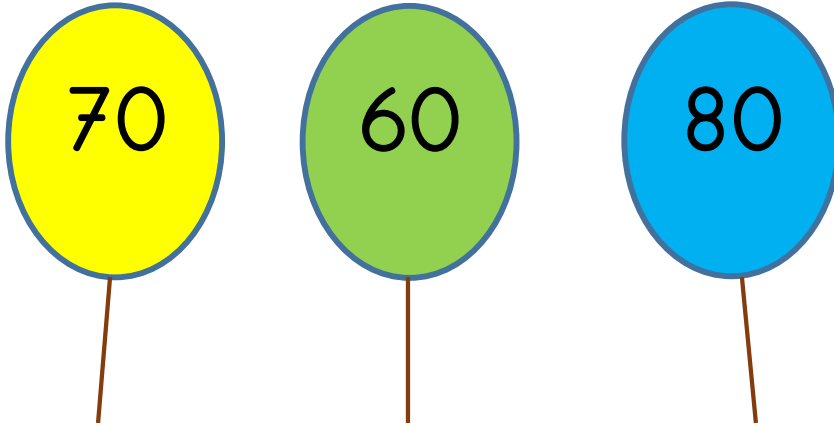
C

$$56 - 58$$

27 sayısı 19 sayısından 50 sayısından gelir.

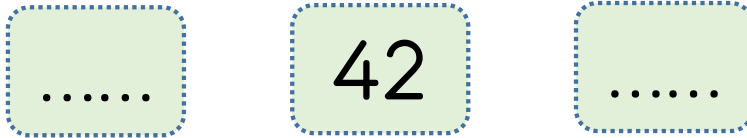
14. Yukarıdaki boşluklara sırası ile aşağıdakilerden hangisi gelmelidir?

- A) önce - sonra
- B) sonra - önce
- C) önce - arasında



15. Hangi renkli balonun içindeki sayı 67 sayısının en yakın onluğudur?

- A) Mavi
- B) Sarı
- C) Yeşil



16. Yukarıdaki sayının küçük ve büyük onlukları kaçtır?

- A) 30 - 40
- B) 40 - 50
- C) 50 - 60