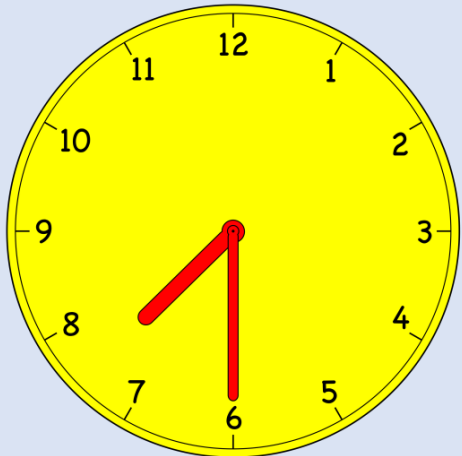



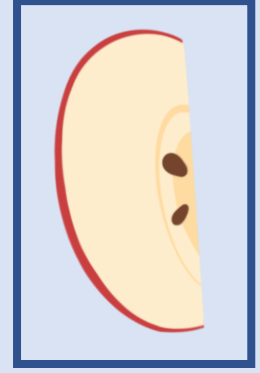
2. Sınıf 5. Ünite

Tekrar Çalışması





Yandaki elmalar kaç çeyrek elma eder?



a) 4

b) 5


c) 6

1 bütün 4 çeyrek eder + 1 yarım 2 çeyrek eder.

$$4+2= 6 \text{ çeyrek}$$

Aşağıdaki şekillerden hangisinin yarısı boyanmıştır?

a)




Çeyrek

b)




Yarım

c)



Bütün



Yandaki gibi 12 tane çeyrek pizza kaç tane bütün pizza eder?

a) 3

b) 4

c) 5

4 tane çeyrek 1 bütün eder

$$4 \times 3 = 12 \text{ çeyrek}$$

Cevap 3'tür.

Aşağıdaki bütün yarım çeyrek dönüşümleri eşleyiniz.

8 çeyrek

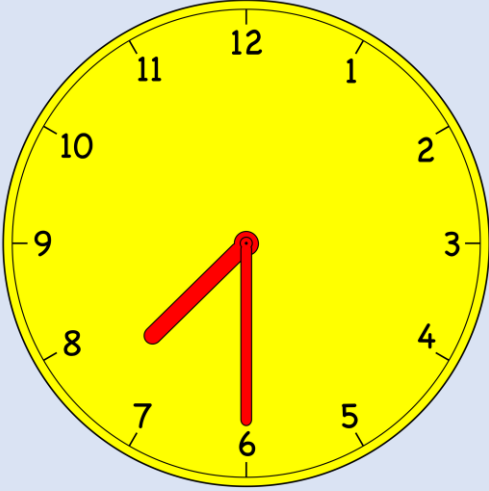
12 yarım

1 bütün 5 yarım

6 bütün


2 bütün

14 çeyrek



Elifin sabah kalktığı saat kaç göstermektedir?

7' yi 15 geçiyor.



7 buçuk.

Saat tam 7.

Aşağıdaki dijital saatlerden hangisi öğleden sonra saat 4'ü göstermektedir?

 16:00

14:00

Öğleden sonra 2

04:00

Öğleden önce 4

Duru günde 5 sayfa kitap okursa, 1 haftada kaç sayfa kitap okur?

1 Hafta 7 gün eder.

1 günde 5 sayfa okursa,

7 günde $7 \times 5 = 35$ sayfa kitap okur.

1 saat izni olan Ali 25 dk telefon oynamış kalan süre içinde de TV izlemiştir. Ali kaç dk TV izlemiştir?

1 saat 60 dakikadır.

25 dk telefon oynamış

$60 - 25 = 35$ dk TV izlemiş

Dedemler 2 yılın 16 ayını pandemi nedeniyle köyde geçirdiler. Kalan aylarda şehirde yaşadılar. Dedemler kaç ay şehirde yaşamıştır?

1 yıl 12 aydır.

2 yıl $2 \times 12 = 24$ aydır.

16 ay köyde yaşamışlar.

$24 - 16 = 8$ ay şehirde yaşadılar.

Zehra okulda 4 saat kalmış ve saat 12 de eve gelmiştir. Zehra okula saat kaçta gitmiştir?

$$\begin{array}{r} 12:00 \\ - 04:00 \\ \hline 08:00 \end{array}$$

Azelya 1 saat içinde 40 dk ders yapıp kalan süre içinde teneffüs yapmıştır. Azelya okulda 3 saat kaldığına göre, kaç dk teneffüs yapmıştır?

1 saat 60 dakikadır.

$$60 - 40 = 20 \text{ dk teneffüs}$$

$$3 \times 20 = 60 \text{ dk teneffüs}$$

$$60 \text{ dk} = 1 \text{ saat teneffüs}$$

2. Sınıf Matematik 5. Ünite Genel Tekrar Çalışması

Aşağıdaki para ile yandaki oyuncaklardan hangisi alınabilir?



Paramız 38 TL olduğu için küçük arabayı alabiliriz.



Kumbaramdan 55 TL param çıktı. Yandaki oyuncacı almak için kaç TL daha biriktirmeliyim?

$$87 - 55 = 32 \text{ TL biriktirmem gerekiyor.}$$



Annem tanesi 7 TL olan tabaklardan 3 tane aldı. Satıcıya 40 TL para verdi. Annem kaç TL para üstü almalıdır?

$$\text{Tabaklar } 3 \times 7 = 21 \text{ TL}$$

$$40 - 21 = 19 \text{ TL para üstü}$$



Babamın 95 TL parası vardı. Anneme çanta alınca 45 TL si kaldı. Çanta kaç TL'dir?

95 TL başlangıçta var.

$95 - ? = 45$ ise

$95 - 45 = 40$ TL çanta parası

CEVAP SİZDEN!!!

Kütüphaneden 3 saat sonra çıkan Emre, saat 11. 30 da kütüphaneden çıktığına göre saat kaçta kütüphaneye girmiştir?

TEŞEKKÜRLER