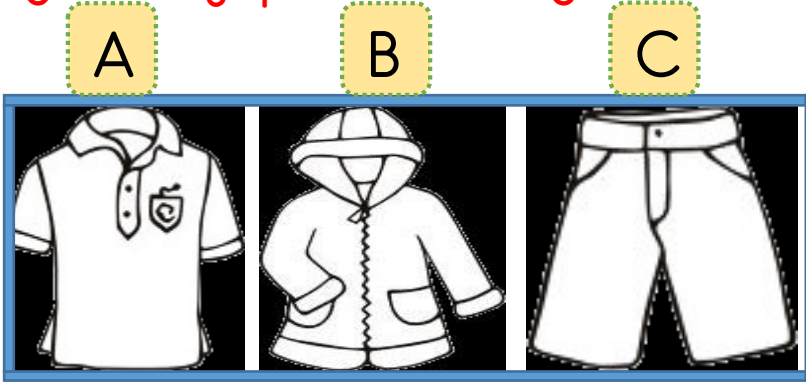


1. Yukarıdaki meyve aşağıdaki mevsimlerden hangisine aittir?



2. Aşağıdaki kıyafetlerden hangisi kış mevsiminde giyilir?



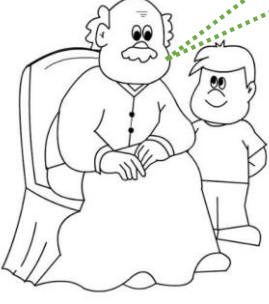
3. Sağlıklı büyümek için aşağıdakilerden hangisi gerekli değildir?

- A) Düzenli uyumak.
- B) Dengeli beslenmek.
- C) Çok yorulmak.

4. Aşağıdaki cümlelerin hangisinde bir yazım yanlışı vardır?

- A) Kediye sütü Alimi verdi?
- B) Murat'ın Pamuk diye bir kedisi var.
- C) Buraya Malatya'dan mı geldiniz?

Bak evlat insan dostunun
kıymetini iyi bilmelidir.



5. Yukarıdaki Ali'nin dedesinin söylediği altı çizili kelimenin zıt anlamlısı aşağıdaki hangi cümlede kullanılmıştır?

- A) Babam çok iyi bir insandır.
- B) Mikroplar vücudumuzun düşmanıdır.
- C) Cem çok candan bir arkadaşımdır.

Eyvah() Ödevimi evde unutmuşum()


6. Yukarıdaki cümlede () içlerine hangi noktalama işaretleri gelmelidir?

- A) Nokta - Ünlem
- B) Soru işareti - Nokta
- C) Ünlem - Nokta

Hülya parkta yavru kediye süt verdi.

7. Yukarıdaki cümlede aşağıdaki sorulardan hangisinin cevabı yoktur?

- A) Kim?
- B) Ne zaman?
- C) Nerede?



8. Yukarıdaki yumurtaların sayısını bulmak için aşağıdaki hangi işlemi yapmamız gerekir?

A

$$\begin{array}{r} 5 \\ \times 3 \\ \hline 15 \end{array}$$

B

$$\begin{array}{r} 5 \\ \times 2 \\ \hline 10 \end{array}$$

C

$$\begin{array}{r} 5 \\ \times 5 \\ \hline 25 \end{array}$$

$$5 + 5 + 5 + 5 + 5 + 5 + 5 = 35$$

9. Yukarıdaki işlemin çarpma işlemi ile yapılmış hali aşağıdakilerden hangisidir?

A

$$7 \times 5 = 35$$

B

$$6 \times 5 = 35$$

C

$$8 \times 5 = 35$$

$$3 \times 5 = 25$$

$$5 \times 2 = 10$$

$$3 \times 4 = 12$$

$$9 \times 3 = 17$$

10. Yukarıdaki işlemlerden kaç tanesinin çarpımı yanlıştır?

A) 1

B) 2

C) 3

CEMAL ÖĞRETMEN