

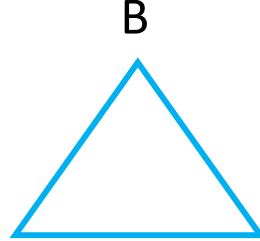



1.Aşağıdakilerden hangisi yukarıdaki şeklin özelliği değildir?



- A) Bütün kenar uzunlukları eşittir.
- B) 4 köşesi vardır.
- C) 2 kısa kenarı 2 uzun kenarı vardır.

“Benim ne kenarım var ne köşem.”

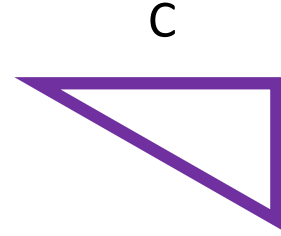

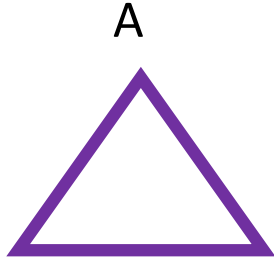
2.Yukarıda konuşan şekil aşağıdakilerden hangisidir?



3. Aşağıdaki şekillerden hangisinin köşe sayısı diğerlerinden farklıdır?



4. Aşağıdaki şekillerden hangisinin kenar sayısı farklıdır?



4 köşesi 4 kenarı vardır.
2 uzun 2 kısa kenarı vardır.
Karşılıklı kenar uzunlukları eşittir.

5. Yukarıda bilgileri verilen şekil hangisidir?


- A) Dikdörtgen
- B) Kare
- C) Üçgen

6. Aşağıdakilerden hangisinin şekli çembere benzemez?

- A) Simit
- B) Bilezik
- C) Telefon

7. Aşağıdaki geometrik şekillerden hangileri birbirine diğerlerinden daha fazla benzer?

- A) Üçgen ile Çember
- B) Kare ile Üçgen
- C) Kare ile Dikdörtgen



8. Yukarıdaki ev resminde hangi geometrik şekil yoktur?

- A) Dikdörtgen
- B) Çember
- C) Üçgen

8. Yukarıdaki ev resminde hangi geometrik şekil en fazla kullanılmıştır?

- A) Dikdörtgen
- B) Üçgen
- C) Kare

Yukarıdaki ev resminde geometrik şekli en az kullanılmıştır.

9. Yukarıdaki boşluğa aşağıdakilerden hangisi gelmelidir?

- A) Çember
- B) Üçgen
- C) Kare

Evin çatısı geometrik şekil ile çizilmiş.

10. Yukarıdaki boşluğa aşağıdakilerden hangisi gelmelidir?

- A) Dikdörtgen
- B) Üçgen
- C) Kare