



# İLKBAHAR GELİNCE

İlkbahar mevsimi geldiğinde çevremizde ne gibi değişiklikler oldu? Aşağıdaki alanları doldurun.

Ağaçlarda neler oluyor?



Hayvanlar Aleminde Neler oluyor?

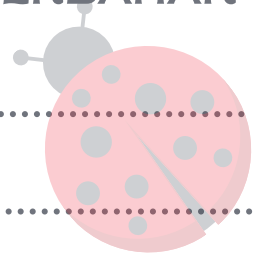


Böcekler Aleminde Neler Oluyor?



MERHABA İLKBAHAR

İ  
L  
K  
B  
A  
H  
A  
R



Adı- Soyadı: .....

Tarih: .....

# MERHABA İLKBAHAR

Kirazın yolculuğunu anlatın.



## BİLİYOR MUSUN?










İlkbaharda çiçekler daha hızlı büyür ve çiçek açar. Bunun nedeni, bitkilerin bu mevsimde sıcaklığa ve ışığa tepki vermesidir. Daha yüksek sıcaklıklar ve daha uzun günler, birçok bitki türünün büyümesini ve çiçeklenmesini etkiler.

Adı- Soyadı

Tarih:

# GÖLGEM NEREDE?

Çiçekleri gölgeleriyle eşleştirin.



Adı- Soyadı \_\_\_\_\_

Tarih \_\_\_\_\_


# Bahar Sepeti Yapıyoruz

1. Bu sayfayı yazdırın ve çizimleri renklendirin.
2. Düz çizgileri takip ederek sepeti kesin.
3. Ardından, noktalı çizgileri takip ederek katlayın.
4. Sepetin kenarlarını birbirine yapıştırın.
5. Ardından tutacağı sepete zımbalayın. (Dikkatli ol!)
6. Sepetinizi baharın güzellikleriyle doldurun!




sepet


(yapıştır)







(yapıştır)



(yapıştır)



(yapıştır)



Adı- Soyadı \_\_\_\_\_


Tarih \_\_\_\_\_

# ÇAĞRIŞIM ZAMANI

*Sol taraftaki kelimeyi duyduğunuzda aklınıza gelen üç kelimeyi sağ tarafa yazın.*

**KELİME**

**ÇAĞRIŞTIRDIKLARI**




ağaç



tohum



çiçek



tomurcuk



kuzu

Adı- Soyadı \_\_\_\_\_

# ORTAK YÖNLERİMİZ

Aşağıdaki isimlerin ortak bir yön, var.  
onları yanındaki boş kutuya yazabilir  
misin?

## İsimler

## Ortak Yönleri

kuzu  
CIVCIV  
buzâğı

2

3

10

iki

üç

on


Ankara  
BOLU  
Kırıkkale

Boncuk  
Maviş  
Köpüş

Fatma  
Ali  
Emine

# HAVAYA GÖRE GİYİNİRİM

Bahar mevsimindeki hava durumuna göre giymemiz gereken kıyafetleri eşleştirin



Adı- Soyadı \_\_\_\_\_

Tarih \_\_\_\_\_

# SAYILARLA OYNUYORUM

Ortada bulunan sayının 10 fazlası, 10 eksiği, 1 fazlası ve 1 eksiğini uygun kutulara yazın.

	-10	
-1	12	+1
	+10	

	-10	
-1	35	+1
	+10	

	-10	
-1	28	+1
	+10	

	-10	
-1	60	+1
	+10	

	-10	
-1	42	+1
	+10	

	-10	
-1	54	
	+10	

	-10	
-1	72	+1
	+10	




Ad Soyadı: \_\_\_\_\_

Tarih \_\_\_\_\_

# BAHARDA KUŞLAR

*Sinekkuşuna arkadaşlarına ulaşması için yardım edin. işlemleri zihninizden yapmayı unutmayın.*



$19+10=$	$20+10=$	$25+5=$	$30+5=$	$25+15=$	$40+10=$
----------	----------	---------	---------	----------	----------

$18+18=$

$17+17=$

$16+16=$

$15+15=$

$14+14=$

$13+13=$

$12+12=$

$11+11=$

$10+10=$

$9+9=$

$8+8=$

$7+7=$

$1+1=$

$2+2=$

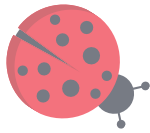


$3+3=$

$4+4=$

$5+5=$

$6+6=$

başlangıç



Ad Soyadı: \_\_\_\_\_


Tarih: \_\_\_\_\_

# PROBLEM ZAMANI


Problemleri önce güzelce okuyun daha sonra da şekil çizerek çözün.



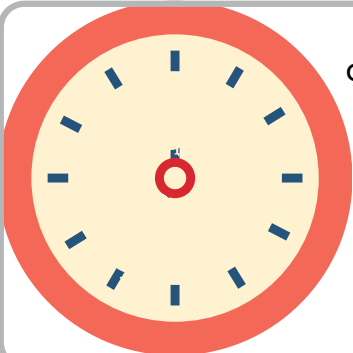

Geçtiğimiz bahar 13 tane arı kovanımız vardı. Bu yıl babam 5 kovan daha aldı. kaç tane kovanımız oldu?



Kümeşte 5 tavuğumuz ve bu tavuklara ait 19 tane de civcivimiz var. Kümeşteki toplam tavuk ve civciv sayısı nedir?



Ağılda bulunan 30 tane koyunumuzdan 20 tanesinin kuzusu oldu. Kuzusu olmayan kaç koyunumuz vardır?



Çoban inekleri otlatmak için sabah 07.00'da alıp dağa çıkmaktadır. Çoban öğle yemeğini 5 saat sonra yediğine göre saat kaçta öğle yemeği yemiştir?

