




1.SINIF MATEMATİK PARALARIMIZ TESTİ

1.Soru  +  toplamı kaçtır?

A)2 B)3 C)1

2.Soru  +  +  toplamı kaçtır?

A)5 B)1 C)7

3.Soru  +  toplamı kaçtır?

A)10 B)2 C)5

4.Soru  -  fark kaçtır?

A)4 B)1 C)5

5.Soru  -  fark kaçtır?

A)2 B)1 C)0

5.Soru  +  toplamı kaçtır?

A)20 B)10 C)2

6.Soru  -  fark kaçtır?

A)10 B)5 C)15

7.Soru  -  -  fark kaçtır?

A)3 B)5 C)1

8.Soru  -  -  fark kaçtır?

A)10 B)5 C)4

9.Soru  +  +  kaçtır?

A)16 B)15 C)10

10.Soru: $5 + 5$ 'i çizin:

Ekstra Soru: $10 - 5 - 1$ 'i çizin:

PUAN:

1