



1. Sınıf

Haftalık Ödev

10-14 MAYIS



Siirt
İL MİLLÎ EĞİTİM MÜDÜRLÜĞÜ

[www.
siirt.meb.gov.tr](http://www.siirt.meb.gov.tr)



İLKBAHAR

Yağmur geçti kar geçti

Taze hayattır bahar

Meliyor kuzucuklar

Soğuk rüzgarlar geçti

Ne çok ışık renk saçar

Seviniyor çocuklar

Güneşli bahçelerden

Gezdirin eğlendirin

Ağaçlar dallar taktı

Güzel çocuklar geçti...

Gülbüz olsun yavrular...

Bin bir renkli boncuklar...

SORULAR

1. Güneşli bahçelerden kimler geçti?

- a) bahar
- b) çocuklar
- c) kuzucuklar

2. Kuzucuklar ne yapıyor?

- a) seviniyor
- b) eğleniyor
- c) meliyor

3. Şiirde taze hayat olan nedir?

- a) bahçeler
- b) ağaçlar
- c) bahar

4.Şiirin konusu nedir?

- a) hayvanlar
- b) bahar
- c) çocuklar

5.Şiirde gülbüz olması istenen nedir?

- a) çocuklar
- b) ağaçlar
- c) yavrular



6.Aşağıdaki kelimeler kaç heceden oluşmuştur?



Televizyon



Ocak



Sandalye



Martı



Sözlük



Kereviz



Günlük



Balon



Konuk

7.Aşağıdaki kelimeleri hecelerine ayırınız.

Kelebek		Mehmetçik	
Mustafa		Sırt	
Semih		Enginar	
Hastane		Palamut	

8.Aşağıdaki varlıkların hangisinde “e” sesi daha fazla bulunur?

A.



B.



C.



9. Aşağıdaki kelimelerden hangisi sessiz harfle başlamıştır?

A. Anahtar

B.Elektrik

C.Balık

10.Aşağıdaki cümlelerin hangisinde özel isim yazılırken yanlışlık yapılmıştır?

A. istanbul'dan siirt'e uçakla geldi.

B. Fatih Ayaz halasına gitti.

C.Köpeğim Karabaş çok susamış



11. Aşağıdaki cümlelerin harf, hece, sözcük sayılarını bulunuz.

CÜMLE	HARF SAYISI	HECE SAYISI	SÖZCÜK SAYISI
Azra akşam bize gelecek.	20	9	4
Ömer bisiklet sürdü.			
Hatice resimleri sınıfa astı.			
Beyza uyudu.			
Berat, o akşam sinemaya gitti.			

11. ☐ He-li-kop-ter ☐ vap-ur ☐ o-to-büs ☐ uç-ak

Yukarıda verilen sözcüklerden kaç tanesi hecelerine doğru ayrılmıştır?

A. 2 B.3 C.4

12. Aşağıdaki cümlelerin sonuna hangi noktalama işaretleri gelmelidir?

Eymen futbolu çok sever ()

Atakan eve yalnız gider misin ()

Çabuk buraya gel ()

13.Aşağıdakilerden hangisi bir cümle değildir?

A. Kahvaltıda yumurta yedim.

B. Kitap okudum.

C. Seni görmek için erkenden



14.Aşağıdakilerden hangisinde “pencere” kelimesi satır sonunda doğru ayrılmıştır?

a).....pence- re	b).....penc- ere	c).....pe- ncere
---------------------	---------------------	---------------------

15. Aşağıdaki kelimeleri sözlük sırasına göre sıralayınız.

<input type="radio"/> balık	<input type="radio"/> Mustafa	<input type="radio"/> okul
<input type="radio"/> arı	<input type="radio"/> Kemal	<input type="radio"/> kitap
<input type="radio"/> çekirge	<input type="radio"/> Atatürk	<input type="radio"/> bilgi

16. Okul açılana kadar bol bol kitap okuyacağım” cümlesinde kaç kelime vardır?

A) 6 B) 7 C) 8

17. Aşağıdaki kelimeleri hecelerine ayırınız.

Tatil	Ta-til	Bebek	Be-bek
Atatürk		Genç	
Çekirdek		Kanepe	
Aslan		Asansör	



18.Aşağıda verilen kelimelerin zıt anlamlarını yazalım.

Kelime	Zıt anlamı	Kelime	Zıt anlamı
Büyük		Islak	
Uzun		Soru	
Oğlan		Gece	
Çirkin		Sabah	
Genç		Uzak	
Arka		Şişman	
Doğru		Aşağı	

19.Aşağıdaki kelimeleri sözlük sırasına göre sıralayınız. (6P)

<input type="radio"/> zarf	<input type="radio"/> Mala	<input type="radio"/> pençe
<input type="radio"/> yama	<input type="radio"/> davul	<input type="radio"/> rende
<input type="radio"/> vana	<input type="radio"/> Hasır	<input type="radio"/> tırnak

20. Aşağıdakilerden hangisi bir cümle değildir? (3P)

- A. Bu akşam en sevdiğim kitabı okuyacağım.
- B. Bence sen de
- C. Dün yemek yemedim.



23 NİSAN

Bugün Yirmi Üç Nisan,
Toplandı bütün vatan.
Millet meclisimize,
Atatürk oldu başkan.

Korudu güzel yurdu,
Güçlü bir ordu kurdu.
Türk'ün şanlı sesini,
Dünyalara duyurdu.



Vasfi Mahir KOCATÜRK

Aşağıdaki soruları şiire göre cevaplayalım.

1. Okuduğunuz şiirin konusu nedir?

2. 23 Nisan'da ne kuruldu ?

3. Güzel yurdumuzu kim korudu?



UÇURTMA

Kış bitmiş havalar ısınmaya başlamıştı. Yani ilkbahar gelmişti. Tüm çocuklar sokaklarda oyunlar oynuyor, uçurtma uçuruyorlardı. Cemal ve Murat uçurtma yapmaya karar verdiler. Hemen yapmaya başladılar ve biraz uğraştıktan sonra uçurtmaları hazırды. Ama uçurtma çok yükseklerе çıkmıyordu. Çünkü uçurtmanın ipi çok kısaydı.



Aşağıdaki soruları okuduğunuz metne göre cevaplayınız.

1.Kış bitince hangi mevsim gelmişti?

2.Çocuklar sokakta ne yapıyorlarmış?

3.Uçurtma neden çok yükselmemiş?



Uçmaktan Korkan Uğur Böceği

Baharın gelmesiyle her yer yeşermiş, çiçekler açmış ve çürümüş yaprakların altında kış uykusuna yatmış rengârenk uğur böcekleri etrafta uçuşmaya başlamıştı. Yeni doğmuş ve henüz hiç uçmamış olan Punki adlı uğur böceği ise diğerleri gibi uçmak yerine yürümeyi tercih ediyordu. Parktaki güzel papatyaların çevresinde dolanıyordu. Bir taraftan da parktaki çocukları izliyordu. Punki'nin ailesi ve arkadaşları rengârenk çiçeklerin birinden diğerine uçuyorlardı. Punki hiç uçmadığı için ilk uçuşunu yapmaktan biraz



korkuyordu. Ailesi bunun için biraz daha büyümesi gerektiğini söylemişti. Punki heyecanla bu günü bekliyordu. Parktaki çocuklardan Nehir koşarak çiçeklerin yanına geldi. Onları bir bir kokladı. Tam papatyalardan birini koparacaktı ki Punki ile göz göze geldi.

Annesi ona uğur böceğini eline alıp uçurarak bir dilek tutarsa dileğinin gerçekleşeceğini söylemiş bir de tekerleme öğretmişti. Nehir hemen Punki'ye parmağını uzattı. Punki yürüyerek Nehir'in eline kondu. Nehir başladı tekerlemeyi söylemeye;

Uç uç böceğim

Annen sana terlik pabuç alacak.

Punki bir anda kendini havada uçarken buldu.

Nehir'in dileğinin olması için bir umut oldu.

Aşağıdaki soruları okuduğumuz metne göre cevaplayalım.

1. Baharın gelmesiyle doğada hangi değişiklikler olmuş?

- A. Her yer karla kaplanmış.
- B. Ağaçların yaprakları sararmış ve dökülmüş.
- C. Her yer yeşermiş, çiçekler açmış.

2. Metne göre uğur böcekleri nerede kış uykusuna yatarmış?

- A. Dere kenarında
- B. Çürümüş yaprakların altında
- C. Toprak altında

3. Diğer uğur böcekleri uçarken Punki ne yapıyordu?

- A. Uyuyordu.
- B. Onlarla birlikte uçuyordu.
- C. Papatyaların etrafında yürüyordu.

4. Punki niçin diğerleri gibi uçmuyordu?

- A. Hiç uçmadığı için biraz korkuyordu.
- B. Kanadından yaralıydı.
- C. Ailesi uçmak konusunda ona kızıyordu.

İLAYDA

İlayda 7 yaşındadır. Bursa'da yaşamaktadır. İlkokul birinci sınıfa gitmektedir. Her sabah saat sekizde evlerinin önünde servise binip okuluna gider. İlayda öğretmenini çok sevmektedir. Sınıfta orta sıranın en önünde oturmaktadır. Sıra arkadaşının adı Ela'dır.

İlayda boş zamanlarında yüzme kursuna ve gitar kursuna gitmektedir. Çok iyi yüzme bildiği için yarışlarda genelde birinci olmaktadır. İlayda'nın sesi de çok güzeldir. Bazen müzik derslerinde gitar çalıp şarkı söylemektedir.

Doğru mu ? Yanlış mı ?

Okuduğumuz metne göre aşağıdaki cümlelerden doğru olanların başına "D", yanlış olanların başına "Y" yazalım.

1. ☐ İlayda 7 yaşındadır.
2. ☐ İlayda servise saat dokuzda binmektedir.
3. ☐ İlayda'nın öğretmenin adı Neşe'dir.
4. ☐ İlayda boş zamanlarında ders çalışmıştır.
5. ☐ İlayda çok iyi yüzme bilmektedir.

Doğru olan şıkkı işaretleyelim.

Soru 1: İlayda nerede yaşamaktadır ?

- A) Ankara
- B) Bursa
- C) Balıkesir

Soru 2: İlayda kaçına sınıfa gitmektedir ?

- A) Birinci sınıfa
- B) İkinci sınıfa
- C) Üçüncü sınıfa

Soru 3: İlayda sınıfta nerede oturmaktadır ?

- A) Pencere kenarında en önde
- B) Duvar kenarında en arkada
- C) Orta sırada en önde

Soru 4: İlayda aşağıdaki kurslardan hangisine gitmemektedir?

- A) Gitar kursuna
- B) Saz kursuna
- C) Yüzme kursuna

Soru 5: İlayda müzik dersinde ne yaparmış ?

- A) Yazı yazarmış.
- B) Müzik dinlermiş.
- C) Gitar çalıp şarkı söylörmüş.



Aşağıdaki soruları cevaplayınız.



Oğuzhan parkta top oynuyor.

Kim oynuyor?

Nerede oynuyor?

Ne oynuyor?



Salih ile Fatih evde kitap okudu.

Kim okudu?

Ne okudu?

Nerede okudu?



Sezer Mart ayında Konya'da doğdu.

Kim doğdu?

Ne zaman doğdu?

Nerede doğdu?



Ersan çantasını okulda unuttu.

Kim unuttu?

Neyi unuttu?

Nerede unuttu?



Selçuk yazın tatile gidecek.

Ne zaman gidecek?

Nereye gidecek?



Ömer'in iki balığı var.

Kimin balığı var?

Kaç balığı var?



SORULAR

$$\begin{array}{r} 2 \\ + 1 \\ \hline \end{array}$$

$$\begin{array}{r} 3 \\ + 2 \\ \hline \end{array}$$

$$\begin{array}{r} 4 \\ + 1 \\ \hline \end{array}$$

$$\begin{array}{r} 3 \\ + 3 \\ \hline \end{array}$$

$$\begin{array}{r} 4 \\ + 0 \\ \hline \end{array}$$

$$\begin{array}{r} 7 \\ + 3 \\ \hline \end{array}$$

$$\begin{array}{r} 8 \\ + 2 \\ \hline \end{array}$$

$$\begin{array}{r} 8 \\ + 6 \\ \hline \end{array}$$

$$\begin{array}{r} 9 \\ + 4 \\ \hline \end{array}$$

$$\begin{array}{r} 9 \\ + 5 \\ \hline \end{array}$$

$8 + 3 =$

$7 + 5 =$

$7 + 2 =$

$10 + 4 =$

$8 + 2 =$

$6 + 4 =$

$8 + 2 =$

$9 + 3 =$

$8 + 4 =$

$6 + 4 =$

$8 + 2 =$

$9 + 5 =$

$9 + 1 =$

$6 + 4 =$

$6 + 2 =$

$8 + 1 =$

$6 + 4 =$

$8 + 2 =$

$6 + 4 =$

$9 + 5 =$

$10 + 1 =$

$7 + 1 =$

$8 + 3 =$

$9 + 4 =$

$9 + 4 =$

$10 + 1 =$

$7 + 4 =$

$8 + 5 =$

$6 + 2 =$

$8 + 5 =$

$8 + 5 =$

$10 + 1 =$

$6 + 1 =$

$7 + 5 =$

$10 + 2 =$

$9 + 5 =$

$8 + 3 =$

$10 + 1 =$

$8 + 5 =$

$9 + 2 =$

$7 + 2 =$

$8 + 2 =$

$10 + 2 =$

$9 + 1 =$

$6 + 4 =$

$8 + 2 =$

$8 + 5 =$

$10 + 5 =$

$6 + 3 =$

$9 + 3 =$

$10 + 2 =$

$8 + 5 =$

$7 + 2 =$

$6 + 4 =$

$6 + 4 =$

$6 + 3 =$

$6 + 3 =$

$6 + 5 =$

$6 + 5 =$



VERİLMEYEN TOPLANANI BULMA

$2 + \square = 4$

$2 + \square = 3$

$2 + \square = 5$

$1 + \square = 3$

$2 + \square = 6$

$2 + \square = 3$

$1 + \square = 6$

$1 + \square = 5$

$2 + \square = 9$

$2 + \square = 8$

$2 + \square = 5$

$2 + \square = 7$

$3 + \square = 6$

$3 + \square = 5$

$3 + \square = 7$

$3 + \square = 4$

$5 + \square = 6$

$2 + \square = 3$

$2 + \square = 4$

$4 + \square = 5$

$4 + \square = 6$

$5 + \square = 6$

$3 + \square = 7$

$6 + \square = 8$

$7 + \square = 9$

$1 + \square = 9$

$2 + \square = 8$

$2 + \square = 9$

$3 + \square = 6$

$4 + \square = 9$

$5 + \square = 8$

$5 + \square = 9$

$6 + \square = 8$

$5 + \square = 8$

$7 + \square = 8$

$6 + \square = 9$

$3 + \square = 7$

$5 + \square = 9$

$2 + \square = 7$

$2 + \square = 3$

$2 + \square = 8$

$6 + \square = 9$

$2 + \square = 9$

$1 + \square = 2$

$4 + \square = 9$

$7 + \square = 8$

$1 + \square = 5$

$2 + \square = 9$



$\square + 2 = 3$	$\square + 2 = 4$	$\square + 2 = 5$	$\square + 1 = 3$
$\square + 1 = 4$	$\square + 2 = 6$	$\square + 3 = 4$	$\square + 3 = 5$
$\square + 1 = 5$	$\square + 2 = 7$	$\square + 4 = 5$	$\square + 3 = 6$
$\square + 3 = 4$	$\square + 3 = 7$	$\square + 3 = 8$	$\square + 2 = 8$
$\square + 2 = 9$	$\square + 1 = 8$	$\square + 1 = 6$	$\square + 2 = 9$
$\square + 5 = 6$	$\square + 4 = 6$	$\square + 5 = 7$	$\square + 5 = 9$
$\square + 6 = 8$	$\square + 6 = 9$	$\square + 4 = 8$	$\square + 6 = 7$
$\square + 3 = 4$	$\square + 6 = 9$	$\square + 5 = 8$	$\square + 4 = 8$
$\square + 4 = 9$	$\square + 3 = 4$	$\square + 3 = 8$	$\square + 5 = 9$
$\square + 1 = 4$	$\square + 4 = 9$	$\square + 7 = 8$	$\square + 8 = 9$
$\square + 5 = 10$	$\square + 4 = 10$	$\square + 6 = 10$	$\square + 7 = 10$
$\square + 7 = 11$	$\square + 7 = 12$	$\square + 8 = 10$	$\square + 8 = 12$
$\square + 9 = 10$	$\square + 7 = 14$	$\square + 6 = 13$	$\square + 5 = 13$

TOPLAMA İŞLEMİ PROBLEMLERİ

1.Bekir'in 3 tane kırmızı kalemi, 4 tane de kurşun kalemi var. Bekir'in kaç tane kalemi vardır?

[illegible]

2. Evimizin bahçesinde 6 tane elma, 3 tane de kiraz ağacı var. Bahçemizde kaç ağaç vardır?

[illegible]

3. Ali'nin akvaryumunda 3 tane kırmızı, 5 tane de sarı balık vardır. Akvaryumda kaç balık vardır.


[illegible]

4. Bir parkta 7 kız, 8 de erkek çocuk vardır. Parkta toplam kaç çocuk vardır?


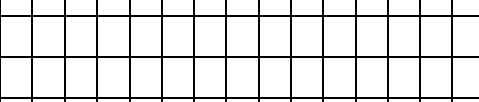
[illegible]

A blank sheet of graph paper with a grid of small squares. The grid is bounded by two vertical red lines on the left and right sides. The grid consists of 20 columns and 10 rows of squares. The red lines are positioned at the first and last columns of the grid.

[illegible][illegible][illegible]

[illegible][illegible][illegible][illegible]

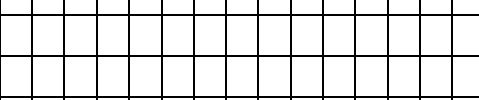

[illegible][illegible][illegible]

[illegible][illegible]


!

This is a blank grid paper template. It consists of a rectangular area divided by thin black lines into a uniform grid of small squares. The grid is composed of 8 horizontal rows and 20 vertical columns, providing a total of 160 individual square units for drawing or writing.


11



25. 2 sandalyenin toplam kaç ayağı vardır?



26. Bir kitabın 7 sayfasını okudum, 9 sayfasını okumadım. Kitabım toplam kaç sayfadır?



27. Ben 7 yaşımdayım. Ablam benden 3 yaş büyüktür. Ablam kaç yaşındadır?

[illegible]

28. Bir sınıfta 8 kız vardır. Erkekler, kızlardan 1 fazladır. Sınıfta kaç kişi vardır?

[illegible]

29. Bir kutuda 4 yeşil top vardır. Mavi toplar, yeşil toplardan 5 fazla ise kutuda toplam kaç top vardır?

30. Metin 8 yaşındadır. Ekrem, Metin'den 5 yaş büyüktür. Ekrem kaç yaşındadır?

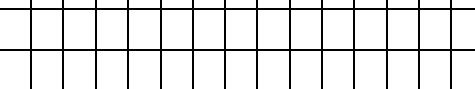
31. Bahçemde 7 lale vardır. Güller, lalelerden 8 fazla ise bahçemde kaç gül vardır?

[illegible]

32. Kitaplığımda 6 öykü kitabı vardır. Romanlar, öykü kitaplarından 7 fazladır. Kitaplığımda kaç roman vardır?

[illegible]

33. Benim 5 liram vardır. Ahmet'in, benden 3 lira daha fazla parası vardır. Ahmet'in kaç lirası vardır?



34. 4 kırmızı kalemim vardır. Siyah kalemlerim, kırmızı kalemlerimden 3 fazla ise kaç siyah kalemim vardır?

A blank grid paper template consisting of 10 columns and 8 rows of squares. The grid is composed of thin black lines forming a uniform pattern of small squares across the entire page.

35. Şükran 9 yaşındadır. Ceylan Şükran'dan 4 yaş büyüktür. Ceylan kaç yaşındadır?

[illegible]

3.ÜNİTE:SAĞLIKLI HAYAT ÜNİTESİ ÖZET/

KİŞİSEL BAKIM

Sağımız için kişisel bakım çok önemlidir. Kişisel bakımımızı yaparken elektrik, su, sabun gibi kaynakları da tutumlu kullanmalıyız.

Kişisel bakım denilince banyo yapmak,saçlarımızı taramak,diş fırçalamak, tırnaklarımızı kesmek,ayakkabı ve kıyafetlerimizi temiz tutmak aklımıza gelmelidir.

Kişisel bakım bakım malzemelerinin başlıcaları da,sabun,tarak,havlu,diş fırçası,tırnak makası...

SAĞLIĞIMIZ İÇİN ALINMASI GEREKEN ÖNLEMLER

Kişisel bakımımızın yanında sağımız için yapmamız gerekenler:

- Sebze ve meyveleri yıkamadan yememeliyiz.
- Aşı olmalıyız.
- Belli aralıklarla diş hekimine gidip diş kontrollerimizi yaptırmalıyız.
- Hastalandığımızda doktora gitmeliyiz. Doktorun söylediklerini aynen yapmalı, verdiği ilaçları düzenli kullanmalıyız.
- Spor yapmalıyız.
- Mevsime uygun giyinmeliyiz. Sıcaksa ince, açık renk; soğuksa kalın ve koyu renk giysiler giymeliyiz.

SAĞLIKLI BESLENME

Sağlıklı yaşam için doğru beslenmek son derece önemlidir. Su temel içeceğimiz.

Büyümemiz,kemik ve diş sağlığı için gerekli olan besinler:Süt ve süt ürünleri yani süt, yoğurt, peynir, ayran, tereyağı...

Büyüme çağındaki çocukların mutlaka tüketmesi gereken besinler: Et, tavuk, balık ve yumurta...



Direncimizi arttıran ve bizi hastalıklara karşı koruyan besinler: Elma, armut, şeftali, erik; ıspanak, kabak, domates, biber gibi meyve ve sebzeler.

Bize enerji veren besinler: Ekmek, makarna, bulgur, pirinç, ceviz, badem, fındık gibi ürünler, yararlı yiyeceklerdendir. Ancak ekmek ve makarna gibi besinlerin fazla tüketilmesinin şişmanlığa yol açtığı unutulmamalıdır.

Sağlıksız besinler: Asitli içecekler, cips, çikolata, bisküvi gibi besinlerin tüketilmesi sağlığınıza zarar verir. Bu besinler şişmanlığa yol açar ve bazı hastalıklara sebep olur. Ayrıca paketsiz ve açıkta satılan gıdalar da sağlıklı değildir.

ÖĞÜNLERE UYGUN BESLENME

Kahvaltıda; peynir, zeytin, yumurta, bal veya pekmez, tereyağı, ekmek tüketmeliyiz.

Süt veya taze sıkılmış meyve suyunu da kahvaltıda içecek olarak tüketebiliriz.

Öğle ve akşam yemeklerinde; çorba, salata, sebze yemeği, yoğurt, et, pilav, makarna, ekmek tüketilir. Bu öğünlerde ayran, hoşaf gibi içecekler tercih edilmelidir. Öğünlerimizde meyve de bulundurmamız gerekir.

Ana öğünlerin dışında, ara öğün olarak okulda beslenme saatimiz vardır. Beslenme çantamızda **sandviç, ev yapımı kek, poğaç, börek** türlerinden **sadece biri** bulunmalıdır. İçecek olarak **süt** ya da **ayran** tercih edilmelidir. Ayrıca **bir avuç kuruyemiş** ve **bir meyve**, beslenme çantamızda bulunması gerekenlerdendir.

Öğünlerimizde hem hayvansal hem de bitkisel kaynaklı yiyeceklere yeterince yer vermeliyiz.

YİYECEK HAZIRLIYORUZ

Büyüklerimizin **bilgisi, desteği** ve **gözetiminde** kendimize yiyecekler hazırlayabiliriz. Kendimiz için yemek hazırlarken ortamın temiz ve düzenli olması gerekir.

Kendimize yiyecek hazırlarken **temizlik kurallarına** dikkat ettiğimiz gibi **güvenliğimize de** dikkat etmeliyiz. **Kesici alet kullanmamalıyız.** Ocak ve



fırından uzak durmalıyız. Yiyecek hazırlamaya başlamadan önce ve yemekten önce **mutlaka ellerimizi yıkamalıyız.**

GÖRGÜ KURALLARINA UYGUN YEMEK YİYORUZ

Yemek yerken dikkat etmemiz gereken kurallar var.Bu kurallara, **görgü kuralları** denir.

Başlıca görgü kuralları şunlardır:

- Yemeğimizi oturarak yemeliyiz.
- Yemeğe başlamadan önce yemek duası etmeliyiz.
- Yemek yerken konuşmamalıyız.
- Yemeğimizi çiğnerken ağızımızı kapalı tutmalıyız.
- Yemeğimizi yerken dikkatli olmalıyız. Üstümüze ve masaya dökmemeye özen göstermeliyiz.
- Yemeğimizden birine ikramda bulunurken elimizi yemeğe değdirmemeliyiz. İkramımızı, yemeğin bulunduğu tabakla yapmalıyız.
- Yemek yerken peçete kullanmalıyız.
- Tabağımıza yiyeceğimizden fazla yemek almamalıyız.
- Tabağımıza aldığımız yemeği bitirmeliyiz.
- Ekmek israfından kaçınmalıyız.

KİTLE İLETİŞİM ARAÇLARINI DOĞRU KULLANIYORUZ

Hepimizin evinde, televizyon, bilgisayar, telefon,radyo, gazete gibi araçlar bulunur. Bunlar **kitle iletişim araçlarıdır.**

Kitle iletişim araçlarını kullanırken dikkat etmemiz gereken kurallar vardır.Bu kuralların başlıcaları:

Televizyon izlerken:

Gün içinde okul, ders tekrarı, oyun ve evdeki **sorumluluklarımızın dışında kalan zamanlarımızda** televizyon izleyebiliriz. Televizyon izlerken **ailemizin belirlediği süreyi aşmamalı**, onların **uygun gördüğü** programları izlemeliyiz. Göz sağlığını korumak için televizyonu **uzaktan** seyretmeliyiz.



Bilgisayar kullanırken:

Genel Ağ aracılığıyla **haberleşme, araştırma, eğlence** gibi amaçlarla kullanılan bir kitle iletişim aracıdır. Bilgisayarı mutlaka **büyüklerimizin onayladığı süre** kadar kullanmalıyız. Genel Ağ'da **büyüklerimizin izin verdiği sitelerden** yararlanmalıyız. Bilgisayar kullanırken **sandalyeye tam yerleşmeli ve dik oturmalıyız**. Bilgisayar ile aramızda **uygun mesafe** bırakmaya dikkat etmeliyiz.

Telefon kullanırken:

Telefonu, **iletişim amaçlı** kullanmalıyız. Konuşmalarımızı **uzun tutmamalıyız**. Telefonu da **büyüklerimizin gözetiminde** kullanmalıyız.

Notebook(Notbuk) kullanırken:

Notebook (notbuk), tablet gibi araçları da **büyüklerimizin gözetiminde** kullanmalıyız.

Gazete ve dergi kullanırken:

Gazete ve dergiler de kitle iletişim araçlarındandır. Yaşımıza uygun gazete ve dergileri **ailemizin gözetiminde** alabiliriz.

Kitle iletişim araçlarını kullanırken **büyüklerimizin önerdiği süreyi aşmamalıyız**. Bu tür araçlarla **fazla zaman** geçirmemeliyiz.

Aşağıdaki soruları dikkatli oku ve cevapla.

1.Sağlıklı olmak için tırnaklarımı keserim.

A. Doğru B. Yanlış

2.Dengeli beslenirim.

A. Doğru B. Yanlış

3.Kirli yerlerde oynarım.

A. Doğru B. Yanlış

4.Dişlerimi iki günde bir fırçalarım.

A. Doğru B. Yanlış

5.Açıkta satılan yiyecekleri yerim.

A. Doğru B.Yanlış

6.Hangi yiyecek

A .kola B. elma C. cips

7.Dişlerimizi günde kaç kez fırçalamalıyız.

A. bir kere B. iki kere C. beş kere



8.Aşağıdaki çocuklardan hangisinin yaptığı doğrudur?

A.Tırnaklarım uzarsa keserim.

B. Kirli yerlerde oynarım.

C. Dişlerimi fırçalamam.

9.Sağlıklı olmak içinyaparım. Boş bırakılan yere ne gelmelidir?

A. ders

B. spor

C. Çalışma

10. Sağlıklı beslenmek için hep aynı şeyleri yerim.

A. Doğru

B.Yanlış

11. Açıktaki satılan yiyecekleri yemem.

A.Doğru

B.Yanlış

12. Annem o gün ne hazırlamışsa onu yerim.

A. Doğru

B. Yanlış

13. Meyve ve sebzeler bizim için yararlıdır.

A. Doğru

B. Yanlış

14. Sürekli şekerli besinleri yerim.

A. Doğru

B. Yanlış

15.Hangi çocuk sağlıklı beslenmektedir?

A.Kola cips yerim.

B.Meyve ve sebze yerim.

C.Asitli içecek içerim.

16. Aşağıdaki besinlerden hangisi hayvansaldır?

A. zeytin

B. Patates

C. Bal

17.İnekler bize süt verir.Aşağıdakilerden hangisi süttten yapılmaz.

A. Peynir

B. Yoğurt

C.Yumurta



TÜRKÇE

1-B 2-C 3-C 4-B 5-C

6- 4 Televizyon 2 Ocak 3 Sandalye
 2 Martı 2 Sözlük 3 Kereviz
 2 Günlük 2 Balon 2 Konuk

7-

Kelebek	Ke-le-bek	Mehmetçik	Meh-met-çik
Mustafa	Mus-ta-fa	Sırt	Sırt
Semih	Se-mih	Enginar	En-gi-nar
Hastane	Has-ta-ne	Palamut	Pa-la-mut

8-B 9-C 10-A

11-

CÜMLE	HARF SAYISI	HECE SAYISI	SÖZCÜK SAYISI
Azra akşam bize gelecek.	20	9	4
Ömer bisiklet sürdü.	17	7	3
Hatice resimleri sınıfa astı.	25	12	4
Beyza uyudu.	10	5	2
Berat, o akşam sinemaya gitti.	24	11	5

12-(.) (?) (!)

13-B

14-A

15.

2.balık	3. Mustafa	3.okul
1.arı	2.Kemal	2.kitap
3. çekirge	1.Atatürk	1.bilgi

16-B

17-

Tatil	Ta-til	Bebek	Be-bek
Atatürk	A-ta-türk	Genç	Genç
Çekirdek	Çe-kir-dek	Kanepe	Ka-ne-pe
Aslan	As-lan	Asansör	A-san-sör

18-

Kelime	Zıt anlamı	Kelime	Zıt anlamı
Büyük	Küçük	Islak	Kuru
Uzun	Kısa	Soru	Cevap
Oğlan	Kız	Gece	Gündüz
Çirkin	Güzel	Sabah	Akşam
Genç	Yaşlı	Uzak	Yakın
Arka	Ön	Şişman	Zayıf
Doğru	Yanlış	Aşağı	Yukarı

19-

3.zarf	3.Mala	1.pençe
2. yama	1.davul	2.rende
1. vana	2. Hasır	3.tırnak

20-B



23 NİSAN

1-23 Nisan 2-Millet Meclisi 3-Atatürk

UÇURTMA

1-İlkbahar 2-Oyunlar oynuyor,uçurtma uçuruyorlardı 3-İp kısa olduğu için

UÇMAKTAN KORKAN UĞUR BÖCEĞİ

1-)C 2-B 3-C 4-A

İLAYDA

D-Y-Y-Y-D

1-B 2-A 3-C 4-A 5-C

SORU CEVAP

1-Oğuzhan, Parkta 2-Salih ile Fatih, Kitap
3-Sezer, Mart ayında 4-Ersan, Çantasını unuttu
5-Yazın, Tatile gidecek 6-Ömer'in, İki balığı var

MATEMATİK PROBLEMLER

1-7 2-9 3-8 4-15 5-16 6-20 7-13 8-12 9-17 10-15 11-13 12-11 13-13
14-14 15-10 16-12 17-5 18-14 19-12 20-18 21-16 22-14 23-16 24-14 25-8
26-16 27-10 28-17 29-9 30-13 31-15 32-13 33-8 34-7 35-9

HAYAT BİLGİSİ TEST

1-A 2-A 3-B 4-B 5-B 6-B 7-B 8-A 9-B 10-B 11-A 12-A 13-A 14-B 15-B
16-C 17-C

**ÇALIŞMADA EMEĞİ GEÇEN
ÖĞRETMENLER**

Hazırlayan : **Seyithan İNAÇ**

Düzenleyen: **Fırat NARİN**