


ADI SOYADI:

TÜRKÇE



Fatih Sultan Mehmet çocukken çok yaramaz bir öğrenciymiş. Derste yaptığı şımarıklıklarla Hocası Akşemseddin'i çileden çıkarırmış. Hocası kızdığı zaman "Ben Padişahın oğluyum, bana bir şey yapamazsın." diyormuş. Bu yaramazlıklar dayanılmaz bir hal alınca Akşemseddin, durumu babası II. Murat'a anlatmış.

Babasına güvenerek yaramazlık yapan oğluna ders vermek isteyen II. Murat, planını Akşemseddin'e anlatır. Hocası planı kabul etmek istemese de mecburen kabul eder.

Yine yaramazlık yaptığı esnada, babası aniden sınıfa girer. Hocası izinsiz içeri giren babasına kızarak bir tokat atar. Babası da özür dileyerek sınıftan çıkar. Bunu gören Fatih şok olur. Ne yapacağını şaşırır...

Plan iyi tutmuş. Mehmet bir daha yaramazlık yapmayarak bilgili bir padişah olan Fatih Sultan Mehmet olur..

(İlk üç soruyu metne göre cevaplayınız)

1-Fatih Sultan Mehmet, neden öğretmenin sözünü dinlemiyor?

- A)Kendini güçlü gördüğünden.
- B)Babası padişah olduğundan.
- C)Öğretmeni tarafından sevildiğinden.
- D)Dersleri sevmediğinden.

2- II. Murat, neden oğluyla ilgili bir plan yapma ihtiyacı hissediyor?

- A-Öğretmenine saygılı davranması için
- B)Büyüyünce padişah olması için
- C)Sınavlarda başarılı olması için
- D)Oğluna kızmak için

3-Aşağıdakilerden hangisi hikayenin karakterlerinden birisi değildir?

- A) Müdür
- B) Fatih Sultan Mehmet
- C) II.Murat
- D) Akşemseddin

4- Aşağıdaki sözcüklerden hangisi sözlükte en sonda yer alır?

- A)Çerez B)Çakıl C) Çetin D) Çevre

"İnsan, doğaya bağlı yaşar. Yaşamın olması için ortak hareket etmeliyiz. Bunun içinde vakit geçirmeden herkesi bilinçlendirelim."

5-Aşağıdaki kelimelerden hangisinin eş anlamlısı yukarıdaki ifadede yoktur?

- A)tabiat B)hayat C)zaman D)çevre

6- Aşağıdaki kelimelerden hangisi, satır sonunda hece kuralına göre bölünebilir?

- A)plan B)inek C)şişe D)kent



İtfayeciler <u>hortumu</u> canla başla tutuyorlardı.	Deyim Anlam	I.
Bu şarkıya <u>bayılıyorum</u> .	Mecaz Anlam	II.
Dolaptan <u>temiz</u> elbiselerini çıkardı.	Gerçek Anlam	III.
Bizimkinin iyice <u>çenesi</u> düştü.	Terim Anlam	IV.

7-Yukarıdaki ifadelerde, altı çizili kelimenin cümleye kattığı anlamların eşleştirilmesinde yanlışlık yapılmıştır. Yanlışlığın düzelmesi için hangi sıralamalar yer değiştirilmelidir?

- A)I-II B)I-IV C)II-IV D)II-III

8-Aşağıdaki cümlelerin hangisinde zıt anlamlı sözcükler bir arada kullanılmamıştır?

- A) Her şey incelikten insan kabalıktan kırıılır.
- B) Yakın komşu uzak akrabadan iyidir.
- C)Aza kanaat getirmeyen çoğu bulamaz.
- D)Kurunun yanında yaşta yanar.

9-Aşağıdaki cümlelerin hangisinde "ki" ekinin yazılışı doğrudur?

- A) Evde*ki* ekmekleri israf etmeyelim.
- B) Zaten var*ki*, bilmiyor muydun?
- C) Gelsin*ki*, yemek yiyelim.
- D) Sanırsın*ki* sınıf birincisi olmuş.

10-Aşağıdaki cümlelerin hangisinde büyük harflerin yazımıyla ilgili hata yapılmamıştır?

- A) Kış turizmi denilince akla uludağ gelir.
- B) ayağını yorganına göre uzat.
- C) Behzat "Ağrı Dağı Efsanesi" adlı kitabı okudu.
- D) Mustafa ve Kardeşi, Annesine çiçek aldı

11-Aşağıdaki cümlelerin hangisinde deyim anlamına uygun olarak kullanılmamıştır?

- A)Her gösterdiğim kıyafeti beğenmiyor, **burun kıvırıyor**.
- B)Tahtaya çıkında heyecandan adeta **elim ayağım dolaştı**.
- C)Babam iyi not almadığımı anlayınca beni **el üstünde tuttu**.
- D)Telefondaki konuşmaları daha iyi anlamak için **kulaklarımı kabarttım**.

12-Okunuşları ve yazılışları aynı ama anlamları farklı olan kelimelere sesteş kelimeler diyoruz.


Yukarıda yazılı tanıma göre koyu renkli kelimelerden hangisi sesteş değildir?

- A)Zeynep **al** biberleri tek tek seçerek **aldı**.
- B)Babam bir **gül** verince , annem **güldü**.
- C)Ablam **yüz** liraya **yüz** tane boncuk aldı.
- D)Dedem "**Koyun**ları ağıla **koyun**." dedi.

13- Aşağıdaki cümlelerin hangisinde pekiştirmeli bir sözcük kullanılmıştır?

- A) Yağmur, sınav birincisi olunca havalara uçtu.
B) Ramazanda sınırsız bir pide aldım
C) Akşam soğuktan her yer dondu.
D) Domatesin kırmızısı daha lezzetli olur.

14- Aşağıdaki nesnelerden hangisinin adında, ünlü ve ünsüz harf sayıları birbirine eşittir?



"Aman Allah'ım () Sen ne yaptın () Çabuk onu bana ver () Sana bunu kim eline al dedi ()"

15- Tümcesine, sırası ile aşağıdaki noktalama işaretlerinden hangisini koymalıyız?

- A) (.) (!) (.) (!) B) (!) (?) (!) (?)
C) (!) (?) (?) (.) D) (.) (?) (.) (.)

MATEMATİK

38 031




Yukarıda, benim bulunduğum yerdeki rakamların basamak değerleri toplamı kaçtır?

- A) 3 300 B) 30 003
C) 30 030 D) 30 300

2- Akar'ın babası, Kazakistan'da 2 yıl 3 ay 4 hafta boyunca çalışmış. Babası Kazakistan'da kaç gün çalışmış?

- A) 848 B) 756
C) 820 D) 880



3- Yukarıdaki model aşağıdaki işlemlerden hangisine aittir?

- A) $\frac{6}{9} - \frac{3}{9} = \frac{3}{9}$ B) $\frac{9}{9} - \frac{3}{9} = \frac{6}{9}$
C) $\frac{9}{12} - \frac{3}{12} = \frac{6}{12}$ D) $\frac{6}{12} - \frac{3}{12} = \frac{3}{12}$

4- Tuana, anneannesinin bahçesinden topladığı zeytinlerden 3024 L zeytinyağı elde ediyor. Yağları 6 L'lik kaplara dolduruyor. Elde ettiği kapların 444 tanesini satınca geriye kaç tanesi kalıyor?

- A) 25 B) 40
C) 44 D) 60

15

22

29

36

44

50

5- Yukarıdaki örüntüde kuralı bozan sayı aşağıdakilerden hangisidir?

- A) 44 B) 22 C) 36 D) 15

6- Hasan, kuzenleriyle birlikte saat 15.00'de maç yapmaya başlıyor. İlk yarı ve ikinci yarı 30'ar dakika maç yapıyorlar. İlk yarıdan sonra 15 dakika dinlendiklerine göre maç kaçta bitiyor?

- A) 15.30 B) 15.50
C) 16.15 D) 16.30

$\frac{3}{3}$	$\frac{3}{9}$	$\frac{3}{5}$	$\frac{3}{7}$
a	b	c	d

7- Yandaki kesirlerin büyükten küçüğe doğru sıralanışı aşağıdakilerden hangisidir?

- A) $a > c > d > b$ B) $b > c > a > d$
C) $a > b > d > c$ D) $a > d > c > b$

8- Arda, 160 sayfalık kitabın $\frac{3}{5}$ 'ünü okudu.

Geriye okunması gereken kaç sayfası kaldı?

- A) 55 B) 64
C) 20 D) 35

2000	1992	2012
2007	2010	2021

Yukarıda tarihlerden kaç tanesi artık yıldır?

- A) 3 B) 4 C) 5 D) 6

$$45 - \dots = 500 \div 25$$

10- Yukarıdaki matematiksel ifadede eşitliğin sağlanabilmesi için noktalı yere hangi sayı gelmelidir?

- A) 25 B) 30
C) 35 D) 45

11- Aşağıdaki cümlelerden hangisi yanlış bir ifadedir?

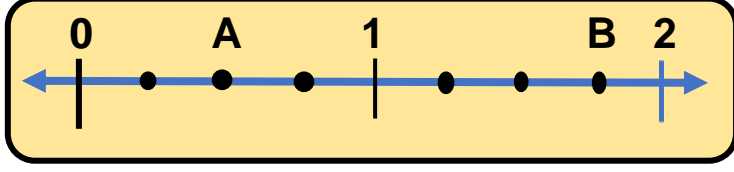
- A) Artık yıllar, dört yılda bir olur.
B) Dakikanın atmışta birine saniye denir.
C) Bir hafta yirmi dört saate eşittir.
D) Nisan ayı otuz gün sürer.

12- Bir bölme işleminde bölüm 15, bölen 15 olduğuna göre bölünen sayısı en fazla kaç olabilir?

- A) 220 B) 323
C) 239 D) 334

13-) Bir çiftlikteki hayvanların $\frac{3}{10}$ at, $\frac{4}{10}$ inek ve geri kalanlarda koyun olduğuna göre koyunlar tüm hayvanların kaçta kaçıdır?

- A) $\frac{3}{10}$ B) $\frac{6}{10}$ C) $\frac{7}{10}$ D) $\frac{17}{10}$



14-)Yukarıdaki sayı doğrusunda A ve B noktasına karşılık gelen kesirlerin farkı aşağıdakilerden hangisidir?

- A) $\frac{7}{4}$ B) $\frac{5}{4}$ C) $\frac{3}{4}$ D) $\frac{1}{4}$

Sade	
Çikolatalı	
Limonlu	
Çilekli	

Her şekil 3 dondurmayı göstermektedir.

15-)Yandaki nesne grafiğinin sıklık tablosu aşağıdakilerden hangisidir?

A

Dondurma çeşitleri	Satılan dondurma
Sade	5
Çikolatalı	15
Limonlu	6
Çilekli	18

B

Dondurma çeşitleri	Satılan dondurma
Sade	15
Çikolatalı	21
Limonlu	9
Çilekli	18

C

Dondurma çeşitleri	Satılan dondurma
Sade	12
Çikolatalı	14
Limonlu	8
Çilekli	10

D

Dondurma çeşitleri	Satılan dondurma
Sade	15
Çikolatalı	10
Limonlu	9
Çilekli	6

ADI SOYADI:

FEN BİLİMLERİ

I	Ayran-Çorba-Tuzlu su	III	Tuz- Şekerli su- Toprak
II	Su- oksijen-gümüş	IV	Salata- ekmek- mıknatıs

1-Yukarıdaki seçeneklerden hangisinin tamamı saf maddeden oluşmaktadır?

- A)I B)II C)III D)IV

2-Aşağıdakilerden hangisi geri dönüşümün yararlarından değildir?)


- A)Enerji tasarrufu sağlar.
B)Ekonomiye katkı sağlar
C) Daha fazla ağaç kesilir.
D) Doğal kaynakları korur.

3-Aşağıdakilerden hangisi yanlış bir ifadedir?

- A) Yediğimiz tüm besinler karışımdır.
B) Karışım, birden fazla saf maddeden oluşur.
C) Karışımdaki maddeler özelliklerini kaybetmez.
D) Hava saf bir madde değildir.

4-Mıknatısla ilgili aşağıdaki ifadelerden hangisi doğrudur?

- A)Karışımla elde edilmiştir.
B) Kapı zilinde mıknatıs yoktur.
C)Tüm metalleri çekme özelliği vardır.
D) Batı ve doğu isimli kutupları vardır.



5-Sevgi, kardeşi Zeynep'in ateşinin yüksek olduğunu hissedince termometreyle ölçüyor.Ateşinin 38°C olduğunu görünce hemen okulda

öğrendiği bilgiler geliyor. Aşağıdakilerden hangisi bu bilgilerden biri olamaz?

- A)Islak bezi vücudu temas ettirmek.
B)Serin bir suyla duş aldirmek.
C)Kalın kazak giydirip, üstünü örtmek.
D)Kısa aralıklarla sıcaklığı ölçüp, not etmek.

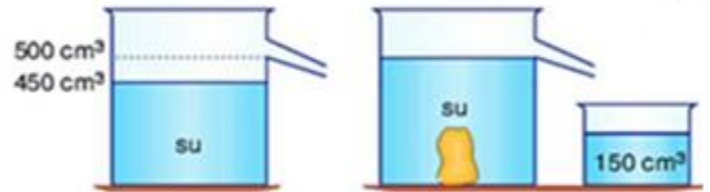
Her bitki ve hayvan fosilleşemez, fosilleşmenin oluşabilmesi için

6-Kutudaki ifade aşağıdakilerden hangisi ile tamamlanırsa verilen bilgi doğru olur?

- A) Bir doğal afet olması gerekir.
B) Canlı kalıntısı çok büyük olmalıdır.
C) Canlının havayla temasının hemen kesilmesi gerekir.
D) Havanın çok soğuk olması gerekir.

7-Aşağıdakilerden hangisi iskeletimizi oluşturan kemiklerin korunması ve gelişmesi için gerekli olan besin içeriğidir?

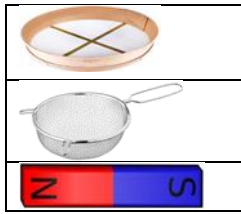
- A)Kalsiyum B)Vitamin
C)Yağ D)Karbonhidrat



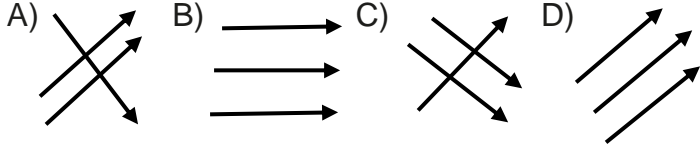
8-) 500mL su alabilen bir kaba 450 mL su konulduktan sonra içine patates atılıyor. Taşan su küçük kaptaki toplandığında 150mL olduğuna patatesin hacmi kaç mL'dir?

- A)500 B)300
C)200 D)100

Toplu iğne plastik ataş
Pirinç - tuz
Makarna - su



9-Yukarıdaki karışımları ayırtmak için kullanılacak araçlar eşleştirildiğinde şekil nasıl olur?



8-Katı haldeki bir maddenin ısı alarak sıvı hale geçmesine ne ad verilir?

- A)Soğuma B)Buharlaşıma C)Erime D)Donma

SOSYAL BİLGİLER

Alışverişimde TSE damgalı ürünleri tercih ederim.	
Alışveriş sonrası fiş veya fatura istemem.	
Alışveriş yaparken reklamların etkisinde kalmam.	
Alışveriş yaparken temel ihtiyaçlara öncelik veririm.	


1-Yukarıdaki ifadeleri doğru veya yanlış olarak işaretlersek sıralama nasıl olur?

- A)Y-Y-D-D B)D-D-D-Y
C)D-Y-D-D D)D-D-Y-Y

Bütçeme uygun yeni kıyafetler aldım.

2-M.Sefa'nın ifadesindeki **bütçe** kelimesinin anlamı aşağıdakilerden hangisidir?

- A)Bilinçli alış-veriş yapmak
B)Gelirlerimizin tamamına denir.
C)Harcamaların toplamıdır.
D)Gelir ve giderin toplamıdır.



3-"Günümüzde kullandığımız bilgisayarların, robotların, motorların, saatlerin, daha nice aletin mucidinin 800 küsur yıl önce yaşamış bir Müslüman bilim adamı, Cizreli olduğunu biliyor muydunuz?"

Sorusunun cevabı biliyorsanız aşağıdakilerden hangisidir?

- A)Farabi B)Cezeri C)Biruni D)Harizmi

4-Aşağıdakilerden hangisi sosyal ihtiyaçlarımızdan biridir ?

- A) Kahvaltı yapmak B) Okula gitmek
C) Soğukta kalın giyinmek D) Su içmek

5-Mondros'tan sonra başlayan işgallere karşı milletimiz bağımsızlığımızı yeniden kazanmak amacıyla ülkemizin dört bir yanında Kuvay-i Milliye birlikleri kurarak, işgallere karşı direnişler göstermiştir. Bu direnişteki zaferlerinden dolayı bazı şehirlerimize ünvanlar verilmiştir. Buna göre aşağıdaki şehirlerimizden hangisi Milli Mücadele'de Fransızlara karşı mücadele etmemiş ve ünvan almamıştır?

- A)Antep B)Ankara C)Maraş D)Urfa

6- Kamyonlara yüklenen malların ülkenin dört bir tarafına gönderilmesi hangi aşamadır?

- A)Üretim B)Tüketim C)Satış D)Dağıtım

	1	a	Sisli
	2	b	Karla karışık yağmurlu
	3	c	Kar yağışlı
	4	d	Güneşli

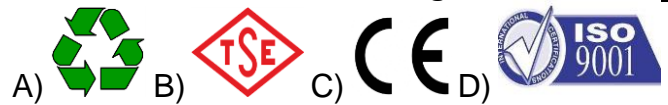
7-Yukarıdaki tabloda hava olaylarının sembolleri ile anlamlarının eşleştirmesi aşağıdakilerin hangisinde doğru gösterilmiştir?

A-	1	d	B-	1	d	C-	1	c	D-	1	a
	2	c		2	a		2	d		2	b
	3	a		3	c		3	a		3	d
	4	b		4	b		4	b		4	c

8-Aşağıdaki ürünlerden hangisinin geri dönüşümü yapılamaz?

- A) çikolata B) kitap C) bardak D) tencere

9-Aşağıdakilerden hangisi satılan ürünün denetlenmiş ve kaliteli olduğunu göstermez?



10Aşağıda bazı ham maddeler ve bunlardan elde edilen ürünler eşleştirilmiştir. Hangisi yanlıştır?

- A) Ağaç- Kağıt B) Buğday- Ekmek
C) Pamuk- Gömlek D) Kristal- Cam