

1.SINIF



TOPLAMA ÇIKARMA PROBLEMLERİ

SEÇKİN SORULAR

KOLAY
OKUL




Zehra 1.sınıf hikaye kitabının 10 sayfasını okudu.
Kitabı toplam 16 sayfa ise geriye kaç sayfası kaldı?



Dikkat!!!

Toplamı verilmiş, içinden bir parçası alınmış ise çıkarma işlemi yapıyoruz.



$$\begin{array}{r} 16 \\ - 10 \\ \hline 6 \end{array}$$

→ Eksilen
→ Çıkan
→ Kalan



Kolay Okul



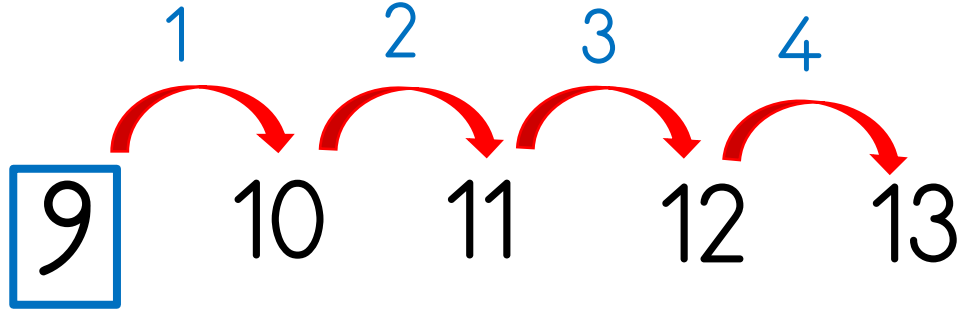
9 sayısının 4 fazlası kaçtır?

Dikkat !!

Fazla ifadesi toplama işlemini gösterir.

Toplama 
Çıkarma

$$\begin{array}{r} 9 \\ + 4 \\ \hline 13 \end{array}$$





Bir sayının **7** eksiği **13** ise bu sayı kaçtır?

Kolay Okul



13



13
7
+
—
20

7



Parkta 5 tane çocuk oynuyordu. Az sonra 3 çocuk, daha sonra da 2 çocuk geldi. Parkta kaç çocuk oldu?



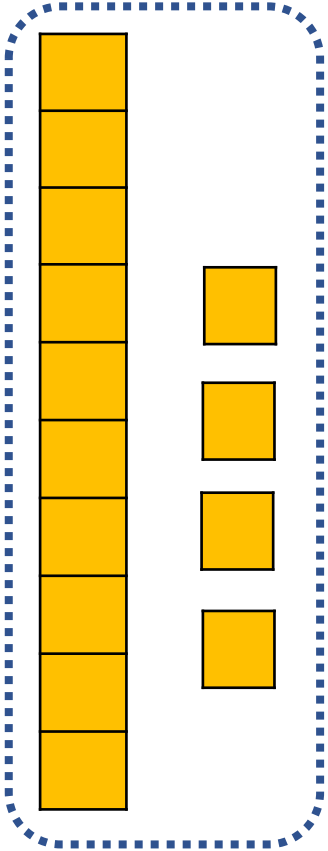
Toplama 
Çıkarma

$$\begin{array}{r} 5 \\ 3 \\ + 2 \\ \hline 10 \end{array}$$

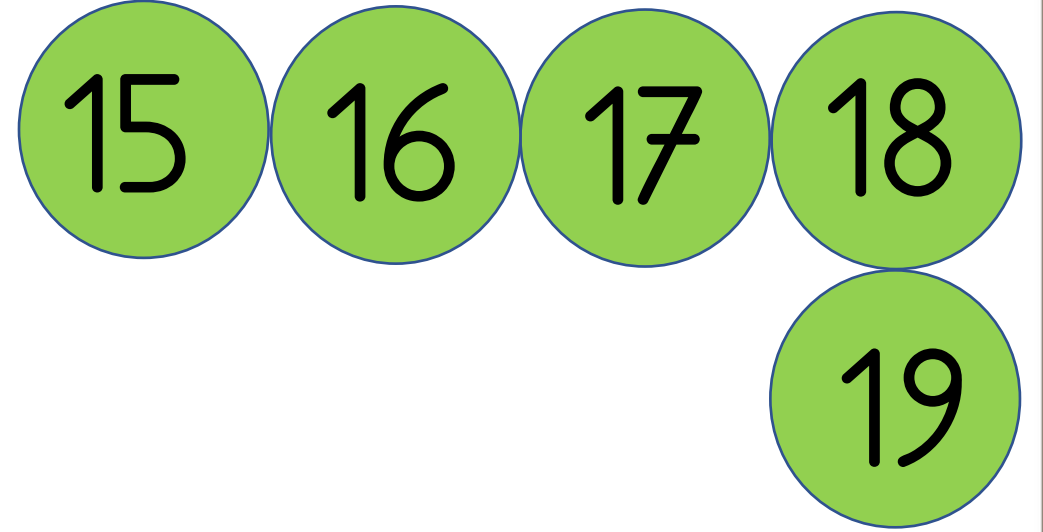




1 onluk 4 birlikten oluşan sayının 5 fazlası kaçtır?




$$\begin{array}{r} 14 \\ + 5 \\ \hline 19 \end{array}$$





Bir rafta **19** hikaye kitabı vardır. **13** tane de boyama kitabı vardır. Hikaye kitabı boyama kitabından kaç fazladır?

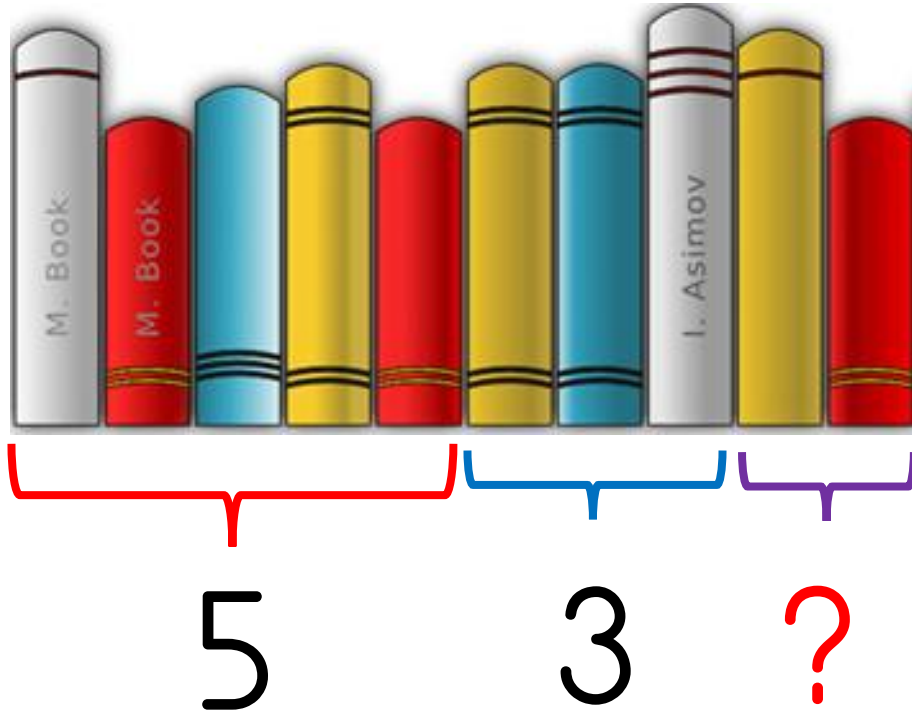


6

$$\begin{array}{r} 19 \\ - 13 \\ \hline 6 \end{array}$$



10 tane hikaye kitabımın önce 5 tanesini sonra 3 tanesini okudum. Okumadığım kaç kitabım kaldı?



$$\begin{array}{r} 10 \\ - 5 \\ \hline 5 \end{array}$$

$$\begin{array}{r} 5 \\ - 3 \\ \hline 2 \end{array}$$



Samet 12 yaşındadır ablası Öznur ise 15 yaşındadır.
3 yıl önceki yaşlarının toplamı kaçtır?



	Şimdi		3 yıl önce
Samet	12	→	9
Öznur	15	→	12

$$\begin{array}{r} 9 \\ + 12 \\ \hline 21 \end{array}$$



Bir sınıftaki 18 öğrenciden 10'u kızdır. Sınıfa 3 erkek öğrenci daha geldi. Erkek öğrenci sayısı kaç oldu?



LÜTFEN CEVABI BİZE YAZIN.