

T.C.
VAN VALİLİĞİ
İL MİLLİ EĞİTİM MÜDÜRLÜĞÜ

ÖLÇME DEĞERLENDİRME MERKEZİ

5. SINIF
SOSYAL BİLİMLER DERSİ
KAZANIM DEĞERLENDİRME TESTLERİ

- 1
- Krallıkla yönetilir, çok tanrılı inanca sahiplerdir.
 - Sulama kanalları yaparak tarımı geliştirmişlerdir.
 - Taş işçiliğinde ileri gitmişlerdir. Bunun en önemli örneği Van Kalesi'dir.

Verilen özellikler İlkçağ uygarlıklarından hangisine aittir?

- A) İyonlar B) Hititler C) Frigler D) Urartular

2

| Anadolu'da Kurulan Uygarlıklar | | | | | Mezopotamya'da Kurulan Uygarlıklar | | |
|--------------------------------|---------------|---------------|-----------------|------------------|------------------------------------|----------------|---------------|
| Hititler MÖ | Frigler MÖ | İyonlar MÖ | Urartular MÖ | Lidyalılar MÖ | Sümerler MÖ | Babiller MÖ | Asurlar MÖ |
| 2000-700 | 1200-676 | 1200-546 | 900-600 | 700-547 | 3500-2000 | 2105-338 | 2000-612 |

İlk çağ Uygarlıkları ile ilgili verilen tarihsel zaman şeridine göre;

- I. Dünya tarihinde ilk kurulan ilk uygarlık Hititlerdir.
 II. Asurlar ve Hititler aynı dönemde kurulmuşlardır.
 III. Anadolu'daki uygarlıklar daha uzun ömürlü yaşamışlardır.

Verilen öncüllerden hangisi veya hangileri doğrudur?

- A) Yalnız I B) Yalnız II C) I ve II D) I, II ve II

3



Verilen görselde soru işreti (?) yerine gelebilecek en uygun başlık hangisidir?

- A) Tarihî nesne B) Doğal varlık
 C) Tarihî mekan D) Tarihî eser

4

| | | |
|---|---|--|
|  |  |  |
| Ülkemizin doğal güzelliklerinden biri: Pamukkale Travertenleri | Tarihe tanıklık edillen mekân: Sümela Manastırı | Eşsiz mavisi ile tatil cenneti: Ölüdeniz |



Sami yaz tatilinde ailesi ile Türkiye turuna çıkmış, birçok şehir gezme fırsatı bulmuştur. Gezdiği yerleri sosyal medya hesabından konum kullanarak arkadaşları ile paylaşmıştır.

Yukarıdaki konum bilgilerine göre Sami hangi şehre gitmemiştir?

- A) Muğla B) Denizli C) Konya D) Trabzon

5



Halicilik, el sanatlarımız içinde önemli bir yere sahiptir. Orta Asya Türkleri döneminden beri Türkler halıcılık sanatıyla ilgilenmişlerdir. Ülkemizde halı yapımında genellikle doğal kök boyalar kullanılır. Türk halılarında genellikle geometrik motifler, doğa tasvirleri, çiçek motifleri işlenir. Tarihte bilinen ilk Türk halısı MÖ 3.yy'dan kaldığı tahmin edilen Pazırık Halısı'dır. Günümüzde Ladik, Gördes, Hereke, Bünyan ve Isparta halılarıyla ünlü yörelerimizdir.

Kültürel öğelerimizden halıcılık sanatı ile ilgili hangisine ulaşılamaz?

- A) Halıcılık sanatının ilk örnekleri Orta Asya Türklerine dayanır.
 B) Ülkemizde en iyi örnekleri Güneydoğu Anadolu Bölgesi'ndedir.
 C) Türk halılarının üzerine kendine has, anlamlı motifler işlenir.
 D) İnsanların duygularını yansıttığı ve becerilerini sergilediği kültürel özelliktir.

6



Orhan Öğretmen'in tahtaya yazdığı soruya verilen cevaplardan hangisi **yanlıştır**?

- A) Ailelerinden uzakta yaşayan kişiler teknolojik araçlar sayesinde görüntülü olarak ziyaret edilebilmektedir.
- B) Teknolojinin, sağlık alanında gelişmesi insanların hastalıklarının kısa sürede teşhis ve tedavi edilmesini sağlar.
- C) Günümüzde tren, gemi, uçak, otomobil gibi ulaşım araçları sayesinde seyahatler oldukça kısa sürmektedir.
- D) Sosyal medya üzerinden yapılan paylaşımlar insanlarda şiddet ve saldırganlık duyguları uyandırabilir.

- 7 Türkiye İstatistik Kurumu tarafından yapılan araştırmanın sonuçlarına göre, bireylerin genel ağı kullanma amaçları aşağıda verilmiştir.

| | |
|---|-------|
| Sosyal medya üzerinden profil oluşturma, mesaj gönderme veya fotoğraf vb. içerik paylaşma | %82,4 |
| Paylaşım sitelerinden video izleme | %74,5 |
| Haber, gazete ve dergi okuma | %69,5 |
| Sağlıkla ilgili bilgi arama | %65,9 |
| Mal ve hizmetler hakkında bilgi edinme | %65,5 |
| Müzik dinleme | %63,7 |
| Mal veya hizmet satın alma | %34,1 |

- I. Bireyler en fazla sosyal medyayı kullanmak amacıyla genel ağı kullanmışlardır.
- II. Genel ağ, sağlıkla ilgili kullananların sayısı müzik dinlemek için kullananların sayısından azdır.
- III. Ülkemizde bireylerin genel ağı kullanma amaçları farklılık göstermektedir.

Yukarıdaki tablo incelendiğinde numaralandırılmış yargılarından hangilerine ulaşılabilir?

- A) Yalnız I
- B) I ve II
- C) I ve III
- D) I, II ve III



8 Sosyal ağlarda paylaşmamamız gereken kişisel bilgiler:

- Doğum tarihinizin gün ve ay kısmı
- Doğum yeriniz
- Anne kızlık soyadınız
- Ev, iş ve okul adresiniz
- Telefon ve T.C. kimlik numaranız

Genel ağ kullanırken yukarıdaki kişisel bilgilerimizi paylaşmak tehlikeli ve sakıncalı bir durumdur.

Buna göre aşağıdaki bireylerden hangisinin genel ağı güvenli kullanımı söz konusudur?

- A) **Hamza:** Sosyal medya hesabımda telefon numaramı kaydettim.
- B) **Hatice:** Profil fotoğrafımda oturduğum evi konumu paylaştım.
- C) **Gülsüm:** Kullanıcı adımda T.C. kimlik numaramı yazdım.
- D) **Mustafa:** Şifreimi harf, sayı ve özel işaret kullanarak oluşturdum.

9

Hazel Erva “Bilim insanlarının ortak özellikleri” torbasına yukarıdaki ağaçtan hangi elmaları toplarsa işini doğru yapmış olur?

- A) Sabırlı ve Çalışkan
- B) Ön yargılı ve Çalışkan
- C) Taraflı ve Sabırlı
- D) Ön yargılı ve Taraflı

- 10 Bilim insanları yaptıkları çalışmaları bilimsel düşünme sayesinde ortaya koymuşlardır. Bu sayede çeşitli konuların nedenleri üzerinde düşünmüşler ve yeni fikirler ortaya koyarak insanlığa katkıda bulunmuşlardır. Bunu yaparken kendilerinden önce yapılan çalışmaları inceleyip mevcut bilgileri değerlendirmişlerdir.
- Araştırma ve inceleme yaparken konulara bilimsel yaklaşıma özen göstermeliyiz. Bilim insanları gibi zorlukların üstesinden gelebilmeli, başarısızlıklar karşısında pes etmemeliyiz. Sabırlı bir şekilde çalışmalarını sürdüren bir insanın hedefine mutlaka ulaşacağını unutmamalıyız.

Buna göre bilim insanları ile ilgili aşağıdakilerden hangisine ulaşamaz?

- A) Bilimsel düşünceleri sayesinde yaratıcı fikirler öne sürmüşlerdir.
- B) Yaptıkları çalışmalarda kendinden önceki çalışmaları inceleme gereği duymamışlardır.
- C) Çalışmalarını yalnız kendilerine değil tüm insanlığa sunmuşlardır.
- D) Başarısızlık karşısında pes etmeyen, her daim mücadeleci bir şekilde davranmışlardır.

- 11 ♦ İnsanlar geçmişte ağır yükleri bir yerden başka bir yere kas gücüyle taşıyorlardı. Ardından yük taşımak için yuvarlanan ağaç kütüklerini kullanmaya başladılar. Bu sistem, ilerleyen yıllarda tekerleğin icadına katkı sağladı.
- ♦ İnsanlar geçmişte aydınlanmak için yalnızca güneş ışığından faydalanıyordu. Ancak gece olduğunda yıldızlardan gelen ve Ay'dan yansıyan ışınlar Dünyamızı yeterince aydınlatmadığından insanlar çevrelerindeki varlıkları net bir şekilde göremiyordu. Bu nedenle çeşitli aydınlatma araçlarına ihtiyaç duyuyorlardı. Ateşin keşfinden sonra geliştirilen meşale, insanların ilk aydınlatma araçlarından biriydi.

Yukarıda bilimin tarihsel süreci ile ilgili çıkarılabilecek sonuç aşağıdakilerden hangisidir?

- A) İlk çağ uygarlıklarının bilimsel bilgi birikimine katkısı yok denecek kadar azdır.
- B) İnsanlar geçmişte bilimsel çalışmaları bir uğraş alanı olarak görmüşlerdir.
- C) Geçmişte yaşamış insanlar, ateşi sadece ısınmak amacıyla kullanmışlardır.
- D) Karşılaştıkları problemi çözme gayreti ve merak duygusu yeni buluşlar getirmiştir.

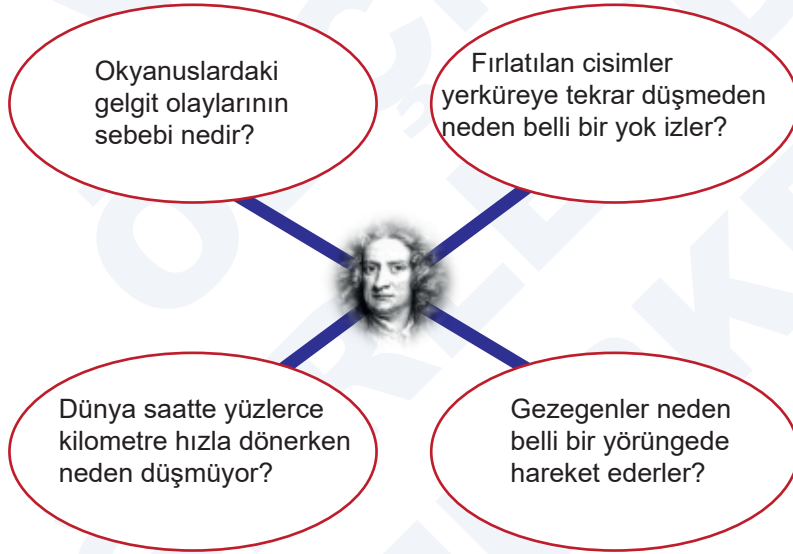
12

| | | | |
|---|-----------|---|-------------|
| 1 | TELEFON | ⇒ | GRAHAM BELL |
| 2 | RADYO | ⇒ | MARCONI |
| 3 | AMPUL | ⇒ | NEWTON |
| 4 | YERÇEKİMİ | ⇒ | EDİSON |

Yukarıda bilim insanları ve çalışmaları eşleştirilen numaralardan hangileri yer değiştirirse yanlış düzeltilmiş olur?

- A) 1 ve 2 B) 1 ve 3 C) 2 ve 4 D) 3 ve 4

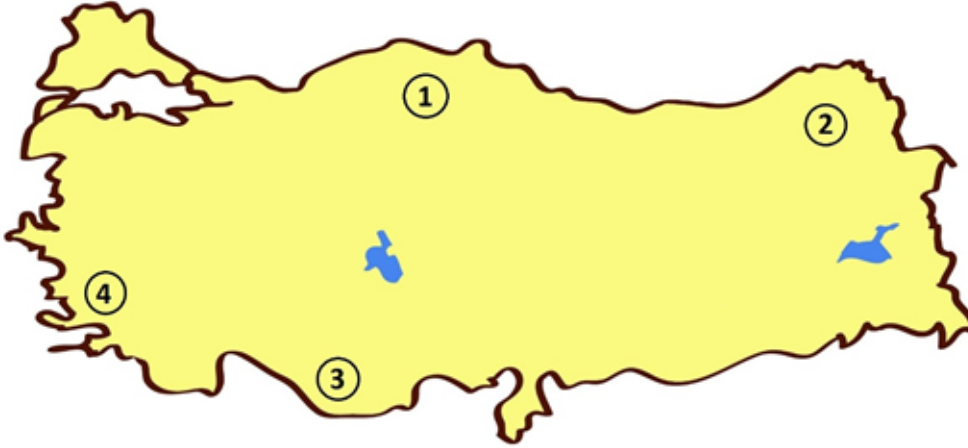
13



Yukarıdaki sorulara cevap arayan Newton'un hangi alanda çalışmaları yaptığı söylenebilir?

- A) Tıp B) Matematik C) Astronomi D) Felsefe

14



Yazları uzun ve güneşli geçen kıyı kesimleri deniz turizminin merkezi hâline gelmiştir.

Verilen görselde numaralı gösterilen bölgelerden hangileri deniz turizmine uygundur?

- A) 1 ve 2 B) 2 ve 4 C) 1 ve 3 D) 3 ve 4

15



Yalnızca görsel incelendiğinde;

- I. Ülkemiz hayvancılık faaliyetleri için uygun şartlar taşımaktadır.
- II. Büyükbaş hayvancılık daha çok ülkemizin doğu kesiminde yapılmaktadır.
- III. Arıcılık faaliyetleri sadece dağlık olan bölgelerde yapılması uygundur.

Yargılarından hangilerine ulaşılabilir?

- A) Yalnız III B) I ve II C) I ve III D) I, II ve III

| | |
|----|---|
| 1 | D |
| 2 | B |
| 3 | A |
| 4 | C |
| 5 | B |
| 6 | D |
| 7 | C |
| 8 | D |
| 9 | A |
| 10 | B |
| 11 | D |
| 12 | D |
| 13 | C |
| 14 | D |
| 15 | B |