



**AD SOYAD :**

# EV ÇALIŞMASI

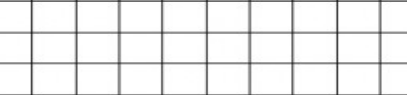
Ahmet'in 6 balonu vardı. 8 balon da Ali verdi. Ahmet'in kaç balonu oldu?




Bir ağaçta 12 kuş vardı. 8 kuş daha kondu. Kaç kuş oldu?




Hayal Su sabah 10, öğleden  
sonra da 9 tane fındık yedi.  
Hayal Su kaç fındık yedi?



Emin'in 12 tane misketi vardı.  
6 misket de ablası verdi.  
Emin'in kaç misketi oldu?



Bir gölde 9 ördek vardı, 7 ördek daha geldi. Kaç ördek oldu?

A large rectangular grid consisting of 10 columns and 8 rows of squares, intended for drawing a picture.

Annem Salı günü 8,  
Çarşamba günü 4 yumurta  
pişirdi. Annem iki günde kaç  
yumurta pişirmiş oldu?

[illegible]