



ADI:

SOYADI:

SINIFI:


SORU	SOSYAL BİLGİLER TESTİ SORULARI	
1	<p>Aile, toplumun en küçük yapı taşıdır. İnsanların ilk sosyalleşmesi ailede gerçekleşir. Ailemizde de birtakım sorumluluklarımız vardır. Ailesindeki görevlerini yerine getirenler, toplumsal kurallara da uymuş olurlar.</p> <p>Buna göre, aşağıdakilerden hangisi evlerimizdeki sorumluluklardan biri <u>değildir</u>?</p> <p>A) Annemize yardımcı olmak B) Ev kurallarını sadece kendimizin belirlemesini sağlamak C) Babamıza yardımcı olmak D) Evimizi temiz tutmak</p>	<p>I. Anayasa II. Kanun III. Görgü kuralları</p> <p>5 Yukarıdakilerden hangileri ile haklarımız koruma altına alınmıştır?</p> <p>A) Yalnız I. B) Yalnız II. C) I ve II. D) I, II ve III.</p>
2	<p>Hazal altıncı sınıf öğrencisidir. Ailesiyle ayakkabıcı dükkânından ayakkabı almıştır. Fiş almadan eve gelen Hazal ve ailesi, ayakkabının daha önce kullanılmış olduğunu fark etmişlerdir. Ayakkabıcıya geri götürdüklerinde ise mal sahibi ayakkabıyı değiştirmek istememiştir.</p> <p>Bu durumda Hazal ve ailesi aşağıdakilerden hangisini yapmalıdır?</p> <p>A) Hazal ayakkabıyı kullanmaya devam etmelidir. B) Hazal yeni ayakkabı almalıdır. C) Hazal ayakkabıları çöpe atmalıdır. D) Hazal ve ailesi Tüketici Hakları Mahkemesine başvurmalıdır.</p>	<p>6  Ben Oğuz Kağan'ım. Halkımı ve atlanımı öldüren canavarı avlamak için kargım (mızrak) ile ava gittim. Kargım canavarı öldürdü. Çünkü kargım demirdendi.</p> <p>Oğuz Kağan'ın anlattıklarından hareketle, Türklerle ilgili aşağıdakilerden hangisi söylenebilir?</p> <p>A) Madencilik ve maden işleminde ileri seviye dedirler. B) Hukukta gelişmişlerdir. C) Tarımda yüksek teknoloji kullanırlar. D) Ticarete başarılıdırlar.</p>
3	<p>Devlet, vatandaşlarına hizmet etmekle sorumludur. Devlet bu hizmetleri yerine getirirken de çeşitli harcamalar yapar.</p> <p>Buna göre, devletin kamu giderlerini karşılaması ve bizlere daha iyi hizmet vermesi için yapmamız gereken vatandaşlık sorumluluğu aşağıdakilerden hangisidir?</p> <p>A) Kanunları değiştirmek B) Vergi vermek C) Askere gitmek D) Oy kullanmak</p>	<p>7  İlk Türk Destanları:</p> <p>Öğretmen Suzan Hanım, tahtaya ilk Türk destanlarını yazacaktır.</p> <p>Buna göre, Suzan Hanım aşağıda verilenlerden hangisini tahtaya yazarsa <u>yanlış</u> bilgi vermiş olur?</p> <p>A) Yaratılış Destanı B) Alp Er Tunga Destanı C) İlyada Destanı D) Türeyiş Destanı</p>
4	<p>Hun hükümdarı Mete Han'ın Çin'i ele geçirmesine rağmen, Çin topraklarına yerleşmemesinde Türklerin;</p> <p>I. millî benliklerini kaybetmek istememeleri, II. Çin Seddi'ni kolaylıkla aşabilmeleri, III. en önemli gelir kaynağının hayvancılık olması durumlarından hangileri etkili olmuştur?</p> <p>A) Yalnız I. B) I ve II. C) Yalnız II. D) II ve III.</p>	<p>8</p> <ul style="list-style-type: none"> Türklerin kurduğu ilk teşkilatlı Türk devletidir. En önemli hükümdarı Mete Han'dır. Orta Asya'da ilk Türk siyasi birliğini sağlamışlardır. <p>Bazı özellikleri verilen Türk devleti aşağıdakilerden hangisidir?</p> <p>A) Kök Türkler B) Uygurlar C) Hunlar D) Selçuklular</p>

ADI: SOYADI: SINIFI:

9	<p>Türkler çeşitli nedenlerden dolayı bulundukları yerlerden göç etmek zorunda kalmışlardır.</p> <p>Aşağıdakilerden hangisi Türklerin göç etmelerinin nedenlerinden biri <u>değildir</u>?</p> <p>A) Otlakların azalması B) Salgın hayvan hastalıkları C) Siyasi anlaşmazlıklar D) Ticareti geliştirmek için koloniler kurulması</p>	13	<p>Merhaba! Benim adım Moyen. Hükümdarımız Böğü Kağan, Mani dinini benimsedi ve bu dini resmî din kabul etti. Ancak bu din halkım arasında fazla yayılmadı. Çünkü Mani dini et yemeyi ve savaşçılığı yasaklıyordu.</p> <p>Buna göre Moyen'in aşağıda verilen ilk Türk devletlerinden hangisinde yaşadığı söylenebilir?</p> <p>A) Uygurlar B) Hunlar C) Kök Türkler D) Gazneliler</p>
10	<p>Çocuklar! Hanginiz Kavimler Göçü'nün sonuçlarına örnek vermek ister?</p> <p>Öğretmenin sorusuna aşağıdaki öğrencilerden hangisinin verdiği örnek <u>yanlıştır</u>?</p> <p>A) Orta Çağ sona erdi, Yeni Çağ başladı. B) Roma İmparatorluğu ikiye ayrıldı. C) Avrupa Hun Devleti kuruldu. D) Avrupa orduları Türk askerî sistemini örnek almaya başladı.</p>	14	<p>Ben Tanrı'nın yardımıyla ve talihim yardım ettiği için hakan oldum. Hakan olup bütün yoksul milleti topladım, fakir milleti zengin, az milleti çok ettim.</p> <p>Yukarıda Orhun Yazıtları'ndan bir metin verilmiştir. Verilen metne göre aşağıdaki ifadelerden hangisi <u>çıkarılamaz</u>?</p> <p>A) Hükümdarın halkını bir araya getirdiği B) Hükümdarın halkının refah seviyesini yükselttiği C) Nüfuslarının arttığı D) Hükümdarın yazılı kanunlar yaptığı</p>
11	<p>İlk Türk devletlerinde önemli devlet işleri Kurultayda görüşülürdü. Kurultay genellikle yılda iki defa toplanırdı. Kurultay hükümdara devlet işlerinde yardımcı olurdu. Ayrıca kurultaya yöneticiler, boy beyleri ve hükümdarın eşi olan hatun da katılırdı. Kurultayda alınan kararlar hükümdar tarafından onaylanırsa yürürlüğe girerdi.</p> <p>Kurultayla ilgili verilen bilgilere göre aşağıdaki yorumlardan hangisi <u>yapılamaz</u>?</p> <p>A) Savaş, barış, vergi gibi önemli kararlar kurultayda alınır. B) Devlet yönetimini hükümdarın eşinin de sözhakkı vardır. C) Hükümdar kurultayın aldığı kararlara kesinlikle uymak zorundadır. D) Kurultay danışma meclisi özelliği gösterir.</p>	15	<p>Orta Asya'da yaşayan ilk Türk toplulukları ile ilgili aşağıda verilen bilgilerden hangisi <u>yanlıştır</u>?</p> <p>A) Temel geçim kaynakları hayvancılık olduğu için büyük hayvan sürülerine sahiptirler. B) Türkler "çadır - köy" veya "çadır - şehir" hâlinde yaşarlardı. C) Otları bol ve karı az olan, dağların güneş gören yerlerini tercih ederlerdi. D) Çin sınırına yakın yerlerde yaşamayı tercih ederlerdi.</p>
12	<p>Orhun Yazıtları'nı inceleyen bir tarihçi;</p> <p>I. Türk dili, II. Türk tarihi, III. Türk edebiyatı</p> <p>unsurlarından hangileri hakkında bilgi sahibi olabilir?</p> <p>A) Yalnız I. B) I ve II. C) II ve III. D) I, II ve III.</p>	16	<p>İnsanların yaşamları üzerinde yeryüzü şekillerinin ve iklimin çok önemli etkisi vardır. Ana geçim kaynakları da hayvancılıktır.</p> <p>Buna göre, Türk topluluklarının yaşamlarıyla ilgili aşağıdakilerden hangisi <u>söylenemez</u>?</p> <p>A) Türklerin başlıca gıda maddesi etti. B) Türklerin giyim eşyaları koyun, kuzu, sığır, deve yünü ve derisinden yapılmıştır. C) Türkler bozkırın etkisiyle ceket ve pantolon giymişlerdir. D) En fazla pirinç tarımı yapmışlardır.</p>

ADI: SOYADI: SINIFI:

17	<p>Orta Asya Türkleri askerî teşkilatlanmada ileri bir seviyeye ulaşmışlardır. Oluşturdukları ordu ile birçok devlete örnek olmuşlardır.</p> <p>Buna göre Türklerin dayanıklı, hızlı, teşkilatçı ve savaşçı bir millet olmalarını sağlayan en önemli unsur aşağıdakilerden hangisidir?</p> <p>A) Yaşadıkları yerlerin coğrafi şartları B) Çin'e yapılan seferler C) Sürekli istilalara uğramaları D) Zengin bir kültüre sahip olmaları</p>
18	<ul style="list-style-type: none"> • Ötüken merkezli kurulmuşlardır. • Kendilerine ait alfabeleri vardır. • En önemli mirasları Orhun Yazıtları'dır. <p>Bazı özellikleri verilen Türk devleti aşağıdakilerden hangisidir?</p> <p>A) Asya Hun Devleti B) Kök Türk Devleti C) Uygur Devleti D) Sasani Devleti</p>
19	<p>Yerleşik yaşama geçen ilk Türk devleti Uygurlardır. Uygurların yerleşik hayata geçmeleri hayatlarında önemli değişikliklere neden olmuştur.</p> <p>Buna göre, Uygurların yerleşik hayata geçmesinin sonucunda aşağıdakilerden hangisi gerçekleşmiş <u>olamaz</u>?</p> <p>A) Saray, ev, tapınak gibi kalıcı mimari eserler yapmışlardır. B) Tarım faaliyetlerine önem vermişlerdir. C) Beş - Balıç gibi şehirler inşa etmişlerdir. D) Kendilerine ait alfabe oluşturmuşlardır.</p>

20	 <p>Avrupa Hunlarının en parlak dönemi Attila zamanıdır. Attila, Bizans'la anlaşma imzaladıktan sonra Batı Roma İmparatorluğu'na yönelir. Ancak Papa'nın bağışlanma talebi üzerine seferden geri döner.</p> <p>Attila'nın Batı Roma Seferi'nden geri dönmesinin nedenleri arasında aşağıdakilerden hangisi <u>söylenemez</u>?</p> <p>A) Batı Roma'nın gücünün kırıldığına inanılması B) Roma'nın Hristiyanlarca kutsal bir yer olması C) Attila'nın askerî güç olarak yetersiz olması D) Attila'nın tehlike olarak gördüğü Sasanilere karşı sefere çıkmak istemesi</p>
----	--


Başarılar.
İyi tatiller 😊

ADI: SOYADI: SINIFI:

SORU	DİN KÜLTÜRÜ VE AHLAK BİLGİSİ TESTİ SORULARI
1	<p>Peygamberlerin insanlar arasından seçilmesi;</p> <p>I. vahyin anlaşılması II. vahyin kabul edilmesi III. vahyin okunması IV. vahyin uygulanması</p> <p>konularında büyük kolaylıklar sağlamıştır.</p> <p>Yukarıda verilen maddelerden hangisi yanlıştır?</p> <p>A) I. B) II. C) III. D) IV.</p>
2	<p>I. Peygamberler; diğer insanlar gibi yer, içer, evlenir, çocuk sahibi olur, yaşar ve ölürl.</p> <p>II. Peygamberlerin diğer insanlardan en önemli farkı, çok çalışarak bu görevi hak etmiş olmalarıdır.</p> <p>III. Yüce Allah melek gibi insanüstü bir varlığı peygamber olarak gönderseydi insanlar onu örnek alamayacaktı.</p> <p>IV. Allah, peygamberleri insanlar arasından seçmekle insanlara büyük bir iyilikte bulunmuştur.</p> <p>Yukarıda verilen cümlelerden hangisi yanlıştır?</p> <p>A) I. B) II. C) III. D) IV.</p>
3	<p>Bütün peygamberler;</p> <ul style="list-style-type: none"> • Melek olsalardı • Gaybı bilselelerdi • İnsanüstü güçleri olsaydı • Ölümsüz olsalardı <p>Aşağıdaki sonuçlardan hangisi meydana gelirdi?</p> <p>A) İnsanların inanmaları daha çabuk olurdu. B) İnsanlar ibadet etmek istemezlerdi. C) İnsanlar tarafından örnek alınamazlardı. D) İnsanların Allah'a olan sevgisi artardı.</p>
4	<p>Aşağıdakilerden hangisi bütün peygamberlerde bulunan ortak niteliklerden biri değildir?</p> <p>A) Doğru olmak B) Günahtan kaçınmak C) Okur yazar olmak D) Güvenilir olmak</p>
5	<p>Peygamberlerin Allah'tan aldıkları mesajları insanlara ulaştırmalarına ne ad verilir?</p> <p>A) Tevekkül B) Teslimiyet C) Takdir D) Tebliğ</p>

6	<p>Peygamberlerin kendi başına asla yapamayacakları, Allah'ın izni ile gerçekleşen olağanüstü olaylara verilen ad aşağıdakilerden hangisidir?</p> <p>A) Kissa B) Mucize C) Tebliğ D) Resul</p>
7	<p>Hiz. Muhammed'e peygamberlik verildiğinde Mekkeliler ona hakaret ettiler, büyücü dediler. İftira attılar fakat hiçbir zaman şahsını yalanlılıkla suçlayamadılar. Hatta bir defasında Mekkelilerin önderlerinden Nadir adında biri, Peygamberimize bu şekilde ifadeler kullananlara, "Siz akılsız mısınız? Küçüklüğünde aranızda en sevilen, en emin olan o idi. Şimdi o daha olgun iken bunları nasıl söylersiniz?" sözleriyle onların bu haksızlıklarını yüzlerine vurmuştur.</p> <p>Bu metinde peygamberimizin hangi özelliği vurgulanmaktadır?</p> <p>A) Vahyi insanlara ulaştırması B) Akıllı ve zeki olması C) Doğru ve güvenilir olması D) Hiç günah işlememesi</p>
8	<p>I. Sıdk II. Feragat III. Emanet IV. Fetanet</p> <p>Yukarıdakilerden hangisi peygamberlerde bulunan ortak niteliklerden biri değildir?</p> <p>A) I. B) II. C) III. D) IV.</p>
9	<p>Okulunuzu temsil edecek bir öğrenci seçseydiniz bu kişide hangi özellikleri arardınız?</p> <p>Öğretmen</p> <p>Kürşat: Dürüst olması Ümit: Güvenilir olması Ramazan: Çalışkan olması Harun: Zengin olması</p> <p>Öğretmenin sorusuna hangi öğrencinin verdiği cevap doğru kabul edilemez?</p> <p>A) Kürşat B) Ramazan C) Ümit D) Harun</p>

ADI: SOYADI: SINIFI:

10	<p>Allah, gönderdiği elçilerin peygamberliklerini ispat etmek amacıyla onları mucizelerle desteklemiştir.</p> <p>Aşağıdakilerden hangisi Hz. Muhammed'in en büyük mucizesidir?</p> <p>A) Kur'an-ı Kerim B) Ay'ın ikiye ayrılması C) Parmaklarından su akması D) Çağırdığı ağacın kendisine gelmesi</p>	14	<p>Peygamberler, Yüce Allah'tan aldıkları mesajları insanlara olduğu gibi bildirmişlerdir. Peygamberler, Allah'ın mesajlarını insanlara ulaştırmışlardır. Bu tüm peygamberlerin en temel görevlerinden biridir. Peygamberler bu görevini yaparken korku veya başka nedenlerle Allah'ın buyruklarını gizlememişlerdir.</p> <p>Bu metinde aşağıdakilerden hangisinden bahsedilmektedir?</p> <p>A) İsmet B) Tebliğ C) Fetanet D) Emanet</p>
11	<p>Aşağıdaki peygamberlerin niteliklerinden hangisinin anlamı <u>yanlış</u> verilmiştir?</p> <p>A) Sıdk → Doğru olmak B) Emanet → Güvenilir olmak C) Fetanet → Günah işlemekten kaçınmak D) İsmet → Akıllı ve zeki olmak</p>	15	<p>"O peygamberler ki Allah'ın gönderdiği emirleri <u>duyururlar</u>, Allah'tan korkarlar ve ondan başka kimseden korkmazlar." (Ahzâb suresi, 39. ayet)</p> <p>Bu ayette altı çizili bölüm ile peygamberlerin niteliklerinden hangisi vurgulanmıştır?</p> <p>A) İsmet B) Tebliğ C) Fetanet D) Sıdk</p>
12	<p>Peygamberler içinde yaşadıkları toplumda dürüst ve güvenilir insanlar olarak tanınırlar.</p> <p>Bu durum aşağıdakilerden hangisini kolaylaştırmıştır?</p> <p>A) İnsanların onlarla ticaret yapmalarını B) Getirdikleri vahyin kabul edilmesini C) İnsanların onları tanımlarını D) İnsanlara yemin etmek zorunda kalmamalarını</p>	16	 <p>Yukarıdaki öğrencilerden hangisinin yarısı <u>yanlıştır</u>?</p> <p>A) Hale B) Jale C) Korkut D) Birol</p>
13	<p>Peygamberlerin niteliklerinden biri de akıllı ve zeki olmalarıdır.</p> <p>Aşağıda verilen ayetlerden hangisi bu konuyu açıklamaktadır?</p> <p>A) "(Hepsi de) güçlü bir iradeye ve keskin bir kavrayış yeteneğine sahip olan İbrahim, İshak ve Yakup'u hatırla!" (Sâd suresi, 45. ayet) B) "Ey Resul! Rabb'inden sana indirilene tebliğ et. Eğer bunu yapmazsan onun elçiliğini yapmamış olursun. Allah seni insanlardan koruyacaktır..." (Mâide suresi, 67. ayet) C) "O peygamberler ki Allah'ın gönderdiği emirleri duyururlar, Allah'tan korkarlar ve ondan başka kimseden korkmazlar." (Ahzâb suresi, 39. ayet) D) "Size Rabb'immin mesajlarını duyuruyorum ve ben sizin için güvenilir bir öğüt vericiyim." (A'râf suresi, 68. ayet)</p>	17	<p>Peygamberlerin günah işlemekten uzak olmaları ve güvenilir olmalarını ifade eden sıfatları aşağıdakilerden hangisidir?</p> <p>A) İsmet – Emanet B) Tebliğ – İsmet C) Fetanet – Emanet D) Emanet – Sıdk</p>

ADI:

SOYADI:

SINIFI:

18	<p>I. Günah işlememek II. Beşer olmak III. Erkek olmak IV. Yabancı dil bilmek V. Zengin olmak</p> <p>Yukarıda verilenlerden hangileri peygamberlerin niteliklerinden <u>değildir</u>?</p> <p>A) I ve II. B) II, IV ve V. C) II, III ve V. D) IV ve V.</p>
19	<p>Hiz. Muhammed'e "el-emin" sıfatının verilmesinin en önemli nedeni aşağıdakilerden hangisidir?</p> <p>A) Günah işlememesi B) Doğru ve güvenilir olması C) Allah'tan aldığı mesaj insanlara ulaştırması D) Akıllı ve zeki olması</p>
20	<p>Aşağıdakilerden hangisi peygamberlerin ortak niteliklerinden biri <u>değildir</u>?</p> <p>A) Doğru sözlü olmaları B) Her şeyi bilmeleri C) Çok zeki olmaları D) Emanete sahip çıkmaları</p>

Başarılar. 😊
İyi tatiller

ADI:

SOYADI:

SINIFI:

SORU FEN BİLİMLERİ TESTİ SORULARI



Işıl

Ders çalışırken sandalyede dik oturmalıyız.



Can

Çantamızı sürekli tek omuzumuzda taşımıyoruz.



Almina

D vitamini ve kalsiyum içeren besinleri tüketmeliyiz.

1

Destek ve hareket sistemimizin sağlığı ile ilgili hangi öğrencilerin söylediği ifadeler doğrudur?

- A) Yalnız Işıl B) Işıl ve Can
C) Can ve Almina D) Işıl ve Almina

Öğretmen: Kemikler nasıl uzar?

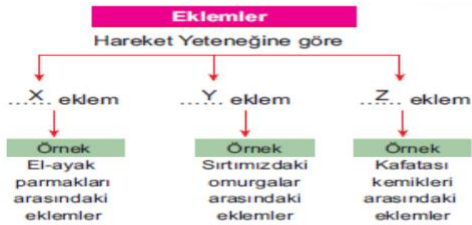
Mert:

2

Öğretmenin sorusuna Mert'in verdiği aşağıdaki yanıtlardan hangisi doğrudur?

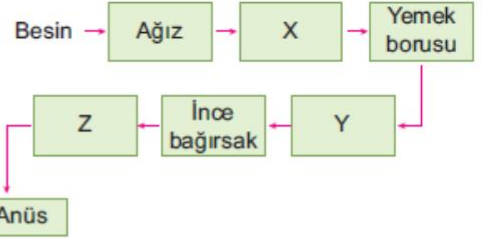
- A) Kemik iliği sayesinde kemiklerimiz büyür.
B) Kemiklerin uç kısımlarına yakın bulunan kırık-
dak boyuna büyümeyi sağlar.
C) Kemik zarı boyuna büyümeyi sağlar.
D) Sert kemik ve süngerimsi kemik büyümeyi sağlar.

3



Yukarıda verilen kavram haritası tamamlandı-
ğında doğru cevap hangisi gibi olur?

	K	L	M
A)	Oynar.	Oynamaz.	Yarı oynar.
B)	Oynar.	Yarı oynar.	Oynamaz.
C)	Oynamaz.	Oynar.	Yarı oynar.
D)	Yarı oynar.	Oynar.	Oynamaz.



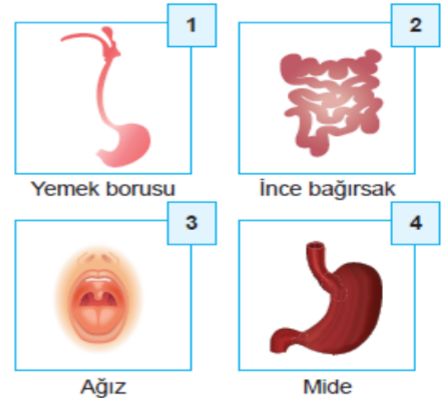
4

Yukarıda sindirim sistemi yapı ve organları verilmiştir.

Buna göre; X, Y ve Z ile gösterilen yapı ve or-
ganların isimleri aşağıdakilerden hangisinde
doğru şekilde verilmiştir?

	X	Y	Z
A)	Yutak	Kalın bağırsak	Mide
B)	Mide	Yutak	Kalın bağırsak
C)	Dil	Kalın bağırsak	Mide
D)	Yutak	Mide	Kalın bağırsak

5

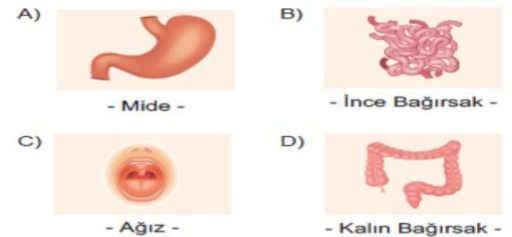


Yukarıda verilen yapı ve organlardan hangisin-
de sindirim enzimleri görev yapmaz?

- A) 1 B) 2 C) 3 D) 4

6





Aşağıdakilerden hangisi besinlerin kimyasal
sindirmeye uğradığı ilk organdır?

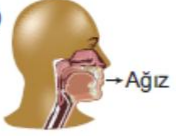


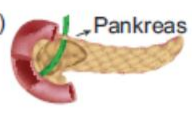
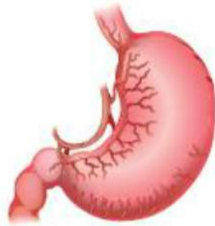


ADI:

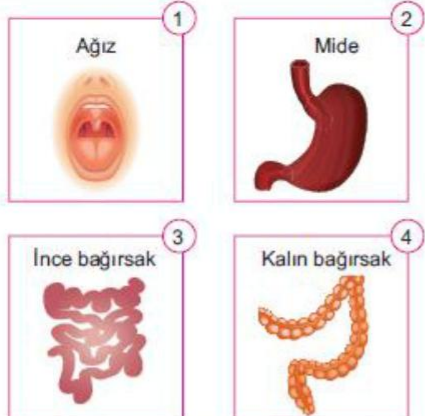
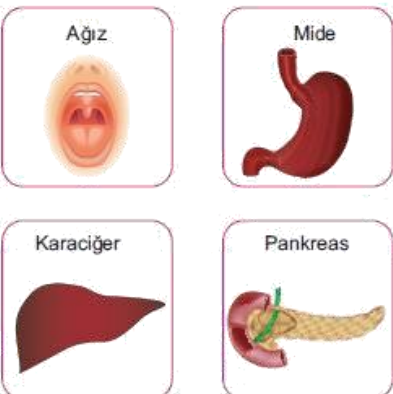
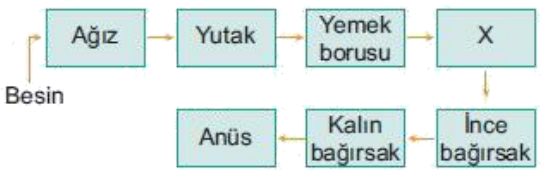
SOYADI:

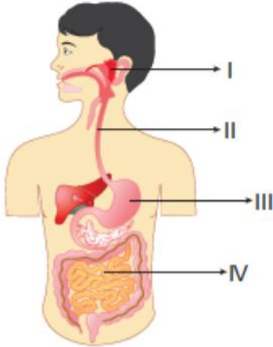
























SINIFI:

7	<p>Sindirim ile ilgili aşağıda verilen ifadelerden hangisi doğrudur?</p> <p>A) Sindirimin amacı dokulara besin ve oksijen taşımaktır.</p> <p>B) Sindirimde su ve enzimler kullanılmaz.</p> <p>C) Ağızda ve ince bağırsakta sindirim gerçekleşmez.</p> <p>D) Sindirimde, büyük yapılı besinler küçük yapılara parçalanır.</p>
8	<p>I. Anüs II. İnce bağırsak III. Mide IV. Kalın bağırsak V. Yutak VI. Yemek borusu VII. Ağız</p> <p>Yukarıda sindirim organları verilmiştir.</p> <p>Buna göre, bir besin maddesinin sindirimi için geçeceği organ ve yapılar aşağıdakilerden hangisinde doğru sıralanmıştır?</p> <p>A) VII - III - V - VI - II - IV - I B) VII - V - VI - III - II - IV - I C) I - IV - II - V - III - VI - VII D) V - IV - III - II - VI - VII - I</p>
9	<p>Aşağıda verilen hangi organ çifti sindirim işlemine katılmayıp sindirime yardımcı olarak salgılar üretmektedir?</p> <p>A)  - Karaciğer - Pankreas -</p> <p>B)  - Yutak - Mide -</p> <p>C)  - İnce Bağırsak - Kalın Bağırsak -</p> <p>D)  - Böbrek - Dalak -</p>
10	<p>Aşağıdaki organların hangisinde besinlerin kimyasal sindirimi gerçekleştirilmez?</p> <p>A) Mide B) Ağız C) İnce bağırsak D) Kalın bağırsak</p>

11	<table border="1"> <thead> <tr> <th>AÇIKLAMA</th><th>ORGAN</th></tr> </thead> <tbody> <tr> <td>1. Karbonhidratların kimyasal sindiriminin başladığı organdır.</td><td>a. Mide</td></tr> <tr> <td>2. Proteinlerin kimyasal sindiriminin başladığı organdır.</td><td>b. Ağız</td></tr> <tr> <td>3. Yağların kimyasal sindiriminin başladığı organdır.</td><td>c. İnce bağırsak</td></tr> </tbody> </table> <p>Yukarıdaki açıklamaların ilgili olduğu organlarla doğru eşleştirilmesi hangi seçenekte verilmiştir?</p> <p>A) 1 – a B) 1 – b 2 – b 2 – c 3 – c 3 – a C) 1 – b D) 1 – c 2 – a 2 – a 3 – c 3 – b</p>	AÇIKLAMA	ORGAN	1. Karbonhidratların kimyasal sindiriminin başladığı organdır.	a. Mide	2. Proteinlerin kimyasal sindiriminin başladığı organdır.	b. Ağız	3. Yağların kimyasal sindiriminin başladığı organdır.	c. İnce bağırsak
AÇIKLAMA	ORGAN								
1. Karbonhidratların kimyasal sindiriminin başladığı organdır.	a. Mide								
2. Proteinlerin kimyasal sindiriminin başladığı organdır.	b. Ağız								
3. Yağların kimyasal sindiriminin başladığı organdır.	c. İnce bağırsak								
12	<p>Diyaframın hemen altında yemek borusu ile bağırsakların arasında yer alır. Sindirim kanalının en geniş kısmıdır.</p> <p>Yukarıda özellikleri verilen organ aşağıdakilerden hangisidir?</p> <p>A)  → Ağız B)  → Mide C)  → Kalın bağırsak D)  → Pankreas</p>								
13	<p></p> <p>Yukarıdaki şekilde görülen sindirim organı ile ilgili olarak,</p> <p>I. Kan şekeri ayarlar. II. Proteinlerin kimyasal sindiriminin başladığı yerdir. III. Mukus salgılar.</p> <p>İfadelerinden hangileri yanlıştır?</p> <p>A) Yalnız I. B) I ve II. C) II ve III. D) I, II ve III.</p>								

ADI: SOYADI: SINIFI:

14	 <p>Yukarıda resimleri verilen organ ve yapılardan hangisinde yağların fiziksel (mekanik) sindirimi gerçekleşir?</p> <p>A) 1. B) 2. C) 3. D) 4.</p>
15	 <p>Yukarıda verilen yapı ve organlardan kaç tanesi salgılarını ince bağırsağa gönderir?</p> <p>A) 1. B) 2. C) 3. D) 4.</p>
16	 <p>Yukarıdaki şemada sindirim sistemi organ ve yapıları verilmiştir.</p> <p>Buna göre X ile ilgili;</p> <ol style="list-style-type: none"> Mukus salgılar. Hem fiziksel (mekanik) hem de kimyasal sindirim gerçekleşir. Proteinlerin kimyasal sindiriminin başladığı organdır. Besin kanalının en uzun kısmını oluşturur. <p>İfadelerinden hangisi yanlıştır?</p> <p>A) I. B) II. C) III. D) IV.</p>





17	<p>Yeterli ve dengeli beslenmenin tanımı, aşağıdakilerin hangisinde verilmiştir?</p> <p>A) Besin içeriklerinin ihtiyacımızı karşılayacak oranda ve birlikte alınmasıdır.</p> <p>B) Besin çeşitlerinin ihtiyacımızdan daha fazla tüketilmesidir.</p> <p>C) Şeker, yağ ve protein oranı yüksek, tuz ve su oranı düşük besinlerin tüketilmesidir.</p> <p>D) Su ve lif oranı yüksek, vitamin ve mineral oranı düşük olan besinlerin tüketilmesidir.</p>																				
18	 <p>Yukarıda verilen sindirim kanalındaki kaç numaralı yapı veya organda <u>yağların</u> hem fiziksel (mekanik) hem de kimyasal sindirimi gerçekleşir?</p> <p>A) IV. B) III. C) II. D) I.</p>																				
19	<table border="1"><thead><tr><th></th><th>I</th><th>II</th><th>III</th><th>IV</th></tr></thead><tbody><tr><td>Kimyasal Sindirimin Başladığı Organ</td><td></td><td></td><td></td><td></td></tr><tr><td>Besinler</td><td></td><td></td><td></td><td></td></tr><tr><td></td><td>Mide</td><td>Ağız</td><td>Karaciğer</td><td>İ. bağırsak</td></tr></tbody></table> <p>Yukarıdaki tabloda besinler ve kimyasal sindirimin başladığı organların fotoğrafları verilmiştir.</p> <p>Buna göre kaç numaralı kısımda <u>hata</u> yapılmıştır?</p> <p>A) I. B) II. C) III. D) IV.</p>		I	II	III	IV	Kimyasal Sindirimin Başladığı Organ					Besinler						Mide	Ağız	Karaciğer	İ. bağırsak
	I	II	III	IV																	
Kimyasal Sindirimin Başladığı Organ																					
Besinler																					
	Mide	Ağız	Karaciğer	İ. bağırsak																	
20	<ul style="list-style-type: none">Sindirimin başladığı organdır.Besinleri yutaktan mideye iletir.Yemek borusundan sonra besinlerin ulaştığı sindirim organıdır. <p>Yukarıda, aşağıdaki organ ve yapılardan hangisiyle ilgili bilgi <u>verilmemiştir</u>?</p> <p>A) İnce bağırsak B) Mide C) Ağız D) Yemek borusu</p>																				




Başarılar. 😊
İyi tatiller

ADI:

SOYADI:

SINIFI:


SORU	İNGİLİZCE TESTİ SORULARI
1	<p>Diyalogda boş bırakılan yere uygun düşen seçeneği işaretleyiniz.</p> <p>A: <i>The dinner is very good!</i> B: <i>Bon appétit!</i> A:? B: <i>It is "enjoy your food" in French.</i></p> <p>A) What does it mean B) Is it nutritious C) Do you like muffins D) What do you eat at dinner</p>
2	<p>Alışveriş listesinde <u>olmayan</u> seçeneği işaretleyiniz.</p> <div style="border: 1px solid black; padding: 5px; margin: 10px 0;"> <p style="text-align: center; color: blue;">Shopping List</p> <ul style="list-style-type: none"> • Bread • Sausages • Jam </div> <p>A)  B)  C)  D) </p>
3	<p>Diyalogda boş bırakılan yere uygun düşen seçeneği işaretleyiniz</p> <p>A:? B: <i>No, thanks. I don't like them.</i></p> <p>A) Do you want some blueberries B) Can I have your order, please C) What's your favourite food D) Are they having their lunch</p>
4	<p>Diyalogda boş bırakılan yere uygun düşen seçeneği işaretleyiniz.</p> <p>A: <i>I like pancakes.</i> B: <i>Yummy!</i></p> <p>A) They are my favourite B) I don't like them C) I'm a waiter at a cafe D) They are junk food</p>



5	<p>Diyalogda boş bırakılan yere uygun düşen seçeneği işaretleyiniz.</p> <div style="text-align: center;">  </div> <p>A: <i>Can I have some more milk, please?</i> B: <i>I'm sorry.</i></p> <p>A) Bon appetit B) It's all gone C) No, thanks D) It's great fun</p>
6	<p>Diyalogda boş bırakılan yere uygun düşen seçeneği işaretleyiniz.</p> <div style="text-align: center;">  </div> <p>A) I want to eat bagels B) I like junk food C) I drink coffee with milk D) I'm very thirsty</p>
7	<p>Diyalogda boş bırakılan yere uygun düşen seçeneği işaretleyiniz.</p> <div style="text-align: center;">  </div> <p>Orange juice, blueberry, tea, coffee. Which one is different? because it's not a drink.</p> <p>A) Orange juice B) Coffee C) Blueberry D) Tea</p>



ADI: SOYADI: SINIFI:

8

Hangi seçenekteki yiyecek menüde yer almıyor?



A)  B) 

C)  D) 

9

Diyalogda boş bırakılan yere uygun düşen seçeneği işaretleyiniz.

A: *Want some pancakes?*
 B: *Of course, I love them.*
 A:?
 B: *Oh, I never eat honey.*

A) How do you eat pancakes at breakfast
 B) Do you want some honey with them
 C) Is honey your favourite food for breakfast
 D) Can I have some honey with pancakes

10

Verilen resme göre doğru olan seçeneği işaretleyiniz.



A) She wants some croissants.
 B) She likes pancakes.
 C) She hates jam.
 D) She loves muffins.

11

11 -12. soruları aşağıdaki paragrafa göre yanıtlayınız.

At weekends, Jim usually has a big breakfast with his family. They like cheese, olives, butter and honey at breakfast. Jim likes black olives but his sister never eats them. She loves green ones. His mother makes some pancakes and they eat them with chocolate. They also have eggs with sausages, but his mother hates eggs. His parents drink tea but he loves coffee. His sister drinks milk. He doesn't like it much but he thinks it's nutritious!

Which one is false?

A) Jim wants milk for breakfast.
 B) Jim's mother doesn't like eggs.
 C) They love eating pancakes.
 D) Jim's parents don't drink milk.


12

What doesn't Jim's sister eat?

A) Eggs with sausages.
 B) Black olives.
 C) Cheese.
 D) Pancakes.

13

Verilen resme göre boş bırakılan yere uygun düşen seçeneği işaretleyiniz.




Sally doesn't have on her tray.

A) olives
 B) sausages
 C) beans
 D) cheese

ADI:

SOYADI:

SINIFI:

14	<p>Diyalogda boş bırakılan yere uygun düşen seçeneği işaretleyiniz.</p> <p>A: <i>Do you want some coffee?</i></p> <p>B: <i>I like milk at breakfast.</i></p> <p>A) Yes, please B) No, thanks C) Excuse me D) I'm thirsty</p>
15	<p>Diyalogda boş bırakılan yere uygun düşen seçeneği işaretleyiniz.</p> <p>A: ?</p> <p>B: <i>In the school canteen. I usually have a sandwich.</i></p> <p>A) How do you like your sandwich B) What do you eat at breakfast C) Where do you have lunch D) Do you want to eat sandwiches</p>
16	<p>Diyalogda boş bırakılan yere uygun düşen seçeneği işaretleyiniz.</p>  <p>A: <i>I want to eat a taco.</i></p> <p>B:</p> <p>B: <i>Taco. It's a Mexican food.</i></p> <p>A) And you? B) No, thanks. C) Want it? D) Excuse me?</p>
17	<p>Diyalogda boş bırakılan yere uygun düşen seçeneği işaretleyiniz.</p> <p>A: <i>What do we have for breakfast?</i></p> <p>B: <i>There's some pancake with jam.</i></p> <p>A: <i>Yummy!</i></p> <p>A) Of course! B) OK. I like it. C) I'm hungry. D) Enjoy it!</p>

Diyalogda boş bırakılan yere uygun düşen seçeneği işaretleyiniz.

A: ?




B: *Yes. A coffee, please.*

18

A) Are you hungry
B) Do you want to have a drink
C) Can I have some coffee
D) Want your coffee with milk

Aşağıda verilen tabloya göre yanlış olan seçeneği işaretleyiniz.

19

			
Jim	✓	✓	✗
Bob	✓	✗	✓
Leo	✗	✗	✓
Sam	✗	✓	✗

A) Jim likes bagels and pancakes but he doesn't like croissants.
B) Bob likes bagels and croissants.
C) Leo doesn't like pancakes but he likes bagels.
D) Sam doesn't like bagels or croissants.

Diyalogda boş bırakılan yere uygun düşen seçeneği işaretleyiniz.

A: *Do you drink milk every day? There is calcium and protein in it.*

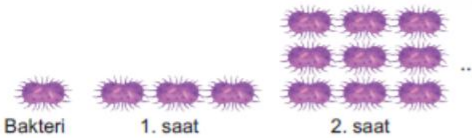
B: *Yes. I drink it at breakfast and before I go to bed.*

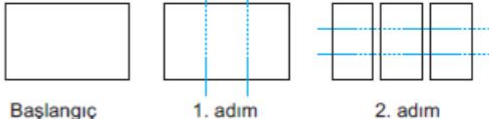
20

A) It's very nutritious
B) I like hot chocolate
C) I am very hungry
D) Look at the cartoon

Başarılar.
İyi tatiller 😊


ADI: SOYADI:

SORU	MATEMATİK TESTİ SORULARI
1	 <p>Bir bakteri türü her saat sonunda 3'e bölünerek çoğalmaktadır.</p> <p>Başlangıçta 1 tane olan bakteri 4. saatin sonunda kaç tane olur?</p> <p>A) 27 B) 81 C) 243 D) 729</p>
2	$\frac{1^{2017} + 2017^1}{0^{2017} + 2017^0}$ <p>işleminin sonucu kaçtır?</p> <p>A) 1009 B) 2017 C) 2018 D) 4036</p>
3	<p>I. $2.2.2 = 2^3$ II. $3.3.3.3 = 4^3$ III. $(3.3.3.3.3)^0 = 1$ IV. $\frac{1.1.1.....1}{25 \text{ tane}} = 1$</p> <p>Yukarıdaki ifadelerden kaç tanesi doğrudur?</p> <p>A) 1 B) 2 C) 3 D) 4</p>
4	<p>Aşağıdaki işlemlerden hangisinin sonucu diğerlerinden <u>küçüktür</u>?</p> <p>A) $6^2 + 10^2$ B) $4^3 + 2^5$ C) $100^0 + 82^1$ D) $57^1 + 3^3$</p>
5	<p>$11^a = 121$ ve $b^2 = 144$ olduğuna göre, a^b sayısı aşağıdakilerden hangisine eşit olabilir?</p> <p>A) 2^{12} B) 12^2 C) 1^{12} D) 12^1</p>
6	<p>Aşağıdaki ifadelerden hangisi <u>yanlıştır</u>?</p> <p>A) 10^6 sayısı 7 basamaklıdır. B) 100 000 000 sayısının üslü sayı biçiminde gösterimi 10^8 dir. C) $26 \cdot 10^6$ sayısının basamak sayısı 7'dir. D) $10^5 - 1$ sayısının sondan 5 basamağı 9'dur.</p>

7	$5^{\Delta+1} = 625$ $3^{\blacksquare-1} = 81$ olduğuna göre \blacksquare^{Δ} üslü ifadesinin değeri kaç- tır? A) 25 B) 27 C) 125 D) 643
8	Bir koşucu 3^6 metre uzunluğundaki bir pisti 3^2 da- kıkada koşmuştur. Buna göre bu koşucunun 1 dakikada koştuğu mesafe kaç metredir? A) 9 B) 27 C) 81 D) 243
9	$a = 2$ ve $b = 0$ olduğuna göre, $a^b + b^a$ işleminin sonucu kaçtır? A) 4 B) 2 C) 1 D) 0
10	 <p>Başlangıç 1. adım 2. adım</p> <p>Ebru elindeki A4 kâğıdını 3 parçaya bölüyor. Sonra oluşan parçaları da aynı şekilde 3'er parçaya bölü- yor.</p> <p>Ebru bu işlemi 4 kere tekrar ettiğinde elinde kaç adet kâğıt parçası oluşur?</p> A) 3^3 B) 3^4 C) 3^5 D) 3^6
11	863.10^A sayısı 17 basamaklı bir doğal sayı, 15.10^B sayısının sondan 9 basamağı 0'dır. Buna göre, $A \times B$ işleminin sonucu kaçtır? A) 153 B) 126 C) 98 D) 23
12	8.2^4 sayısının üslü sayı biçiminde gösterimi aşağıdakilerden hangisidir? A) 2^4 B) 2^5 C) 2^6 D) 2^7

ADI: SOYADI: SINIFI:

13	İki arkadaşın Ayşe'nin parası 5^3 TL'den fazla 6^3 TL'de az, Fatma'nın parası ise 2^7 TL'den fazla 3^5 TL'den azdır. Ayşe ile Fatma'nın paraları doğal sayı olduğuna göre, paraları toplamının alabileceği en büyük değer, en küçük değerden kaç TL fazladır? A) 200 B) 201 C) 202 D) 203
14	1. Adım: 1^0 2. Adım: 2^1 3. Adım: 3^2 Yukarıda bir örüntünün ilk üç adımı verilmiştir. Buna göre, örüntünün 5. adımındaki sayı 4. adımındaki sayıdan kaç fazladır? A) 561 B) 492 C) 423 D) 394
15	$2^4 + 2^4$ sayısının üslü sayı biçiminde gösterimi aşağıdakilerden hangisidir? A) 2^1 B) 2^2 C) 2^3 D) 2^5
16	I. $13^2 + 12^2 - 1 = 312$ II. $(1 + 2 + 3)^3 = 216$ III. $2^7 - 3^4 = 47$ IV. $(2^5 + 2^8)^0 = 288$ Yukarıdaki işlemlerden hangisinin sonucu <u>yanlıştır</u> ? A) I. B) II. C) III. D) IV.
17	a ve b birer doğal sayı olmak üzere $a^b = 81$ olduğuna göre, aşağıdakilerden hangisi <u>yanlıştır</u> ? A) $a+b$ toplamı en fazla 82'dir. B) $a+b$ toplamı en az 7'dir. C) $a-b$ farkı en fazla 80'dir. D) $a+b$ toplamı dört farklı değer alır.

18	 <p>Bir dart tahtası üç farklı renkten oluşmaktadır. Atılan oklar turuncu, mavi ve pembe bölgeye isabet ettiğinde sırasıyla $5^3, 2^7$ ve 3^5 puan kazandırmaktadır. Ahmet'in yaptığı 4 atıştan 2'si turuncu bölgeye, 1'i mavi bölgeye ve 1'i pembe bölgeye isabet etmiştir. Buna göre, Ahmet'in aldığı toplam puan kaçtır? A) 59 B) 496 C) 621 D) 625</p>
19	Ali ve Veli'nin biri tek diğeri çift olmak üzere ikişer tane uğurlu rakamı vardır. <ul style="list-style-type: none"> Ali'nin uğurlu rakamları "0 ve 3" tür. Veli'nin uğurlu rakamları "1 ve 6" dır. <p>Ali ve Veli uğurlu rakamları ile üssü biri tabanı diğeri söyleyerek üslü sayılar oluşturacaklardır. Buna göre oluşturulabilecek <u>en büyük üslü sayı en küçük üslü sayıdan kaç fazladır</u>? A) 729 B) 216 C) 129 D) 81</p>
20	$a^b = 0$ ve $b^2 = 16$ olduğuna göre, $a + b$ sayısı aşağıdakilerden hangisi olabilir? A) 2 B) 3 C) 4 D) 6

Başarılar. 😊
İyi tatiller

ADI:

SOYADI:

SINIFI:

SORU	TÜRKÇE TESTİ SORULARI
1	<p>Aşağıdaki deyimlerden hangileri aynı anlamlıdır?</p> <p>1.Küplere binmek</p> <p>2.Barut fıçısı gibi olmak</p> <p>3.Gözleri ateş saçmak</p> <p>4.Gözleri fal taşı gibi açılmak</p> <p>A) 1-2-4 B) 1-3-4</p> <p>C) 1-2-3 D) 2-3-4</p>
2	<p>Aşağıdaki atasözlerinden hangisi gerçek anlamlıdır?</p> <p>A) Altın eli bıçak kesmez.</p> <p>B) Yuvarlanan taş yosun tutmaz.</p> <p>C) Bana dokunmayan yılan bin yaşasın.</p> <p>D) Bedava sirke baldan tatlıdır.</p>
3	<p>Aşağıdaki deyimlerden hangisi "Sorumluluk almak" anlamına gelir?</p> <p>A) Elini taşın altına koymak</p> <p>B) Destek olmak</p> <p>C) Elinden geleni ardına koymamak</p> <p>D) Üçün beşin hesabını yapmak</p>
4	<p>Aşağıdaki atasözlerinden hangisi hem gerçek hem de mecaz anlamı <u>değildir</u>?</p> <p>A) Ağaç yaşken eğilir.</p> <p>B) Ak akçe kara gün içindir.</p> <p>C) Eğri otur, doğru söyle.</p> <p>D) Minareyi çalan kılıfını hazırlar.</p>
5	<p>* Öğüt vericidirler.</p> <p>* Çeşitli durumları ifade etmek için kullanılırlar</p> <p>* Kalıplaşmış ifadelerdir.</p> <p>* Söyleyenleri belli değildir.</p> <p>* Bazıları gerçek anlamlıdır</p> <p>Yukarıdakilerden kaç tanesi deyimler ve atasözlerinin ortak özelliğidir?</p> <p>A) 2 B) 3 C) 4 D) 5</p>
6	<p>"Lafla peynir gemisi yürümez"</p> <p>Yukarıdaki atasözüyle <u>çelişen</u> atasözü aşağıdakilerden hangisidir?</p> <p>A) Doğru söyleyeni dokuz köyden kovarlar.</p> <p>B) Tatlı dil yılanı deliğinden çıkarır.</p> <p>C) Söz gümüşse sükût altındır.</p> <p>D) Bülbulün çektiği dil belası</p>

7	<p>Aşağıdaki deyimlerden hangisi açıklamasıyla birlikte verilmiştir?</p> <p>A) Yaptığım hataları durmadan yüzüme vurmanıza gerek yoktu.</p> <p>B) Kendisine asla söz söyletmiyor, burnundan kıl aldırılmıyordu.</p> <p>C) Burada bir eşya bulmak sanki samanlıkta iğne aramak gibi.</p> <p>D) Her işte bir hayır vardır diyerek işi kabul ettik.</p>
8	<p>Aşağıdakilerden hangisinde deyim açıklaması <u>yanlış</u> verilmiştir?</p> <p>A) Şaka kaldırmak (Kendisine yapılan şakalara dayanabilmek.)</p> <p>B) Şimşekleri üzerine çekmek (Davranışlarıyla çevresindekileri kızdırmak.)</p> <p>C) Rafa kaldırmak (Bir işle ilgilenmeyi bırakmak.)</p> <p>D) Yakasını bırakmamak (Hiç ilgilenmemek.)</p>
9	<p>Aşağıdakilerden hangisi deyim <u>değildir</u>?</p> <p>A) Nabza göre şerbet vermek</p> <p>B) Taşıma su ile değirmen dönmez</p> <p>C) Yabana atmak</p> <p>D) İcabına bakmak</p>
10	<p>Akıl akıldan üstündür / Aklın yolu birdir</p> <p>Yukarıdaki deyimler arasındaki ilişki aşağıdakilerden hangisinde <u>yoktur</u>?</p> <p>A) Fazla mal göz çıkarmaz / Azıcık aşım ağrısız başım</p> <p>B) Öfke baldan tatlıdır / Öfkeyle kalkan zararlı oturur</p> <p>C) Harama el uzanmaz / Üzümü ye bağına sorma</p> <p>D) Yalnız taş duvar olmaz / Bir elin nesi var iki elin sesi var</p>
11	<p>Çocukken saat kavramımız olmazdı bizim. Akşam ezanı okunduğu zaman hepimiz evlerimize giderdik. Hava güzelse eğer annelerimiz de kapıda konu komşuyla oturur, havadan sudan konuşurdu. Bizler de gece yarısına kadar oynardık. Ufak tefek kavgalarımız olsa da hiçbir zaman gönül koymazdık birbirimize. Ne de çabuk büyüdük. Keşke hep çocuk olsaydık...</p> <p>Yukarıdaki parçada kaç tane deyim kullanılmıştır?</p> <p>A) 1 B) 2 C) 3 D) 4</p>

ADI:

SOYADI:

SINIFI:

12	<p>pahalıdır, insanın, vardır, hikmeti, aklında, vardır, iletir, ucuzdur, bazen</p> <p>Yukarıdaki sözcüklerden anlamlı bir atasözü oluşturulduğunda kaç sözcük <u>kullanılmaz</u>?</p> <p>A) 1 B) 2 C) 3 D) 4</p>															
13	<table><tr><th></th><th>DEYİM</th><th>KONUSU</th></tr><tr><td>1</td><td>İçi kazanmak</td><td>açlık</td></tr><tr><td>2</td><td>Ölüp ölüp dirilmek</td><td>sevinç</td></tr><tr><td>3</td><td>İçi kan ağlamak</td><td>üzüntü</td></tr><tr><td>4</td><td>Masrafa girmek</td><td>ekonomi</td></tr></table> <p>Yukarıdaki tabloda deyimler konularına göre eşleştirilmiştir. Kaç numaralı deyim konusu <u>yanlış</u> verilmiştir?</p> <p>A) 1 B) 2 C) 3 D) 4</p>		DEYİM	KONUSU	1	İçi kazanmak	açlık	2	Ölüp ölüp dirilmek	sevinç	3	İçi kan ağlamak	üzüntü	4	Masrafa girmek	ekonomi
	DEYİM	KONUSU														
1	İçi kazanmak	açlık														
2	Ölüp ölüp dirilmek	sevinç														
3	İçi kan ağlamak	üzüntü														
4	Masrafa girmek	ekonomi														
14	<p>Aşağıdaki cümlelerden hangisinde deyim <u>kullanılmamıştır</u>?</p> <p>A) Kızımızı yıllarca el bebek gül bebek büyüttük.</p> <p>B) Yarışlardaki Arap atı diğerlerine nal toplattı.</p> <p>C) Sabah kalkınca elimi yüzümü iyice yıkadım.</p> <p>D) İşleri elime yüzüme bulaştırmaktan korkuyorum.</p>															
15	<p>"ayak" sözcüğü aşağıdakilerden hangisinde deyim içerisinde kullanılmıştır?</p> <p>A) Sorunun cevabını bilmiyorum diye ayak yapıyordum.</p> <p>B) Kirlarda dolaşırken ayağıma diken battı.</p> <p>C) Selin, ayağına kocaman bir dövme yaptırmış.</p> <p>D) Suzan, yarın ayağından ameliyat olacakmış.</p>															
16	<p>Aşağıdaki cümlelerden hangisinde deyim <u>kullanılmamıştır</u>?</p> <p>A) Hata yapmamak için bütün detaylara göz atıyoruz.</p> <p>B) Ayağımızı yerden kessin diye eski bir araba satın aldık.</p> <p>C) Komşularına ve akrabalarına her zaman iyi davranırdı.</p> <p>D) Yıllarca hastalıktan çekti, zavallı hiç gün yüzü görmedi.</p>															

17	<p>Aşağıdaki sözcüklerin hangileri arasında "fotoğraf – çerçeve" sözcüklerindeki benzer bir ilişki vardır?</p> <p>A) böcek – arı B) oda – ev C) çiçek – vazo D) bardak – cam</p>
18	<p>1. Uzun, siyah saçların tel tel çözülsün. 2. Buzluktan çıkardığım kıyma çözülmemiş. 3. Çocuğun dili birden çözüldü. 4. Güneşin altında kalan buz çözülmüş.</p> <p>"Çözülme" sözcüğü, numaralandırılmış cümlelerin hangi ikisinde aynı anlamda kullanılmıştır?</p> <p>A) 1 - 2 B) 2 - 3 C) 2 - 4 D) 3 - 4</p>
19	<p>Aşağıdaki cümlelerin hangisindeki altı çizili sözcük terim anlamıyla kullanılmıştır?</p> <p>A) <u>Kral</u>, halkı ezdikçe eziyordu.</p> <p>B) Suyun <u>öz kütlesi</u> zeytinyağından daha fazla.</p> <p>C) Bu malın <u>garantisini</u> bitmiş.</p> <p>D) Bunları söylemek senin <u>görevin</u> değil.</p> <p>Aşağıdaki cümlelerdeki altı çizili sözcüklerden hangisi, gerçek anlamıyla kullanılmıştır?</p> <p>A) Şaşkınlıktan işleri birbirine <u>dolaştırdın</u>.</p> <p>B) Yayla havası, bizi çok kötü <u>çarptı</u>.</p> <p>C) Bizim takım son maçta <u>döküldü</u>.</p> <p>D) Evin <u>eksikleri</u> hiç bitmek bilmiyor ki!</p>
20	

Başarılar.

iyi tatiller 😊