
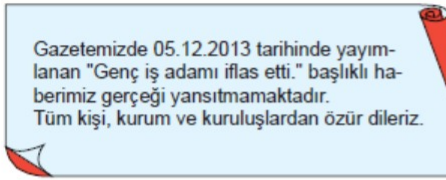



ADI:

SOYADI:

SINIFI:


SORU	SOSYAL BİLGİLER TESTİ SORULARI
1	 <ul style="list-style-type: none"> <li>• Yazı, haber, fotoğraflarla ahlaka aykırı yayınlarda bulunamaz.</li> <li>• Özel yaşamı küçük düşürücü şekilde haber yapılamaz.</li> <li>• Doğruluğundan emin olmadan haber yazılamaz.</li> <li>• Şiddet ve zorbalığı özendirici yayın yapmaktan kaçınılır.</li> </ul> <p><b>Öğretmenin sınıfta anlattıklarına bakılarak işlenen konunun aşağıdakilerden hangisi olduğu söylenebilir?</b></p> <p>A) Basın Özgürlüğü B) Basın Ahlak Yasası C) Basın Tarihi D) Atatürk ve İletişim</p>
2	 <p>Gazetemizde 05.12.2013 tarihinde yayımlanan "Genç iş adamı iflas etti." başlıklı haberimiz gerçeği yansıtmamaktadır. Tüm kişi, kurum ve kuruluşlardan özür dileriz.</p> <p><b>Verilen yazının, aşağıdakilerden hangisinin örneği olduğu söylenebilir?</b></p> <p>A) Dilekçe B) Kanun tasarısı C) Tekzip D) Diplomatik nota</p>
3	<p>Ünlü futbolcunun izni olmadan eşikle birlikte çekilen fotoğrafları bir sonraki gün dünyaca ünlü futbol dergisinde yayımlanmıştır.</p> <p><b>Buna göre,</b></p> <p>I. Gazete hukuku çiğnemiştir. II. Basının her konuda özgürlüğü vardır. III. İnsanların özel hayatına müdahale etmek suçtur.</p> <p><b>İfadelerinden hangilerine ulaşılabilir?</b></p> <p>A) I ve III.                      B) II ve III. C) I ve II.                      D) Yalnız I.</p>
4	<p>Son dönemlerde hızla yayılan sosyal medya bağımlılığı her yaştan insanı etkisi altına almaktadır.</p> <p><b>Verilen bilgiye göre, bu durumun insanlar üzerinde oluşturduğu olumsuz etkiler aşağıdaki ifadelerden hangisinde yer almaz?</b></p> <p>A) Sosyal medyada harcanan zaman, yapılan her yenilikle daha da artmaktadır. B) Çocuklardaki bağımlılık, hayal dünyalarını etkileyip gerçek hayatla sanal dünyayı karıştırmalarına neden olmaktadır. C) İnsanlar arasındaki iletişimi artırmaktadır. D) Kültürel anlamda zayıf olan toplumlarda kültür yozlaşmasına neden olmaktadır.</p>

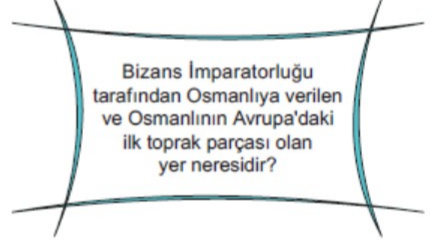

5	<p><b>Aşağıdakilerden hangisi geçmişten günümüze kadar kullanılan iletişim araçları arasında son dönemlerde kullanılanlardan değildir?</b></p> <p>A) Telefonla iletişim B) İnternetle iletişim C) Mektupla iletişim D) Güvercinle iletişim</p>
6	<p><b>Herhangi bir konu hakkında toplumda oluşan ortak görüşe verilen ad aşağıdakilerden hangisidir?</b></p> <p>A) İletişim                      B) Medya C) Tekzip                      D) Kamuoyu</p>
7	 <p>Türk milletinin sağlam bir fikre sahip olması gerekir. Bütün çabaların, Türk kamuoyunun gerçeği anlamasına ve duymasına yönelik olduğu millete anlatılmalıdır. Ancak o şekilde millet, günlük fikirleri, sahte ve yanıltıcı sözlerle asla önem vermeyecek bir olgunluğa erişebilir.</p> <p><b>Mustafa Kemal'in sözlerine bakılarak aşağıdakilerden hangisine vurgu yaptığı söylenebilir?</b></p> <p>A) Basın özgürlüğüne B) Kitle iletişim araçlarına C) Milli Mücadele'nin önemine D) Eğitimin kutsallığına</p>
8	<ul style="list-style-type: none"> <li>• Bu aralar çok şımarık oldun sen, nasıl düzeleceksin merak ediyorum.</li> <li>• Seni çok iyi anlıyorum ama derslerine çalışmamandan endişe duyuyorum.</li> <li>• Ailen seni anlamıyor olabilir ama onlarla tekrar konuşmayı denersen iyi olmaz mı?</li> <li>• Bu gidişle kesinlikle sınıfta kalırsın, ders dinleme yok, çalışma yok durumun kötü haberin olsun.</li> <li>• Her insan kötü bir dönem geçirebilir kabul ediyorum ama sen de biraz gayret etmelisin bence, birlikte bu sorunu çözebiliriz.</li> </ul> <p><b>Yukarıda verilen cümlelerden kaç tanesinde "ben dili" kullanılmıştır?</b></p> <p>A) Cümlelerden dört tanesinde "ben dili" kullanılmıştır. B) Cümlelerden iki tanesinde "ben dili" kullanılmıştır. C) Cümlelerden üç tanesinde "ben dili" kullanılmıştır. D) Cümlelerden bir tanesinde "ben dili" kullanılmıştır.</p>

ADI:

SOYADI:

SINIFI:

9	<p>Günümüzde birçok insanın problemi iletişim bozukluğudur. Kişiler arasında kurulamayan iletişim, gereksiz şekilde oluşabilecek sorunlara neden olabilmektedir.</p> <p><b>Aşağıdakilerden hangisi insanlar arasında oluşan iletişim eksikliklerinin temel sebepleri arasında yer almaz?</b></p> <p>A) İletişim esnasında karşıdaki kişinin duygu ve düşüncelerini anlamaya çalışarak empati kurmak</p> <p>B) Konuşma esnasında, kişilerden birisinin konuyu sürekli olarak değiştirmesi</p> <p>C) Konuşmacılar arasında, iletişimden önce gerçekleşebilecek ön yargı</p> <p>D) Konuşan kişiler arasında, daha tecrübeli olanın diğerine öğütler vererek konuşmaya devam etmesi</p>
10	<p><b>Çaldıran Savaşı'ndan dönen Yavuz Sultan Selim, aşağıdaki beyliklerden hangisiyle Turnadağ Savaşı'nı gerçekleştirerek Anadolu topraklarında yer alan son beyliği yıkmış ve Anadolu'daki Türk siyasi birliğini kesin olarak tamamlamıştır?</b></p> <p>A) Dulkadiroğulları Beyliği</p> <p>B) Karamanoğulları Beyliği</p> <p>C) Karesioğulları Beyliği</p> <p>D) Candaroğulları Beyliği</p>
11	<p>I. Devlet adamlarının yetenekli olması</p> <p>II. Bizans'ın güçsüz olması</p> <p>III. Osmanlının Moğol baskısından kaçması</p> <p>IV. Anadolu Selçuklu Devleti'nden kalan miraslar</p> <p><b>Diyagramda verilenlerden hangileri Osmanlı Devleti'nin kısa sürede büyümesinin sebepleri arasında yer almaz?</b></p> <p>A) I ve II. B) I ve III.</p> <p>C) II ve III. D) III ve IV.</p>
12	<p> Deniz</p> <p>Türk Devletlerinde esnaf ve zanaatkarların aralarında birleşerek kurdukları mesleki birliğe ne denir?</p> <p><b>Deniz'in sorusunun cevabı aşağıdakilerden hangisidir?</b></p> <p>A) Ahilik B) Tekfur</p> <p>C) Vakıf D) İskân</p>

13	<p>Osmanlı Devleti kuruluşundan itibaren yaptığı seferlerde her zaman İslami kuralları kendisine örnek almış, ele geçirdiği bölgelerdeki halkın dinine, namusuna, mallarına dokunmamıştır. Onların daha rahat yaşayabilmeleri için kanunlar çıkarmışlar, İslam âlimlerine fetvalar yayınlamışlardır. Bu şekilde sınırlarını kolayca genişletme imkânı bulmuşlardır.</p> <p><b>Verilen metne göre, Osmanlı Devleti'nin kısa sürede büyümesinin sebebi aşağıdakilerden hangisidir?</b></p> <p>A) Güçlü ve disiplinli bir askerî teşkilatın olması</p> <p>B) Bizans ile sınır komşusu olması</p> <p>C) Bizans tefurlarının halka kötü davranması</p> <p>D) Osmanlı Devleti'nin adaletli ve hoşgörülü olması</p>
14	<p><b>Osmanlı Devleti'nin Kuruluş Dönemi padişahları arasında aşağıdakilerden hangisi yer almaz?</b></p> <p>A) Osman Bey B) Orhan Bey</p> <p>C) I. Murat D) III. Selim</p>
15	<p></p> <p><b>Yarışma programında sorulan soruya, yarışmacının aşağıdaki cevaplardan hangisini vermesi sonucu ödülü kazanacağını söyleyebiliriz?</b></p> <p>A) Malabadi Köprüsü B) Çimpe Kalesi</p> <p>C) Koyunhisar Kalesi D) Kosova Kalesi</p>
16	<p></p> <p><b>Öğretmenin sınıfta bahsettiği dönem aşağıdakilerden hangisidir?</b></p> <p>A) Orhan Bey Dönemi</p> <p>B) I. Murat Dönemi</p> <p>C) I. Bayezid Dönemi</p> <p>D) I. Mehmet Dönemi</p>




ADI:

SOYADI:

SINIFI:

17	<p style="text-align: center;"><b>İskân Politikası</b></p> <p>Fethedilen yerlere konargöçerler yerleştirilerek yerleşik hayata geçmeleri sağlandı.</p> <p>Aralarında sürtüşme olan aileler Anadolu'dan Balkanlara yerleştirildi.</p> <p>Geçerli sebep olmadan iskan ettirilen ailelerin eski topraklarına dönmelerine izin verilmedi.</p> <p><b>Osmanlı Devleti'nin uyguladığı iskân politikası ile ulaşmak istediği temel amaç aşağıdakilerin hangisinde doğru olarak verilmiştir?</b></p> <p>A) Avrupa kıtasına yayılarak tüm dünyayı işgal etmek</p> <p>B) Fethedilen bölgelerde kalıcıyı sağlamak</p> <p>C) Anadolu'da zorluk çıkaran halkı diğer bölgelere göndermek</p> <p>D) Osmanlı padişahlarının yönetimdeki üstünlüğünü dünyaya göstermek</p>
18	<p><b>I. Bayezid Dönemi'nde aşağıdaki savaşların hangisiyle, Anadolu Türk siyasi birliği bozulmuş ve Osmanlı Devleti 11 yıl sürecek olan Fetret Dönemi'ne girmiştir?</b></p> <p>A) Çirmen Savaşı</p> <p>B) Kosova Savaşı</p> <p>C) Ankara Savaşı</p> <p>D) Sırpsındığı Savaşı</p>
19	<p>Osmanlı Devleti'ni yıkılma sürecinden kurtaran, Osmanlı Devleti'nin siyasi birliğini tekrar kuran ve ikinci kurucu olarak adlandırılan padişahın adı nedir?</p> <p><b>Sosyal bilgiler öğretmeninin yazılıda sorduğu sorunun doğru cevabı aşağıdakilerden hangisidir?</b></p> <p>A) Çelebi Mehmet</p> <p>B) II. Murat</p> <p>C) II. Ahmet</p> <p>D) II. Selim</p>
20	<p>I. Koyunhisar Savaşı II. Ankara Savaşı III. Niğbolu Savaşı IV. Sırpsındığı Savaşı</p> <p><b>Yukarıda verilen savaşlardan hangisi ilk defa Haçlı ordusu ile yapılmıştır?</b></p> <p>A) I.      B) II.      C) III.      D) IV.</p>

21	<p><b>II. Mehmet'in 12 yaşında tahta çıkmasını fırsat bilerek Varna Savaşı'nın intikamını almak ve Türkleri Balkanlardan atmak için saldırıya geçen, Haçlılarla Türkler arasında gerçekleşen savaş aşağıdakilerden hangisidir?</b></p> <p>A) I. Kosova Savaşı</p> <p>B) II. Kosova Savaşı</p> <p>C) Ankara Savaşı</p> <p>D) Sırpsındığı Savaşı</p>
22	<p>Tahta geçen her Osmanlı padişahı sınırlarını genişletmek için uğraşmıştır. Sınırlar İstanbul'a dayandığında tek hedef İstanbul olmuştur ve defalarca kuşatılsa da fethedilememiştir. Fatih Sultan Mehmet yaptığı dahiyane çalışmalarla İstanbul'u fethetmeyi başarmıştır.</p> <p><b>Aşağıda verilenlerden hangisi İstanbul'un alınmak istenmesinin sebepleri arasında yer almaz?</b></p> <p>A) Bizans'ın Osmanlı şehzadelerini kışkırtması</p> <p>B) Osmanlı topraklarının içinde kaldığı için toprak bütünlüğünü bozması</p> <p>C) Bizans'ın zenginliklerinin ele geçirilmek istenmesi</p> <p>D) Hz. Muhammed'in (s.a.v.) İstanbul'un Fethi'ni müjdeleyen hadisi</p>
23	<p> Çocuklar asırlar boyunca, defalarca kuşatılan İstanbul'un bir türlü alınamamasının nedeni sizce ne olabilir?</p> <p><b>Öğretmenin sorduğu sorunun cevabı aşağıdakilerden hangisi olamaz?</b></p> <p>A) Bizans'ın devlet yöneticilerinin çok yetenekli olması</p> <p>B) Şehrin etrafının sularla çevrili olması</p> <p>C) Sık sık Haçlılardan yardım istemeleri</p> <p>D) Deniz saldırılarına karşı grejuva ateşini kullanmaları</p>
24	<p>Fatih Sultan Mehmet Dönemi'nde, İstanbul'un Fethi'nden sonra seferler hızla devam etmiş ve dünyaya hükmedilmiştir.</p> <p><b>Aşağıdaki yerlerden hangisinin fethi ile Karadeniz bir Türk gölü hâline gelirken Karadeniz ve İpek Yolu'nun tüm ticareti Osmanlı'nın eline geçmiştir?</b></p> <p>A) Bosna-Hersek      B) Semadirek</p> <p>C) Kırım      D) Amasra</p>

ADI:

SOYADI:

SINIFI:

25	<p style="text-align: center;">?</p> <p>Anadolu ve Balkanlardaki devletlerle barış imzalandı.</p> <p>400 parçalık donanma hazırlandı.</p> <p>Şahi adı verilen toprak döküldü.</p> <p>Rumeli Hisarı yapıldı.</p> <p><b>Verilen tablodaki soru işaretli yere getirilebilecek en uygun başlık aşağıdaki hangisidir?</b></p> <p>A) Türkler İstanbul'a Girenken B) Fethin Sonuçları C) Fetih İçin Hazırlıklar Sürüyor D) Bizans'ın, Osmanlıya Karşı Aldığı Tedbirler</p>	<p>İstanbul'un Fethi ile Boğazların ve İpek Yolu'nun hâkimiyeti Osmanlı Devleti'nin egemenliğine geçmiştir. Bu yollar Avrupalıların yıllardır ticaret yaptığı alanlardır.</p> <p><b>İstanbul'un Fethi ile Osmanlının eline geçen ticaret yolları nedeniyle, Avrupalı devletler aşağıdakilerden hangisini yapmışlardır?</b></p> <p>A) Rönesans ve Reform hareketlerini başlatmışlardır. B) Derebeylik rejimini yıkmışlardır. C) Coğrafi Keşiflere başlamışlardır. D) Haçlılar ticaret yollarını tekrar ele geçirebilmek için saldırılar düzenlemişlerdir.</p>
26	<p>İstanbul'un Fethi için yapılan hazırlıklar devam ederken Fatih Sultan Mehmet orduların tamamını İstanbul sınırına değil, büyük bir kısmını Balkanlara yönlendirmiş ve orda bekletmiştir. Bu durum her fırsatta Haçlılardan yardım isteyen Bizans'ın elini kolunu bağlamış ve beklediği yardımın engellenmesini sağlamıştır.</p> <p><b>Verilen metne göre Fatih Sultan Mehmet için aşağıdakilerden hangisi söylenebilir?</b></p> <p>A) İstanbul'u alırken Balkanları da ele geçirmek istemiştir. B) Bizans'a karşı Haçlılarla iş birliği yapmıştır. C) Haçlı birliklerine karşı İslam ordularına cihat emretmiştir. D) Balkanlara asker göndererek askerî dehasını göstermiştir.</p>	<p>İstanbul'un Fethi'nden sonra, Fatih hemen imar faaliyetlerine başlamış 8 kiliseyi camiye çevirmiştir. Bunun yanında Ortadoks halkın rahatlıkla yaşayabilmesi için Bizans'a ait eserleri tahrip etmemiş ve bu nüfusun yoğun olduğu yerlerde kiliseleri yıktırmamıştır. Yayınladığı fermanda gayrimüslim halkın can, mal ve namus güvenliğinin bizzat kendisi tarafından korumaya alındığını duyurmuştur.</p> <p><b>Verilen metne göre Fatih Sultan Mehmet için aşağıdakilerden hangisi söylenemez?</b></p> <p>A) Kendi halkının daha rahat yaşaması için başka milletlere her şeyi yapabilmektedir. B) Müslim ya da gayrimüslim kendi tebaasından olan herkese eşit davranmaya çaba göstermiştir. C) Başka dinlere de saygılı bir padişahdır. D) Kendisine biat eden herkese huzurlu yaşam hakkı sağlamayı garanti etmiştir.</p>
27	<p style="text-align: center;">İstanbul'un Fethi'nin Sonuçları</p> <div style="display: flex; justify-content: space-around;"> <div style="border: 1px solid black; padding: 5px; background-color: #f0f0f0;">Türk Tarihi Açısından</div> <div style="border: 1px solid black; padding: 5px; background-color: #e0ffe0;">Dünya Tarihi Açısından</div> </div> <p>İstanbul'un Fethi Türk tarihi açısından önemli olduğu kadar tüm dünyayı etkisi altına alarak, yakın-uzak her devleti etkilemiştir.</p> <p><b>Aşağıdakilerden hangisi İstanbul'un Fethi'nin dünya tarihini etkileyen sonuçlarından?</b></p> <p>A) Karadeniz ticaretinde Osmanlı hâkimiyeti güçlendi. B) Feodalite rejimi yıkıldı. C) Anadolu ve Balkanlardaki Türk ilerleyişi hızlandı. D) Başkent Edirne'den İstanbul'a taşındı.</p>	<p><b>Osmanlı Devleti'nde Yükselme Dönemi aşağıdaki kişilerin hangisi ile sona ermiştir?</b></p> <p>A) Fatih Sultan Mehmet B) Yavuz Sultan Selim C) Kanuni Sultan Süleyman D) Sokullu Mehmet Paşa</p>

Başarılar.

İyi tatiller 😊



ADI:

SOYADI:

SINIFI:

SORU	DİN KÜLTÜRÜ VE AHLAK BİLGİSİ TESTİ SORULARI
1	<p>Yüce Allah her varlık için bir ömür tayin etmiştir. Her canlı, doğup yaşama kavuşmakta, büyüyüp gelişmekte ve belirli bir süre yaşadıkten sonra ömrünü tamamlayarak ölmektedir. Bu yüzden ömür gelip geçicidir, başlangıcı ve sonu vardır. Hiçbir varlık bu dünyada kalıcı değildir.</p> <p><b>Bu metin aşağıdaki ayetlerden hangisiyle desteklenebilir?</b></p> <p>A) "...Allah, göklerle yeri ve ikisi arasındakileri ancak hak ve hikmete uygun olarak ve belirli bir süre için yaratmıştır..." (Rum suresi, 8. ayet)</p> <p>B) "Her insanın amelini boynuna yükledik. Kıyamet günü kendisine, açılmış olarak karşılaştacağı bir kitap çıkaracağız." (İsra suresi, 13. ayet)</p> <p>C) "Kıyamet günü için adalet terazileri kuracağız. Öyle ki hiçbir kimseye zerre kadar zulmedilmeyecek..." (Enbiya suresi, 47. ayet)</p> <p>D) "O, sizi yeryüzünde yaratıp türetendir. Sadece O'nun huzurunda toplanacaksınız." (Mü'minin suresi, 79. ayet)</p>
2	<p><b>Dünya ve ahiret hayatı ile ilgili aşağıdaki yargılardan hangisi doğru değildir?</b></p> <p>A) Dünya ahiretin tarlasıdır.</p> <p>B) Dünya hayatı insan için bir imtihandır.</p> <p>C) Ölümlü olduğunu bilerek yaşayan tek canlı insandır.</p> <p>D) Ahiret hayatının varlığına inanmak, insanı sorumluluktan kurtarır.</p>
3	<p>"O ki hanginizin daha güzel davranacağını sınamak için ölümü ve hayatı yaratmıştır. O, mutlak galiptir, çok bağışlayıcıdır." (Mülk suresi, 2. ayet)</p> <p><b>Bu ayetten aşağıdakilerden hangisi çıkarılamaz?</b></p> <p>A) Dünya bir imtihan yeridir.</p> <p>B) Hayat ve ölüm insan içindir.</p> <p>C) Allah, her şeyi yaratandır.</p> <p>D) Allah, hataları affedendir.</p>
4	<p>"Benim dünya ile ne işim olur ki! Ben, dünyada bir ağacın altında gölgelendikten sonra yola koyulup orayı terk eden biri gibiyim." (Hz. Muhammed)</p> <p><b>Bu özdeyişten aşağıdakilerden hangisi çıkarılabilir?</b></p> <p>A) Dünyaya gelen büyü.</p> <p>B) İnsan dünyada bir yolcu gibidir.</p> <p>C) Ahiret yurdu peygamberlerin yurdu.</p> <p>D) Dünyaya meyletmek Müslüman'a yakışmaz.</p>

5	<p>"Ey insanlar! Dünya geçici ev, ahiret ise kalıcı yurttur. Geçici evinizden kalıcı yurdunuza azık alın. Bedeniniz dünyadan çıkmadan önce kalbinizi dünyadan çıkarın." (Hz. Ali)</p> <p><b>Bu özdeyiş ile asıl verilmek istenen mesaj aşağıdakilerden hangisidir?</b></p> <p>A) Ölüm, hayatın değişmez kuralıdır.</p> <p>B) Dünya, ahiretin tarlasıdır.</p> <p>C) Ölüm hak, miras helaldir.</p> <p>D) Ahirete gitmeyi kimse istemez.</p>
6	<p><b>Aşağıdakilerden hangisi ahiretin varlığına delil olarak gösterilemez?</b></p> <p>A) İnsanın içinde olan adalet duygusu</p> <p>B) İnsandaki sorumluluk duygusu</p> <p>C) İnsanın ölümsüzlük isteği</p> <p>D) İnsanın merhamet duygusu</p>
7	<p>"Sen dünyanın ne olduğunu biliyor musun? Dünya öyle bir yerdir ki orada bizim ahirete götüreceğimiz tedarikimiz ve azığımız vardır. Orada, ahirette karşılığını göreceğimiz amellerimiz vardır." (Hz. Ömer)</p> <p><b>Bu özlü söz aşağıdaki ayetlerden hangisiyle desteklenebilir?</b></p> <p>A) "...Namazı dosdoğru kılın, zekâtı verin, Allah'a güzel bir borç verin. Kendiniz için önceden ne iyilik gönderirseniz onu Allah katında daha üstün bir iyilik ve daha büyük mükâfat olarak bulursunuz..." (Müzzemmil suresi, 20. ayet)</p> <p>B) "Akrobaya, yoksula ve yolda kalmış yolcuya haklarını ver fakat saçıp savurma. Çünkü saçıp savuranlar şeytanların kardeşleridir. Şeytan ise Rabbinin karşı çok nankörlük etmiştir." (İsra suresi, 26-27. ayetler)</p> <p>C) "Şüphesiz Allah, kendisine karşı gelmekten sakınanlar ve iyi ve yararlı işleri en güzel şekilde yapanlarla beraberdir." (Nahl suresi, 128. ayet)</p> <p>D) "Rabbimiz! Şüphesiz sen, hakkında şüphe olmayan bir günde insanları toplayacaksın. Şüphesiz Allah va'dinden dönmez." (A'li İmran suresi, 9. ayet)</p>
8	<p>"Allah'ın sana verdiği şeylerde ahiret yurdunu ara. Dünyadan da nasibini unutma. Allah'ın sana iyilik yaptığı gibi sen de iyilik yap ve yeryüzünde bozgunculuk isteme. Çünkü Allah bozguncuları sevmez." (Kasas suresi, 77. ayet)</p> <p><b>Bu ayetin vermek istediği asıl mesaj aşağıdakilerden hangisidir?</b></p> <p>A) Allah iyilik edenleri sever.</p> <p>B) Dünya, ahiret için değerlendirilmelidir.</p> <p>C) Bütün nimetleri veren Allah'tır.</p> <p>D) Barışta hayır vardır.</p>



ADI:

SOYADI:

SINIFI:

9	<p>Allah, bu dünyada herkesi ve her şeyi görüp gözetmektedir. Müslüman bir kişi bütün hayatında bu bilinçte olmalı, öldükten sonra hesap vereceğini bilmelidir. Bu yüzden de bu dünyada Allah'ın razı olacağı bir hayat sürmelidir.</p> <p>Aşağıdakilerden hangisi bu metinde verilen ana düşünceye uygun <u>olmayan</u> bir davranıştır?</p> <p>A) Ev ödevlerini zamanında yapmak B) Toplu taşıma araçlarında duyarlı davranmak C) Sınavda öğretmene yakalanmadan arkadaşının kâğıdına bakmak D) Yardıma muhtaçlar için toplanan hayırlara kimse bilmeden destek olmak</p>
10	<p>"Hayat ancak dünya hayatımızdır. Artık biz bir daha diriltilecek de değiliz, derler." (En'am suresi, 29. ayet)</p> <p>Bu ayete göre eleştirilen dünya hayatı için aşağıdakilerden hangisi söylenebilir?</p> <p>A) Dünyaya tekrar geldiğine inananların hayatı B) Dünyayı ahirete tercih edenlerin hayatı C) Hiç ölmeyecekmiş gibi yaşanan bir dünya hayatı D) İnsanlar arasında oyun ve eğlence olan bir dünya hayatı</p>
11	<p>I. Dünyadan ahirete geçiştir. II. İnsanın tamamen yok olmasıdır. III. İnsanın dünya hayatının sona ermesidir. IV. Ruhun, bedenden ayrılmasıdır.</p> <p>Ölüm ile ilgili yukarıdaki yargılardan hangisi <u>doğru kabul edilemez</u>?</p> <p>A) I. B) II. C) III. D) IV.</p>
12	<p>Aşağıdakilerden hangisi ahiret hayatının aşamalarından biri <u>değildir</u>?</p> <p>A) Dünyaya geliş B) Berzah âlemi C) Yeniden diriliş D) Ölüm</p>
13	<p>İnsanın bu dünyadaki hayatının belirlenen zamanda sonlanmasına ----; ömrün son bulunduğu ana ---- denir.</p> <p>Bu tanımda boş bırakılan yerlere sırasıyla aşağıdakilerden hangisinde verilenler getirilmelidir?</p> <p>A) ömür – ölüm B) ölüm – ecel C) kıyamet – ba's D) ecel – Ölüm</p>

14	<p>Aşağıdaki ayetlerden hangisi konu bakımından diğerlerinden farklıdır?</p> <p>A) De ki: "Sizin kendisinden kaçtığınız ölüm, muhakkak sizi bulacaktır. Sonra da görüleni ve görülmeyeni bilen Allah'a döndürüleceksiniz de O size bütün yaptıklarınızı haber verecektir." (Cuma suresi, 8. ayet)</p> <p>B) "Allah yolunda öldürülenleri sakın ölü sanmayın. Bilakis onlar diridirler; Rableri yanında rızıklara mazhar olmaktadır." (A'li İmran suresi, 169. ayet)</p> <p>C) "Her canlı, ölümü tadar. Bir deneme olarak sizi hayırla da şerle de imtihan ederiz. Ve siz, ancak bize döndürüleceksiniz." (Enbiya suresi, 35. ayet)</p> <p>D) "Hiçbir kimse yok ki ölümü Allah'ın iznine bağlı olmasın. (Ölüm), belli bir süreye göre yazılmıştır. Her kim, dünya nimetini isterse kendisine ondan veririz; kim de ahiret sevabını isterse ona da bundan veririz..." (A'li İmran suresi, 145. ayet)</p>
15	<p>"Yeryüzünde bulunan her canlı yok olacak. Ancak azamet ve ikram sahibi Rabbinin zatı bâki kalacak." (Rahman suresi, 26-27. ayetler)</p> <p>Aşağıdakilerden hangisi bu ayetten <u>çıkarılmaz</u>?</p> <p>A) Allah, ezeli ve ebedidir. B) Ölüm herkesi bulacaktır. C) Her varlık ölümlüdür. D) Ahiret âlemi kaçınılmazdır.</p>
16	<p>İnsan öldüğünde ruhu, kıyamet kopup yeniden diriliş gerçekleşinceye kadar dünya ile ahiret arasındaki âlemde bekletilir.</p> <p>Aşağıdakilerden hangisi bu âlemin adıdır?</p> <p>A) Kabir B) Ruhlar C) Berzah D) Gökler</p>
17	<p>"Her insan, öldüğü hal üzere (nasıl ölmüşse öyle) dirilitilir." (Hadis-i Şerif)</p> <p>Bu hadisin vermek istediği mesaj aşağıdakilerden hangisidir?</p> <p>A) Her insan ölümlüdür. B) Ölümden sonra diriliş hakktır. C) Güzel yaşayan güzel ölür ve dirilir. D) Ölüm ahiretin geçiş kapısıdır.</p>
18	<p>Mezarda her insanı karşılayacak olan melek aşağıdakilerden hangisidir?</p> <p>A) Hafaza B) Kiramen katibin C) Ridvan D) Münker nekir</p>





ADI:

SOYADI:

SINIFI:

19	<p>"Nihayet Allah, ona kardeşinin ölmüş cesedini nasıl örtüp gizleyeceğini göstermek için yeri eşeleyerek bir karga gönderdi. 'Yazıklar olsun bana! Şu karga kadar olup da kardeşimin cesedini örtmekten âciz miyim ben?' dedi. Artık pişmanlık duyanlardan olmuştu." (Maide suresi, 31. ayet)</p> <p><b>Bu ayetten aşağıdakilerden hangisi çıkarılabilir?</b></p> <p>A) Kardeşler arasında kıskançlığın olabileceği</p> <p>B) Öfke ile alınan kararların insanı kötülüğe sürükleyeceği</p> <p>C) Merhamet duygusundan yoksun olmanın insana neler yaptırdığı</p> <p>D) Hayatı sona erenleri kabre koymanın bir yükümlülük olduğu</p>	24	<p><b>Evrende oluşan kozmolojik düzenin, bozulmasının ardından yeniden oluşmasına verilen ad aşağıdakilerden hangisidir?</b></p> <p>A) Ahiret B) Ecel</p> <p>C) Ölüm D) Kıyamet</p>
20	<p>"Ahiret duraklarının ilkidir. Bir kimse eğer o duraktan kurtulursa sonraki durakları daha kolay geçer. Kurtulamazsa sonrakileri geçmek daha zor olacaktır." (Hadis-i Şerif)</p> <p><b>Bu hadiste belirtilen ahiret hayatının ilk durağı aşağıdakilerden hangisidir?</b></p> <p>A) Sırat B) Kabir</p> <p>C) Mahşer D) Mizan</p>	25	<p>"Gökyüzü yarıldığı, yıldızlar döküldüğü, denizler birbirine katıldığı, kabirlerin içindekiler dışarı çıkarıldığı zaman, herkes yaptığı ve yapmadığı şeyleri bilecek." (İnfitâr suresi, 1-5. ayetler)</p> <p><b>Bu ayetlerde aşağıdakilerin hangisinden bahsedilmektedir?</b></p> <p>A) Kabirde yaşananlardan</p> <p>B) Kıyametin kopmasından</p> <p>C) Ölüm anındaki insanın durumundan</p> <p>D) Mahşerde insanların toplanmasından</p>
21	<p><b>Kabir hayatında yaşanacaklar ile ilgili aşağıdakilerden hangisi söylenemez?</b></p> <p>A) Her insanın dünyaya tekrar geri dönmek istemesi</p> <p>B) İman edenlerin nimet içinde bulunması</p> <p>C) Kâfir olarak ölenlerin azap içinde olması</p> <p>D) İnsanların sorguya çekilmeleri</p>	26	<p>Hadis kitaplarında yer alan meşhur Cibril hadisinde geçen diyalogda Cebrail, Hz. Muhammed'e kıyametin ne zaman kopacağını sormuş ve ondan şu cevabı almıştır: "-----"</p> <p><b>Hz. Muhammed'in verdiği cevap aşağıdakilerden hangisi olabilir?</b></p> <p>A) Bu meselede kendisine soru sorulan, sorandan daha bilgili değildir.</p> <p>B) Bu mesele hakkında konuşmayı Rabbim bana yasakladı.</p> <p>C) Bu konunun cevabı Kur'an-ı Kerim'de mevcuttur.</p> <p>D) Sen kıyamet için ne hazırlıyorsun asıl onunla meşgul ol.</p>
22	<p><b>İslam dinine göre ölüm hakkında aşağıdakilerden hangisi söylenemez?</b></p> <p>A) Ölüm bir yok oluş değildir.</p> <p>B) Ahirete geçişin kapısıdır.</p> <p>C) Zahmetten ve sıkıntılardan kurtuluştur.</p> <p>D) İstenmeyen ve soğuk karşılanan bir gerçekliktir.</p>	27	<p>Kur'an-ı Kerim'de kıyametin kopma anı ile ilgili yaşanacaklardan bahsedilmektedir.</p> <p><b>Buna göre aşağıdakilerden hangisi bu durumlardan biri değildir?</b></p> <p>A) Gökyüzünün yarılması</p> <p>B) Yıldızların dökülmesi</p> <p>C) İnsanların konuşamaması</p> <p>D) Denizlerin birbirine karışması</p>
23	<p>"Nerede olursanız olun, sağlam ve tahkim edilmiş kaleler içinde bulunsanız bile ölüm size ulaşacaktır..." (Nisa suresi, 78. ayet)</p> <p><b>Bu ayette vurgulanan aşağıdakilerden hangisidir?</b></p> <p>A) Ecelsiz ölüm olmaz.</p> <p>B) Ölümden korkmak kişiyi dinden çıkarmaz.</p> <p>C) Ölümsüzlük sadece Allah'a mahsustur.</p> <p>D) Ölümün nerde geldiği önemli değildir.</p>	28	<p><b>Kur'an-ı Kerim'e göre kıyametin nasıl kopacağı aşağıdakilerden hangisiyle bizlere bildirilmektedir?</b></p> <p>A) Ölümlerin dirilmesiyle</p> <p>B) İsrail'in sûra üflemesiyle</p> <p>C) İnsanların mahşerde toplanmasıyla</p> <p>D) Yeryüzünde büyük depremlerin olmasıyla</p>

ADI: SOYADI: SINIFI:

29	 Kiyamet ansızın gelecektir.  Kiyametın saatını yalnızca Cebrail bilir.  Kiyametın gerçekleşeceği Kur'an'da ifade edilmiştir.  Kiyametın gelmesinden daha önemli olanı, onun için yapılan hazırlıktır. <p>Kiyamet ile ilgili yukarıdaki öğrencilerden hangisinin verdiği bilgi <u>yanlıştır</u>?</p> <p>A) Ayşe B) Ömer C) Faruk D) Mine</p>
30	<p>Kiyametten sonra İsrail'in sûra ikinci kez üfürmesiyle insanların Allah tarafından yeniden diriltilmelerini ifade eden kavram aşağıdakilerden hangisidir?</p> <p>A) Ba's B) Mahşer C) Sırat D) Mizan</p>

Başarılar.  
İyi tatiller 😊






ADI:

SOYADI:

SINIFI:

SORU	FEN BİLİMLERİ TESTİ SORULARI
1	<ul style="list-style-type: none"> <li>Gezegenlerin etrafında dolanan gök cisimleri-ne denir.</li> <li>Işığın bir yılda aldığı yola denir.</li> <li>Güneş, gezegenler, gezegenlerin etrafında dolanan uydular, kuyruklu yıldızlar ve meteorlardan oluşur.</li> </ul> <p>Yukarıda bazı kavramların tanımları veriliyor. Buna göre bu tanımlar arasında aşağıdakilerden hangisinin tanımı <u>yoktur</u>?</p> <p>A) Uydu B) Kuyruklu Yıldız C) Güneş Sistemi D) Işık Yılı</p>
2	<p>I. Yapılacak uzun süreli araştırmalar için gerekli miktarda taşınabilecek enerji depolayamaması</p> <p>II. Atmosfer sürtünmelerinin uzay araçlarında sıcaklıkların yükselmesine neden olması</p> <p>III. Dünya'nın küresel yapıda olması</p> <p>IV. Boşlukta yayılan zararlı Güneş ışınlarının insan vücuduna etkisi</p> <p>Yukarıdaki numaralandırılmış durumlardan hangisi, uzay araştırmalarını engelleyecek faktörler arasında <u>bulunmaz</u>?</p> <p>A) I B) II C) III D) IV</p>
3	<p>1. Uzay sondaları ve uzay istasyonları uzay teknolojisi ürünüdür.</p> <p>2. Uzay teknolojisi uzay araştırmalarına destek sağlar.</p> <p>3. Astronotlar uzay araştırmaları yapar.</p> <p>Uzay araştırmaları ile ilgili yukarıda verilen numaralandırılmış bilgilerden hangileri doğrudur?</p> <p>A) Yalnız 3 B) 1 ve 2 C) 2 ve 3 D) 1, 2 ve 3</p>
4	<p>..... uzay kirliliğine sebep olur.</p> <p>Yukarıda verilen cümlede boş bırakılan yere;</p> <p>I. İşlevini kaybeden yapay uydular</p> <p>II. Dünya'daki zararlı gazların atmosfere yayılması</p> <p>III. Uzay aracı atıkları</p> <p>ifadelerinden hangileri yazılabilir?</p> <p>A) Yalnız I B) I ve III C) II ve III D) I, II ve III</p>


5	<p>I. Uzay istasyonlarını hazırlamak ekonomik anlamda ağır bir yük getirdiğinden, son yıllarda bu çalışmalar birçok ulus tarafından ortaklaşa yapılmaktadır.</p> <p>II. Uzay istasyonlarında yapılan yerçekimsiz ortamda aşı ve maddelerin arınması gibi pek çok araştırma yapılmıştır.</p> <p><b>Uzay istasyonlarıyla ilgili numaralandırılmış ifadeler için aşağıdakilerden hangisi söylenebilir?</b></p> <p>A) Yalnız I doğru                      B) Yalnız II doğru</p> <p>C) Her ikisi de doğru                D) Her ikisi de yanlış</p>																								
6	<table border="1"> <thead> <tr> <th></th><th>D</th><th>Y</th></tr> </thead> <tbody> <tr> <td>Teleskop ve diğer teknolojik araçlar kullanılarak uzayla ilgili araştırmaların yapıldığı yerlerdir.</td><td></td><td></td></tr> <tr> <td>Genellikle şehir merkezlerine kurulur.</td><td></td><td></td></tr> <tr> <td>Gök bilimcilerin çalışma yeridir.</td><td></td><td></td></tr> </tbody> </table> <p><b>Yukarıda gözlemevi ya da rasathanelerle ilgili verilen ifadeler doğru (D) ya da yanlış (Y) olarak işaretlenirse doğru işaretleme hangi seçenekteki gibi olur?</b></p> <p>A) <table border="1"><tr><td>D</td></tr><tr><td>Y</td></tr><tr><td>D</td></tr></table>      B) <table border="1"><tr><td>Y</td></tr><tr><td>Y</td></tr><tr><td>D</td></tr></table>      C) <table border="1"><tr><td>D</td></tr><tr><td>D</td></tr><tr><td>Y</td></tr></table>      D) <table border="1"><tr><td>Y</td></tr><tr><td>D</td></tr><tr><td>Y</td></tr></table></p>		D	Y	Teleskop ve diğer teknolojik araçlar kullanılarak uzayla ilgili araştırmaların yapıldığı yerlerdir.			Genellikle şehir merkezlerine kurulur.			Gök bilimcilerin çalışma yeridir.			D	Y	D	Y	Y	D	D	D	Y	Y	D	Y
	D	Y																							
Teleskop ve diğer teknolojik araçlar kullanılarak uzayla ilgili araştırmaların yapıldığı yerlerdir.																									
Genellikle şehir merkezlerine kurulur.																									
Gök bilimcilerin çalışma yeridir.																									
D																									
Y																									
D																									
Y																									
Y																									
D																									
D																									
D																									
Y																									
Y																									
D																									
Y																									
7	<p>Uzay çalışmaları birçok yeni ürün bulunmasında rol oynamıştır.</p> <p><b>Aşağıda verilen;</b></p> <p>I. Yapay uydu </p> <p>II. Diş teli </p> <p>III. Alüminyum folyo </p> <p><b>ürünlerinden hangileri uzay çalışmaları sırasında üretilen ürünlerdendir?</b></p> <p>A) Yalnız I                                      B) II ve III</p> <p>C) I ve II                                        D) I, II ve III</p>																								

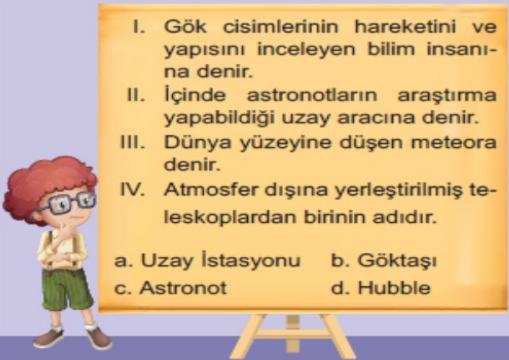
ADI:

SOYADI:

SINIFI:


8	<p>I. Periskop II. Mikroskop III. Teleskop IV. Dürbün</p> <p>Yukarıda bazı aletler verilmiştir. Bunlardan hangilerinin icadı uzay çalışmalarını hızlandırmıştır?</p> <p>A) Yalnız I B) I ve II C) II ve III D) III ve IV</p>
---	--

9	 <p>I. Astronotlar, uzayda fizik, kimya, biyoloji vb. alanlarda araştırma yapan bilim insanlarıdır.</p> <p>II. Neil Armstrong Ay'a ilk ayak basan uzay insanıdır.</p> <p>Yukarıda numaralandırılarak verilen bilgilerle ilgili hangi değerlendirme yapılabilir?</p> <p>A) Yalnız I doğrudur. B) Yalnız II doğrudur. C) Her ikisi de doğrudur. D) Her ikisi de yanlıştır.</p>
---	---

10	 <p>I. Gök cisimlerinin hareketini ve yapısını inceleyen bilim insanına denir. II. İçinde astronotların araştırma yapabildiği uzay aracına denir. III. Dünya yüzeyine düşen meteora denir. IV. Atmosfer dışına yerleştirilmiş teleskoplardan birinin adıdır.</p> <p>a. Uzay İstasyonu    b. Göktaşı c. Astronot            d. Hubble</p> <p>Cem'in verdiği numaralandırılmış tanımlar ile bu tanımların ait olduğu a, b, c ve d ile belirtilen kavramların doğru eşleştirilmesi aşağıdakilerden hangisindeki gibidir?</p> <p>A) I. a    B) I. c    C) I. c    D) I. b II. c    II. a    II. b    II. a III. b    III. b    III. a    III. c IV. d    IV. d    IV. d    IV. d</p>
----	---

11	<p>I. Yıldızların konumlarından faydalananak yön bulmuşlardır. II. Ay ve Güneş'in gözlemlenebilen hareketlerinden yararlanarak takvimler oluşturmuşlardır. III. Ay ve Güneş'in konumundan yararlanarak zamanı belirlemişlerdir.</p> <p>Yukarıda verilenlerden hangileri ilk medeniyetlerin uzay ile ilgili yaptığı çalışmalara örnek verilebilir?</p> <p>A) I ve II    B) I ve III C) II ve III    D) I, II ve III</p>
----	--

12	<p>I. 1608 yılında ilk teleskobu icat ederek cisimleri olduğundan 5 kat daha büyük gözlemlemiştir. II. 16 Temmuz 1969 da uzay aracı ile Ay'a ilk ayak basan astronot olmuştur. III. Güneş saati yapmış ve Ay'ın ilk haritasını çıkarmıştır. Adı Ay'ın belirli bir bölgesine verilmiştir. IV. Astronomide kullanılan ilk teleskobu 1609 yılında yaparak Venüs Gezegeni'nin görünüşünün değiştiğini gözlemlemiştir.</p> <p>Yukarıda bazı bilim insanlarının yaptığı çalışmalar numaralandırılarak verilmiştir.</p> <p>Bu çalışmalardan hangisi Türk dünyasının astronomi ve matematik alanında tanınmış bilgilerinden biri olan Ali Kuşçu'ya aittir?</p> <p>A) I    B) II    C) III    D) IV</p>
----	--

13	 <p>Göktürk - 2    Bilsat    NASA Rasat    Türksat 4B    NACA Göktürk-1    QB50    Türksat 4A</p> <p>Yukarıda verilen uzay çalışmalarından kaç tanesi Türkiye'ye aittir?</p> <p>A) 9    B) 8    C) 7    D) 6</p>
----	--



ADI: SOYADI: SINIFI:

14

- I. İlk teleskop Neil Armstrong tarafından icat edilmiştir.
- II. Teleskopların icat edilmesiyle birlikte evrenin yapısı daha iyi anlaşılmaya başlanmıştır.
- III. Teleskopların yapısında ışınları toplayan ve böylece net bir görüntü oluşturan mercek sistemi vardır.



Teleskoplarla ilgili yukarıda verilen ifadelerden hangileri doğrudur?

- A) Yalnız I B) I ve III  
C) II ve III D) I, II ve III

17

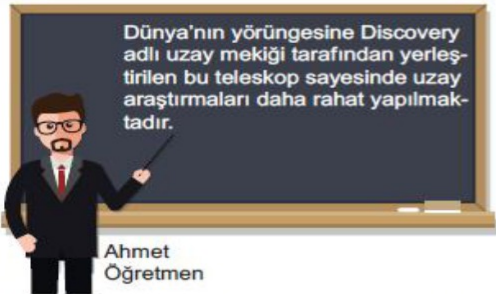
- Astronot
- Galaksi
- Astronomi

Yukarıda bazı kavramlar verilmiştir.

Aşağıda verilen sözcükler ile bu kavramların eş anlamlı olanları eşleştirilirse hangisi kullanılmamış olur?

- A) Gök bilimi B) Kozmonot  
C) Gözlemevi D) Gök Ada

15



Ahmet Öğretmen'in tahtada anlattığı teleskop çeşidi aşağıdakilerden hangisidir?

- A) Aynalı teleskop B) Hubble uzay teleskobu  
C) Mercekli teleskop D) Radyo teleskobu

18



Doğru

Yanlış

Ay'a atılan ilk adım uzay araştırmalarını hızlandırdı. Ay'da hava olayları olmadığından Ay'ın yüzeyindeki izler sabit kalır.

Doğru

Yanlış

Doğru

Yanlış

1. Çıkış

2. Çıkış

3. Çıkış

4. Çıkış

Yukarıda verilen ifadelerin doğru veya yanlış olduğuna karar vererek ilerleyen bir öğrenci kaç numaralı çıkışa ulaşır?

- A) 1. Çıkış B) 2. Çıkış  
C) 3. Çıkış D) 4. Çıkış

19

Uzaya fırlatılan, Dünya çevresinde dönen ve gerektiğinde yeryüzüne inebilen araç aşağıdakilerden hangisidir?

- A) Uzay Mekiği B) Uzay İstasyonu  
C) Teleskop D) Gözlem Evi

16

- I. Doğal uydular  
II. Ömrü biten yapay uydular  
III. Uzay araçlarından kopan parçalar

Yukarıda verilenlerden hangileri uzay kirliliğine neden olur?

- A) Yalnız III B) I ve II  
C) II ve III D) I ve III

ADI:

SOYADI:


SINIFI:

20 Aşağıda verilen bilgilerin doğru olabilmesi için altı çizili kelimelerden hangileri seçilmelidir?

- Gök cisimlerinin yapısını ve hareketlerini inceleyen bilim insanına astronot / astrolog denir.  
1 2
- 15. yy'da yaşamış Ay'ın ilk haritasını çıkaran Türk Astronomi bilgini Ali Kuşçu / Galileo'dur.  
3 4

A) 1 ve 3 B) 1 ve 4  
C) 2 ve 3 D) 2 ve 4

21



Uluğ Bey Galileo  
Ali Kuşçu Marie Curie

Yukarıda verilen bilim insanlarından hangisi gök bilimi ile ilgili araştırmalar yapmamıştır?

A) Uluğ Bey B) Galileo  
C) Ali Kuşçu D) Marie Curie


22

- Bilsat
- Türksat 1B
- Türksat 1C
- Türksat 2A
- Türksat 3A

olmak üzere Türkiye 5 tane uydu uzaya göndermeye çalışmıştır. Bunlardan kaç tanesi uzaydaki konumuna yerleşip görev yapmıştır?

A) 5 B) 4 C) 3 D) 2

23




Yıldızlar ısı ve ışık kaynağıdır. En soğuk yıldızlar .....★..... renktedir.

Ela Öğretmen

Ela öğretmenin açıklamasının doğru şekilde tamamlanması için "★" ile boş bırakılan yere hangisi yazılmalıdır?

A) Kırmızı - Beyaz B) Sarı - Mavi  
C) Beyaz - Mor D) Turuncu - Kırmızı

24 Yıldızlar Dünya'dan ışıkları titreşen nokta şeklinde görülürler. Bunun sebebi,



Ahmet: Işık Kaynağı olmaları  
Mehmet: Dünyadan oldukça uzak olmaları  
Murat: Güneşten ışık almaları

hangisi öğrencilerin vermiş olduğu bilgilerdir arasındadır?

A) Yalnız Ahmet  
B) Ahmet ve Mehmet  
C) Ahmet ve Murat  
D) Ahmet, Mehmet ve Murat


25

I. Isı ve ışık kaynağıdır.  
II. Bir yörüngeye sahiptir.  
III. Konumları değişebilir.

Yukarıda verilenlerden hangileri yıldızlara ait özellikler arasındadır?

A) Yalnız I B) Yalnız II  
C) I ve II D) I, II ve III

26



Bitki Hücresi Hayvan Hücresi

Bitki ile hayvan hücreleri arasında yapı ve özellik bakımından bazı farklılıklar vardır. Buna göre aşağıdaki karşılaştırmalardan hangisi yanlıştır?

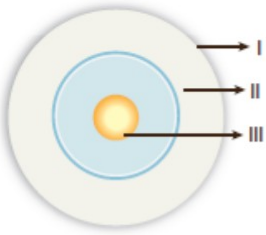
	Bitki Hücresi	Hayvan Hücresi
A)	Hücre duvarı vardır.	Hücre duvarı yoktur.
B)	Şekli köşelidir.	Şekli yuvaraktır.
C)	Sitoplazmasında kloroplast yoktur.	Sitoplazmasında kloroplast vardır.
D)	Kofullar büyük ve az sayıdadır.	Kofullar küçük ve çok sayıdadır.







ADI:

SOYADI:

SINIFI:

27	 <p>Yandaki şekilde bir hayvan hücresinin bazı kısımları gösterilmiştir.</p> <p>Buna göre aşağıdakilerden hangisindeki özellik veya görev yukarıda numaralandırılarak gösterilen hücresel yapılardan birine ait <u>olamaz</u>?</p> <p>A) Organelleri bulundurur. B) Hücreyi korur ve şekil verir. C) Tam geçirgendir, hücreye dayanıklılık sağlar. D) Yaşamsal olayları yönetir.</p>
28	<p>I. Hücreler gözle görülebilir. II. Bütün canlılarda bitki hücresi ve hayvan hücresi beraber bulunur. III. Soğan bitkisi tek hücrelidir.</p> <p>Yukarıdaki ifadelerden hangileri <u>yanlıştır</u>?</p> <p>A) Yalnız I                      B) I ve II C) II ve III                      D) I, II ve III</p>
29	<p>I. Hücrelerin hepsi gözle görülebilir. II. Doğada bir hücreli canlılar da vardır. III. Soğan bitkisi tek hücrelidir. IV. Ağız içi epitel hücresi bitkilerde görülür.</p> <p>Yukarıda verilen bilgilerden hangisi <u>doğrudur</u>?</p> <p>A) I                      B) II                      C) III                      D) IV</p>

30	<p>Aşağıda verilen hücrelerden hangisi bulunduğu canlı çeşidi bakımından diğerlerinden farklıdır?</p> <div style="display: flex; justify-content: space-around;"> <div style="text-align: center;"> <p>A)</p>  <p>Yaprak Hücresi</p> </div> <div style="text-align: center;"> <p>B)</p>  <p>Kas Hücresi</p> </div> </div> <div style="display: flex; justify-content: space-around;"> <div style="text-align: center;"> <p>C)</p>  <p>Sinir Hücresi</p> </div> <div style="text-align: center;"> <p>D)</p>  <p>Kan Hücresi</p> </div> </div>
----	--

Başarılar.  
İyi tatiller 😊

ADI:

SOYADI:

SINIFI:

SORU	MATEMATİK TESTİ SORULARI
1	$[(-60) + (-15)] : (-25)$ <p>işleminin sonucu kaçtır?</p> <p>A) -3      B) -2      C) 2      D) 3</p>
2	$\frac{x}{-2} = 4 \text{ ve } \frac{y}{-4} = -8$ <p>olduğuna göre <math>y : x</math> kaçtır?</p> <p>A) -4      B) -2      C) -8      D) -12</p>
3	$4 \cdot (-1)$ <p>işleminin sonucu kaçtır?</p> <p>A) 1      B) -1      C) 4      D) -4</p>
4	$(-5) \cdot (+4)$ <p>işleminin sonucu kaçtır?</p> <p>A) 4      B) 5      C) -20      D) 20</p>
5	$(-6) \cdot (-7)$ <p>işleminin sonucu kaçtır?</p> <p>A) 42      B) -42      C) -7      D) -6</p>
6	$(-4) \cdot (-6) \cdot (-1)$ <p>işleminin sonucu kaçtır?</p> <p>A) 24      B) -24      C) 4      D) 6</p>

7	$(+12) : (+4)$ <p>işleminin sonucu kaçtır?</p> <p>A) 3      B) -2      C) 1      D) 0</p>
8	$(-6) \cdot (-9) \cdot (+2)$ <p>işleminin sonucu kaçtır?</p> <p>A) 54      B) -54      C) 108      D) -108</p>
9	$(-10) \cdot (+10) \cdot (-10) \cdot (+2)$ <p>işleminin sonucu kaçtır?</p> <p>A) 1000      B) -1000      C) 2000      D) -2000</p>
10	$(-1) \cdot (-1) \cdot (+1) \cdot (-10)$ <p>işleminin sonucu kaçtır?</p> <p>A) 1      B) -1      C) 10      D) -10</p>
11	$(-12) : (-3)$ <p>işleminin sonucu kaçtır?</p> <p>A) -4      B) 4      C) 8      D) 12</p>
12	$(-18) : (+3)$ <p>işleminin sonucu kaçtır?</p> <p>A) -3      B) -2      C) -4      D) -6</p>
13	$(+36) : (-3)$ <p>işleminin sonucu kaçtır?</p> <p>A) 12      B) -12      C) -15      D) -24</p>

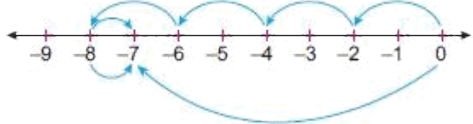


ADI:

SOYADI:

SINIFI:


14	$(45-15) : (-3)$ işleminin sonucu kaçtır? A) 10      B) -10      C) -16      D) -21
15	$\frac{x}{-8} = -3, \quad \frac{-22}{y} = 2$ olduğuna göre $x \cdot y$ çarpımı kaçtır? A) 240      B) 24      C) -11      D) -264
16	4 sayısının çarpma işlemine göre tersi aşağıdakilerden hangisidir? A) 4      B) -4      C) $\frac{1}{4}$ D) $-\frac{1}{4}$
17	-4 sayısının çarpma işlemine göre tersi aşağıdakilerden hangisidir? A) -4      B) 4      C) $\frac{1}{4}$ D) $-\frac{1}{4}$
18	a sayısı sıfır hariç bir tam sayı olmak üzere, a sayısının çarpma işlemine göre tersi ile çarpımı kaçtır? A) 2a      B) $-a^2$ C) 1      D) -2
19	-57 sayısı aşağıdaki tam sayılardan hangisi ile çarpılırsa sonuç pozitif tam sayı olur? A) -1      B) 0      C) 1      D) 10
20	-48 sayısı aşağıdaki tam sayılardan hangisine bölünürse sonuç pozitif tam sayı olur? A) -24      B) 24      C) -30      D) 16

21	Aşağıda verilen tam sayılardan hangisinin çarpma işlemine göre tersi <u>yoktur</u> ? A) 0      B) 1      C) -1      D) -10
22	(-36) sayısının yarısı kaçtır? A) -16      B) -18      C) -20      D) -72
23	Sayı doğrusu üzerindeki (-4) ile (+4) sayıları arasındaki tam sayıların çarpımı kaçtır? A) 24      B) -24      C) 192      D) 0
24	Metin Bey, 80 TL'ye aldığı pantolonları mağazasında 73 TL'ye satıyor. Buna göre Metin Bey'in bir pantolon için kâr-zarar durumunu gösteren tam sayı aşağıdakilerden hangisidir? A) -8      B) -7      C) 3      D) 7
25	$-\frac{72}{x}$ ifadesi pozitif tam sayı olduğuna göre, x aşağıdakilerden hangisi <u>olamaz</u> ? A) -36      B) -18      C) -9      D) -7
26	 Sayı doğrusunda gösterilen işlem aşağıdakilerden hangisidir? A) $4 \cdot (+2) - 1 = -7$ B) $(+9) - (-2) + 11 = -7$ C) $(-6) + (-3) + (+2) = -7$ D) $4 \cdot (-2) + (+1) = -7$

ADI:

SOYADI:

SINIFI:

27	<p>Bir iş merkezinin 8. katında çalışan Ebru Hanım, mesai bitiminde 13 kat aşağıdaki otoparka inerek arabasına binecektir.</p> <p>Buna göre otopark iş merkezinin kaçinci katındadır?</p> <p>A) -5      B) -4      C) -2      D) -1</p>
28	 <p>Sayı doğrusu üzerindeki konumu +21 tamsayı üzerinde duran bir kanguru zıplayarak -13 noktasına gidiyor.</p> <p>Buna göre kanguru kaç birim yer değiştirmiştir?</p> <p>A) 34      B) 20      C) 12      D) 8</p>
29	<p>A = Üç basamaklı en küçük tam sayının toplama işlemine göre tersi</p> <p>B = En büyük negatif tam sayının çarpma işlemine göre tersi</p> <p>olduğuna göre,</p> $\frac{A}{B} + A \cdot B$ <p>işleminin sonucu kaçtır?</p> <p>A) 1998      B) -1998      C) 8      D) 0</p>

30	<p><math>(-8) \cdot \blacktriangle = 8</math></p> <p><math>(-7) : \blacksquare = -7</math></p> <p><math>12 : \bullet = -1</math></p> <p>olduğuna göre <math>\bullet : \blacksquare + \blacktriangle</math> işleminin sonucu kaçtır?</p> <p>A) -14      B) -13      C) -12      D) -10</p>
----	---





Başarılar. 😊  
İyi tatiller





ADI:

SOYADI:

SINIFI:


SORU	TÜRKÇE TESTİ SORULARI
1	<p>Aşağıdaki cümlelerin hangisinde, eylemin yapılış zamanı diğerlerinden farklıdır?</p> <p>A) Önümüzdeki ay, Türkiye'ye dönüyor.</p> <p>B) Bu insanlar yıllardır çile çekiyor.</p> <p>C) Eminim o da bunun farkına varır.</p> <p>D) Merak etme, bunu onunla konuşurum.</p>
2	<p>Buse <input type="text"/> tiyatroya <input type="text"/> gidiyor.</p> <p>Yukarıdaki boş kutuya hangi sözcük gelirse eylem kipinde anlam kayması <u>olmaz</u>?</p> <p>A) bu akşam</p> <p>B) hafta sonları</p> <p>C) yarın</p> <p>D) şu anda</p>
3	<p>Aşağıdaki öğrencilerden hangisinin cümlesinde eylemin kipinde anlam kayması yaşanmıştır?</p> <p>A)  Ödevimi hep zamanında yapıyorum.</p> <p>B)  Bana ne hediye aldığını merak ettim.</p> <p>C)  Görevlerini titizlikle yerine getirir.</p> <p>D)  Halam, bana kırmızı bir hırka örecek.</p>
4	<p>Aşağıdaki cümlelerin hangisinde şimdiki zaman kipi, geniş zaman anlamında kullanılmıştır?</p> <p>A) Ne zaman yüksek sesle müzik dinlesem uyarı alıyorum.</p> <p>B) Akşamki kutlama için hazırlanıyorlar.</p> <p>C) Haftaya gösteri için Bursa'ya geçiyoruz.</p> <p>D) Padişah, günün birinde veziri huzuruna çağırıyor.</p>


5	<p>Aşağıdakilerin hangisinde eylem, kipinin belirttiği zamandan önce gerçekleşmiştir?</p> <p>A) Ara sıra köye gidip dedeme yardım ederim.</p> <p>B) Geçen gün de benden para istedi.</p> <p>C) Daha lisede roman yazmaya karar veriyor, bunun üzerine yazıyor.</p> <p>D) Hangi üniversiteye gideceğime karar vermiyorum.</p>
6	<p>Aşağıdaki cümlelerin hangisinde anlam kayması <u>yaşanmamıştır</u>?</p> <p>A) Birazdan sevdiğim dizi başlıyor.</p> <p>B) Bu konuyla yarın ilgileniriz.</p> <p>C) Geçen yıl da aynı kurumda çalışıyordum.</p> <p>D) Yirmi yıl önce taşınır bu konaktan.</p>
7	<p>Aşağıdaki cümlelerin hangisinde “gerçekleşmemiş bir beklenti” söz konusudur?</p> <p>A) Haftaya okula gitmeyecekmış.</p> <p>B) Sinemaya beni de çağıracağını düşünmüştüm.</p> <p>C) Bu dergiyi size hediye ediyorum.</p> <p>D) Şirkette öğle yemeği yemeyeceğim.</p>
8	<p>Aşağıdaki cümlelerin hangisinde bir “tanımlama” yapılmıştır?</p> <p>A) Ana dilini hakkıyla bilmeyen başka dili de öğrenemez.</p> <p>B) Epik şiir, kahramanlıkları anlatan şiir türüdür.</p> <p>C) Yaşamı güzelleştirmek biz insanların elindedir.</p> <p>D) Sanat yaşamının en olgun örneklerini bu dönemde verdi.</p>
9	<p> 1. Param olmadığı için fuara gidemedim. 3. Keşke, senden borç isteseydim!</p> <p> 2. Bana neden haber vermedin? 4. Sana mutlaka yardımcı olurum.</p> <p>Numaralandırılmış cümlelerin hangisinde “pişmanlık” söz konusudur?</p> <p>A) 1 B) 2 C) 3 D) 4</p>

ADI:

SOYADI:

SINIFI:

10	<p><b>Aşağıdaki cümlelerin hangisinde “aşamalı bir durum” söz konusudur?</b></p> <p>A) Telefon edip bir isteğimin olup olmadığını sordu.</p> <p>B) Seni bundan önce de aramıştım.</p> <p>C) Tekrar tekrar söylüyorum, ondan uzak dur.</p> <p>D) Ona karşı sevgim günden güne artıyor.</p>
11	<p>Dedeciğim, yaşadıklarımızdan nasıl ders alınız?</p>  <p>Geriyeye bakmayı bilerseniz, onda ileriye de görebilirsiniz.</p> <p><b>Aşağıdakilerden hangisi, dedenin sözlerine anlamca en yakındır?</b></p> <p>A) Yaşanmıştan ders almak, geleceği biçimlendirmek için önemlidir.</p> <p>B) Geçmişe duyulan özlem, geleceği güzelleştirir.</p> <p>C) Geçmişle uğraşmak bize zaman kaybettirebilir.</p> <p>D) Çağı yakalayıp ötesine geçmek insanlığın amacıdır.</p>
12	<p><b>Aşağıdaki cümlelerin hangisinde “benzetme” söz konusudur?</b></p> <p>A) Saat beş gibi gelirim, deyip gitti.</p> <p>B) Bu fırsatı senin değerlendirmeni isterdim.</p> <p>C) Haberi duyunca gözleri fal taşı gibi açılmıştı.</p> <p>D) O sözleri duyduğu gibi kapıyı çarpıp gitti.</p>
13	<p><b>Aşağıdaki cümlelerin hangisinde “henüz gerçekleşmemiş bir durum” söz konusudur?</b></p> <p>A) Güzel bir toplantı düzenleyebiliriz.</p> <p>B) Doktorun sorularını güzelce yanıtladı.</p> <p>C) Yeğenin durumunu merak ediyor.</p> <p>D) Üç gündür proje ödevi üzerinde çalışıyor.</p>
14	<p><b>Aşağıdaki cümlelerin hangisinde “öneri” söz konusudur?</b></p> <p>A) Bugün dışarı çıkmayı düşünmüyorum.</p> <p>B) Canı hiç çalışmak istemiyor.</p> <p>C) Âdeta zamanla yarışıyorlardık.</p> <p>D) Kafanı derslere versen iyi olur.</p>





15	<ol style="list-style-type: none"> <li>1. Armut dibine düşer.</li> <li>2. Ödünç güle güle gider, ağlaya ağlaya gelir.</li> <li>3. Mindereyi yaptırmayan yerden bitmiş sanır.</li> <li>4. Soğanın acısını yiyen bilmez, doğrayan bilir.</li> </ol> <p><b>Numaralandırılmış atasözlerinin hangi ikisi, anlamca birbirine en yakındır?</b></p> <p>A) 1 ve 2                      B) 2 ve 3</p> <p>C) 2 ve 4                      D) 3 ve 4</p>
16	 <p>Derslerinize ..... çalışırsanız daha başarılı olursunuz.</p> <p><b>Bu cümlede boş bırakılan yere aşağıdaki sözcüklerden hangisi getirilemez?</b></p> <p>A) planlı                      B) düzenli</p> <p>C) bilgili                      D) severek</p>
17	<p>Her sanatçı, aynı zamanda bir zanaatkardır; çünkü ....</p> <p><b>Yukarıdaki kâğıdın yırtılan parçası aşağıdakilerden hangisi olabilir?</b></p> <p>A) duyguları en büyük sermayesidir.</p> <p>B) yeteneğinin yanında deneyime de ihtiyaç duyar.</p> <p>C) çalışmak için bir iş yerine ihtiyaç duyar.</p> <p>D) tek amacı, yeni bir şeyler yaratmaktır.</p>
18	<p><b>Aşağıdaki atasözlerinden hangisi mecaz anlamı değildir?</b></p> <p>A) Ağaç yaş iken eğilir.</p> <p>B) Damlaya damlaya göl olur.</p> <p>C) Akıl, akıldan üstündür.</p> <p>D) Rüzgâr eken fırtına biçer.</p>





ADI:

SOYADI:

SINIFI:

19	<p>Aşağıdaki cümlelerin hangisinde koşul gerçekleşse de sonuca ulaşamayacağı anlamı vardır?</p> <p>A) Eğer tavırlarına bakarsanız, bu konudaki uyarılarımızın işe yaramadığını görürsünüz.</p> <p>B) Babama, olanları aynen anlatsam da onun bana inanmayacağını iyi biliyorum.</p> <p>C) Gerekli ön hazırlıkları yapmadığınız için başarılı olma şansınız hiç yok.</p> <p>D) Söz verdiğin gibi zamanında gelseydin, bunların hiçbirini yaşanmayacaktı.</p>
20	<p>Aşağıdaki çocuklardan hangisinin cümlesinde soru sormaktan çok, bilineni vurgulama söz konusudur?</p> <p>A)  Bu gösteri ne kadar sürecek?</p> <p>B)  Seni sevmez olur muyum hiç?</p> <p>C)  Kalemimi nerede kaybettin?</p> <p>D)  Dün akşam uykunu alabilirdin mi?</p>
21	<p>Aşağıdaki cümlelerin hangisinde eylemin gerçekleşmesi şarta bağlıdır?</p> <p>A) Yağmur yağmazsa gezmeye gideriz.</p> <p>B) Ne istersen onu yapabilirsin.</p> <p>C) Gelsen de gelmesen de fark etmez.</p> <p>D) İşim çıksa da oraya giderim.</p>
22	<p>Aşağıdaki cümlelerden hangisi ayraç için belirtilen kavramla ilgili değildir?</p> <p>A) Çocuk çok terlemiş, hastalanabilir. (Olasılık)</p> <p>B) İşlerimiz bitse de evimize gitsek. (Sitem)</p> <p>C) Meğer ne akıllı bir çocukmuş! (Şaşma)</p> <p>D) Yaz tatilinde bize de uğrar, umarım. (Beklenti)</p>

23	<p>Aşağıdaki cümlelerin hangisinde “karşılaştırma” söz konusudur?</p> <p>A) Ezgi, oldukça telaşlı görünüyordu.</p> <p>B) Bizim daha çok çalıştığımızı biliyorsun.</p> <p>C) Bu saate kadar hiç oturmam.</p> <p>D) Canım hiçbir şey yapmak istemiyor.</p>
24	<p> Kitapların değerini, satış rekorları ile değil; yıllar sonra dahi okunabilmesiyle ölçeriz.</p> <p>Bu cümleye göre, bir kitabın değeri neye bağlıdır?</p> <p>A) Basım kalitesine</p> <p>B) Okuyucu sayısına</p> <p>C) Anlatımının güzelliğine</p> <p>D) Kalıcı olmasına</p>
25	<p>1.bazı 2.sıkıcı 3.yolculuğun 4.geçiyordu 5.bölümleri</p> <p>Bu sözcüklerle anlamlı ve kurallı bir cümle oluşturulmak istense, doğru sıralama nasıl olmalıdır?</p> <p>A) 1 – 5 – 2 – 4 – 3</p> <p>B) 2 – 4 – 3 – 1 – 5</p> <p>C) 3 – 1 – 5 – 2 – 4</p> <p>D) 3 – 1 – 5 – 4 – 2</p>
26	<p></p> <p>(1) Henüz gün doğmadan çıktık yola. (2) Şansımıza hava pek de güzel değildi. (3) Biraz daha yol aldıktan sonra, hava giderek kötüleşmeye başladı. (4) Sonra bir yağmur yağdı ki gökten mi yerden mi belli değil.</p> <p>Numaralandırılmış cümlelerin hangisinde “aşamalı bir durum” söz konusudur?</p> <p>A) 1 B) 2 C) 3 D) 4</p>

## 7. SINIF TÜRKÇE DERSİ HAFTA SONU ÖDEVİ

ADI:

SOYADI:






SINIFI:

27	<p><b>Aşağıdaki cümlelerden hangisi kanıtlanabilirlik açısından diğerlerinden farklıdır?</b></p> <p>A) Yağmurlu havalarda gezmek çok güzel.</p> <p>B) Son olduğumuz sınav hiç de zor değildi.</p> <p>C) Çağlayan Bey, bugün çok şık görünüyordu.</p> <p>D) Bu adam, günde tam on iki saat çalışıyor.</p>
28	<p><b>Aşağıdaki cümlelerin hangisinde işin yapılma amacı belirtilmiştir?</b></p> <p>A) Onu üzmemek için her şeyi yaptım.</p> <p>B) Olacakları tahmin ettiğinden gelmemiştir.</p> <p>C) Başarılı olmanız kurallara uymanıza bağlı.</p> <p>D) Her isteği yapıldığından çok şımarmıştı.</p>
29	<p><b>Aşağıdakilerden hangisinde bir kaygı dile getirilmiştir?</b></p> <p>A) Bütün söylediklerinden sonra partiye ne yüzle geliyor!</p> <p>B) Elinde fırsat varken, bu işin tüm inceliklerini öğrenir umarım.</p> <p>C) Büyük emeklerle yapılan bu resimler, ya sanattan anlamayanların eline düşerse!</p> <p>D) Kazaya sebep olan aracın şoförü, nasıl olur da serbest bırakılır?</p>
30	<p><b>Aşağıdakilerin hangisinde sözü edilen eserle ilgili olumlu ve olumsuz eleştiriler bir arada verilmiştir?</b></p> <p>A) "Barınak" mizahi üslubuyla olduğu kadar, yansıttığı dramla da ilginç bir yapıt.</p> <p>B) Ayağa düşmüş bir konu, neyse ki el değmemiş bir anlatımla sunuluyor bize "Işıklar Ülkesi"nde.</p> <p>C) 21. yüzyıl insanının samimiyetten uzak, başarısız dostlukları "Yüzleşme"de başarıyla işlenmiş.</p> <p>D) Çağın beğenisinin çok uzağında kalan "Sevgi Kırıntıları"nın klasikler arasına girmesi imkânsız.</p>

Başarılar. İyi  
tatiller 😊



ADI: SOYADI: SINIFI:











SORU	İNGİLİZCE TESTİ SORULARI		
1	<p>Diyalogda boş bırakılan yere uygun düşen seçeneği işaretleyiniz.</p> <p>A: <i>What are you doing?</i></p> <p>B: <i>I'm watching Galatasaray and Fenerbahçe football match.</i></p> <p>A: .....?</p> <p>B: <i>Galatasaray is beating Fenerbahçe two to one.</i></p> <p>A) How are they doing in the game</p> <p>B) Are you watching it on TV</p> <p>C) What do they usually do</p> <p>D) Where are they playing football</p>	5	<p>Diyalogda boş bırakılan yere uygun düşen seçeneği işaretleyiniz.</p> <p>A: .....?</p> <p>B: <i>A skate and a helmet.</i></p> <p>A) What equipment do you need for this sport</p> <p>B) Which extreme sport is your favourite</p> <p>C) How often do you train for the Olympics</p> <p>D) Do you prefer indoor or outdoor sports</p>
2	<p>Verilen metne göre Sam ve arkadaşı aşağıdakilerden hangisini <u>yapmamıştır</u>?</p> <p>Sam and his friend were on a sports camp. They did a lot of activities. On their first day, they went surfing. The following day, they went scuba diving and on their third day, they went cycling.</p> <p>A)  B) </p> <p>C)  D) </p>	6	<p>Aşağıda verilen gazete manşetine göre hangi seçenek doğrudur?</p> <p></p> <p>A) Juventus won the match.</p> <p>B) Galatasaray lost the match.</p> <p>C) Galatasaray scored 3 goals.</p> <p>D) The score was a draw.</p>
3	<p>Verilen reklama göre bu kampta hangi spor türü vardır?</p> <p>Do you like outdoor sports? Then this camp is just for you. Every morning you can do different outdoor activities.</p> <p>A) basketball B) fencing</p> <p>C) cycling D) powerlifting</p>	7	<p>How often does Hema train?</p> <p>Hema is a professional volleyball player. She plays in the Indian volleyball team. She always gets up at six o'clock and has an enormous breakfast. She goes training from Monday to Friday and spends hours there because she should be the best.</p> <p>A) In the Indian team.</p> <p>B) Five times a week.</p> <p>C) At six o'clock.</p> <p>D) A volleyball player.</p>
4	<p>Boş bırakılan yere uygun düşen seçeneği işaretleyiniz.</p> <p><i>He's a really good tennis player.</i></p> <p><i>He never .....</i></p> <p>A) loses a match B) goes training</p> <p>C) wins a medal D) scores a goal</p>	8	<p>Diyalogda boş bırakılan yere uygun düşen seçeneği işaretleyiniz.</p> <p>A: <i>What do football players wear on their feet?</i></p> <p>B: <i>They .....</i></p> <p>A) attack to even the score</p> <p>B) have got world records</p> <p>C) put on cleats</p> <p>D) should have a ball</p>

ADI:

SOYADI:

SINIFI:

9	<p>Aşağıda verilen tabloya bakarak Jill'in bulunduğu resmi işaretleyiniz.</p> <table border="1"> <thead> <tr> <th></th><th>SPORTS</th></tr> </thead> <tbody> <tr> <td>Jane</td><td>skiing</td></tr> <tr> <td>Sue</td><td>rollerblading</td></tr> <tr> <td>Jill</td><td>cycling</td></tr> <tr> <td>Mary</td><td>running</td></tr> </tbody> </table> <p>A)  B) </p> <p>C)  D) </p>		SPORTS	Jane	skiing	Sue	rollerblading	Jill	cycling	Mary	running
	SPORTS										
Jane	skiing										
Sue	rollerblading										
Jill	cycling										
Mary	running										
10	<p>Boş bırakılan yere uygun düşen seçeneği işaretleyiniz.</p> <p><i>Arda Turan played for Galatasaray before Atletico Madrid .....and he was the best football player in Turkey.</i></p> <p>A) He rarely trained on weekdays B) His favourite activity was cycling C) He lost a lot of matches in Turkey D) He scored over 30 goals in 18 matches</p>										
11	<p>Verilen resmi ifade eden seçeneği işaretleyiniz.</p>  <p>A) Two footballers argued with each other. B) The referee showed a red card. C) The footballer was injured. D) The home team defeated the guest team.</p>										
12	<p>Verilen ifadelerin oluş sırasının bulunduğu seçeneği işaretleyiniz.</p> <p>(I) <i>The guest team attacked to even the score.</i> (II) <i>The home team scored a goal.</i> (III) <i>The match started.</i> (IV) <i>They scored a goal and it was a draw in the end.</i></p> <p>A) I – IV – III – II      B) III – II – I – IV C) IV – III – II – I      D) II – I – IV – III</p>										

13	<p>Hangi seçenekteki eşleştirme <u>yanlıştır</u>?</p> <p>A) Football – cleats B) Swimming – goggles C) Tennis – racket D) Shooting – ball</p>
14	<p>Konuşma balonunda anlatılan durumu ifade eden seçeneği işaretleyiniz.</p>  <p>A)  B) </p> <p>C)  D) </p>
15	<p>Verilen ifadenin olduğu resmi işaretleyiniz.</p> <p><i>You lie on a large skateboard down a road and control it. Gravity does the rest.</i></p> <p>A)  B) </p> <p>C)  D) </p>
16	<p>Verilen görseldeki durumu ifade eden seçeneği işaretleyiniz.</p>  <p>A) Put on a helmet so you don't get injured. B) Wear your cap and goggles while swimming. C) Learn how to hold a racket and hit the ball. D) Take your cleats before you play football.</p>



ADI:

SOYADI:

SINIFI:

17	<p><b>Diyalogda boş bırakılan yere uygun düşen seçeneği işaretleyiniz.</b></p> <p><b>A:</b> ..... ?</p> <p><b>B:</b> <i>The girl with the long blonde hair hit all the targets with the laser earlier than other competitors.</i></p> <p>A) Who finished shooting first</p> <p>B) What is a pentathlon</p> <p>C) How many games are there in a pentathlon</p> <p>D) What is the third game in a pentathlon</p>
18	<p><b>Verilen diyaloga göre doğru seçeneği işaretleyiniz.</b></p>  <p>A) He plays football twice a week.</p> <p>B) He never plays football.</p> <p>C) He plays football at weekends.</p> <p>D) He plays football three times a day.</p>
19	<p><b>Diyalogda boş bırakılan yere uygun düşen seçeneği işaretleyiniz.</b></p> <p><b>A:</b> <i>Did you go to the basketball game?</i></p> <p><b>B:</b> <i>Yeah, it was a great game.</i></p> <p><b>A:</b> ..... ?</p> <p><b>B:</b> <i>I don't remember it but our team played very well and won the game.</i></p> <p>A) Do you often go to the games</p> <p>B) Did your team lose the match</p> <p>C) How did they play in the game</p> <p>D) What was the score in the end</p>
20	<p><b>Diyalogda boş bırakılan yere uygun düşen seçeneği işaretleyiniz</b></p> <p><b>A:</b> <i>Bob Melson ..... in the match last night.</i></p> <p><b>B:</b> <i>Oh, yes, I know. He can't play for 3 months.</i></p> <p>A) got injured</p> <p>B) achieved to dive</p> <p>C) reached the finish line</p> <p>D) hit the ball strictly</p>

21	<p><b>Diyalogda boş bırakılan yere uygun düşen seçeneği işaretleyiniz.</b></p> <p><b>A:</b> <i>How often do you go handball training?</i></p> <p><b>B:</b> <i>Sorry, I don't understand. .... ?</i></p> <p>A) When do you usually train</p> <p>B) Who is your favourite player</p> <p>C) What do you think about handball</p> <p>D) Can you repeat it, please</p>
22	<p><b>22.23.24. soruları verilen metne göre yanıtlayınız.</b></p> <div style="border: 1px solid black; padding: 10px;"> <p>I was at the World Cup Final in Berlin, Germany in 2006. I went there with my three French friends. It was on July 8th at nine o'clock. I was very young at that time. There were 69.000 people in the stadium waiting for Italy- France match to start. Everybody was very excited. When the players came to the field, the match started. After a few minutes, two players argued with each other and one of the Italian players got badly injured. The referee came fast near them and he showed a red card to the French player. The French team had only 10 players, then. The match continued and Italy scored a goal. The first half finished 1-0. In the second half, France attacked to even the score and finally they achieved! They scored a goal. The teams were even for fifteen minutes. But it was the last minute of the match and something impossible happened. Italy was stronger and they played better than France but France made one more goal and the score was 2-1 in the end. It was a great match!</p> </div> <p><b>How many spectators were there in the stadium?</b></p> <p>A) Three.</p> <p>B) Sixty-nine thousand.</p> <p>C) In 2006.</p> <p>D) At nine o'clock.</p>
23	<p><b>The referee sent one of the French players outside the field because .....</b></p> <p>A) the referee was badly injured</p> <p>B) he argued with an Italian player</p> <p>C) they scored one goal in the first half</p> <p>D) it was the World Cup Final match</p>
24	<p><b>Which one is TRUE?</b></p> <p>A) Italy scored a goal in the last minute.</p> <p>B) The score was a draw in the first half.</p> <p>C) The French team won the World Cup.</p> <p>D) It was impossible to even the score.</p>

Başarılar.  
İyi tatiller 😊