


ADI SOYADI: .....



## TÜRKÇE

Kasabada oğluyla birlikte yaşayan yaşlı bir adam vardı. Yaşlı adamın bir de atı vardı. At birden kayboldu. Komşuları, bu talihsiz olayın ardından yaşlı adamı teselliye geldiler. Yaşlı adam, onlara: "Bunun talihsizlik

olduğunu nereden biliyorsunuz?" deyince komşuları alay edip gittiler. Birkaç gün sonra kaybolan at, yanında bir kaç atla beraber geri dönünce komşular bu sefer de tebrik için geldiler. Yaşlı adam: "Bunun iyi bir talih olduğunu nereden biliyorsunuz?" deyince komşular kızıp gittiler. Günler sonra oğlu atların birinin üzerinden düşüp bacağı kırınca komşuları üzüntülerini belirtmek için yaşlı adama yine geldiler. Yaşlı adam yine o alışlagelen cevabı verdi; "Nereden biliyorsunuz bunun kötü bir talih olduğunu?" Komşular " bunamış heralde" deyip gittiler.

Bir süre sonra savaş çıktı, köyün bütün gençleri savaşa götürüldü ama yaşlı adamın oğlunun ayağı kırık olduğundan almadılar. Bütün köy çocukları savaşa gidince çok üzüldü. Köylüler tekrar ihtiyara gidip; "Yine senin haklı olduğun anlaşıldı. Oğlunun ayağı kırık ama senin yanında. Bizim çocuklarımız durumu belli değil. Oğlunun bacağına kırılması hayırlı imiş de biz anlayamamışız" dediler. "Siz yine acele hüküm vermekte ısrarcısınız" diye cevapladı yaşlı adam. Ve devam etti: "Esasen ne olacağını hiç kimse bilemez. Bildiğim şey sadece benim oğlumun yanımda sizinkilerin ise savaşta olduğudur. Ama bunların hangisinin iyi hangisinin kötü olduğunu, bunun hayır mı şer mi olduğunu yalnızca Allah bilir..."

### 1-Yaşlı adamın neyi kaybolmuş?

- A)Atı B) oğlu C) parası D) komşuları

### 2- Komşular neden Yaşlı adamı ziyaret ediyorlarmış?

- A-Yaşlı adamı sevdikleri için geliyorlarmış.  
B-Üzüntüsünü paylaşmak için geliyorlarmış.  
C-Alay etmek için geliyorlarmış.  
D-Teselli veya tebrik etmek için geliyorlarmış.

### 3-Yaşlı adamın komşularına vermek istediği ders neymiş?

- A- Eşyalara çok değer vermeyin..  
B-Olaylardan sonra neler olabileceğini kimse bilemez.  
C- İnsanlara yardımcı olmak hepimizin görevi.  
D-Olumsuz bir olay olunca birbirinize destek olun.

### 4-Aşağıdakilerden hangisi anlam ilişkisi bakımından diğerlerinden farklıdır?

- A. saydam- opak B. kokulu-kokusuz  
C. savaş-barış D. gece-gündüz

- I. Öyle hızlı koşuyor ki kimse ona yetişemiyor.  
II.Dolapta ki yemeği çıkarıp ısıtacağım.  
III. Perdeyi çek ki ışık içeri girmesin.  
IV.Tabağında ki yemeği herkes bitirmeli.

### 5-Yukarıdaki cümlelerin hangisinde " ki " doğru yazılmıştır?

- A) I , II B) II , IV C) I , III D) I , II ve IV

Okulumuz depremde dolayı yıkılacağından başka okula geçtik ( ) Sınıfımız yeni okulda 4 ( ) katta . Ağır çantalarla nasıl çıkacağız ( ) Bir asansör olsaydı ( )

### 6-Aşağıdaki noktalama işaretlerinden hangisi bu yazıda kullanılması gereken bir işaret değildir?

- A) ... B) ? C) , D) .

### 7-Aşağıdaki öğrencilerden hanisinin cümlesinde sebep-sonuç cümlesi yoktur?

- A)İbrahim dikkatsiz koşunca arkadaşına çarptı.  
B)Azra her sabah erkenden uyanır.  
C)Sınavdan iyi sonuç alınca çok sevindi.  
D) Kerem yavaş yürüdüğü için okula geç kaldı.

### 8-Aşağıdaki tümcelerin hangisinde "burun" sözcüğü gerçek anlamıyla kullanılmıştır?

- A. Çok para kazanınca burnu büyüdü.  
B. Hira bu çalışmada burnunun dikine gidiyor.  
C. Ablam burnundan ameliyat oldu.  
D. Hayatı burnumdan getirdi.

### 9-Aşağıdaki cümlelerin hangisinde deyim açıklamasıyla birlikte verilmiştir?

- A. Her olayı hafife alırdı.  
B. Arkadaşının haline içi sızlamıştı.  
C. Kulak kesilmiş, arkadaşını bekliyordu.  
D. İyi sır saklayan ağzı pek biriydi.



"Muhammed'le Umut yeşil ışık yandığından karşıdan karşıya geçiyorlar ....."

### 10-Yukarıdaki tümce hangisiyle tamamlanırsa " farklı düşünmeye yönlendiren " ifade kullanılmış olur?

- A. ve okula gidiyorlar.  
B. böylelikle trafik kurallarına uyuyorlar.  
C. trafik düzenini bozmuyorlar.  
D. ancak kırmızı yansaydı geçemezlerdi.

### 11-Aşağıdaki cümlelerin hangisinde "de" bağlaç olmadığı halde sözcükten ayrı yazılmıştır?

- A) Benim de küçükken oyuncaklarım vardı.  
B) Bugün de gelmezse evine gideceğim.  
C) Ben de kalan kitabını yarın getiririm.  
D) Furkan da Bursa'ya gelecekti ama işi çıkınca gelemedi.

12-Aşağıdakilerden kelimelerden hangisi büyük ünlü uyumuna uymaktadır?

- A-Çiçek B-kitap C-ihtiyar D-basit

13-Aşağıdaki tümcelerden hangisinde karşılaştırma bildiren ifade yoktur?

- A. Bu kitap diğerlerinden daha güzel.  
B. Ben seni arayana kadar evde bekle.  
C. Senin çantanın aynısı bende de var.  
D. Babamın boyu anneminkinden uzundur.

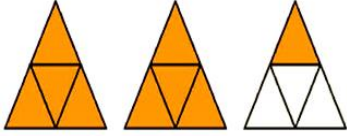
14-Aşağıdaki cümlelerin hangisinde “güneş” sözcüğü terim anlamıyla kullanılmıştır?

- A) Güneş, gezegenlere ışık ve ısı verir.  
B) Çiftçiler güneş batarken tarladan dönüyorlardı.  
C) Her tarafı eskimiş, güneş görmeyen bir konaktı.  
D) Kedine yeni bir güneş gözlüğü aldı.

15-Aşağıdaki cümlelerin hangisinde “henüz gerçekleşmemiş bir olay ” vardır?

- A) Arkadaşlarla güzel oyunlar oynadık.  
B) Kitap okumaya devam ediyorum.  
C) Bugünkü sınav sonucundan umutluyum.  
D) Koşmama rağmen otobüse yetişemedim.

### MATEMATİK



1)Yandaki modelle gösterilen kesrin ifadesi aşağıdakilerden hangisidir?

- A-  $\frac{4}{4}$  B-  $\frac{6}{12}$  C-  $\frac{9}{4}$  D-  $\frac{11}{12}$

2-) Sümeyye hamur işleri yapmak için her kolide 30 tane olan yumurtalardan 12 koli aldı. Yumurtaların 65 tanesini böreklerde, 235 tanesini de kurabiyelerde kullandı. Geriye kaç yumurta kaldı?

- A)30 B)60  
C)15 D)45

3-  Aşağıdaki sayı örüntülerinden hangisinin kuralı diğerlerinden farklıdır?

- A. 2020 –2120 – 2220– 2320 –2420  
B. 3803 –4803 – 5803– 6803– 7803  
C. 1675 –1775– 1875 –1975 – 2075  
D. 6500 – 6600– 6700– 6800 –6900



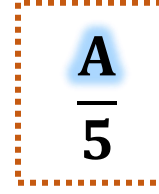
4 katlı Belde İlkokulu'nun her katında 7 sınıf vardır. Her sınıfta 40 öğrenci olduğuna göre okulda kaç öğrenci vardır?

- A-1120 B-920  
C-962 D-1210

(4binlik)+(5onluk)+(2yüzlük)+(1yüzbinlik)


5-Yukarıda çözümlenmiş olan sayı aşağıdakilerden hangisidir?

- A-14 025 B-104 250  
C-140 205 D-14 552



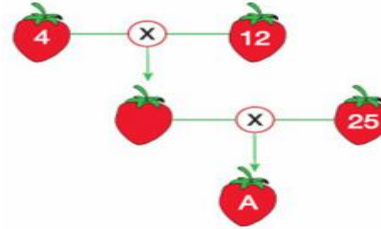
6-Yukarıda ki kesir Basit kesir olduğuna göre **A** yerine gelebilecek sayıların toplamı kaçtır?

- A-10 B-8 C-6 D-4



7-Yukarıdaki sayı doğrusunda **B** noktasına karşılık gelen kesir aşağıdakilerden hangisidir?

- A)  $2\frac{3}{4}$  B)  $3\frac{2}{4}$  C)  $2\frac{3}{12}$  D)  $2\frac{9}{4}$



8-Yandaki şemada **A** ile gösterilen yere hangi sayı gelmelidir?

- A) 2400 B) 1200  
C) 1020 D) 960

I. Binler bölümü iki basamaklıdır.

II. Birler basamağındaki rakamın basamak değeri 5'tir

III. Birler bölümündeki rakamların sayı değerleri toplamı 11'dir.

9-Yukarıda özellikleri verilen sayı aşağıdakilerden hangisidir?

- A) 56 321 B) 506 776  
C) 525 320 D) 16 515



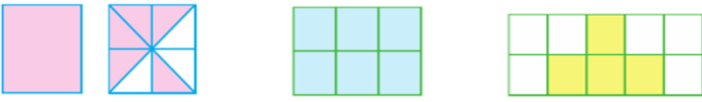
10-Öğretmenimiz 90 tane çikolatasını öğrencilerine dağıtmak küçük külahlara doldurdu. Her külahta 5 çikolata olduğuna göre kaç tane külahı oldu?

- A-12 B-18  
C-16 D-20

- I.  $56 \times 100 = 5600$   
II.  $1060 \times 10 = 1600$   
III.  $15 \times 1000 = 1500$   
IV.  $150 \times 10 = 1500$

11-Yandaki işlemlerden hangisi yanlıştır?

- A) I B) II  
C) III D) IV



12-Yukarıda modelle gösterilen kesirlerin çeşitleri sırasıyla aşağıdakilerden hangisidir?

- A) Bileşik kesir – Basit kesir - Tam sayılı kesir  
B) Basit kesir - Tam sayılı kesir - Bileşik kesir  
C) Tam sayılı kesir – Bileşik kesir – basit kesir  
D) Tamsayı kesir – Basit kesir – Bileşik kesir

$$120 + \triangle = 200$$

$$75 - \bigcirc = 50$$

$$60 \times \star = 120$$

$$40 \div \heartsuit = 4$$

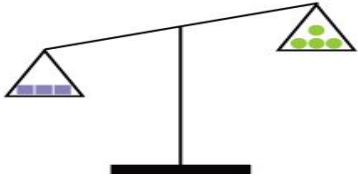
13)

Yukarıdaki işlemlerde verilmeyen  $\triangle + \bigcirc + \star + \heartsuit$  sayılarının toplamı kaçtır?

- A-117 B-210 C-103 D-212

14)  $48 \times 25$  işleminin kısa yoldan yapılışı aşağıdakilerden hangisidir?

A) $48 \div 4 = 12$ $12 \times 100 = 1200$	B) $48 \div 2 = 24$ $24 \times 10 = 240$
C) $48 \div 2 = 24$ $24 \times 100 = 2400$	D) $48 \div 4 = 12$ $12 \times 10 = 120$



$\blacksquare = 20g$   $\bullet = 10g$


15)Yandaki eşit kollu tera-  
zinin dengede olabilmesi  
için sağ kefeye kaç tane  
yeşil top bırakılmalıdır?

- A)1 B)2  
C)3 D)4

ADI SOYADI: .....

### SOSYAL BİLGİLER

1-Aşağıda verilenlerden hangisi deprem sırasında bulunmamız gereken yerlerden birisidir?



A- Merdiven

B- balkon



C- Asansör

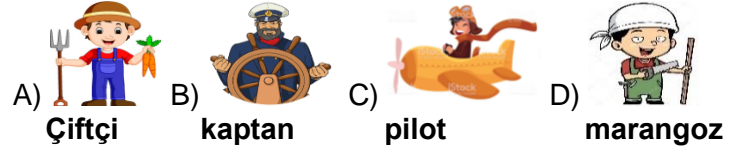


D- çelik makinelerin yanı

2-Aşağıdaki olaylardan hangisi hava olayları arasında yer alır?

- A) çığ B) deprem C) sel D) rüzgâr

3- Hava durumunun nasıl olacağını bilmek hepimiz için önemlidir. Aşağıdaki mesleklerden hangisi için hava durumunu bilmek pekte önemli değildir?



Milli Mücadele sırasında düşman işgallerine karşı halkımız tarafından oluşturulan milli kuvvetlere denir

Batı cephesinin Yunan işgalinden tamamen temizlenmesini sağlayan savaş.

Türkiye'nin sınırlarını belirleyen ve bağımsız bir devlet olduğumuzu kabul ettiren anlaşma.

4-Yukarıdaki ifadelerle aşağıdaki olaylardan hangisinden söz edilmemiştir?

- A) Lozan Barış Anlaşması B) Büyük Taarruz  
C) Mudanya Ateşkes Anlaşması D) Kuvayı Milliye


5- Aşağıdaki Millî Mücadele ile ilgili bilgilerden hangisi yanlıştır?

- A)Türk ordusu Batı Cephesinde Yunanlılarla savaşmıştır.  
B)Kazım Karabekir doğuda Ermenilerle mücadele etmiştir.  
C)Ankara İngilizler tarafından işgal edilmiştir.  
D)Fransızlar yurdumuzun güneyini işgal etmişti.

6-Aşağıdakilerden hangisi kimlik bilgilerimizde yer alan bilgiler arasından yer almaz?

- A) Doğum tarihi B) Anne adı  
C) Ev adresi D) T.C. Kimlik Numarası

7-Aşağıdakilerden hangisi kullanım alanı bakımından diğerlerinden farklıdır?



8- "Milli mücadele döneminde; Doğuda....., güneyde....., batıda ..... savaşmıştır." Noktalı yerlere sırasıyla aşağıdakilerden hangisi getirilmelidir?

Doğuda	Güneyde	Batıda
A) Ermeniler	Fransızlar	Yunanlılar
B) Fransızlar	İngilizler	Ermeniler
C) İngilizler	Ermeniler	Fransızlar
D) Ermeniler	Fransızlar	İngilizler



Bir toplumun geçmişten günümüze aktardığı ortak değerlere kültür diyoruz. Her milletin kendine özgü kültürleri vardır. Buna göre ..... milli kültür öğelerindendir.

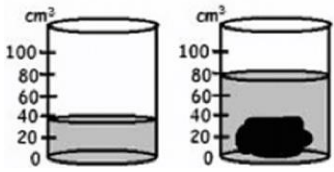
9-Yukarıdaki noktalı yere aşağıdakilerden hangisi getirilemez?

- A-geleneklerimiz B-Giyisilerimiz  
C-Doğal varlıklarımız D-Dilimiz

10-Aşağıdakilerden hangisi Milli Mücadelede savaşılmış cephelerden değildir?

- A-Batı Cephesi B-Doğu Cephesi  
C-Kuzey Cephesi D-Güney Cephesi

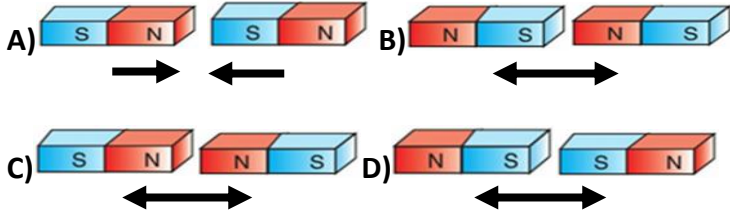
### FEN BİLİMLERİ



1-İçerisinde 40 ml su bulunan ölçekli kabın içine taş atıldığında hacmi 80 ml oluyor.Buna göre taşın hacmi kaç ml'dir?

- A)40 B)60  
C)30 D)50

2- Hangi seçenekte mıknatısların birbirine etkisi yanlış gösterilmiştir?



- Pusulada mıknatıs kullanılır.
- Banka kartları mıknatıstan olumsuz etkilenir.
- Aynı kutuplu iki mıknatıs birbirini çeker.
- Mıknatıs demire çekme kuvveti uygular.

3- Yukarıda verilen ifadelerden kaç tanesi doğrudur?

- A)1 B)2 C)3 D)4



4- Besin paketlerinin üzerinde bulunan yandaki logonun anlamı aşağıdakilerden hangisidir?

- A)Ürünün kalite kontrolünün yapıldığı ve tüketime hazır olduğu.  
B)Ürünün ihracat malı olduğunu.  
C)Ürünün Gümrükten kontrollü geçmiş olduğu.  
D)Tarım Bakanlığınca standartlara uygun olduğu.

5- Yağmurlu bir havada dışarı çıkan Ayşegül aşağıdakilerden hangisini kullanmamalıdır?

- A) yün bere B) çizme C) yağmurluk D) şemsiye

- I. Şemsiye  
II. Tabak  
III. Pamuklu kumaş  
IV. Madeni para  
V. Sünger

6- Yukarıda verilenlerden hangisi veya hangileri suyu çekmez?

- A)Yalnız I B) I ve III  
C) III , IV ve V D) I, II ve IV



7- Yukarıda bulunan çocuğun gölgesinin büyüklüğünün en uzun ve en kısa olduğu numaralar hangisidir?

	En uzun gölge	En kısa gölge
A.	I	III
B.	II	IV
C.	I	IV
D.	II	III

8-Aşağıdakilerden hangisi madenden yapılmamıştır?

- A) Altın Yüzük B) Araba lastiği C) Ahşap masa D) Çelik tencere

9-Aşağıdaki ifadelerden doğru olanların başına "D" , yanlış olanların başına "Y" yazarsak sıralama nasıl olur?

	Hareketsiz bir cisme uygulanan kuvvet ,cismi harekete geçirebilir.
	Esnek cisimler, kuvvetin etkisi ortadan kalktığında eski hallerine dönebilir.
	Gelen topu karşılayan tenisçi döndürme hareketi yapar.
	Dünya , Güneş'in etrafında dönme hareketi yapar.

- A) Y B) D C) D D) D  
D D D Y  
D Y Y D  
Y Y D D



Kahvaltıda ekmek, bal ,yumurta, domates ve salatalık yedim.

10- Nehir' in kahvaltı menüsünde hangi besin grubunun örneği yoktur ?

- A-Protein B-Karbonhidrat C-Yağ D-Vitamin

M. Mustafa TAŞ  
Başarılar...