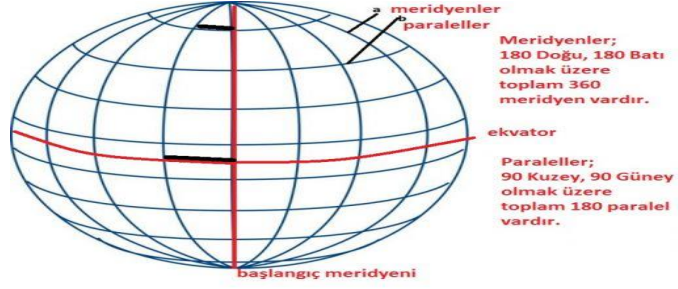


PARALEL: Dünya üzerinde  
Doğu - Batı yönünde çizilmiş  
yarım dairelerdir.



**1. Tanım ve görsel incelendiğinde paralellerle ilgili aşağıdakilerden hangisi söylenemez?**

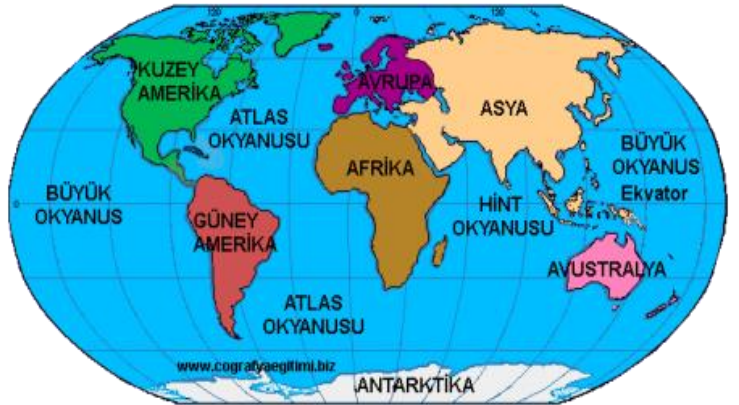
- A) Paralellerin boyları kutuplara doğru gidildikçe kısalır.
- B) Toplam 180 adet paralel vardır.
- C) Başlangıç paraleli Ekvatordur.
- D) Paraleller arası mesafe 111 km'dir.

Bir yerin Ekvator ve Başlangıç Meridyenine göre konumuna Matematik ( Mutlak ) Konum denir. Mutlak konum, paralel ve meridyenlerle ifade edilir.

**2. Aşağıdakilerden hangisi Türkiye'nin matematik konumu ile ilgilidir?**

- A) İstanbul ve Çanakkale Boğazlarına sahiptir.
- B) Üç kıtanın birbirine en yakın olduğu noktadadır.
- C) Ekvatorun kuzeyinde yer alır.
- D) Üç tarafı denizlerle çevrilidir.

KITA ADI	YÜZÖLÇÜMÜ
ASYA	44.337.317
AVRUPA	10.181.129
AFRİKA	30.221.652
KUZEY AMERİKA	24.242.363
GÜNEY AMERİKA	17.795.420
OKYANUSYA	8.982.439
ANTARKTİKA	13.189.925



**3. Verilen tablo ve haritaya göre;**

- 1. Afrika kıtasının hem Kuzey hem de Güney yarımkürede toprağı vardır.
- 2. Yüzölçümü en küçük kıta Okyanusya'dır.
- 3. Kuzey yarımkürede karalar daha fazla yer kaplar.

**Yargılarından hangileri doğrudur?**

- A) 1 ve 2    B) 1, 2 ve 3    C) 2 ve 3    D) Yalnız 3

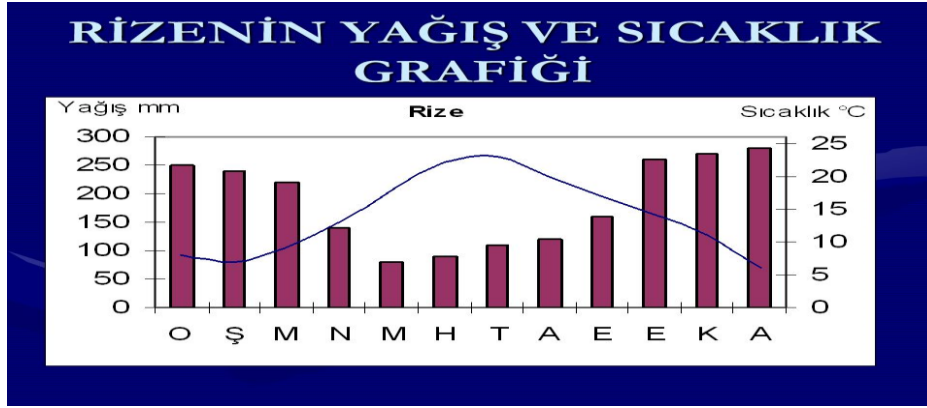
Bir bölgedeki yer şekillerini, akarsuları ve gölleri gösteren haritalara Fiziki Harita denir.

**4. Türkiye Fiziki Haritasına bakılarak;**

1. Türkiye'deki dağlar
2. Akdeniz Bölgesindeki ovalar
3. Karadeniz'e dökülen ırmaklar
4. Türkiye'nin bitki örtüsü

**Bilgilerinden hangilerine ulaşamaz?**

- A) Yalnız 4
- B) 1 ve 4
- C) 2 ve 4
- D) 3 ve 4



**5. Grafiğe bakılarak Rize'nin iklim özellikleri ile ilgili aşağıdakilerden hangisine ulaşamaz?**

- A) Her mevsim yağışlıdır.
- B) Kış mevsiminde Türkiye'nin en soğuk ili Rize'dir.
- C) En yüksek sıcaklık ortalaması Temmuz ayındadır.
- D) Sıcaklık ortalaması (0) derecenin altına düşmez.

**6. Mersinde yaşayan Ömer Asaf, yaşadığı ilin iklim özelliklerini araştırmış ve;**

1. Kışları ılık ve yağışlı, yazları sıcak ve kuraktır.
2. Bitki örtüsü makidir.
3. Seracılık faaliyetlerine uygundur.
4. Don ve buzlanma olayının görüldüğü gün sayısı çok azdır.

**Bilgilerine ulaşmıştır.**

**Buna göre, Mersinde hangi iklimin görüldüğü söylenebilir?**

- A) Akdeniz İklimi
- B) Karadeniz İklimi
- C) Geçiş İklimi
- D) Karasal İklim

## 6. SINIF SOSYAL BİLGİLER 3. ÜNİTE DEĞERLENDİRME TESTLERİ

Sınırları belli bir alanda yaşayan toplam insan sayısına nüfus denir. Nüfus her yerde eşit dağılmamıştır. Nüfusun dağılışına etki eden doğal ve beşeri faktörler vardır.

### 7. Nüfusun dağılışına etki eden;

1. İklim
2. Sanayi
3. Turizm
4. Bitki örtüsü
5. Su kaynakları

**Faktörlerinin doğru eşleştirmesi hangi seçenekte verilmiştir?**

	DOĞAL	BEŞERİ
A)	1 ve 2	3, 4 ve 5
B)	1, 4 ve 5	2 ve 3
C)	2, 3 ve 4	1 ve 5
D)	1, 2 ve 3	4 ve 5



### 8. Görsele bakılarak Sıfır Atık Projesi hakkında aşağıdakilerden hangisi söylenemez?

- A) Yeniden kullanılabilir atıkların geri dönüşüme kazandırılması amaçlanmaktadır.
- B) Doğayı atık maddelerden korumayı amaçlar.
- C) Gelecekte daha temiz bir Dünya hedeflenmektedir.
- D) Atıkların sadece çöp toplama alanlarına atılması amaçlanmaktadır.



**9. Görsele bakılarak Türkiye’de turizm ile ilgili aşağıdakilerden hangisine ulaşamaz?**

- A) Turizm çeşitliliği bakımından zengin bir ülkedir.
- B) Ülkemizi ziyarete gelenlerin önemli bir kısmı yabancı turistlerden oluşmaktadır.
- C) Türkiye, turizm çeşitliliği bakımından dünyanın en zengin ülkesidir.
- D) Turizm, ülke ekonomisi için önemli bir gelir kaynağıdır.

Doğu Anadolu Bölgesinde yer şekillerinin engebeli olması ve kış aylarının soğuk ve kar yağışlı geçmesi, kış turizmi ve hayvancılık faaliyetlerinin yaygınlaşmasını sağlarken, Akdeniz Bölgesinde kış aylarının ılıman, yaz aylarının ise güneşli olması, seracılık ve yaz turizminin gelişmesini sağlamıştır.

**10. Metne göre aşağıdakilerden hangisi söylenebilir?**

- A) Kış aylarının soğuk geçtiği yerlerde yaşam koşulları zorlaşır.
- B) İklim ve yer şekilleri sosyoekonomik yapı üzerinde etkilidir.
- C) Akdeniz bölgesinde hiç kar yağmamaktadır.
- D) Doğu Anadolu Bölgesinde hayvancılık tek geçim kaynağıdır.

**İklim:** Bir yerdeki hava olaylarının uzun yıllar boyunca kaydedilmesiyle elde edilen durumdur. İklim, o bölgede yaşayan insanların hayatını etkileyen unsurlar arasında yer almaktadır.

**11. Yaşadığımız bölgenin iklimi;**

1. Kılık kıyafetimiz
2. Yetiştirdiğimiz tarım ürünleri
3. Ev yapımında kullandığımız malzeme
4. Yemek kültürümüz

**Yukarıdakilerden hangileri üzerinde etkilidir?**

- A) 1 ve 2                      B) 2 ve 3                      C) 1, 2 ve 3                      D) 1, 2, 3 ve 4

“Burası her gün sıcak, bol yağışlı ve her yer yemyeşil ormanlarla kaplıdır. Tropikal yağmur ormanlarını oluşturan ağaçların boylarının 50 metreyi aştığını gördüm. Bölgede ormanların fazla olmasına bağlı olarak ahşap evlerin yaygın olduğunu gözlemledim. Sıcaklık ve nem o kadar fazla ki yılın büyük bölümünde ince kıyafetlerle zaman geçirebilirsiniz. Ayrıca bu bölgede bol miktarda Hindistan cevizi, mango, kakao vb. tarım ürünleri yetiştirilmektedir.”

**12. Ekvatorial iklim görülen bir bölgeye ait bilgilerin yer aldığı bu metne göre, Ekvatorial İklim ile ilgili aşağıdakilerden hangisi söylenemez?**

- A) Her mevsim yağış alan bir iklimdir.  
B) İklim özellikleri, o bölgedeki insanların konut tipini etkilemiştir.  
C) Bölgede iklim özelliklerine uygun tarım ürünleri yetişmektedir.  
D) Orman bitki örtüsü bakımından fakir bir iklimdir.

“Benim adım Ravi. Asya kıtasının güneyinde yer alan Hindistan’da yaşamaktayım. Burada yazları bol yağışlar görülürken kışları yağışlar oldukça azalır. Burada yetiştirilen pirinç sofralarımızın en çok tüketilen yiyeceğidir. Ülkemizde, taek adlı ağaçtan mobilya ve gemi yapım sektörlerinde yararlanılmaktadır. Ev yapımında ahşap malzemeler kullanmaktayız.”

**13. Metne göre;**

1. Muson ikliminde yaz yağışları daha çok görülür.
2. İklim, ekonomik faaliyetleri etkilemektedir.
3. İklim, yemek alışkanlıklarımız üzerinde etkilidir.

**Yargılarından hangileri doğrudur?**

- A) Yalnız 1                      B) 1, 2 ve 3                      C) 1 ve 3                      D) Yalnız 3

Ali ŞAŞMAZ

Sosyal Bilgiler Öğretmeni