

Edirne İl Milli Eğitim Müdürlüğü  
Ölçme Değerlendirme Merkezi



# 6.Sınıf Çalışma Fasikülü







# SÖZEL BÖLÜM

1. Zaman : Bahar mevsimi öğleden sonra  
Yer : Sahil  
Olay : Çevrenin temizlenmesi  
Anlatıcı : 1. Tekil kişi

**Yukarıda, unsurlarının özellikleri verilmiş hikayeye uygun olan anlatım aşağıdaki seçeneklerden hangisidir?**

A) Deniz ve annesi o sabah erkenden yürüyüş için parka gitmişlerdi. Yürüyüş sırasında parkın çevresindeki çöpler onları çok rahatsız etti. İnsanların çevreye karşı bu kadar duyarsız olması hem onları üzmüş hem de kızdırmıştı. Ertesi gün eldivenleri ve çöp poşetleriyle gelip parkı bu çirkinlikten kurtarmaya karar verdiler.

B) Annem ve ben otobüsten iner inmez soluğu sahilde almıştık. Deniz havasının bize iyi geleceğini düşünmüştük. Sahilde dolaşırken kıyıda kayaların oradan bir kedi miyavlaması duyduk. Minik bir kedi yavrusu kayalara sıkışmıştı. Akşam olmak üzereydi ve hava kararmadan onu kurtarmalıydık. Çok korkuyorduk. Hemen onu sıkıştığı yerden dikkatlice çıkarıp veterinerine götürdük.

C) Vakit öğleyi geçmişti. Geç kalmamak için hızlı yürüyordum. Çünkü annem beni sahilde bekliyordu. Beraber piknik yapacaktık. Kestirme olsun diye parkın içinden geçtim. Her taraf bahar çiçekleriyle doluydu. Annemi sahilde denizi izlerken buldum. Denizi çok severdi. Adımı da bu sevgiden almışım. Etrafta sahildeki çöpleri toplayan insanlar vardı. Biz de annemle piknik yapmaktan vazgeçip çöp toplayanlara katıldık.

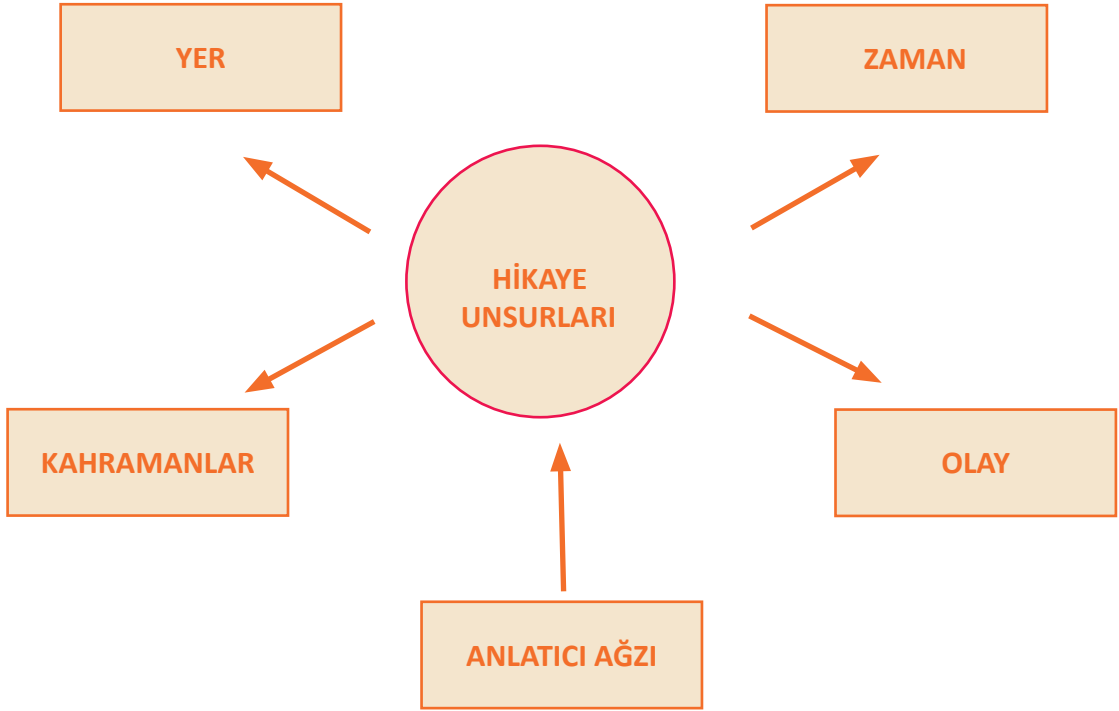
D) Günün yorgunluğunu atmak için eve gitmeden sahile gitmeyi düşündü. Denizi izlemek ona iyi gelecekti. Bir saat oturur güneş batmadan da eve dönerim diye düşündü. Sahile geldiğinde sahil kalabalık değildi. Birkaç satıcı ve sahilde çöp toplayan insanlar gördü. Bir banka oturup denizi izlemeye, iyot kokusunu içine çekmeye başladı. Biraz uzaktan yaklaşmakta olan vapurun sesi duyuluyordu.

## TÜRKÇE

2. “Tam otuz sene evvel on iki yaşındaydım. Anadolu’nun bir şehrinde bulunuyorduk. Babam memurdu. Şehre bir yaz sonunda gelmiştik. Sonra bir gün bahar geliverdi. Karlar eridi. Karlar eridi ama karları eriten güneş değildi, yağmurdu. Bu Anadolu şehrinin ilkbaharı kırkikindi yağmurlarıyla başlardı. Sabahleyin parlak mavi bir gökyüzünde, ısıtmayan, güneş vurmuş kar gibi soğuk bir kış güneşi görünürdü. Saat on biri bulmadan doğudan mı, batıdan mı, kuzeyden mi bilmem, bir kara bulut peyda olur, on dakika sonra bardaktan boşanırcasına bir yağmur bütün gün tıkr tıkr, şakır şakır durmadan yağardı.”

Sait Faik/ Bir İlkbahar Hikayesi

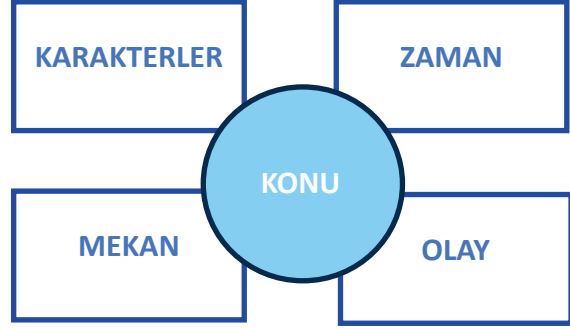
**Yukarıda verilen hikâyenin unsurlarını uygun yerlere yazalım.**



### 3. Aşağıdaki hikayelerin unsurlarını verilen boşluklara yazın.

Hintli bir adam suda bata çıka ilerlemeye çalışırken yanına bir akrep gelir. Onu kurtarmaya karar verir ve parmağını akrebe uzatır ama akrep onu sokar. Hintli tekrar akrebi sudan kurtarmaya çalışır ama akrep onu tekrar sokar. Yakınlarındaki başka biri ona, sürekli onu sokmaya çalışan akrebi kurtarmaya çalışmaktan vazgeçmesini söyler. Ama Hintli adam şöyle der:

Sokmak akrebin doğasında vardır. Benim doğamda ise sevmek var. Neden sokmak akrebin doğasında var diye kendi doğamda olan sevmekten vazgeçeyim?

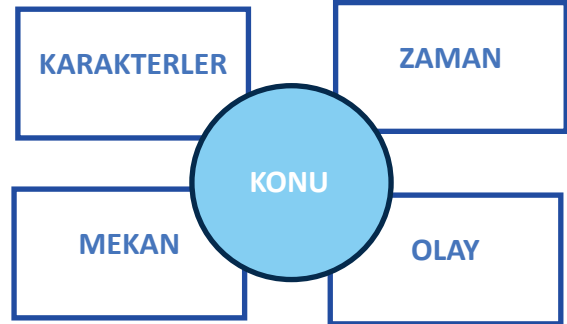


Bir akıl hastanesini ziyareti sırasında, adamın biri sorar:

"Bir insanın akıl hastanesine yatıp yatmayacağını nasıl belirliyorsunuz?"

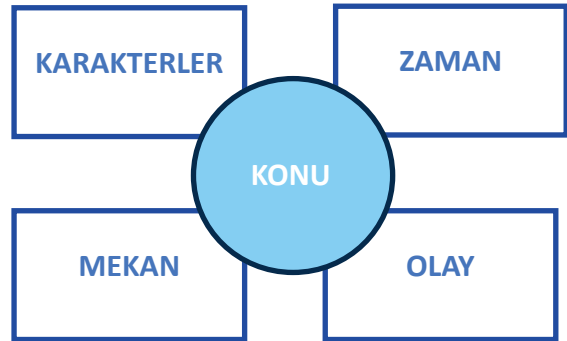
Doktor, "Bir küveti su ile dolduruyoruz. Sonra hastaya üç şey veriyoruz. Bir kaşık, bir fincan ve bir kova. Sonra da kişiye küveti nasıl boşaltmayı tercih ettiğini soruyoruz. Siz ne yapardınız?", der. Adam, "Ooo! Anladım. Normal bir insan kovayı tercih eder. Çünkü kova, kaşık ve fincandan büyük."

"Hayır," der doktor, "Normal bir insan küvetin tıpasını çeker."



Çin'in kırsal kesiminde yaşam savaşı veren bir aile vardı. Dede, baba, anne ve çocuktan oluşan bu aile oldukça sıkıntı çekiyordu. Bir gün baba, yılların verdiği yorgunlukla bir köşede oturmaktan başka işe yaramayan dedeyi, pazar küfesine koyarak nehre doğru yola çıktı. Nehrin kenarında arkadaşlarıyla oynayan çocuk, babasına ne yaptığını sordu. Baba: "Büyük babanın bize yük olmaktan başka yaptığı bir şey yok. Onu bu küfe ile beraber nehre atmaya karar verdim" dedi. Çocuk heyecanlanarak atıldı:

– Aman baba, küfeyi atma. Çünkü bir gün gelip sen de yaşlandığında o küfe bana lazım olacak



**4. Aşağıdaki cümlelerde altı çizili kelimelerden hangi ikisi yapı bakımından aynıdır?**

- I. En sevdiği kitabını her zaman yanında taşır.
- II. Sabah erkenden kalkar, sık sık yürüyüş yapar.
- III. Arada sırada çocukların sesi duyulur uzaklardan.
- IV. Simitçi gür sesiyle haykırır, sokak çocukla dolardı.

- A) I- II
- B) II- IV
- C) II- III
- D) III- IV

**5. Türkçede edatlar ve bağlaçlar cümleye sebep-sonuç, benzerlik, birliktelik, araç, amaç-sonuç, yaklaşıklık...vb farklı anlamlar katabilirler.**

**Aşağıdaki seçeneklerin hangisinde “ile” sözcüğü cümleye sebep-sonuç anlamı katmıştır?**

- A) Annem çamaşırları sabun ile güzelce yıkadı.
- B) Gelecek yıl tatile uçak ile gitmek iyi fikir.
- C) Yağmurun yağması ile sel felaketi yaşandı.
- D) Sevgi ile saygı olmadan dostluk yürümez.

## TÜRKÇE

6. “İşlerimi erkenden bitirdim ..... çok yoruludum.” cümlesine aşağıdaki bağlaçlardan hangisi getirilemez?

- A) Oysa
- B) Ama
- C) Fakat
- D) Ancak

7. “Edatlar, cümlede yer alan sözcükler arasında farklı anlam ilgileri kurar.”

Buna göre aşağıdaki cümlelerin hangisinde yer alan edatın kurduğu anlam ilgisi yanlış verilmiştir?

- A) Sinemaya gitmek için ailesinden izin aldı. (Amaç)
- B) Kuzeni ile satranç oynamayı çok seviyordu. (Birliktelik)
- C) Bu aralar işleri bozuldu gibi. (Benzerlik)
- D) Hava dünne göre daha soğuk. (Karşılaştırma)

8. Bir konu hakkında düşüncemizi ifade ederken kelimeler veya cümleler arasında geçiş ve bağlantı ifadeleri kullanırız. Bu ifadeler, yazılı veya sözlü dilde dile getirdiğimiz duygu ve düşünceler arasında olumlu veya olumsuz yönde bağlantılar kurar, düşünceyi aynı veya farklı yönde devam ettirmemizi sağlar.

Buna göre aşağıdaki cümlelerin hangisinde geçiş ve bağlantı ifadesi kullanılmıştır?

- A) Okula giderken sınavı düşündüm.
- B) Üstü başı kir pas içinde kalmıştı.
- C) Çok istedi ancak başarılı olamadı.
- D) Bütün gün evde kitap okudu.



# TÜRKÇE

9. Aşağıdaki Tablo-1 de yer alan cümlelerdeki edat, bağlaç ve ünlemleri Tablo-2 de uygun yerlere yerleştiriniz.

Tablo-1		
Edatların Cümleye Kattığı Anlam	Bağlaçların Cümleye Kattığı Anlam	Ünlemlerin Cümleye Kattığı Anlam
Amaç	Sebep	Pişmanlık
Karşılaştırma	Kinaye	Üzülme
Yaklaşık	Sebep	Bıkkınlık
Olasılık	Birlikte	Şaşıрма
Benzetme	Koşul	Beğenme

Tablo-2		
Cümleler	Edat	Cümleye Kattığı Anlam
Bugünlerde tüm dünyanın ihtiyacı çelik gibi sabır.		
İki hafta kadar beklememiz gerekiyor.		
Bu savaşı kazanabilmek için evde kalmalıyız.		
Bu kitap diğer kitaba göre daha akıcı bir dille yazılmış.		
Hava yarın güzel olacak gibi.		
Cümleler	Bağlaç	Cümleye Kattığı Anlamı
Çok çalıştı da sınavdan yüksek not alacak		
Öykü ile Melis ne zaman sinemaya gidecek?		
Sabah erken kalkmalıyım ki trafiğe takılmayayım.		
Seni aramadım çünkü telefonumu kaybetmiştim.		
Arabayı alabilirsin yalnız deposunu doldur.		
Cümleler	Bağlaç	Cümleye Kattığı Anlamı
Of! Bu hastalık da bitmek bilmiyor		
Tüh! Ben de sizinle gelseydim.		
Oo, harika bir proje üretmişsin!		
Yazık! Onca emeğim heba oldu.		
Aaa, bu hediyeler nerden çıktı böyle!		

## TÜRKÇE

10. Aşağıdaki cümlelerde boş bırakılan yerlere “ama, fakat, ancak, lakin, bununla birlikte, buna rağmen, başka bir deyişle ve özellikle” ifadelerinden uygun olanları yerleştirin.

- Çok yorulduk ..... buna değdi doğrusu.
- Bu süreçte temizlik kurallarına sıkı sıkı uymalıyız. .... el hijyeni bizim kurtarıcımız olacaktır.
- El hijyeni ..... kendi kendimize yapabileceğimiz bir aşı, bizi büyük ölçüde koruyacaktır.
- Sağlık Bakanlığı, 14 kuralı tüm medyaya duyurdu..... sorumsuz kişiler bu önemli uyarıları dinlemiyor.
- Başarının altın anahtarı sabırdır..... kaybetmekten de korkmamız gerekiyor.
- Sizi gerçekten anlıyorum..... bu sorunu çözebilmek için herhangi bir şey yapamıyorum.
- Gerçekleri kabullenmeniz gerekir..... bu şekilde sizinle yol alabiliriz.
- Hava bugün çok güzel..... daha güzel günler için evde kalıyoruz.

**TÜRKÇE TESTİ BİTTİ.  
SOSYAL BİLGİLER TESTİ İLE DEVAM EDİNİZ.**

## SOSYAL BİLGİLER

1. Aşağıdaki boşlukları kutu içinde verilen uygun kelimelerle doldurunuz.

Teokrazi- Oligarşi- Cumhuriyet-Monarşi

- Ülkenin padişah, imparator,kral,çar, şah veya sultan gibi unvanlara sahip olan kişiler tarafından yönetildiği yönetim biçimine ..... denir.
- Ülkeyi yönetme hakkının ayrıcalıklara sahip soylular,din adamları,toprak sahipleri vb. gruplara ait olduğu yönetim şekli ise .....dir.
- Devlet ve toplum kurallarının din kurallarına göre belirlendiği yönetim şekline ..... denir.
- Egemenliğin kaynağının millete ait olduğu yönetim şekline ..... denir.

2. I-Milli Egemenlik

II-Tek Kişi Yönetimi

III-Özgürlük

IV-Eşitlik

Yukarıda verilen öncüllerden hangisi veya hangileri demokrasinin temel ilkelerindendir?

A) Yalnız I

B) I ve II

C) I-III-IV

D) II ve IV

## SOSYAL BİLGİLER

### 3. Aşağıdaki bilgiler doğru ise yay ayraç içine “D”, yanlış ise “Y” yazınız.

- (....)Nitelikli insan işini başarılı ve en iyi şekilde yapar.
- (....)Çekimserdir, verdiği kararları sorgular.
- (....)Yeniliklere her zaman açıktır.
- (....)Pasiftirler, enerjilerini kısıtlı kullanırlar.
- (....)Üretkendirler, iyi bir gözlemcidirler.

### 4. Aşağıdaki bilgiler doğru ise yay ayraç içine “D”, yanlış ise “Y” yazınız.

- (....)Farklı görüşlerin farklı siyasal partilerle temsil edilmesine çoğunluk denir.
- (....)Ülkenin tek bir kişinin yönetimine bırakılmasına milli egemenlik denir.
- (....)Yasalar önünde herkesin aynı haklara sahip olmasına eşitlik denir.
- (....)Yöneten ve yönetilenlerin kurallar dahilinde hareket etmesine katılımcılık denir .
- (....)Demokratik yönetimlerde temel haklar anayasa ile güvence altına alınır.

5. Geçmişte Mezopotamya medeniyetlerinden Sümerlerde görülmüş bir yönetim şeklidir. Günümüzde de bu yönetimin uygulandığı ülkeler vardır. Devlet ve toplum kurallarının din kurallarına göre belirlendiği yönetim biçimidir. Yöneticiler din adamlarıdır ve Tanrı adına ülkeyi yönettiklerini savunurlar.

### Yukarıda özellikleri verilen yönetim biçimi aşağıdakilerden hangisidir?

- A) Cumhuriyet
- B) Oligarşi
- C) Monarşi
- D) Teokrasi

**SOSYAL BİLGİLER TESTİ BİTTİ.**  
**DİN KÜLTÜRÜ ve AHLAK BİLGİSİ TESTİ İLE DEVAM EDİNİZ.**

# DİN KÜLTÜRÜ ve AHLAK BİLGİSİ

**1. Mekkeli müşriklerle yapılan savaşların kronolojik doğru sıralaması aşağıdakilerden hangisidir?**

- A) Bedir-Uhud-Hendek
- B) Uhud-Hendek-Bedir
- C) Bedir-Hendek-Uhud
- D) Hendek-Uhud-Bedir

**2. Hendek savaşında şehri etrafına çukurlar kazılması fikrini ortaya atan sahabi kimdir?**

- A) Hz. Ömer
- B) Hz. Osman
- C) Hz. Selman-ı Farisi
- D) Hz. Enes bin Malik

**3. ) Hangisi Medine’de bulunan Yahudi kabilelerinden biri değildir?**

- A) Beni Ümeyye
- B) Beni Kureyza
- C) Beni Kaynuka
- D) Beni Nadir

## DİN KÜLTÜRÜ ve AHLAK BİLGİSİ

**4. Medine Sözleşmesi Müslümanlarla kimler arasında imzalanmıştır?**

- A)Necran Hıristiyanları
- B)Mekkeliler
- C)Yahudi Kabileleri
- D)Yemenliler

**5. Peygamber Efendimiz'in İslama davet mektubu gönderdikleri arasında hangisi yer almaz?**

- A)Mısır Mukavkısı
- B)İran Kısrası
- C)Habeşistan Necaşisi
- D)Yemen Meliki

**DİN KÜLTÜRÜ ve AHLAK BİLGİSİ TESTİ BİTTİ.  
İNGİLİZCE TESTİ İLE DEVAM EDİNİZ.**



**A- Read the letter and then tick the activities Tom did last weekend**

Dear Sam,

I went to Birmingham to visit my uncle last weekend. It was very enjoyable. I have a cousin and we enjoyed so much. On Saturday, the weather was nice and we went out and played basketball.. In the park we climbed up the walls. It was really tiring. The other day, the weather was rainy outside so we stayed at home and played chess. He is really good at chess so he won the game. We wanted to go out and take some photos but we didn't do it because it was rainy and cold.

How was your weekend? Did you enjoy it?

Love

☐☐☐☐☐



# İNGİLİZCE

## B- Choose the Correct Answer

**Read the text below and answer the question.**

Last Sunday, I got up late. I had a big breakfast and then went out at 12 o'clock. I met my friends at a cafe. We did our Math project together and then my father took us to the park at 3 o'clock in the afternoon. There were a lot of people at the park because it was sunny and warm outside. We came back home at 5 o'clock.

### 1. Which question does NOT have an answer in the text?

- A) Did he get up early?
- B) What did he eat at breakfast?
- C) Where did he meet his friends?
- D) What time did they go to the park?

**Read the conversation below and answer the question.**

Amy : Where were you yesterday night?

Alex : I was at the shopping mall.

Amy : What did you do there?

Alex : .....

### 2. Which option completes the dialogue?

- A) I had a great time
- B) I played my guitar
- C) I did shopping
- D) I drove a car

**Read the sentence and answer the question.**

When I don't know the meaning of a word, I look it up in a .....

**3. Which option completes the sentence?**

- A) Dictionary
- B) Magazine
- C) Nobel
- D) Newspaper

**Read the information below and do the exercise.**

Hi! My name is Lisa. Last weekend we were on holiday with my family. I read many books and sometimes played games with my brother, John. My father played his guitar and my mother listened to music. It was a short holiday but we had great time.

**4. Which of the following statements is WRONG according to the text above?**

- A) Lisa read many books.
- B) John played games with his sister.
- C) Lisa's father was at work.
- D) Lisa's family had a great time last weekend.

# İNGİLİZCE

**Read the conversation below and answer the question.**

Peter: Hurry up Jane. We're late.

Jane: Oh, sorry Peter but I can't find my key. Did you see it?

Peter: Yes, \_\_\_\_\_.

**5. Which of the following DOES NOT complete the conversation?**

- A) I saw it on your bed
- B) It's nice to see you
- C) It's under the chair
- D) It is in your back-pack

**Read the conversation below and answer the question.**

Jenny: .....?

Kylie: I usually read book two hours a day.

Jenny: ....?

Kylie: I'm reading the "Lord of the Rings".

Jenny: ....?

Kylie: It's a fantastic novel.

**6. Which of the following does NOT Jenny ask Kylie?**

- A) Who is your favourite writer?
- B) How often do you read books?
- C) What kind of book is it?
- D) What are you reading these days?

## 7. Read the conversation below and answer the question.

Sam: What kind of books do you read?

Peter: .....

Sam: How many books do you read in a week?

Peter: .....

Sam: How do you get books?

Peter: .....

## Which of the following does NOT complete the conversation?

A) I borrow books from library

B) Every night

C) Mostly short stories

D) Two

# İNGİLİZCE

Esra asked her friends about what kind of books they like. The table below shows the results

<b>Detective stories</b>	%5
<b>Short stories</b>	%55
<b>Poems</b>	%10
<b>Love stories</b>	%30

**8. According to the given information, Esra's friends .....**

- A) like short stories the most
- B) prefer poems to love stories
- C) don't like detective stories
- D) like love stories the most


9.



**Which of the following is NOT correct according to the picture above?**

- A) The teddy bear is next to the bed.
- B) The lamp is on the drawer.
- C) The green box is under the bed.
- D) The television is on the table.

10.



Which of the following is NOT correct according to the picture above?

- A) There is a teddy bear on the bed.
- B) There are some toys on the carpet.
- C) The picture is on the wall.
- D) The green chair is behind the bed.

**SÖZEL BÖLÜM BİTTİ.  
SAYISAL BÖLÜM İLE DEVAM EDİNİZ.**








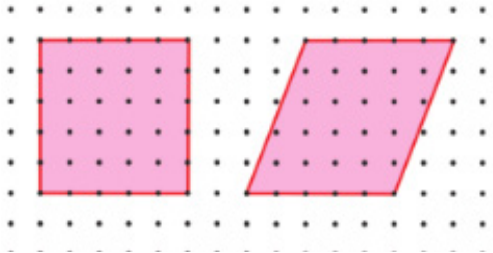
# **SAYISAL BÖLÜM**

1. Kareli zeminde verilen sarı boyalı olan kaç birim karedir?



- A) 18
- B) 16
- C) 12
- D) 10

2.

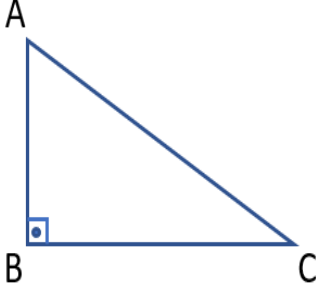


Şekilde verilen karesel bölgenin üst köşeleri sabit tutularak paralelkenar elde diliyor.

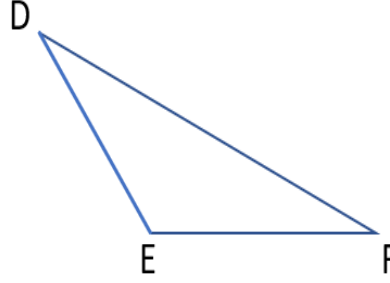
**Bu işlem sonucunda ilk duruma göre karenin hangi özelliği değişmemiştir?**

- A) Alan
- B) Çevre Uzunluğu
- C) Açılar
- D) Kenar Uzunlukları

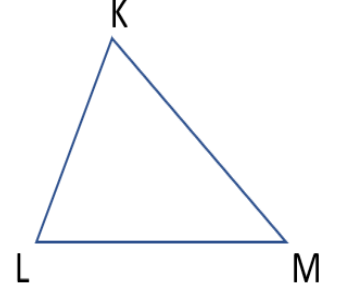
3. I.



II.



III.



Yukarıda çizilmiş üçgenlerle ilgili aşağıdaki bilgiler verilmiştir.

- I. ABC üçgeninde [AB], BC kenarına ait yüksekliktir.
- II. DEF üçgeninde DE kenarına ait yükseklik üçgenin dışından çizilir.
- III. Dar açılı KLM üçgeninde yükseklikler üçgenin içinden çizilir.

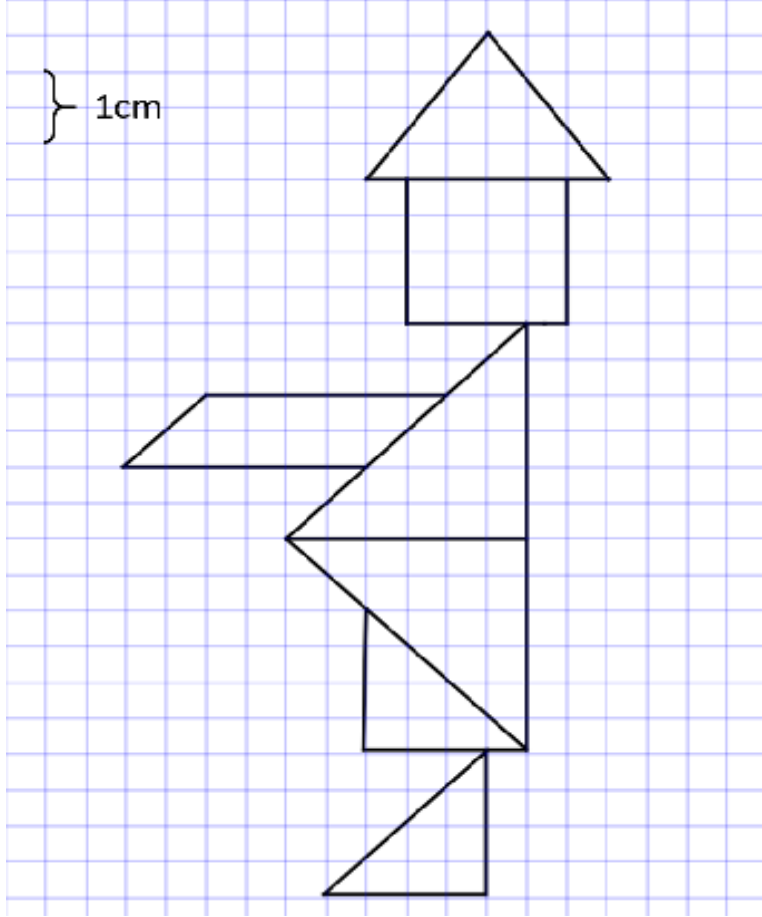
**Buna göre verilen bilgilerden kaç tanesi doğrudur?**

- A) 0
- B) 1
- C) 2
- D) 3

**4. Bir üçgenin alanı  $21 \text{ cm}^2$  ve tüm kenarları doğal sayı olduğuna göre bu üçgenin yüksekliği aşağıdaki-lerden hangisi olamaz?**

- A) 6
- B) 7
- C) 9
- D) 21

5.

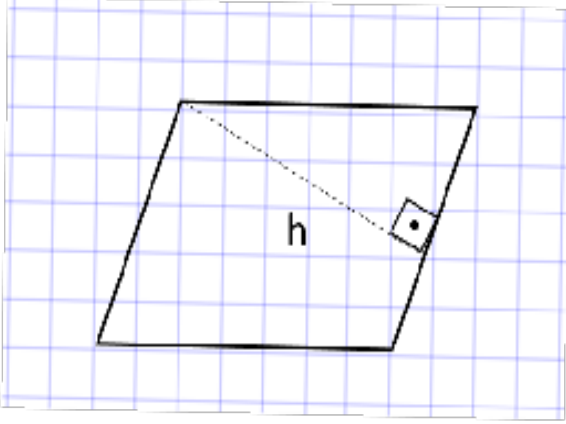


Şekildeki tangram parçalarıyla oluşturulan şeklin alanını hesaplayınız.

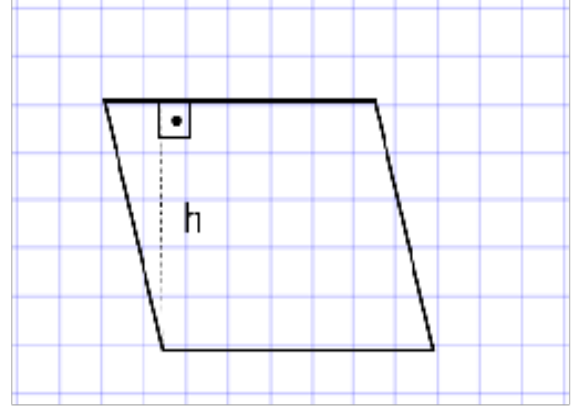
# MATEMATİK

6. Aşağıda kareli kağıtta verilen paralel kenarların hangisinde yükseklik yanlış çizilmiştir?

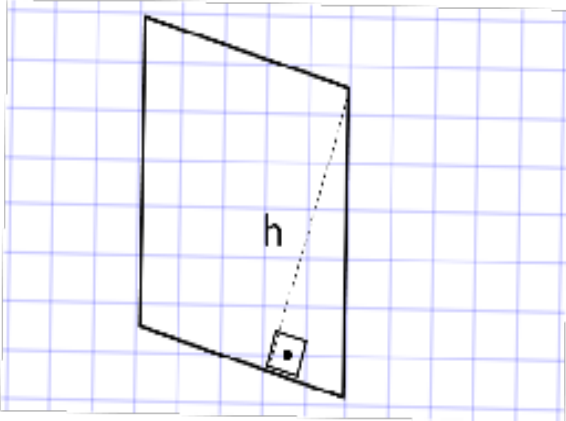
A)



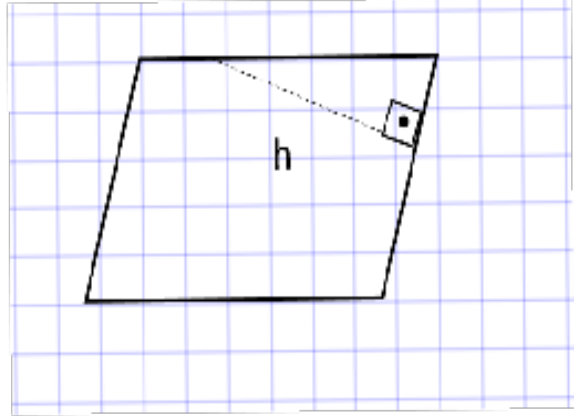
B)



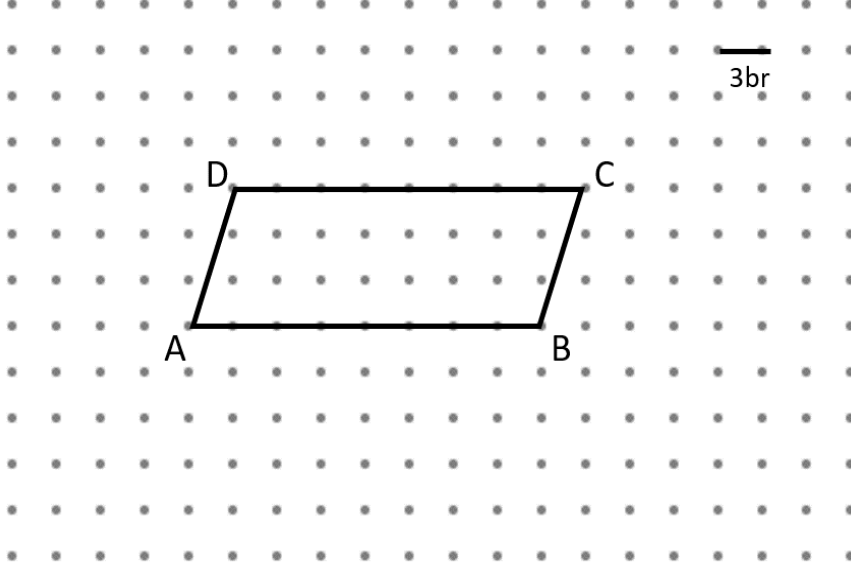
C)



D)



7.

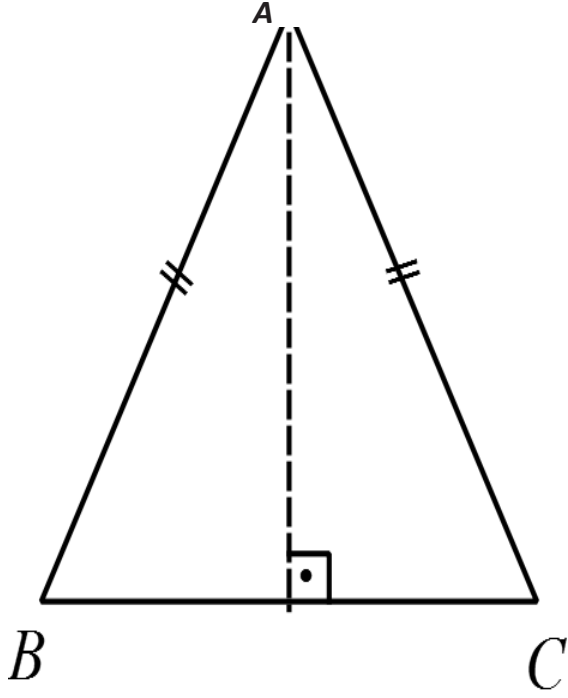


Yukarıda verilen noktalı kâğıtta iki nokta arası 3 birimdir. Buna göre ABCD paralel kenarının alanı kaç birim karedir?

- A) 36
- B) 72
- C) 108
- D) 216

## MATEMATİK

8.

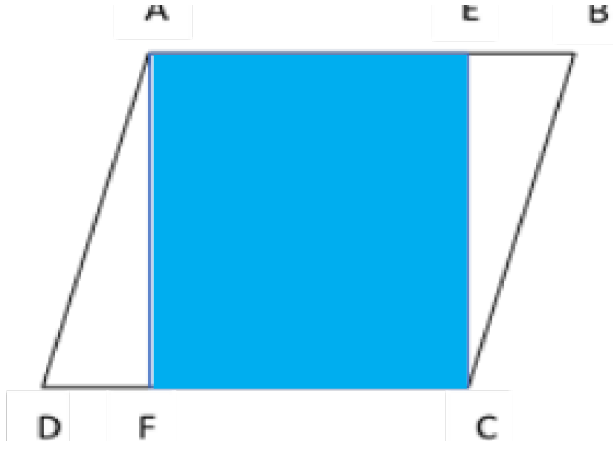


BC kenarına ait yüksekliği 12 cm olan ABC ikizkenar üçgeninden dört tane kullanılarak bir paralelkenar oluşturuluyor.

**Oluşan paralelkenarın alanı  $120 \text{ cm}^2$ 'dir. Paralelkenarı çizin ve BC kenarının uzunluğunu hesaplayınız.**

## MATEMATİK

9.

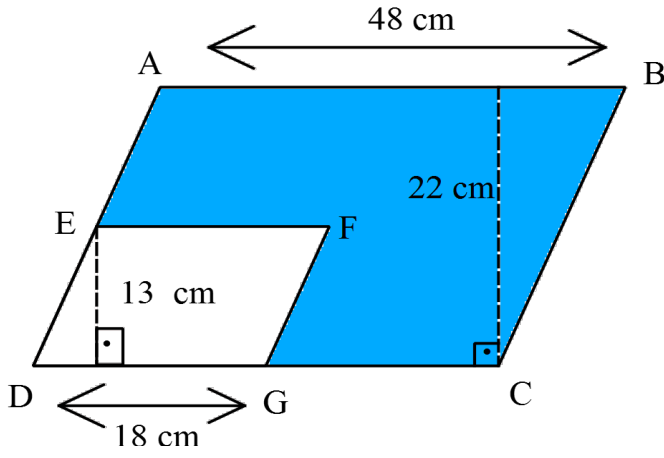


Yukarıdaki şekilde ABCD paralelkenar, AECF bir karedir.  $IDFI=12\text{cm}$  ve AECF karesinin çevresi 64 cm olduğuna göre , **ABCD paralelkenarının alanı kaç santimetrekaredir?**



## MATEMATİK

10.



ABCD ve EFGD birer paralelkenar olduğuna göre taralı alanın değeri aşağıdakilerden hangisidir?

- A)  $102 \text{ cm}^2$
- B)  $171 \text{ cm}^2$
- C)  $270 \text{ cm}^2$
- D)  $342 \text{ cm}^2$

MATEMATİK TESTİ BİTTİ.  
FEN BİLİMLERİ TESTİ İLE DEVAM EDİNİZ.

## FEN BİLİMLERİ

1. Aşağıda salgı bezleri ve salgıladıkları hormonlar verilmiştir. Hormon ve Salgı bezlerini salgılamış oldukları hormonlar ile eşleştiriniz.

SALGI BEZİ	HORMON
• Hipofiz	• Troksin
• Troit	• Adrenalin
• Böbrek Üstü Bezleri	• İnsülin
• Pankreas	• Büyüme

2. Ahmet ve arkadaşları su parkında; fok balıkları kendilerine top fırlatıldığında topa vurmadığını, ancak balık gösterilip top atıldığında kafası ile topa vurarak topu atan kişiye doğru fırlamasını sağladığını görmüştür. Ahmet fen bilimleri dersinde öğrendiği konuyu hatırlar. Arkadaşlarına bunun sebebinin ne olabileceği ile ilgili yorumlar yapmasını ister.

**Arkadaşlarından hangisi yanlış yorum yapmıştır?**

- A) Melike' fokun balık görünce topa vurması,sonradan kazanılmış reflekstir.
- B) Dilara'limon görünce ağzımızın sulanması ,aynı tür reflekse örnektir.
- C) Ediz'merkezi sinir sistemi organlarından omurilik refleks merkezimizdir.
- D) Ece'bebeğin emme refleksi de sonradan kazanılmış reflekstir

## FEN BİLİMLERİ

**3.** Gökhan okula giderken köpekle karşılaşmış ve çok korkmuştur. Gökhan yaşadığı bu durumla ilgili;

1-Böbrek üstü bezinden hormon salgılanmıştır.

2-Kalp atışı ve soluk alışı yavaşlamıştır.

3-Korku ve heyecan anında troksin hormonu salgılanmıştır.

**İfadelerinden hangileri yanlıştır?**

A) 1-3

B) 1

C) 2-3

D) 1-3

**4. Hipofiz bezi ile ilgili aşağıdakilerden hangisi doğrudur?**

A) Kan şekerini düzenler.

B) Büyüme hormonu salgılar.

C) Adrenelin hormonu salgılar.

D) Troksin hormonu salgılar.

## FEN BİLİMLERİ

5.



Lunaparka giden Ege ve arkadaşları kamikazeye biner. Kamikaze aşağı yukarı hareket ettikçe çocuklar heyecanlanmakta ve avaz avaz bağırmaktadırlar.

**Çocuklarda hangi hormon ,hangi eşeyssel bez tarafından salgılanmıştır?**

- A)Tiroit= Büyüme hormonu
- B)Hipofiz= İnsulin hormonu
- C)Pankreas= Adrenalin
- D)Böbrek üstü bezi= Adrenalin hormonu

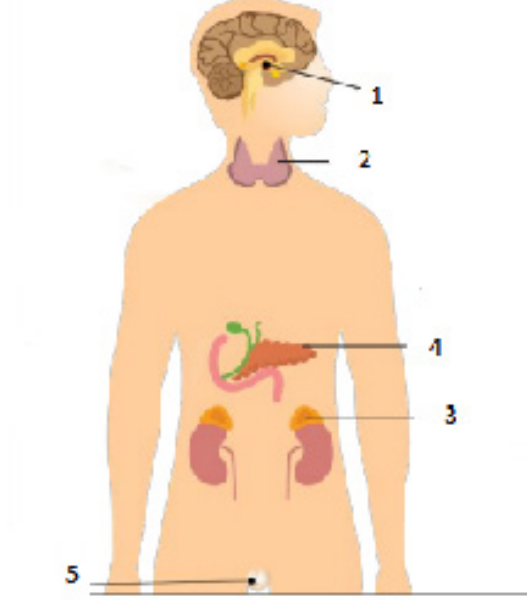
6. Nilay ergenlik dönemine girmiştir. Vücudunda bedensel bir takım değişimler meydana gelmiştir. Nilay arkadaşına vücudundaki bedensel değişimleri anlatmıştır.

**Aşağıda verilen ifadelerden hangisini kullanmış olamaz?**

- A) Boy ve kilom hızla artmaya başladı.
- B) Sesim kalınlaştı.
- C)Göğüslerim belirginleşmeye başladı.
- D)Adet döngülerim başladı.

## FEN BİLİMLERİ

7.

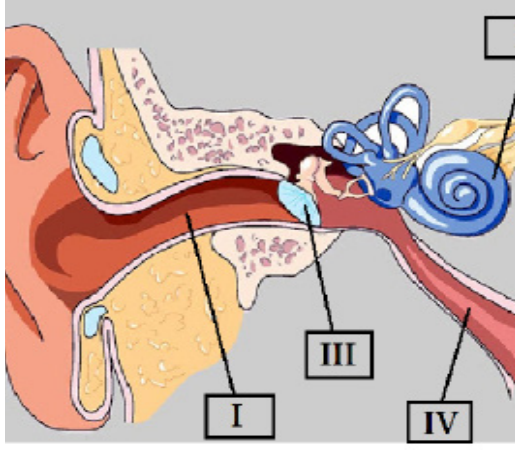


Bilgisayar oyununda yukarıdaki şekilde iç salgı bezleri numaralarla belirtilmiştir. Beren , iç salgı bezleri konusunda okulda öğretmeninin anlattıklarından hatırladığı kadarıyla oyunu tamamlamaya çalışmış , ancak doğruyu bulamadığı için oyunda bir sonraki adıma geçememiştir.

**Sizce Beren hangi eşleştirmeyi yaparsa oyunun diğer adımına geçebilir?**

	1	2	3	4	5
A)	Hipofiz Bezi	Böbrek Üstü Bezi	Tiroit Bezi	Pankreas	Eşeyssel Bezler
B)	Tiroit Bezi	Hipofiz Bezi	Pankreas	Eşeyssel Bezler	Böbrek Üstü Bezi
C)	Böbrek Üstü bezi	Pankreas	Hipofiz Bezi	Tiroit Bezi	Eşeyssel Bezler
D)	Hipofiz Bezi	Tiroit Bezi	Böbrek Üstü Bezi	Pankreas	Eşeyssel Bezler

8.



.....?.....; burnun arka kısmında bulunan ve geniz adı verilen bölge ile orta kulak arasında geçiş sağlayan bir kanaldır. Bu kanal orta kulağın hava almasını sağladığı gibi bu bölgedeki salgıların genize akması için de bir yol oluşturur.

**“?” ile gösterilen noktalı yere yukarıda kulak modelindeki hangi numaralı yapının ismi gelmelidir?**

- A) I
- B) II
- C) III
- D) IV

## FEN BİLİMLERİ

9.

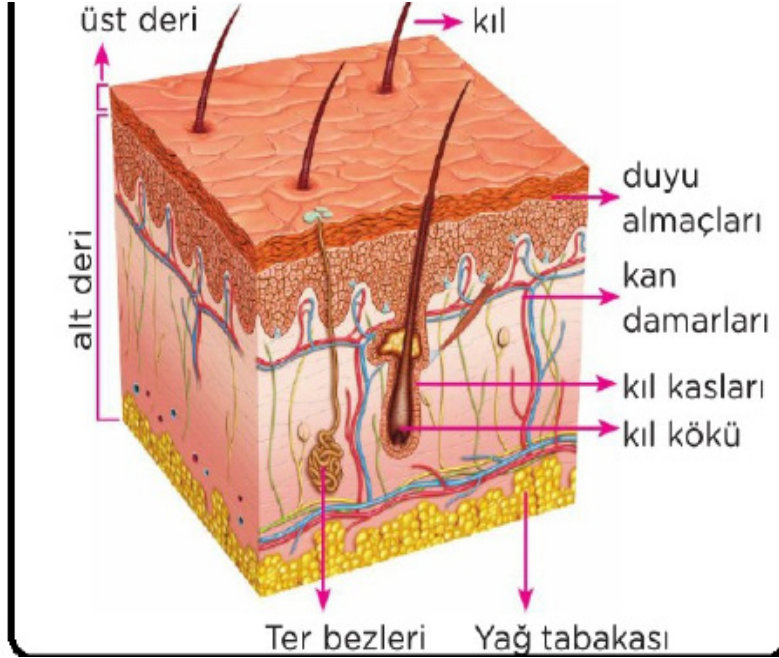
İÇ SALGI BEZİ	SALGILADIĞI HORMON
Hipofiz bezi	Büyüme hormonu
Tiroit bezi	Tiroksin
Pankreas	Adrenalin
Böbreküstü bezleri	İnsülin
	Glukagon
Testisler	Eşeyssel hormon
Yumurtalıklar	Eşeyssel hormon

Yukarıda iç salgı bezleri ve salgıladıkları hormonları gösteren bir tablo verilmiştir.

**Tabloda bir hata yapıldığına göre aşağıdakilerden hangisi uygulanırsa tablodaki hata düzeltilmiş olur?**

- A) Hipofiz Bezi ile Pankreas yer değiştirilirse
- B) Pankreas ile Tiroit Bezi yer değiştirilirse
- C) Böbreküstü Bezler ile Pankreas yer değiştirilirse
- D) Büyüme hormonu ile Tiroksin yer değiştirilirse

10.



Yukarıda **DERİ** ile ilgili görsel verilmiştir.

Sadece bu görsele bakarak aşağıdaki sorulardan hangisi veya hangilerini cevaplayabiliriz?

I. Deri kaç bölümden oluşur?

II. Derinin görevi nedir?

III. Deri hastalıklarından nasıl korunuruz?

A) Yalnız I

B) I – II

C) II – III

D) I – II – III

SAYISAL BÖLÜM BİTTİ.





## TÜRKÇE

1. C

2. YER: Bir Anadolu kasabası

ZAMAN: Otuz yıl önce, yazar 12 yaşındayken

KAHRAMANLAR: Yazar

OLAY: Yeni taşındıkları kasabaya baharın yağmurla gelmesi

ANLATICI AĞZI: Birinci kişi ağzı

3.

HİKAYE	KARAKTERLER	ZAMAN	MEKAN	OLAY	KONU
1	Hintli Adam Akrep Hinli Adamın Yanındakiler	Zaman Tam Olarak Belli Değil	Su Kenarı	Hintli Adaamın Akrebe Yardım Etmesi	Sevgi
2	Doktor Adamın Biri	Ziyaret Esnası	Akıl Hastanesi	Ziyartçinin Doktor İle Konuşması	Bakış Açısı
3	Dede Anne Baba Çocuk	Herhangi Bir Gün	Çin'in Kırsal Kesimi	Zor Durumda Kalan Adamın Babasını Küfeye Koyup Terk Etmesi	Büyüklerle Saygı

4. D

5. C

6. A

7. C

8. C

9.

Tablo-2		
Cümleler	Edat	Cümleye Kattığı Anlam
Bugünlerde tüm dünyanın ihtiyacı çelik gibi sabır.	<b>gibi</b>	<b>Benzetme</b>
İki hafta kadar beklememiz gerekiyor.	<b>kadar</b>	<b>Yaklaşık</b>
Bu savaşı kazanabilmek için evde kalmalıyız.	<b>için</b>	<b>Amaç</b>
Bu kitap diğer kitaba göre daha akıcı bir dille yazılmış.	<b>göre</b>	<b>Karşılaştırma</b>
Hava yarın güzel olacak gibi.	<b>gibi</b>	<b>Olasılık</b>
Cümleler	Bağlaç	Cümleye Kattığı Anlamı
Çok çalıştı da sınavdan yüksek not alacak	<b>da</b>	<b>kinaye</b>
Öykü ile Melis ne zaman sinemaya gidecek?	<b>ile</b>	<b>birlikte</b>
Sabah erken kalkmalıyım ki trafiğe takılmayayım.	<b>ki</b>	<b>sebepl</b>
Seni aramadım çünkü telefonumu kaybetmişim.	<b>çünkü</b>	<b>sebepl</b>
Arabayı alabilirsin yalnız deposunu doldur.	<b>yalnız</b>	<b>koşul</b>
Cümleler	Bağlaç	Cümleye Kattığı Anlamı
Of! Bu hastalık da bitmek bilmiyor	<b>of</b>	<b>bıkkınlık</b>
Tüh! Ben de sizinle gelseydım.	<b>tüh</b>	<b>pişmanlık</b>
Oo, harika bir proje üretmişin!	<b>oo</b>	<b>beğenme</b>
Yazık! Onca emeğim heba oldu.	<b>yazık</b>	<b>üzölme</b>
Aaa, bu hediyeler nerden çıktı böyle!	<b>aaa</b>	<b>şaşıрма</b>

10.

- Çok yorulduk **ama** buna değdi doğrusu.
- Bu süreçte temizlik kurallarına sıkı sıkı uymalıyız. **Özellikle** el hijyeni bizim kurtarıcımız olacaktır.
- El hijyeni **başka bir deyişle** kendi kendimize yapabileceğimiz bir aş, bizi büyük ölçüde koruyacaktır.
- Sağlık Bakanlığı, 14 kuralı tüm medyaya duyurdu. **Buna rağmen** sorumsuz kişiler bu önemli uyarıları dinlemiyor.
- Başarının altın anahtarı sabırdır. **Bununla birlikte** kaybetmekten de korkmamız gerekiyor.
- Sizi gerçekten anlıyorum **lakin** bu sorunu çözebilmek için herhangi bir şey yapamıyorum.
- Gerçekleri kabullenmeniz gerekir **ancak** bu şekilde sizinle yol alabiliriz.
- Hava bugün çok güzel **fakat** daha güzel günler için evde kalıyoruz.

## SOSYAL BİLGİLER

### 1.

- Ülkenin padişah, imparator,kral,çar, şah veya sultan gibi unvanlara sahip olan kişiler tarafından yönetildiği yönetim biçimine **...MONARŞİ** denir.
- Ülkeyi yönetme hakkının ayrıcalıklara sahip soylular,din adamları,toprak sahipleri vb. gruplara ait olduğu yönetim şekli ise **....OLİGARŞİ.....**dir.
- Devlet ve toplum kurallarının din kurallarına göre belirlendiği yönetim şekline **...TEOKRASİ.....**denir.
- Egemenliğin kaynağının millete ait olduğu yönetim şekline **....CUMHURİYET....** denir.

### 2. C

### 3.

(D)Nitelikli insan işini başarılı ve en iyi şekilde yapar.

(Y)Çekimserdir, verdiği kararları sorgular.

(D)Yeniliklere her zaman açıktır.

(Y)Pasiftirler, enerjilerini kısıtlı kullanırlar.

(D)Üretkendirler, iyi bir gözlemcidirler.

### 4.

(Y)Farklı görüşlerin farklı siyasal partilerle temsil edilmesine çoğunluk denir.

(Y)Ülkenin tek bir kişinin yönetimine bırakılmasına milli egemenlik denir.


(D)Yasalar önünde herkesin aynı haklara sahip olmasına eşitlik denir.

(Y)Yöneten ve yönetilenlerin kurallar dahilinde hareket etmesine katılımcılık denir .

(D)Demokratik yönetimlerde temel haklar anayasa ile güvence altına alınır.

### 5.D

## İNGİLİZCE PART-A



## PART-B

1. B
2. C
3. A
4. C
5. B
6. A
7. B
8. A
9. C
10. D

## DİN KÜLTÜRÜ ve AHLAK BİLGİSİ

- 1.A
- 2.C
- 3.A
- 4.C
- 5.D

## MATEMATİK

1. B
2. A
- 3.D
4. C
5.  $25 \text{ cm}^2$
- 6.D
- 7.D
8.  $|BC|=5 \text{ cm}$
9.  $448 \text{ cm}^2$
10. D

## FEN BİLİMLERİ

1.
  - Hipofiz-Büyüme
  - Troit-Troksin
  - Böbrek Üstü Bezleri-Adrenalin
  - Pankreas-İnsülin

- 2.D
3. C
4. B
- 5.D
- 6.B
- 7.D
- 8.D
- 9.C
- 10.A