

ADI:

SOYADI:

SINIFI:

## SORU SOSYAL BİLGİLER TESTİ SORULARI

1

"Asya Hun Devleti en güçlü zamanını Mete Han Dönemi'nde yaşamıştır." diyen 6. sınıf öğrencisi Zeynep, aşağıda verilenlerden hangisini buna gerekçe olarak gösteremez?

- A) Orta Asya'da ilk kez Türk siyasi birliğinin sağlanması  
B) İpek Yolu'nun ele geçirilerek bölgedeki ticaretin kontrol altına alınması  
C) Temel geçim kaynaklarının hayvancılığa dayandırılması  
D) Başka devletler tarafından örnek alınan bir yönetim ve ordu teşkilatı kurulması

2

I.	Roma İmparatorluğu Doğu Roma ve Batı Roma olmak üzere ikiye ayrıldı.	Siyasi
II.	Avrupa'nın etnik yapısı değişerek yeni milletler ortaya çıktı.	Ekonomik
III.	Avrupa'da, Avrupa Hun Devleti kuruldu.	Siyasi
IV.	Kilise güç kazandı.	Dinî

Tabloda Kavimler Göçü'nün sonuçları ile bu sonuçların hangi alanla ilgili olduğu eşleştirilmiştir.

Buna göre yukarıda yapılan bu eşleştirmelerden hangisi yanlıştır?

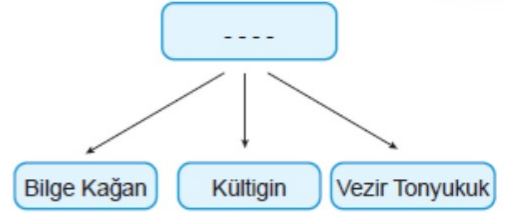
- A) I. B) II. C) III. D) IV.

3

Aşağıdaki öğrencilerden hangisi Orta Asya'da yaşayan ilk Türk topluluklarının yaşadığı yerin coğrafi özelliklerini yanlış söylemiştir?

- A)  Ali: Orta Asya'da karasal bir iklim vardır.  
B)  Işık: Doğal bitki örtüsü bozaktır.  
C)  Hamza: Tarım yapmaya elverişli geniş araziler vardır.  
D)  Zeynep: Deniz seviyesinden yüksekliği ortalama 1000 metrenin üzerindedir.

4



Diyagramda boş bırakılan yere aşağıdakilerden hangisi yazılmalıdır?

- A) Orhun Yazıtları'nın Dikildiği İsimler  
B) Hunlarda Hükümdarlık Yapan İsimler  
C) Uygurlarda Hükümdarlık Yapan İsimler  
D) Çin Esaretini Kabul Eden Hükümdarlar

5

Aşağıda Uygurlarla ilgili yorum yapan öğrencilerden hangisinin yaptığı yorum yanlıştır?

- A)  Uygurların kalıcı mimari eserler yapmaları yerleşik hayata geçtiğini gösterir.  
B)  Uygurların kâğıt ve matbaayı kullanmaları teknolojik olarak geliştiklerini gösterir.  
C)  Uygurların hukuk kurallarını yazılı hâle getirmeleri, toplumsal düzenin geliştiğini gösterir.  
D)  Uygurların Mani dinini kabul etmeleri savaşçı özelliklerini geliştirdiklerini gösterir.

6

- I. Ergenekon Destanı  
II. Türeyiş Destanı  
III. Oğuz Kağan Destanı

Verilen destanların ait olduğu Türk devletleri aşağıdakilerden hangileridir?

	I	II	III
A)	Kök Türkler	Uygurlar	Hunlar
B)	Uygurlar	Kök Türkler	Hunlar
C)	Hunlar	Kök Türkler	Uygurlar
D)	Uygurlar	Hunlar	Kök Türkler

Orta Asya'nın coğrafi özelliklerinin ve ikliminin Türklerde;

- I. atı evcilleştirme,  
II. yerleşik hayata geçmeleri,  
III. hayvancılıkla uğraşmaları

7

durumlarından hangilerini geciktirdiği söylenebilir?



- A) Yalnız I. B) Yalnız II.  
C) I ve II. D) II ve III.

ADI:

SOYADI:

SINIFI:

8	<p>Çin elçisi Wang Yen Te, Uygur ülkesini ziyareti esnasında Türklerin ovadan geçen nehrin yatağını değiştirdiğini, açılan kanallar ile bahçe ve tarlalarını suladıklarını görmüştür. Bu sularda büyük değirmenler de işletiliyordu. Ovada her türlü hububat yetiştiriliyordu.</p> <p><b>Bu parçadaki bilgilere göre aşağıdaki yorumlardan hangisi yapılamaz?</b></p> <p>A) Türklerin sulama kanalları yaptığı B) Türklerin tarımla uğraştıkları C) Türklerin en temel geçim kaynağının tarım olduğu D) Uygurların yerleşik hayata geçtikleri</p>
9	<p>Türklerin ilk ana yurdu Orta Asya'dır. Orta Asya karasal bir iklimin görüldüğü ve yüksek dağlarla çevrili geniş düzlüklerin olduğu bir coğrafi özelliğe sahiptir.</p> <p><b>Bu durum Türklerin ekonomik olarak daha çok aşağıdaki hangi faaliyete yönelmesine neden olmuştur?</b></p> <p>A) Tarım B) Hayvancılık C) Ticaret D) Balıkçılık</p>
10	<p>Uygurlar, Türk tarihinde önemli bir yere sahiptir. Uygurlar hem başka devletleri etkilemiş hem de başka devletlerden etkilenmiştir.</p> <p><b>İlk Türk devletlerinin, Uygurlara kadar kalıcı mimari eserler bırakmalarının nedeni aşağıdakilerden hangisidir?</b></p> <p>A) Uygurlara kadar konar göçer yaşamı B) Uygurlardan önceki Türk devletlerinin sağlam yapılar inşa etmemeleri C) Çin baskısı D) Türk boyları arasındaki mücadeleler</p>
11	<p>Orta Asya'nın coğrafi özellikleri, Türkleri konargöçer yaşamaya zorlamıştır. Bu yaşam şekli Türklerin hayatını şekillendirmiştir.</p> <p><b>Orta Asya'da yaşayan Türkler hakkında verilen bu bilgilere göre, aşağıdaki yorumlardan hangisi yapılabilir?</b></p> <p>A) Asya Hun Devleti yerleşik hayata geçmiştir. B) Türklerde kale yapımı gelişmiştir. C) Türkler pirinç tarımı yapmıştır. D) Türkler yaşadıkları bölgenin ikliminden etkilenmiştir.</p>

12	 <p>Orta Asya'da yaşayan Türklerin konargöçer yaşam tarzını benimsemeleri, onların sanat anlayışlarını da etkilemiştir.</p> <p><b>Öğretmenin verdiği bilgiye aşağıdakilerden hangisi kanıt olarak gösterilemez?</b></p> <p>A) Taşınabilir sanat eserleri B) Türklerle özgü çadırlar C) Türklerle özgü halı ve kilimler D) Uygurlara ait tapınak ve saraylar</p>
13	<ul style="list-style-type: none"> <li>Kendilerine özgü çadırlarda yaşamışlardır.</li> <li>Hayvancılıkla uğraşmışlardır.</li> <li>Taşınabilir sanat eserleri yapmışlardır.</li> <li>Hareketli, dinamik ve mücadeleci bir toplum olmuşlardır.</li> </ul> <p><b>Verilen bilgilere göre Orta Asya'da yaşayan Türklerle ilgili aşağıdakilerden hangisine ulaşılabılır?</b></p> <p>A) Göçebe yaşam tarzını benimsemişlerdir. B) İkili devlet anlayışını benimsemişlerdir. C) Çinlilerle ticaret yapmışlardır. D) Sanat ve edebiyatta geri kalmışlardır.</p>
14	<p>Kenarları birbirine bağlanmış kafes biçimli çubuklardan oluşur. Çubuklar açıldığında geniş bir mekân oluşur. Üzerinde kubbe biçimi verilmiş çubukların bağlandığı tahta bir kasnak üzerine keçe atılır.</p> <p><b>Tanımı verilen ilk Türk devletlerine ait sanat eseri aşağıdakilerden hangisidir?</b></p> <p>A) Kurgan B) Çadır C) Balbal D) Tümülüs</p>
15	 <p>Türklerin yarı göçebe yaşam tarzını tercih etmeleri onların hangi sporları yapmalarını sağlamıştır?</p> <p><b>Cemre'nin sorusuna aşağıdaki öğrencilerden hangisi yanlış cevap vermiştir?</b></p> <p>A) Güreş B) Cirit C) Atletizm D) Okçuluk</p>



ADI:

SOYADI:

SINIFI:

16	<div style="display: flex; justify-content: space-around;"> <div style="text-align: center;"> <div style="border: 1px solid black; padding: 2px;">Ötügen</div> <div>I</div> </div> <div style="text-align: center;"> <div style="border: 1px solid black; padding: 2px;">Turfan</div> <div>II</div> </div> </div> <div style="display: flex; justify-content: space-around; margin-top: 10px;"> <div style="text-align: center;"> <div style="border: 1px solid black; padding: 2px;">Beş - Balıg</div> <div>III</div> </div> <div style="text-align: center;"> <div style="border: 1px solid black; padding: 2px;">Nişabur</div> <div>IV</div> </div> </div> <p>Yukarıdaki şehirlerden hangisi ilk Türk devletlerine ait önemli yerleşim alanlarından biri <u>değildir</u>?</p> <p>A) I.      B) II.      C) III.      D) IV.</p>
17	<p>Orta Asya'da konargöçer yaşamak zorunda olan Türkler sürekli hazır, mücadelecı bir durumda olmak zorundaydı. Tehlikelere ve saldırılara karşı sürekli tetikte olmaları gerekmektedir. Bu nedenle eli silah tutan herkes askardı.</p> <p>Bu parçada verilen bilgilere göre, konargöçer yaşamın aşağıdaki hangi sonucuna ulaşılabilir?</p> <p>A) Siyasi      B) Ekonomik C) Askeri      D) Kültürel</p>
18	<p>Türklerin otağ adını verdikleri yazın sıcağtan, kışın soğuktan koruyan ve kısa sürede kurulup sökülebilen çadırlarda yaşamaları, onların aşağıdaki hangi alanda geliştiklerini gösterir?</p> <p>A) Turizm B) Dokumacılık C) Bakırcılık D) Minyatür</p>
19	<p>Türklerin yaşam şartlarıyla ilgili aşağıda verilenlerden hangisi <u>yanlıştır</u>?</p> <p>A) Kışın kışlak olarak seçtikleri daha sıcak bölgelerde yaşamışlardır. B) Yazın daha serin ve geniş otlakların olduğu yerlerde yaşamışlardır. C) Yaylak ve kışlaklarında kullanmak için taş yapı olan evler inşa etmişlerdir. D) Göçebe yaşam tarzı Türklerin atla bütünleşmesini sağlamıştır.</p>

20	<p>I. Asya Hun Devleti II. Kök Türkler III. Osmanlı Devleti</p> <p>Yukarıdaki devletlerden hangileri Orta Asya'da kurulmuştur?</p> <p>A) Yalnız I.      B) Yalnız II. C) I ve II.      D) I, II ve III.</p>
----	---

Başarılar. 😊  
İyi tatiller

ADI:

SOYADI:

SINIFI:

SORU	DİN KÜLTÜRÜ VE AHLAK BİLGİSİ TESTİ SORULARI																					
1	<p>"Ey Resul! Rabbinden sana indirileni tebliğ et. Eğer bunu yapmazsan onun elçiliğini yapmamış olursun. Allah seni insanlardan koruyacaktır. Doğrusu Allah, kafirler topluluğuna rehberlik etmez." (Maide suresi, 67. ayet)</p> <p><b>Bu ayette vurgulanan ana fikir aşağıdakilerden hangisidir?</b></p> <p>A) Peygamberlerin çok çalıştıkları B) Allah'ın her şeye gücünün yetmesi C) Peygamberlerin Allah'tan aldığı mesajı insanlara bildirmesi D) Peygamberlik görevinin çok zor olması</p>	5																				
2	<p>I. Peygamberlerin doğru sözlü olmaları II. Peygamberlerin akıllı ve zeki olması III. Allah'tan aldıkları vahyi insanlara ulaştırmaları</p> <p><b>Yukarıda verilen peygamberlerin niteliklerinin doğru sıralanışı aşağıdakilerden hangisidir?</b></p> <table><thead><tr><th></th><th>I</th><th>II</th><th>III</th></tr></thead><tbody><tr><td>A)</td><td>Sıdk</td><td>Tebliğ</td><td>Fetamet</td></tr><tr><td>B)</td><td>İsmet</td><td>Emanet</td><td>Fetamet</td></tr><tr><td>C)</td><td>Sıdk</td><td>Fetamet</td><td>Tebliğ</td></tr><tr><td>D)</td><td>Emanet</td><td>Fetamet</td><td>Tebliğ</td></tr></tbody></table>		I	II	III	A)	Sıdk	Tebliğ	Fetamet	B)	İsmet	Emanet	Fetamet	C)	Sıdk	Fetamet	Tebliğ	D)	Emanet	Fetamet	Tebliğ	6
	I	II	III																			
A)	Sıdk	Tebliğ	Fetamet																			
B)	İsmet	Emanet	Fetamet																			
C)	Sıdk	Fetamet	Tebliğ																			
D)	Emanet	Fetamet	Tebliğ																			
3	<p>Allah, gönderdiği elçilerin peygamberliklerini ispat etmek amacıyla onları mucizelerle desteklemiştir.</p> <p><b>Aşağıdakilerden hangisi peygamberlere verilen mucizelerden biri değildir?</b></p> <p>A) Hz. Süleyman'ın altından sarayının olması B) Hz. İbrahim'i ateşin yakmaması C) Hz. İsa'nın ölüleri diriltmesi D) Hz. Musa'nın Kızıldeniz'i ikiye ayırması</p>	7																				
4	<p><b>Mucizenin Allah tarafından peygamberlere verilmesinin nedeni aşağıdakilerden hangisidir?</b></p> <p>A) İnsanlara güzel örnek olabilmeleri B) Peygamber olduklarını ispatlamaları C) İnsanların tehditlerini engellemeleri D) Peygamberlerin sabırlı olmaları</p>	8																				
		<p><b>Mucize ile ilgili aşağıda verilen bilgilerden hangisi doğrudur?</b></p> <p>A) Olağandışı biri olay değildir. B) Her peygamberin mucizesi Kur'an'da anlatılmaktadır. C) İnsanların iman etmelerini kolaylaştırır. D) Ahlakı güzel olan her insan mucize gerçekleştirebilir.</p> <p><b>Yukarıdaki öğrencilerden hangisinin verdiği bilgi yanlıştır?</b></p> <p>A) Sevgi B) Selin C) Sena D) Sema</p> <p><b>"De ki: Gelin Rabb'inizin size neleri haram kıldığını okuyayım: Ona hiçbir şeyi ortak koşmayın, ana-babaya iyilik edin, fakirlik korkusuyla çocuklarınızı öldürmeyin sizin de onların da rızasını biz veririz kötülüklerin açığına da gizlisine de yaklaşmayın ve Allah'ın yasakladığı cana haksız yere kıymayın! İşte bunlar Allah'ın size emrettikleridir. Umulur ki düşünüp anlarsınız." (En'am suresi, 151. ayet)</b></p> <p><b>Bu ayette peygamberlere gelen vahyin ortak özelliklerinden hangisine değinilmiştir?</b></p> <p>A) Allah'a şirk koşturmak B) Haksız yere cana kıymamak C) Büyüklere iyilikle davranmak D) Misafirlere ikramda bulunmak</p> <p>Her peygamber yaşadığı toplumda birçok yanlış uygulamaya karşı çıkmıştır.</p> <p><b>Aşağıdakilerden hangisi bunlardan biri değildir?</b></p> <p>A) Şirk B) Cehalet C) Eğitim D) Hurafe</p>																				



ADI:

SOYADI:

SINIFI:

9	<p>"Senden önce gönderdiğimiz bütün peygamberlere, 'Şüphesiz, benden başka hiçbir ilah yoktur. Öyleyse yalnızca bana kulluk edin.' diye vahyetmişizdir." (Enbiya suresi, 25. ayet)</p> <p><b>Bu ayette vurgulanan aşağıdakilerden hangisidir?</b></p> <p>A) Her peygamber aldığı mesajı insanlara ulaştırmıştır.</p> <p>B) Hz. Muhammed son peygamberdir.</p> <p>C) Bütün peygamberler insanları tevhide davet etmiştir.</p> <p>D) Hz. Muhammed'den önce birçok peygamber görevlendirilmiştir.</p>	12	<p>Peygamberlere gelen mesajın ortak amacı insanları Allah'a, peygamberlere ve ahiret gününe iman etmeye çağırmaktır. Ayrıca diğer inanç esasları, insanları iyiye, güzele ve doğruya yöneltmek, insanların dünya ve ahiret mutluluğu, Allah'a nasıl ibadet edileceği gibi konular da peygamberlerin mesajlarındaki diğer ortak yönleri oluşturur.</p> <p><b>Bu metinde aşağıdakilerden hangisine değinilmemiştir?</b></p> <p>A) Peygamberlerin insanları Allah'a inanmaya davet etmesine</p> <p>B) Peygamberlerin görevleri yaparken karşılaştıkları zorluklara</p> <p>C) Peygamberlerin insanların dünya ve ahiret mutluluğuna çağırımlarına</p> <p>D) Peygamberlere gelen mesajların insanları Allah'a ibadet etmeye davet etmelerine</p>
10	<p><b>Aşağıda verilen ayetlerden hangisi konu bakımından diğerlerinden farklıdır?</b></p> <p>A) "Yoksa Ya'kub'a ölüm geldiği zaman siz orada mı idiniz? O zaman (Ya'kub) oğullarına: Benden sonra kime kulluk edeceksiniz? demişti. Onlar: Senin ve ataların İbrahim, İsmail ve İshak'ın ilahı olan tek Allah'a kulluk edeceğiz; biz ancak ona teslim olmuşuzdur, dediler." (Bakara suresi, 133. ayet)</p> <p>B) "Müminler ancak, Allah anıldığı zaman yürekleri titreyen, kendilerine Allah'ın ayetleri okunduğunda imanlarını artıran ve yalnız Rablerine dayanıp güvenen kimselerdir." (Enfal suresi, 2. ayet)</p> <p>C) "Atalarım İbrahim, İshak ve Ya'kub'un dine uydum. Allah'a herhangi bir şeyi ortak koşmamız bize yaraşmaz. Bu, Allah'ın bize ve insanlara olan lütfundandır. Fakat insanların çoğu şükretmezler." (Yusuf suresi, 38. ayet)</p> <p>D) Ant olsun ki Nuh'u elçi olarak kavmine gönderdik. Dedi ki: Ey kavmim! Allah'a kulluk edin, sizin ondan başka tanrınız yoktur. Doğrusu ben, üstünüze gelecek büyük bir günün azabından korkuyorum." (A'raf suresi, 59. ayet)</p>	13	<p>Peygamberler insanların kendilerine iman etmelerinin yanı sıra diğer tüm peygamberlere de inanmalarını istemişlerdir.</p> <p><b>Aşağıda verilen ayetlerden hangisi bu durumu en iyi açıklamaktadır?</b></p> <p>A) "Peygamber, Rabb'i tarafından kendisine indirilene iman etti, müminler de (iman ettiler). Her biri Allah'a, meleklerine, kitaplarına, peygamberlerine iman ettiler..." (Bakara suresi, 285. ayet)</p> <p>B) "Senden önce gönderdiğimiz bütün peygamberlere, 'Şüphesiz, benden başka hiçbir ilah yoktur. Öyleyse yalnızca bana kulluk edin.' diye vahyetmişizdir." (Enbiya suresi, 25. ayet)</p> <p>C) "Ant olsun ki biz, 'Allah'a kulluk edin ve tağuttan (şeytandan) sakının!' diye (emretmeleri için) her ümmete bir peygamber gönderdik..." (Nahl suresi, 36. ayet)</p> <p>D) "(Ey Muhammed!), Kuvvetli ve basiretli kullarımız İbrahim, İshak ve Yakup'u da an. Biz onları özellikle ahiret yurdunu düşünen ihlaslı kimseler kıldık." (Sâd suresi, 45- 46. ayetler)</p>
11	<p>Allah'ın bir olmasına, eşi ve benzerinin bulunmamasına "tevhit" adı verilir.</p> <p><b>Tevhit cümlesi aşağıdakilerden hangisidir?</b></p> <p>A) La ilahe illallah</p> <p>B) Allahümme salli ala Muhammed</p> <p>C) Allahu Ekber</p> <p>D) La Havle vela kuvvete illa billah</p>	14	<p><b>Aşağıdakilerden hangisi Allah'ın peygamberlere mesajını iletmesindeki amaçlarından biri değildir?</b></p> <p>A) İnanç ve ibadet hakkında bilgilendirmek</p> <p>B) Ahiretin varlığını hatırlatmak</p> <p>C) Ahlaki prensipler vermek</p> <p>D) Bilimsel ilerlemenin önünü açmak</p>

ADI:

SOYADI:

SINIFI:

15	<p>"Ey iman edenler! Oruç sizden önce gelip geçmiş ümmetlere farz kılındığı gibi size de farz kılındı. Umulur ki korunursunuz." (Bakara suresi, 183. ayet)</p> <p><b>Bu ayetten aşağıdakilerden hangisi çıkarılamaz?</b></p> <p>A) Oruç, iman eden herkese Allah'ın bir emridir.</p> <p>B) Hz. Muhammed'den önce de oruç ibadeti vardı.</p> <p>C) Oruç insanı kötülüklerden korur.</p> <p>D) Her ümmetin oruç şekli aynıdır.</p>	19	<p>Allah; insanların, dünyada ve ahirette huzurlu ve mutlu yaşamalarını sağlamak amacıyla peygamberler aracılığıyla vahiy göndermiştir. Peygamberler de bu vahyi insanlara bildirmişlerdir. Yüce Allah, insanlar yanlış inançlara yönelmesinler diye vahiy göndermiştir. İnsanlar peygamberlere gelen vahiy sayesinde doğru yolu bulmuşlar ve Allah'ı doğru tanımışlardır. Allah'ın elçileri, ondan başkasına kulluk edilmemesini istemişlerdir.</p> <p><b>Bu metnin başlığı aşağıdakilerden hangisi olmalıdır?</b></p> <p>A) Kur'an'da Adı Geçen Peygamberler</p> <p>B) Allah'ın Vahiy Göndermesinin Nedenleri</p> <p>C) İnsanların Yanlış İnançları</p> <p>D) Doğru Yolda Olmanın Önemi</p>
16	<p><b>Aşağıdakilerden hangisi bütün peygamberlere gelen vahiylerin ortak yönleri arasında sayılamaz?</b></p> <p>A) İnsanları Allah'ın birliğine davet etmeleri</p> <p>B) Ahiretin varlığına inanmaya insanları çağırma- maları</p> <p>C) Beş vakit namazın neler olduğunu anlat- maları</p> <p>D) Bütün peygamberlere inanmaya çağırma- ları</p>	20	<p><b>Aşağıdakilerden hangisi Allah'ın vahiy göndermesinin sebepleri arasında gösterilemez?</b></p> <p>A) İnsanların yanlış inançlara yönelmemesi için</p> <p>B) İnsanların refah ve zenginlik içinde yaşa- maları için</p> <p>C) İnsanların bahane uydurmalarını önlemek için</p> <p>D) Ahlaklı yaşamının ilkelerini öğretmek için</p>
17	<p>Peygamberlere gelen mesajlar aynı amaca yöneliktir.</p> <p><b>Aşağıdakilerden hangisi bu mesajların ortak amaçlarından biri olamaz?</b></p> <p>A) Allah'tan başkasına kulluk edilmemesi</p> <p>B) İnsanların bu dünyada yaptıklarının karşılığını alacakları</p> <p>C) İnsanları Allah'ın birliğine davet etmeleri</p> <p>D) Farz, vacip ve sünnet ibadetleri insanlara öğretmeleri</p>		
18	<p>"İşte bu (Kur'an), kendisiyle uyarılsınlar, Allah'ın ancak bir tek Tanrı olduğunu bilsinler ve akıl sahipleri iyice düşünüp öğüt alsınlar diye insanlara (gönderilmiş) bir bildiridir." (İbrahim suresi, 52. ayet)</p> <p><b>Bu ayete göre vahyin gönderiliş amaçları arasında aşağıdakilerden hangisi yer almaz?</b></p> <p>A) İnsanların ibadetleri aksatmaması</p> <p>B) Allah'ın bir olduğunun bildirilmesi</p> <p>C) İnsanların öğüt alması</p> <p>D) İnsanların uyarılması</p>		

Başarılar.



İyi tatiller ☺

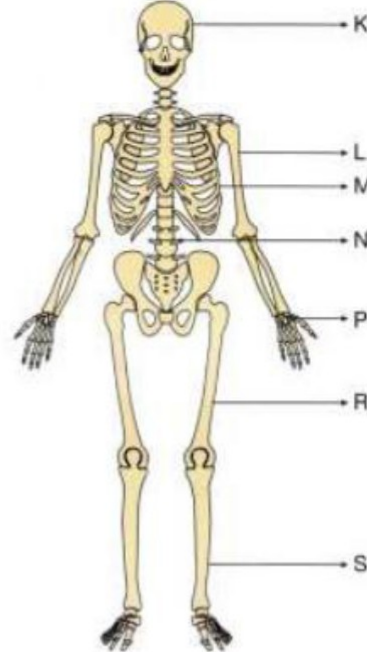



ADI:

SOYADI:

SINIFI:

SORU	FEN BİLİMLERİ TESTİ SORULARI
1	<p>İskelet sistemimiz,</p> <p>I. Kemik II. Eklem III. Kıkırdak</p> <p>yapılarından hangilerinin birleşimi ile oluşmaktadır?</p> <p>A) I ve II                      B) I ve III C) II ve III                    D) I, II ve III</p>
2	<p>Aşağıda verilenlerden hangisi iskelet sisteminin görevleri arasında yer almaz?</p> <p>A) Bazı iç organlarımızı dış etkilere korur. B) Kalsiyum ve magnezyum gibi bazı mineralleri depolar. C) Vücudumuzun dik durmasını sağlar. D) Vücut sıcaklığını ayarlar.</p>
3	<p>İskeletimizi oluşturan kemik ile ilgili hazırlanan kartların üzerinde bazı ifadeler yer almaktadır.</p> <div style="display: flex; justify-content: space-around;"> <div style="border: 1px solid black; padding: 5px; width: 45%;"> <p>Sert bir yapıya sahiptir.</p> <p>I</p> </div> <div style="border: 1px solid black; padding: 5px; width: 45%;"> <p>Yapısında kan damarları, kemik hücreleri ve sinirler bulunmaktadır.</p> <p>II</p> </div> </div> <div style="display: flex; justify-content: space-around;"> <div style="border: 1px solid black; padding: 5px; width: 45%;"> <p>Kemiklerimiz cansız bir yapıya sahiptir.</p> <p>III</p> </div> <div style="border: 1px solid black; padding: 5px; width: 45%;"> <p>Uzun, kısa ve yassı olmak üzere üç çeşit kemik vardır.</p> <p>IV</p> </div> </div> <p>Buna göre kemik ile ilgili hazırlanan kartlardan hangisinin üzerindeki ifade yanlıştır?</p> <p>A) I                      B) II                      C) III                      D) IV</p>
4	<p>Aşağıda vücudumuzda bulunan bazı organların görselleri verilmiştir.</p> <div style="display: flex; justify-content: space-around;">   </div> <p>Bu organların yapısında bulunan kaslar ile ilgili,</p> <p>I. İsteğimiz dışında yorulmadan, ömür boyu çalışır. II. Ritmik çalışır. III. Düz kaslardır.</p> <p>verilen özelliklerden hangileri ortaktır?</p> <p>A) Yalnız I                      B) I ve II C) II ve III                      D) I, II ve III</p>

5	 <p>5,6 ve 7.soruları yukardaki şekle göre cevaplayınız.</p> <p>İskelet üzerinde harflerle gösterilen kemiklerden hangileri uzun kemiklerdir?</p> <p>A) L, R ve S                      B) L, N, R ve S C) K, M, P ve S                      D) L, M, N ve R</p>
6	<p>İskelet üzerinde harflerle gösterilen kemiklerden hangileri kısa kemiklerdir?</p> <p>A) K ve M                      B) N ve P C) L ve P                      D) K ve S</p>
7	<p>İskelet üzerinde harflerle gösterilen kemiklerden hangileri yassı kemiklerdir?</p> <p>A) M ve P                      B) R ve S C) K ve P                      D) K ve M</p>
8	 <p>Yukardaki şekilde verilen kas çeşidi ile ilgili aşağıdaki ifadelerden hangisi yanlıştır?</p> <p>A) Kırmızı renkli kaslardır. B) Kemiklere bağlı olduğu için iskelet kası da denir. C) İstemli çalışır. D) Yavaş ve düzenli çalışır.</p>

ADI:



SOYADI:



SINIFI:

Vücudumuzda bulunan bazı kaslar ve özellikleri aşağıda verilmiştir.

Kas çeşidi	Özelliği
Çizgili kas	Yapı bakımından çizgili kaslara, çalışma bakımından düz kaslara benzerler.
Düz kas	İsteğimiz dışında çalışır. Yavaş ve uzun süreli çalıştıkları için yorulmazlar.
Kalp kası	İskeletimizin etrafını saran, kırmızı renkli kaslardır. İsteğimizle çalışır. Hızlı çalışır fakat çabuk yorulurlar.

Buna göre kas çeşitleri ve özelliklerinin doğru eşleştirilmesi aşağıdakilerin hangisinde verilmiştir?


A)  B) 

C)  D) 

10. I. Dişlerin yardımıyla besinleri çiğnemek  
II. Safra sıvısı yardımıyla yağları küçük parçalara ayırmak  
III. Tükürük içerisindeki enzimin yardımıyla karbonhidratları küçük moleküllere ayırmak

Yukarıda verilenlerden hangileri fiziksel sindirime örnektir?

A) I ve II. B) I ve III.  
C) II ve III. D) I, II ve III.

11. 

Yukarıdaki şekilde sindirim sistemi organlarının bazıları belirtilmiştir.

Buna göre, aşağıda verilenlerden hangisi bu üç organın ortak özelliğidir?


A) Sadece fiziksel sindirim yapmaları  
B) Proteinlerin kimyasal sindirimini tamamlamaları  
C) Hem fiziksel hem de kimyasal sindirim yapmaları  
D) Karbonhidratların kimyasal sindirimini yapmaları

12. 

Sevgi, içinde eşit miktarda su bulunan 1 ve 2. kaplara, 10 g et parçalarını ekliyor.

2. kaba daha sonra mide öz suyu ekleyen Sevgi, 1 saatlik bu gözlemi ile ilgili olarak hangi sonuca ulaşabilir?

A) Besinlerin iyi çiğnenmesi, sindirimi hızlandırır.  
B) Büyük parçalı besinler midede sindirime uğramaz.  
C) Mide öz suyu, proteinlerin kimyasal sindirimini gerçekleştirir ve sindirimi hızlandırır.  
D) Bitkisel kaynaklı besinler kimyasal sindirime uğramaz.

13. 

Üç deney tüpünün içerisine safra sıvısında bekletilen yağ ekleniyor.

Sindirimin sadece III numaralı tüpte gerçekleşmesinin nedeni aşağıdakilerden hangisidir?

A) Yağın sindirimi için gerekli olan maddeler sadece ince bağırsakta bulunur.  
B) Mide ve ağızda fiziksel sindirim olur.  
C) Kimyasal sindirim sadece ince bağırsakta gerçekleşir.  
D) Mide asitli olduğu için yağın sindirimi gerçekleşmez.

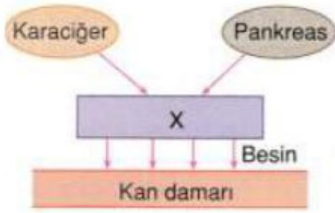


ADI:

SOYADI:

SINIFI:

14



Yukarıda, X organı ile ilgili şema verilmiştir.

Buna göre,

- I. X organı kalın bağırsaktır.
- II. Karaciğerden X organına gelen salgı saf-radır.
- III. Pankreastan X organına gelen salgıda enzim vardır.
- IV. X organından kan damarına geçen be-sinler arasında proteinlerin sindirim ürünü yoktur.

İfadelerinden hangileri doğrudur?

- A) I ve IV.
- B) II ve III.
- C) III ve IV.
- D) II, III ve IV.

16

Kalbin yapısıyla ilgili aşağıdaki bilgilerden hangisi yanlıştır?

- A) Kalp dört odacıktan meydana gelir.
- B) Üstteki odacıklara kulakçık, alttaki oda-cıklara karıncık denir.
- C) Çizgili kas görünümünde, özel kaslardan oluşur.
- D) Karıncıkların yapısında kas tabakası bu-lunmaz.

17

Fen Bilimleri öğretmeni vücuttaki kan dolaşı-mı ile ilgili olarak tahtaya aşağıdaki şekli çizip öğrencilerin yorum yapmalarını istemiştir.



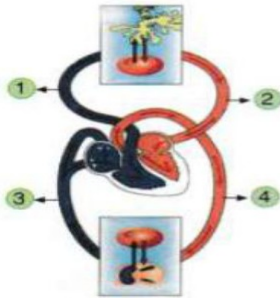
Sınıftaki bazı öğrencilerin yorumu aşağıdaki gibidir:

- Ali : Z atardamar, Q toplardamardır.
- Nil : X sol karıncık, Y sağ kulakçıktır.
- İsa : Z damarının taşıdığı kan kirlidir.
- Ece : Q damarının taşıdığı kan temizdir.

Buna göre, öğrencilerden hangileri doğru yorum yapmıştır?

- A) Ali ve Nil
- B) İsa ve Ece
- C) Ali, İsa ve Ece
- D) Nil, İsa ve Ece

15



Yukarıda, insan vücudunda kanın dolaşımı ile ilgili bir şekil verilmiştir.

Buna göre, aşağıda verilen ifadelerden hangisi yanlıştır?

- A) Küçük kan dolaşımında kalpteki kan 1 nu-maralı damara pompalanır.
- B) 2 numaralı damar, kalbin sol kulakçığına oksijenle zengin kan getirir.
- C) 3 numaralı damardaki karbondioksit mik-satari 4 numaralı damardakinden fazladır.
- D) Kalbin sol karıncığından pompalanan kan tekrar kalbe dönene kadar sırasıyla 2 – 1 – 3 – 4 numaralı damarlardan geçer.

18

Soru	Sol karıncık	Sağ karıncık
Hangisinden pompalanan kan daha uzun yol izler?		
Hangisinden pompalanan kanda CO <sub>2</sub> daha fazladır?		
Hangisinin duvarın-daki kas tabakası daha kalındır?		

Yukarıdaki tabloda verilen soruların cevabı ile ilgili kutulara "✓" işareti konulacaktır.

Buna göre, tabloda "✓" işareti konulacak kutular hangi seçenekte doğru verilmiştir?

A)	✓	✓	✓	✓
B)	✓	✓	✓	✓
C)	✓	✓	✓	✓
D)	✓	✓	✓	✓

**SINIFI:**

19	<p style="text-align: center;"> </p> <p>Yukarıda insan kalbinin yapısı ve kalbe gelen kanın akış şeması verilmiştir.</p> <p><b>Buna göre, aşağıda verilen yargılardan hangisi doğrudur?</b></p> <p>A) Toplardamar vücuda kanı dağıtır.  B) Atardamar vücuttaki kanı toplayıp kalbe getirir.  C) Bütün atardamarlarda kirli kan bulunur.  D) Toplardamar sayesinde kan kalbe girer.</p>										
20	<p>Anıl kendisine sorulan bir soruya aşağıdaki cevapları vermiştir.</p> <ul style="list-style-type: none"> <li>Kanda oksijen taşır.</li> <li>Kana kırmızı rengini verir.</li> </ul> <p><b>Buna göre, Anıl'a sorulan soru hangi seçenekte doğru olarak verilmiştir?</b></p> <p>A) Alyuvarların özellikleri nelerdir?  B) Akyuvarın özellikleri nelerdir?  C) Kan pulcuğunun özellikleri nelerdir?  D) Lenflerin özellikleri nelerdir?</p>										
21	<p>I. Kanın karıncıktan pompalanması  II. Organlara oksijence zengin kan iletme  III. Akciğere kan götürme</p> <p><b>Yukarıda verilenlerden hangileri, büyük ve küçük kan dolaşımının ortak özelliklerindendir?</b></p> <p>A) Yalnız I.                                      B) I ve II.  C) II ve III.                                        D) I, II ve III.</p>										
22	<p>Sağ karıncık → ...<b>A</b>... → Akciğer → Akciğer toplardamarı → ...<b>B</b>...</p> <p>Yukarıdaki şema küçük kan dolaşımının izlediği yoldur.</p> <p><b>Buna göre, A ve B yerine aşağıdakilerden hangileri yazılmalıdır?</b></p> <table border="0" style="width: 100%;"> <thead> <tr> <th style="text-align: center; width: 50%;">A</th> <th style="text-align: center; width: 50%;">B</th> </tr> </thead> <tbody> <tr> <td>A) Akciğer atardamarı</td> <td>Sol kulakçık</td> </tr> <tr> <td>B) Aort atardamarı</td> <td>Sol karıncık</td> </tr> <tr> <td>C) Üst ana toplardamar</td> <td>Sağ kulakçık</td> </tr> <tr> <td>D) Akciğer atardamarı</td> <td>Sağ karıncık</td> </tr> </tbody> </table>	A	B	A) Akciğer atardamarı	Sol kulakçık	B) Aort atardamarı	Sol karıncık	C) Üst ana toplardamar	Sağ kulakçık	D) Akciğer atardamarı	Sağ karıncık
A	B										
A) Akciğer atardamarı	Sol kulakçık										
B) Aort atardamarı	Sol karıncık										
C) Üst ana toplardamar	Sağ kulakçık										
D) Akciğer atardamarı	Sağ karıncık										

23. Aşağıda verilen ifadelerden hangisi yanlıştır?


A) 18 – 65 yaşları arasındaki her sağlıklı birey kan bağıışı yapabilir.

B) Kan bağıışı yapmak, kandaki yağ oranının düşmesini sağlar.

C) Kan bağıışı yaptığımızda, verilen kan yerine yeni kan hücreleri üretilemez.

D) Kan bağıışı yapmak, kalp sağlığı için faydalıdır.

24. Güneş sisteminde bulunan gezegenlerden bazıları Venüs, Satürn ve Merkür'dür.



Büyüklikleri K, L ve M ile temsil edilen gezegenler aşağıdakilerin hangisinde doğru verilmiştir?

K	L	M
A) Merkür	Venüs	Satürn
B) Satürn	Merkür	Venüs
C) Merkür	Satürn	Venüs
D) Venüs	Merkür	Satürn

25. Gezegenlere ait bazı özelliklerin karşılaştırılması aşağıdaki tabloda verilmiştir.

Gezegenler	Gezegenlerin Özellikleri	
	Uydusu	Halkası
Merkür	yok	■
Mars	●	yok

Buna göre tabloda ● ve ■ sembolleri ile gösterilen yerlere aşağıda verilenlerden hangisi yazılmalıdır?

	●	■
A)	var	var
B)	yok	yok
C)	var	yok
D)	yok	var

26. Güneş sisteminin en büyük ve en küçük gezegeni sırasıyla aşağıdakilerin hangisinde verilmiştir?

A) Uranüs - Mars

B) Jüpiter - Merkür

C) Merkür - Jüpiter

D) Jüpiter - Mars



ADI:

SOYADI:

SINIFI:

27	<p><b>Bilgi:</b> Güneş etrafındaki yörüngesinde yuvarlanan bir varil gibi yan yatmış olarak döner.</p> <p><b>Yukarıda hakkında bilgi verilen Güneş sistemi gezegeni aşağıdakilerden hangisidir?</b></p> <p>A)  Uranüs</p> <p>B)  Satürn</p> <p>C)  Dünya</p> <p>D)  Jüpiter</p>
28	<p><b>Güneş sisteminde aşağıda verilen gezegenlerden hangilerinin arasında başka bir gezegen bulunmaz?</b></p> <p>A) Merkür - Mars</p> <p>B) Jüpiter - Neptün</p> <p>C) Dünya - Venüs</p> <p>D) Neptün - Dünya</p>


Başarılar. 😊  
İyi tatiller

ADI:

SOYADI:

SINIFI:

SORU	MATEMATİK TESTİ SORULARI
1	Aşağıdaki sayılardan hangisi bir doğal sayının karesi <u>değildir</u> ? A) 81 B) 100 C) 111 D) 144
2	Aşağıdaki sayılardan hangisi en büyüktür? A) $2^3$ B) $4^3$ C) $5^3$ D) $6^3$
3	$2^5 - 2^1$ işleminin sonucu kaçtır? A) 8 B) 16 C) 30 D) 32
4	Hangi sayının dördüncü kuvvetinin 4 fazlası 260'dır? A) 3 B) 4 C) 5 D) 6
5	$8^2 - 8^0$ işleminin sonucu kaçtır? A) 0 B) 8 C) 63 D) 64
6	Ay, Dünya'nın tek doğal uydusudur. Dünya ile Ay arasındaki uzaklık yaklaşık olarak 384 400 km'dir. Buna göre, aşağıdaki ifadelerden hangisinin değeri bu uzaklığa eşittir? A) $3844 \cdot 10^6$ km B) $3844 \cdot 10^4$ km C) $3844 \cdot 10^2$ km D) $3844 \cdot 10^3$ km
7	Aşağıda verilen ifadelerden hangisi <u>doğrudur</u> ? A) $6^5$ sayısı 5 tane 6'nın toplamına eşittir. B) $5^6$ sayısı 6 tane 5'in çarpımına eşittir. C) $1^{2018}$ sayısı 2018 tane 1'in toplamına eşittir. D) 4 tane 3'ün çarpımı $4^3$ e eşittir.
8	$3^4 + 4^3$ işleminin sonucu kaçtır? A) 145 B) 81 C) 72 D) 48

9	 <p>Yan yana olan kutulardan birincisine bir boncuk konulmuştur. Daha sonra kutuların her birine solundaki kutuda bulunan boncuk sayısının 5 katı kadar boncuk konulacaktır.</p> <p>Buna göre, 5. kutuya kaç tane boncuk konulması gerekir?</p> <p>A) 625 B) 500 C) 125 D) 25</p>
10	Aşağıdaki ifadelerden hangisi <u>yanlıştır</u> ? A) $2 \cdot a = 10$ ise $a^3 = 125$ 'tir. B) $a^4 = 81$ ise $a = 3$ 'tür. C) $a = 4$ ise $a^a = 128$ 'dir. D) $a = 3$ ise $4^a = 64$ 'tür.
11	Bir kutunun içinde 3 poşet, her bir poşetin içinde 3 paket, her bir paketin içinde 27'şer tane çikolata bulunmaktadır. Buna göre, toplam çikolata sayısı aşağıdakilerden hangisidir? A) $3^3$ B) $3^4$ C) $3^5$ D) $3^6$
12	Aşağıdakilerden hangisinin sonucu 81 <u>etmez</u> ? A) $3^4$ B) $4^3$ C) $9^2$ D) $81^1$
13	Aşağıdaki ifadelerden hangisi <u>yanlıştır</u> ? A) 3'ün ikinci kuvveti 6'dır. B) 5'in üçüncü kuvveti ile 3'ün beşinci kuvvetinin toplamı 368'dir. C) 7 tane 10'un çarpımı 8 basamaklı bir sayıdır. D) $3^4$ ifadesi, $3 \times 3 \times 3 \times 3$ çarpımına eşittir.
14	$a \cdot a \cdot a \cdot a = 3^5$ $3 \cdot 3 \cdot 3 \cdot 3 \cdot 3 = 3^b$ olduğuna göre, $a+b$ toplamı kaçtır? A) 12 B) 11 C) 10 D) 9



ADI: SOYADI: SINIFI:

15	$243 = 3^a$ $64 = 2^b$ $1 = 89^c$ $50 = 50^d$ Yukarıda verilen eşitliklere göre $a + b + c + d$ işleminin sonucu kaçtır? A) 15      B) 12      C) 10      D) 7	19	a, b ve c sayıları doğal sayılar olmak üzere, $a^2 = 64$ $b^3 = 27$ $c^4 = 81$ olduğuna göre, aşağıdakilerden hangisi doğrudur? A) $c > a > b$ B) $a > b = c$ C) $a = b > c$ D) $b > a > c$
16	Akif Amca $4^4$ TL'yi 8 torununa eşit olarak paylaştırsa bir toruna kaç TL düşer? A) 32      B) 64      C) 128      D) 160	20	I. $5^3 < 3^4$ II. $2^8 < 3^5$ III. $13^2 < 2^7$ IV. $5^4 > 8^3$ Yukarıda verilen sıralamalardan hangisi doğrudur? A) I.      B) II.      C) III.      D) IV.
17	I. $10^2 = 100$ II. $3^4 = 12$ III. $4^3 = 64$ IV. $3^3 = 27$ Yukarıda verilen ifadelerden kaç tanesi doğrudur? A) 1      B) 2      C) 3      D) 4		
18	$2.3.2.3.2.3.2.3.2.3$ işleminin üslü sayı biçiminde gösterimi aşağıdakilerden hangisidir? A) $6^5$ B) $2^5$ C) $3^5$ D) $5^5$		

Başarılar.  
İyi tatiller 😊

ADI:

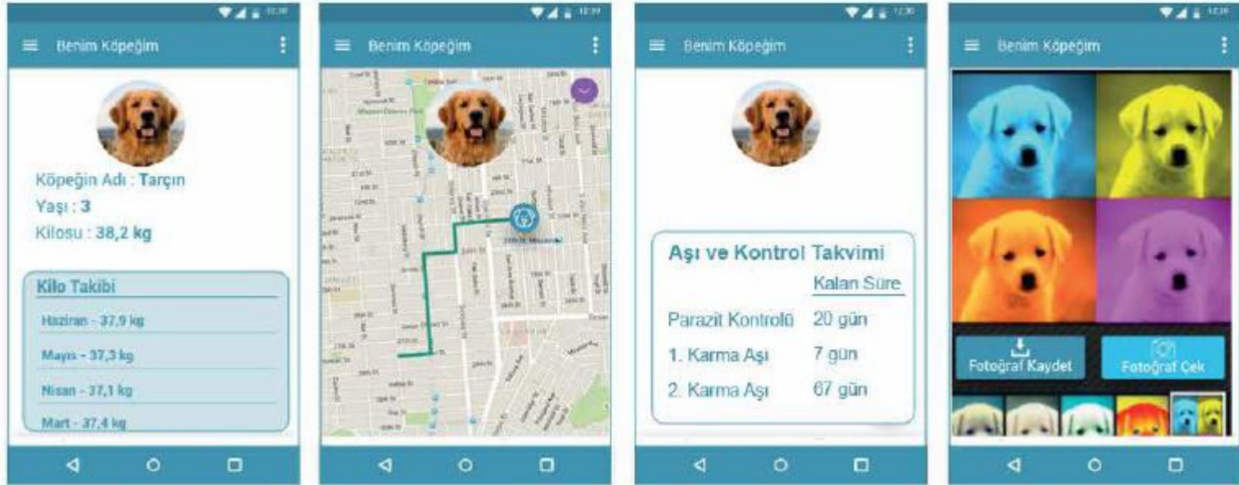
SOYADI:

SINIFI:

## SORU

## TÜRKÇE TESTİ SORULARI

Derya, köpeği Tarçın'ın tasmaına taktığı cihazla uyumlu bir cep telefonu uygulaması geliştirmiş ve bu uygulamayla ilgili bir tanıtım rehberi hazırlamıştır. Derya'nın geliştirdiği tanıtım rehberindeki görseller şunlardır:



Aşağıdakilerden hangisi bu görsellerden herhangi birinin açıklaması olamaz?

- A) Köpeğinizin fotoğraflarını saklayabilir, onlar üzerinde değişiklik yapabilirsiniz.
- B) Köpeğinizin konumunu haritadan takip edebilir ve kaybolma riskini en aza indirebilirsiniz.
- C) Köpeğinizin adını, yaşını kaydedebilir ve kilo takibini yapabilirsiniz.
- D) Köpeğinizin aşı ve tedavi geçmişiyle ilgili bilgileri kontrol edebilirsiniz.


Kübizm, 20. yüzyılın başında ortaya çıkan bir sanat akımıdır. Bu akım etkisindeki sanatçılar bir şeyi doğrudan resmetmek yerine onun değişik kısımlarının görüntülerini bir araya getirerek yeni bir tarz ortaya koymuşlardır. Bir kişiyi veya objeyi resmederken kendilerince önemli ve güzel buldukları parçaları, geometrik yapılarını öne çıkararak şekillendirmişlerdir.

Bu parçaya göre aşağıdakilerden hangisi kübizm akımının etkisiyle oluşturulmuş bir eser olamaz?





ADI: SOYADI: SINIFI:


3	<p>Anı; yaşanmış olayların, üzerinden belli bir zaman geçtikten sonra anlatıldığı yazı türüdür.</p> <p><b>Buna göre aşağıdakilerden hangisi anıya örnek olamaz?</b></p> <p>A) Sonunda bayram geldi. Bu bayram benim için diğerlerinden güzel geçeceğe benziyor. Birazdan en güzel elbiselerimi giyip dışarı çıkacağım. Arkadaşımla buluşup komşularımızı ziyaret edeceğiz. Sonra da ver elini lunapark...</p> <p>B) Benim yaşımda olanlar iyi bilir. Eskiden, kara lastik denen ayakkabılar vardı. Bu ayakkabıların bir iki numara büyüğünü alırdı babam bana. Böylece ayakkabıyı en az iki üç yıl giydim. Arkadaşlarımla birbirimizin ayakkabısını giydiğimiz de çok olmuştur.</p> <p>C) Okula başladığım ilk günü daha dünmüş gibi hatırlıyorum. O gün bende beliren en baskın duygu sevinçti. Çünkü babamın her gün dikkatle okuduğu gazetede yazıları okuyabilecek, harçlıklarımı sayabilecektim artık.</p> <p>D) Yağışlı bir gündü. Yağmurda ıslanmış küçücük bir kedi yavrusu bulmuştuk sokakta. Acıdığımız için eve getirmiştik. Kedi, o denli küçüktü ki adını Damla koyduk. Damla, büyüdü, büyüdü; damla olmaktan çıktı, bir göl oldu. Ona ne süt yetiştirebildik ne de mama...</p>
4	<ul style="list-style-type: none"> <li>• Temizlediği çaydanlığı, yanan ocağa sürdü.</li> <li>• Çadırın önüne taşlardan ilkel bir ocak yaptı.</li> <li>• Seher vaktinde harman yerine yükünü devirip çadırını kurdu.</li> <li>• Çay suyunun kaynamasını beklerken karşıdaki dağları seyre koyuldu.</li> </ul> <p><b>Bu cümleler olayların oluşuna göre sıralandığında "Ocağa doldurduğu çalı çırpıları, kuşağına gizlediği kibritle tutuşturdu." cümlesi <u>baştan kaçınıcı</u> sırada yer alır?</b></p> <p>A) 2. B) 3. C) 4. D) 5.</p>
5	<p><b>GÜVENLİ İNTERNET İLE ÇOCUKLARINIZ GÜVENDE</b></p>  <p><b>Bu görsel ve başlıktan hareketle oluşturulacak bir metinde aşağıdakilerin hangisinden söz edilmesi <u>beklenmez</u>?</b></p> <p>A) Güvenli internet hizmetinden yararlanma yolları</p> <p>B) Bilinçsiz internet kullanımının sonuçları</p> <p>C) Sanal dünyanın çocuklar üzerindeki etkileri</p> <p>D) Güvenlik şirketleri için internetin önemi</p>
6	<p>Bir gün Subaşı'nın eşeği kaybolur. Herkes eşeği aramaya çıkar. Nasrettin Hoca, içinden gelmese de arama çalışmalarına katılır. Ararken de durmadan türküler söyler. "A Hoca! Eşeği neden türkü söyleyerek arıyorsun?" diye soranlara şu cevabı verir: "El, elin eşeğini türkü çağırarak arar."</p> <p><b>Aşağıdakilerden hangisi bu metindeki altı çizili atasözü ile çelişir?</b></p> <p>A) El kazanı ile aş kaynamaz.</p> <p>B) El, el ile, değirmen yel ile...</p> <p>C) Elden vefa, zehirden şifa...</p> <p>D) Elden gelen öğün olmaz, o da vaktinde bulunmaz.</p>



ADI:

SOYADI:

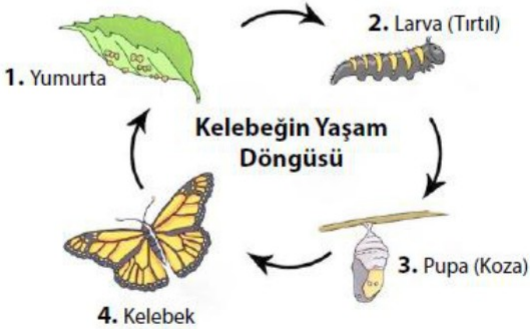
SINIFI:



7

Bu görseli en doğru yansıtan metin aşağıdakilerden hangisidir?

- A) Gün başlar başlamaz köylüleri her zaman olduğu gibi bir yaşam telaşı sardı. Kadınlar ve çocuklar köyün akan tek çeşmesinden su doldurmak üzere sokaklara döküldü. Bu sırada erkekler de tarlaya gitmeden önce hayvanların günlük bakımlarını tamamlamak için işe koyuldu. Köyde hasat zamanıydı. Bu nedenle yapılacak yığınla iş vardı ve bir an önce işbaşı yapmalıydılar.
- B) Akova köylüleri sıradan bir güne başlıyordu. Evine su taşıyacak köylüler çeşme başında sıra bekliyor, hayvanlar çeşmenin yalağından bir an önce su içmek istiyordu. Sirtında bebesiyle bekleyen Zeynep Kadın, çamaşır yıkamak için çıkardığı kazanın altını yakmış, önceden topladığı çalı çırpıyı bir kenara yığmıştı.
- C) Ayşe Kadın, bebeğin ağlamasıyla uyandı. Pencereden baktığında günün ağarmak üzere olduğunu gördü. Bir gayretle kalktı. Önce bebeğini doyurdu. Kocasını uyandırdı. Çorba yapmak için ocağın ateşini yakacaktı ki evde hiç su kalmadığını fark etti. Bebeğini sırtına sarıp su doldurmak üzere çeşmenin yolunu tuttu.
- D) Halil Ağa'nın, köy meydanına yaptırdığı çeşme, köylüler için büyük bir nimetti. Zira içme sularını temin etmek için her gün köyün 5 km uzağındaki bir çeşmeye gidip geliyorlardı. Yeni çeşmeleri akmaya başladığında artık bu yolu yürümek zorunda kalmayacaklardı. İşte bu nedenle çeşmenin açılışının yapılacağı gün tüm köylü heyecanla köy meydanını doldurmuştu.







8

Bu görsele göre "pupa" evresini açıklayan metin aşağıdakilerden hangisidir?

- A) Toprak altında ya da bir bitkinin dalına tutunarak koza oluşturan tırtılın tüm organları değişir. Yalancı ayakları kaybolur, öndeki gerçek ayakları uzar. Bitkileri bıçak gibi kesen ağız yapıları değişir ve en önemlisi kanatları oluşur.
- B) Yumurtasının kabuğunu yiyen tırtıl, annesinin kendisi için seçtiği bitkinin yapraklarıyla beslenmeye devam eder. Tırtıl evresinde bu canlıların tek amacı beslenmektir.
- C) Kelebek, yaşamına bir yumurtanın içinde başlar. Dişi kelebeğin uygun bitki üzerine bıraktığı yumurta, ortalama 3-15 günlük bir gelişme süreci sonrası çatlar. Yumurtada, önde üç çift gerçek, arkada da beş çift yalancı ayağı olan bir tırtıl vardır.
- D) Koza aşaması tamamlandığında kanatları olan ve tamamen farklı besin kaynakları ile beslenen, kanatları ince pullarla ve türlü renklerle örtülü bir kelebek ortaya çıkar.



ADI: SOYADI: SINIFI:





9	<p>Arkeolojik bulgular, yüzmenin insanlık tarihi kadar eski olduğunu gösteriyor. (I) Eski Yunanlıların zaman zaman yüzme yarışları düzenlediğine, Romalıların ise hamamların yanı sıra yüzme havuzları yaptığına ilişkin bulgular var. (II) Ancak yüzmenin spor olarak yaygınlaşması 19. yüzyıla dayanıyor. (III) Türkiye'de modern anlamda yüzme sporuna ilk adımın 1973 yılında atıldığı görülüyor. (IV) Bu yüzyıldan sonra yüzme, spor müsabakalarının temel branşlarından biri hâline geldi.</p> <p><b>Numaralanmış cümlelerden hangisi bu parçanın anlam bütünlüğünü bozmaktadır?</b></p> <p>A) I. B) II. C) III. D) IV.</p>
10	<p>Yaşlanmanın birçok nedeni vardır. Bunlardan biri, dokuları yenilemek amacıyla bölünen hücrelerdeki kromozomları koruyan telomer adındaki yapıların kısalmasıdır. Çevresel faktörler, genetik özellikler ve beslenme alışkanlıkları da yaşlanma sürecini etkiler. Yaş ilerledikçe vücutta pek çok değişim gerçekleşir. Ciltte kırışma, saçlarda beyazlama, kulaklar ve burunda büyüme, boy kısalması ve görme yetisinin azalması akla ilk gelenlerdir. Bu değişimlerin oluşma hızı herkeste aynı değildir.</p> <p><b>Bu parçada "yaşlanma"yla ilgili aşağıdakilerden hangisine değinilmemiştir?</b></p> <p>A) Sebeplerinin neler olduğuna B) Her insanda farklı hızda gerçekleştiğine C) İnsanda ne tür değişikliklere yol açtığına D) Gerçekleşmesinde etkili olan çevresel faktörlere</p>
11	<p>Simetri; bir cismin, bir doğruya göre eşit uzaklıktaki görüntüsüdür. Hem doğada hem de insan yapımı objelerde simetriye sıklıkla rastlanır. Resim sanatında simetri; eserin iki yarısında yani alt ve üstünde veya sağ ve solunda eşit değerleri aynı yerde, aynı düzende yerleştirmekle elde edilir.</p> <p><b>Bu metne göre aşağıdakilerin hangisinde simetri vardır?</b></p> <div style="display: flex; flex-wrap: wrap;"> <div style="width: 50%;"> <p>A) </p> </div> <div style="width: 50%;"> <p>B) </p> </div> <div style="width: 50%;"> <p>C) </p> </div> <div style="width: 50%;"> <p>D) </p> </div> </div>



ADI:

SOYADI:

SINIFI:

12	<p>Belirli bir bölgede yaşayan bitki ve hayvan türlerinin sayıca zenginliği olarak tanımlanan biyoçeşitlilik, genetik çeşitlilikle tür ve ekosistem çeşitliliğini kapsar. Bilim insanları, dünyamızın yaşanabilir bir hâlde kalması için biyoçeşitliliği koruma çalışmaları yapmaktadır.</p> <p><b>Bu metne göre aşağıdakilerin hangisi biyoçeşitliliğin korunması için yapılacak çalışmalardan biri <u>olamaz</u>?</b></p> <p>A) Üretimde modern tarım tekniklerinin kullanılması  B) Nesli tükenmekte olan hayvanların güvenli ortamlarda çoğaltılması  C) Aşırı avlanmayı önlemek için caydırıcı yasal düzenlemelerin yapılması  D) Belirli tabiat alanlarının yerleşime kapatılması</p>
13	<p>Uzmanlara göre yatış şekli, insanların kişiliklerini yansıtır. Yatış şekillerinden bazıları şunlardır:</p> <p><b>Yan Yatış Şekli:</b> Yan tarafa bükülerek alınan uyku pozisyonudur. Bu şekilde uyuyan insanlar dışa dönük görünüşler de kendi içlerinde çok hassas ve utangaçtır. İnsanlarla iletişim kurmaları biraz zaman alabilir ama alıştıktan sonra sıcakkanlı karakterlerini hemen ortaya çıkarırlar.</p> <p><b>Kütük Yatış Şekli:</b> Her iki kolun da aşağı doğru pozisyon aldığı yan uyuma şeklidir. Bu şekilde uyumayı tercih eden insanların uysal oldukları ve herkese çok kolay güvendikleri saptanmıştır.</p> <p><b>Asker Yatış Şekli:</b> Sırtüstü yatıp kolların iki yanda konumlandırıldığı uyuma şeklidir. Bu pozisyonda uyuyanlar, içe kapanık bir kişiliğe sahiptir. Kendileri ve yakınları için yüksek hayat standartları oluşturmaya çalışırlar.</p> <p><b>Denizyıldızı Yatış Şekli:</b> Kolların, başın her iki yanına alındığı sırtüstü yatış şeklidir. Bu şekilde uyuyanlar, iyi bir dinleyici ve güvenilir bir arkadaşdır. Ayrıca başkalarına yardım etmekten hoşlanır ama ilgi odağı olmayı tercih etmezler.</p> <p>Konuşmayı pek sevmeyen Ayşe'nin en büyük hayallerinden biri, iş sahibi olduğunda ailesine güzel bir yaşam sunabilmektir.</p> <p><b>Bu bilgilere göre Ayşe'nin yatış şeklinin aşağıdakilerden hangisi olması beklenir?</b></p> <p>A)  B)  C)  D) </p>
14	<ul style="list-style-type: none"> <li>• Zarar görmemek, varlığını korumak, hasar görmemek</li> <li>• Bir yere yaslanmak</li> <li>• Bir işi bütün gücünü kullanarak yapmak</li> </ul> <p><b>"Dayanmak" sözcüğü aşağıdaki cümlelerin hangisinde bu anlamlarından herhangi biriyle <u>kullanılmamıştır</u>?</b></p> <p>A) İki genç, küreklere kırarcasına dayandı.  B) Gemimiz fırtınaya ne kadar dayanır?  C) Köprünün geçmişi 18. yüzyıla dayanıyor.  D) Başı dönünce duvara dayanıp öylece bekledi.</p>

ADI: SOYADI: SINIFI:

15	<p>Empati (duygudaşlık), kişinin kendisini karşısındaki insanın yerine koyarak onun duygu ve düşüncelerini anlama çabasıdır.</p> <p><b>Buna göre,</b></p> <p>Çocuk: — Günüm güzel geçtiği için keyfim yerinde, anne!</p> <p>Anne: — ----</p> <p><b>metninde, anne aşağıdaki cevaplardan hangisini verirse çocuğuyla empati kurmuş olur?</b></p> <p>A) Kardeşin de geçen gün aynı cümleyi söyledi. B) İşler yolunda gittiği için mutlu hissediyorsun, değil mi? C) Arkadaşların da senin gibi mi düşünüyor acaba? D) Anlat bakalım, bugün neler yaşadın?</p>
16	<p>İnsanların gözünde "retina (ağ tabaka)" adı verilen bir bölüm bulunur. Bu bölümün üzerinde ışığa duyarlı hücreler vardır. Bu hücreler, üzerlerine düşen ışığın bir kısmını emerek yok eder. Işığın yok olmayan bölümüyse ağ tabakanın arkasına geçer. Bazı hayvanların gözlerinde insanlarınkinden farklı olarak ağ tabakanın arkasında bir tabaka daha bulunur. Bu tabaka, ışığı bir ayna gibi yansıtır. Bu yüzden geceleri ışık vurduğunda bazı hayvanların gözleri parlar.</p> <p><b>Bu metnin anlatımıyla ilgili aşağıdakilerden hangisi söylenemez?</b></p> <p>A) Bir durumun nedeni açıklanmıştır. B) Karşılaştırmaya başvurulmuştur. C) Tanımlama yapılmıştır. D) Açıklayıcı anlatımdan yararlanılmıştır.</p>
17	<p><b>17 ve 18. soruları aşağıdaki parçaya göre cevaplayınız.</b></p> <p>İnsan, toprakta veya karda yürürken ayaklarının büyüklüğü kadar iz bırakır. Tıpkı bunun gibi yeryüzünde de günlük yaşamda tükettiği su ve enerji ölçüsünde iz bırakır. <u>Günümüzde çok sayıda insan, gereğinden daha çok tüketiyor ve arkasında kendi boyundan büyük ekolojik ayak izleri bırakıyor.</u> Hâlbuki bu izleri küçültmenin çok basit yöntemleri var. Örneğin yazın klimayı çalıştırmak yerine pencereleri açmak, kışın kombinin derecesini artırmak yerine biraz kalınca giyinmekle hem masraflarınızı azaltmış hem de dünyayı kurtarmak için önemli bir adım atmış olursunuz. Her yıl cep telefonu değiştirmek, çıkan her teknolojik aleti almak, giysileri bir iki kez giyip atmak dünyanın doğal dengesini olumsuz etkiliyor. Çünkü hepsinin üretimi için çok fazla enerji gerekiyor. Bilgisayar, televizyon, cep telefonu gibi elektronik aygıtlar çalışmasa bile fişi takılıyken enerji harcamaya devam ediyor. Basit bir şey gibi görünüyor ama bunlarla ilgili alınacak önlemler dünyanın geleceği için oldukça önemli.</p> <p><b>Aşağıdaki önerilerden hangisi bu metinde sözü edilen sorunlardan herhangi biriyle ilgili değildir?</b></p> <p>A) Isınmak ve serinlemek için daha az enerji harcamak. B) Sadece ihtiyaç duyduğunuz ürünleri satın almak. C) Hazır gıdalar yerine doğal gıdalar tüketmek. D) Elektrikli aletleri kullanmadığınız zaman prizde bırakmamak.</p>



ADI: SOYADI: SINIFI:

18	<p><b>Bu parçadaki altı çizili cümle ile ilgili aşağıdaki açıklamalardan hangisi doğrudur?</b></p> <p>A) Gerçekte var olmayan bir durum, varmış gibi kabul edildiği için varsayım cümlesidir.</p> <p>B) Olumsuz bir durumdan duyulan huzursuzluk dile getirildiği için yakınma cümlesidir.</p> <p>C) Yapılan bir hata sonucunda duyulan üzüntü anlatıldığı için pişmanlık cümlesidir.</p> <p>D) Gerçekleşmesi kesin olmayan bir durum, önceden kestirilmeye çalışıldığı için olasılık cümlesidir.</p>
19	<p>Âşık Veysel Şatıroğlu, 1884'te Sivas'ın Şarkışla ilçesinde dünyaya geldi. Yedi yaşında geçirdiği çiçek hastalığı nedeniyle iki gözünü de kaybeden Âşık Veysel, babasının hediye ettiği saz sayesinde genç yaşlarda müziğe başladı. 1933 yılında tanıştığı Ahmet Kutsi Tecer'in teşvikiyle kendi sözlerini yazıp söyledi. Yalın bir Türkçe kullanan şairin şiirlerinde yaşama sevinci ile hüznün, iyimserlikle umutsuzluk iç içedir. Ömrünü bağladığı sazını çalarken, ektiği buğdayı biçen bir köylü kadar doğaldır. Aynı doğallığı sazına şiir söylerken de göstermiş ve bir insanın sazı ile nasıl kaynaştığını şu unutulmaz mısralarla anlatmıştır. " - - - "</p> <p><b>Bu metinde boş bırakılan yere aşağıdaki dörtlüklerden hangisi getirilmelidir?</b></p> <p>A) Nerede görsem yan yan kaçar Bana bakar güler gider Yanar kalbim ateş saçar Kan ve keder dolar gider</p> <p>B) Sen petek misali, Veysel de arı İnleşir beraber yapardık balı Ben bir insanoğlu, sen bir dut dalı Ben babamı, sen ustanı unutma</p> <p>C) Veysel der ismini koymam dilimden Ayrı düştüm vatanımdan ilimden Kuş olsan da kurtulmazdın elimden Eğer görse idim göz ile seni</p> <p>D) Kim okurdu, kim yazardı Bu düğümü kim çözerdi Koyun kurt ile gezerdi Fikir başka başk'olmasa</p>
20	<ul style="list-style-type: none"> <li>• Soru eki veya sözü içeren ve soru anlamı taşıyan cümle veya sözlerin sonuna konur.</li> <li>• Bilinmeyen, kesin olmayan veya şüpheyle karşılanan yer, tarih vb. durumlar için kullanılır.</li> <li>• Soru bildiren ancak soru eki veya sözü içermeyen cümle ve sözlerin sonuna konur.</li> </ul> <p><b>Bu açıklamalara göre aşağıdaki cümlelerin hangisinde soru işareti (?) yanlış kullanılmıştır?</b></p> <p>A) Ankara'dan Eskişehir'e hızlı trenle kırk beş dakikada (?) gitmiş.</p> <p>B) Danışmadaki görevli biraz düşündükten sonra başını kaldırdı: — Mesleğiniz?</p> <p>C) Yazarın son kitabı bu yılın sonunda mı yayımlanacakmış?</p> <p>D) Problemin başka bir çözüm yolu olup olmadığını sordu bana?</p>



Başarılar. 😊  
İyi tatiller

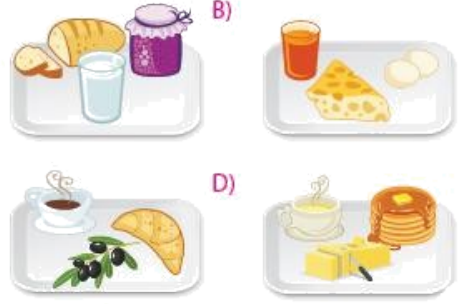



ADI:

SOYADI:

SINIFI:





























SORU	İNGİLİZCE TESTİ SORULARI
1	<p>Konuşma balonunda boş bırakılan yere uygun düşen seçeneği işaretleyiniz.</p>  <p>A) Do you like having breakfast B) What is your favourite drink C) Are you hungry or thirsty D) Can I make some muffins</p>
2	<p>Diyalogda boş bırakılan yere uygun düşen seçeneği işaretleyiniz.</p> <p>A: ..... ? B: Yes, there is some, but we don't have any cereal.</p> <p>A) Where are the blueberries B) Can I go to a cafe for dinner C) Do we have any milk D) What do you want to have</p>
3	<p>Verilen resm göre konuşma balonunda boş bırakılan yerlere uygun düşen seçeneği işaretleyiniz.</p>  <p>A) croissant / coffee B) pancake / tea C) cereal / milk D) muffin / orange juice</p>
4	<p>Diyalogda boş bırakılan yere uygun düşen seçeneği işaretleyiniz.</p> <p>A: What is your favourite food at breakfast? B: .....</p> <p>A) Yes, I'm thirsty B) My favourite is Polka C) No, I'm not hungry D) I like sausages</p>

5	<p>Boş bırakılan yerlere uygun düşen seçeneği işaretleyiniz.</p> <p><i>Sarah is doing the shopping because she needs ..... blueberries, ..... cheese and ..... sandwich.</i></p> <p>A) a / some / any B) some / any / a C) some / some / a D) a / some / a</p>
6	<p>Maria'nın tepsisinin olduğu seçeneği işaretleyiniz.</p> <p><i>I'm Maria. I like eggs and cheese at breakfast. And I also drink orange juice.</i></p>  <p>A) ..... B) ..... C) ..... D) .....</p>
7	<p>Konuşma balonunda boş bırakılan yere uygun düşen seçeneği işaretleyiniz.</p>  <p>A) I prefer crisps for lunch B) It is not nutritious C) Junk food is very good D) He's very hungry</p>
8	<p>Diyalogda boş bırakılan yere uygun düşen seçeneği işaretleyiniz.</p> <p>Ann : ..... because I want to make an omelette. Peter : How many do you want?</p> <p>A) I'm very thirsty B) I like breakfast C) Eggs are my favourite D) I need some eggs</p>


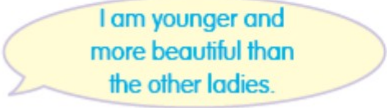










ADI:

SOYADI:

SINIFI:

9	<p>Konuşma balonlarında boş bırakılan yerlere uygun düşen seçeneği işaretleyiniz.</p>  <p>A) a / How many B) some / How much C) any / How many D) any / How much</p>	13	<p>Aşağıda verilen tabloya göre doğru seçeneği işaretleyiniz.</p> <table border="1"> <tr> <td></td> <td></td> <td></td> <td></td> </tr> <tr> <td></td> <td></td> <td></td> <td></td> </tr> </table> <p>A) He doesn't like honey. B) He loves eggs. C) His favourite food is butter. D) He likes olives.</p>								
											
											
10	<p>Aşağıdaki cümlelerin söyleniş sırası hangi seçenekte doğru olarak verilmiştir?</p> <p>(I) Espresso? What is it? (II) I'm sorry, it's all gone. Want some espresso? (III) Can I have some tea, please? (IV) It's Italian coffee.</p> <p>A) III – II – I – IV B) III – I – IV – II C) II – I – IV – III D) I – IV – III – II</p>	14	<p>Verilen resme göre diyalogda boş bırakılan yere uygun düşen seçeneği işaretleyiniz.</p>  <p>A: What are the people doing? B: They are .....</p> <p>A) singing and dancing B) waiting in a line to get money C) driving their cars on the street D) sitting on the beach</p>								
11	<p>Konuşma balonunda boş bırakılan yere uygun düşen seçeneği işaretleyiniz.</p>  <p>A) Do you like drinking milk? B) Do you want fruit juice or tea? C) Want some orange juice? D) Can I have some milk with it?</p>	15	<p>Aşağıdaki ifadelerin söyleniş sırası hangi seçenekte doğru olarak verilmiştir?</p>  <p>(I) They are eating and drinking. (II) Where are they? (III) What are they doing? (IV) They are in a restaurant.</p> <p>A) II – IV – III – I B) I – II – III – IV C) III – IV – II – I D) II – I – III – IV</p>								
12	<p>Diyalogda boş bırakılan yere uygun düşen seçeneği işaretleyiniz.</p> <p>A: I live in a town. .... B: Good but I like crowded cities.</p> <p>A) There are tall buildings here B) We are always in a traffic jam C) It's a nice and cheerful place D) I want to live in a city</p>										

ADI: SOYADI: SINIFI:

16	<p>Verilen resme göre konuşma balonunda boş bırakılan yere uygun düşen seçeneği işaretleyiniz.</p>  <p>A) fatter B) shorter C) more crowded D) more beautiful</p>	<p>Konuşma balonunda anlatılan durumu ifade eden seçeneği işaretleyiniz.</p>  <p>A)  B)  C)  D) </p>
17	<p>Verilen resme göre aşağıdaki ifadelerden hangisi doğrudur?</p>  <p>A) Mr. Thomson is more fashionable than Mrs. Thomson. B) Mr. Thomson is taller than Mrs. Thomson. C) Mr. Thomson is fatter than Mrs. Thomson. D) Mrs. Thomson is shorter than Mr. Thomson.</p>	<p>Boş bırakılan yere uygun düşen seçeneği işaretleyiniz.</p> <p><i>I am sitting in the car because .....</i></p> <p>A) downtown is very nice B) I'm buying a newspaper C) the sun is shining and it is hot D) there is a traffic jam</p>
18	<p>Verilen ifadeye uygun resim hangisidir?</p>  <p>A)  B)  C)  D) </p>	<p>Başarılar. 😊 İyi tatiller</p>