




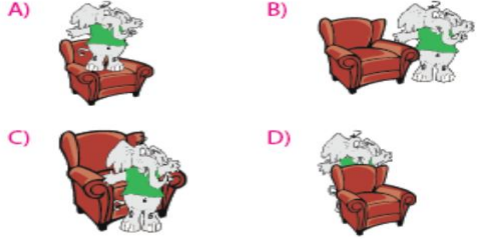


ADI:

SOYADI:

SINIFI:

SORU	İNGİLİZCE TESTİ SORULARI	
1	<p>Konuşma balonunda boş bırakılan yere uygun düşen seçeneği işaretleyiniz.</p>  <p>A) How are you doing B) How many students are there in your class C) Where are your friends D) Where do you sit in class</p>	<p>Verilen resme uygun düşen seçeneği işaretleyiniz.</p>  <p>A) Turn right. B) Turn left. C) Go straight ahead. D) Go past.</p>
2	<p>Verilen resimleri dikkate alarak <u>yanlış</u> verilen seçeneği işaretleyiniz.</p>  <p>A) mosque B) bakery C) hospital D) fire station</p>	<p>Konuşma balonunda boş bırakılan yerlere uygun düşen seçeneği işaretleyiniz.</p>  <p>A) down / at B) around / in C) ahead / on D) past / up</p>
3	<p>Verilen resme göre boş bırakılan yere uygun düşen seçeneği işaretleyiniz.</p>  <p>The cafe is the post office and the hotel.</p> <p>A) opposite B) next to C) between D) in front of</p>	<p>Verilen ifadeye uygun resim hangi seçenekte yer almaktadır?</p> <p>Mr. Elephant is behind the armchair.</p> 

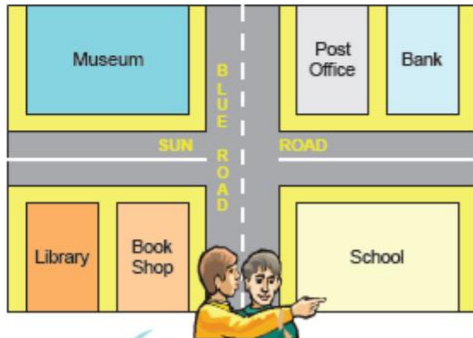
ADI:

SOYADI:

SINIFI:

7

Verilen şekle göre boş bırakılan yere uygun düşen seçeneği işaretleyiniz.



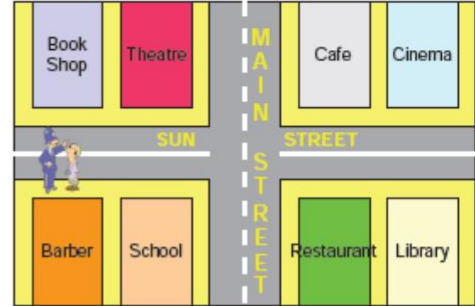
..... ?

Turn left into Sun Road. It's on the right.

- A) How can I go to the museum, please
- B) Excuse me! Is there a library near here
- C) How can I get to the bookshop, please
- D) Is there a post office near here

9

Verilen şekle göre boş bırakılan yere uygun düşen seçeneği işaretleyiniz.



Jack : How can I get to the library?

Policeman :

- A) Go straight ahead. Go pass the restaurant. It's on your right, opposite the cinema
- B) Go straight ahead and turn right into Main Street. It's on your right
- C) Cross the street and take the first left. It's on your left
- D) Take the first right and go straight. Cross the Main Street. It is on your left

8

Verilen resme göre boş bırakılan yerlere uygun düşen seçeneği işaretleyiniz.

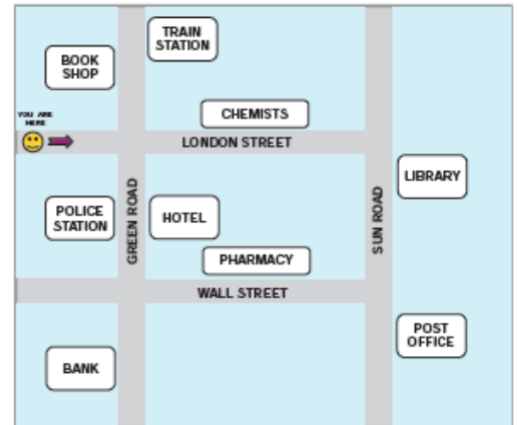


Pam is Mary and Tom.

- A) behind / opposite
- B) next to / in front of
- C) around / between
- D) in front of / behind

10

Aşağıda verilen haritayı dikkate alarak diyalogda boş bırakılan yere uygun düşen seçeneği işaretleyiniz.



A: Excuse me! ?

B: Go straight ahead. Take the first left. Go past the bookshop. It's on your right.

- A) Where is the library
- B) How do I get to the bank
- C) Where is the train station
- D) Is there a pharmacy near here

ADI:

SOYADI:

SINIFI:

11

Konuşma balonunda boş bırakılan yerlere uygun düşen seçeneği işaretleyiniz.



- A) Go / past B) Turn / around
C) Take / into D) Walk / left

14

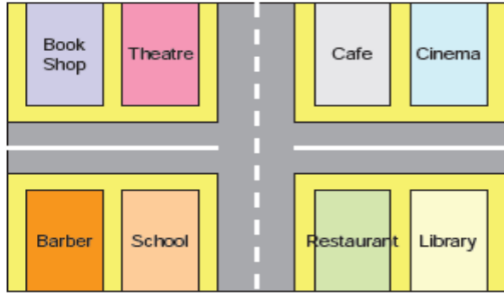
Verilen resme uygun düşen seçeneği işaretleyiniz.



- A) Turn right. B) Turn left.
C) Go straight ahead. D) Cross the street.

12

Verilen şekle göre boş bırakılan yerlere uygun düşen seçeneği işaretleyiniz.

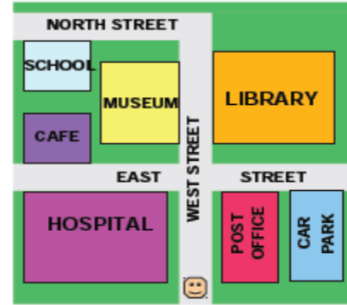


The library is the restaurant
..... the cinema.

- A) in front of / on
B) behind / into
C) next to / opposite
D) between / around

15

Verilen şekle göre boş bırakılan yere uygun düşen seçeneği işaretleyiniz.



A: Is there a museum near here?

B:

- A) Take the first right and go straight. Cross the East Street. It's on your left
B) Go up this street. Take the first left. It's on your left
C) Go straight ahead. Pass the hospital. It's on your right, next to the post office
D) Go straight ahead. Cross East Street. It's on your left, opposite the library

13

Verilen resme göre boş bırakılan yere uygun düşen seçeneği işaretleyiniz.



The theatre is the bookshop and the hotel.

- A) on
B) between
C) behind
D) in front of

16

Where is Mrs. Brown?



- A) She's at the market.
B) She's at the bookshop.
C) She's at the café.
D) She's at the park.

ADI:

SOYADI:

SINIFI:

17

Tabloda boş bırakılan yere uygun düşen seçeneği işaretleyiniz.



supermarket



post office



stationery



- A) library B) pharmacy
C) toy shop D) bakery

19

Verilen şekli dikkate alarak boş bırakılan yere uygun düşen seçeneği işaretleyiniz.



- A: ?
B: Go straight ahead and take the first left and go straight. Go past the theatre. It is on the right.
A) How can I go to the bookshop, please
B) Excuse me? Is there a cafe near here
C) How can I get to the museum, please
D) Where is the cinema, please

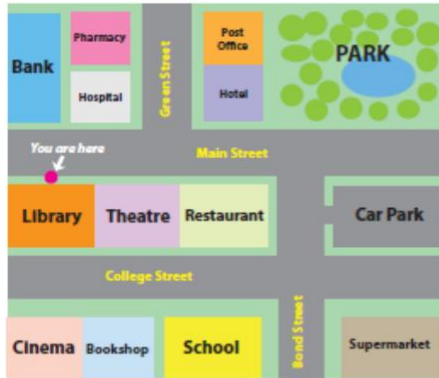
20

Diyalogda boş bırakılan yere uygun düşen seçeneği işaretleyiniz.

- A: Is there a bank near here?
B: Yes, there is. It's on Pink Street.
A) You're welcome.
B) Thank you very much.
C) Of course.
D) Excuse me!

18

Verilen şekle göre boş bırakılan yerlere uygun düşen seçeneği işaretleyiniz.




- A: Excuse me, how can I go to the bookshop?
B:
A) Go straight ahead and take the first right. Go past the restaurant and turn right into College Street. It's on your left between the cinema and the school
B) Go straight ahead and take the first left. Then cross the Green Street. It's on your right
C) Take the first right and go straight. Cross the Bond Street. It's near the theatre
D) Go straight ahead and go past the restaurant. It's on your left, next to the school

Başarılar. 😊
İyi tatiller

ADI:

SOYADI:

SINIFI:

SORU	MATEMATİK TESTİ SORULARI
1	$40 + 60 = 100$ $6 + 5 = 11$ $100 + 11 = 111$ <p>Yukarıda verilen işlem hangi iki sayının zihinden toplama yöntemiyle toplanmasına aittir?</p> <p>A) 40 + 65 B) 46 + 60 C) 45 + 64 D) 46 + 65</p>
2	$43 + 10 = 53$ $53 + 10 = 63$ $63 + 10 = 73$ $73 + 4 = 77$ <p>Yukarıda verilen zihinden toplama yöntemine göre, hangi iki sayı toplanmıştır?</p> <p>A) 42 ile 35 B) 47 ile 30 C) 43 ile 34 D) 60 ile 17</p>
3	 <p>Necati</p> $73 + 15 = 88$ $700 + 88 = 788$ <p>Necati hangi iki sayıyı zihinden toplamıştır?</p> <p>A) 700 ile 88 B) 773 ile 15 C) 715 ile 88 D) 700 ile 73</p>
4	$76 - 10 = 66$ $66 - 10 = 56$ $56 - 10 = 46$ $46 - 4 = 42$ <p>Verilen zihinden çıkarma işlemi aşağıdakilerden hangisine aittir?</p> <p>A) 76 - 30 B) 76 - 34 C) 76 - 42 D) 76 - 44</p>

5	$82 + 8 = 90$ $52 + 8 = 60$ $\begin{array}{r} 52 \\ + 8 \\ \hline 60 \end{array}$ <p>Verilen zihinden çıkarma işlemi aşağıdakilerden hangisine aittir?</p> <p>A) 90 - 60 B) 82 - 60 C) 82 - 52 D) 92 - 52</p>
6	$89 - 34$ <p>işlemini onar onar eksiltme yöntemiyle zihinden yapan Ali, aşağıdaki işlemlerden hangisini yapmıştır?</p> <p>A) 90 - 30 - 1 - 4 = 55 B) 80 - 30 + 9 - 4 = 55 C) 89 - 4 - 30 = 55 D) 89 - 10 - 10 - 10 - 4 = 55</p>
7	<p>Fuat, bayramda annesinden 34 lira babasından 57 lira harçlık almıştır. Fuat harçlığının toplam kaç lira olduğunu zihinden aşağıdaki biçimde bulmuştur.</p> $57 + 34 = 57 + 10 + 10 + 10 + 4$ $= 67 + 10 + 10 + 4$ $= 77 + 10 + 4$ $= 87 + 4$ $= 91$ <p>Buna göre, Fuat'ın kullandığı yöntem aşağıdakilerden hangisidir?</p> <p>A) Onlukları birlikleri ayırarak ekleme B) Üzerine sayma (onları topla birleri topla) C) 10'u referans alarak parçalama D) Kolay toplanan sayılardan başlama</p>
8	<p>Ali pazartesi matematikten 36, İngilizceden 24 soru çözmüştür. Ali, çözdüğü soru sayısını zihinden hesaplamak için onlukları ve birlikleri ayırarak ekleme yöntemini kullanmıştır.</p> <p>Buna göre, aşağıdaki işlemlerden hangisi bu yönteme uygundur?</p> <p>A) 36 + 24 = 36 + 10 + 10 + 4 = 60 B) 36 + 24 = 40 + 4 + 20 + 4 = 40 + 20 = 60 C) 36 + 24 = 40 - 4 + 20 + 4 = 40 + 20 = 60 D) 36 + 24 = 30 + 6 + 20 + 4 = 30 + 20 + 6 + 4</p>

ADI: SOYADI:

Merve' nin kumbarasına attığı paralar günlere göre tabloda verilmiştir. Merve paralarını zihinden şu şekilde toplamıştır.

$$\begin{array}{l} \text{37 + 42 + 13 + 28} = \boxed{37 + 13} + \boxed{42 + 28} \\ \text{50 + 70} \\ \text{120} \end{array}$$

A) Üzerine sayma
B) Kolay toplananları grupla, topla ve üzerine ekle
C) 10'u referans alarak parçalama
D) Onlukları birlikleri ayırarak ekleme

10

A) 9856 B) 9586
C) 9685 D) 9658

11

A) 72 B) 48 C) 15 D) 0

12

A) 9600 B) 8320
C) 7042 D) 6035

13

A) 9 B) 15 C) 18 D) 21

D)
$$\begin{array}{r} 115 \\ \times 13 \\ \hline \end{array}$$

15

A) 13 B) 9 C) 5 D) 4



A) 3348 B) 2232
C) 1516 D) 1116

ADI:

SOYADI:

SINIFI:


17	<p>$12 \times 28 = A$ $A \times 13 = B$ olduđuna göre $B - A$ kaçtır?</p> <p>A) 5042 B) 4082 C) 4032 D) 4022</p>
18	<p>2512×742 çarpımının sonucu kaç bölüklüdü?</p> <p>A) 4 B) 3 C) 2 D) 1</p>
19	<p>Bir sinema salonunda 23 sıra ve her sırada 34 koltuk vardır.</p> <p>Buna göre, salon tam olduđunda salonda kaç kiři olur?</p> <p>A) 782 B) 642 C) 532 D) 482</p>









Başarılar. 😊
İyi tatiller

ADI:

SOYADI:





SINIFI:

SORU	SOSYAL BİLGİLER TESTİ SORULARI
1	 <p>Tekerleği bularak ulaşımda önemli gelişmelerin yaşanmasını sağlayan medeniyet aşağıdakilerden hangisidir?</p> <p>A) Sümerler B) Frigler C) Lidyalılar D) İyonlar</p>
2	<p>I. Otomobil II. Otobüs III. Bisiklet</p> <p>Yukarıda verilenlerden hangileri tekerleğin icadından etkilenmiştir?</p> <p>A) Yalnız I. B) Yalnız II. C) I ve II. D) I, II ve III.</p>
3	<p>İlk Çağ uygarlıklarının yerleşik hayata geçmesi birçok önemli olayın yaşanmasına neden olmuştur.</p> <p>İlk Çağ uygarlıkları ilk defa aşağıdaki yerlerin hangisinde yerleşik hayata geçmiştir?</p> <p>A) Mağaralar B) Su kenarları C) Yüksek dağlar D) Ağaçlar</p>
4	<p>Aşağıdakilerden hangisi İlk Çağ uygarlıklarının özellikleri arasında <u>yer almaz</u>?</p> <p>A) Tarım önemli geçim kaynaklarıdır. B) Köyler inşa etmişlerdir. C) Şehir hayatı gelişmiştir. D) Krallıkla yönetilmişlerdir.</p>
5	<ul style="list-style-type: none"> • İlk Çağ • Orta Çağ • Yeni Çağ • Yakın Çağ <p>Verilen çağları başlatan olay aşağıdakilerden hangisidir?</p> <p>A) Yazının icadı B) Tekerleğin icadı C) Paranın icadı D) Takvimin icadı</p>

6	<p>Aşağıdaki öğrencilerden hangisi Anadolu medeniyetlerine <u>yanlış</u> bir örnek vermiştir?</p> <p>A)  Hititler B)  Frigler C)  Lidyalılar D)  Sümerler</p>
7	<p>İlk Çağ'ı başlatan ve bitiren olayları aşağıdaki öğrencilerden hangisi doğru söylemiştir?</p> <p>A)  Kavimler Göçü - Fransız İhtilali B)  Yazının icadı - Kavimler Göçü C)  Fransız İhtilali - İstanbul'un Fethi D)  İstanbul'un Fethi - Bilgisayarın icadı</p>
8	<p>Tarihî çağları başlatan olay ----'nın icadıdır.</p> <p>Cümlede boş bırakılan yere aşağıdakilerin hangisi getirilmelidir?</p> <p>A) yazının B) tekerleğin C) paranın D) takasın</p>
9	<p>Tarihin çağlara bölünmesinin nedeni aşağıdakilerden hangisidir?</p> <p>A) Tarihî bilgilerin ezberlenmesini sağlamak B) Yapılan bütün buluşları tek bir kitapta toplamak C) Tarihin öğrenilmesini kolaylaştırmak D) Tarihî eserlerin sayısını azaltmak</p>

ADI: SOYADI: SINIFI:

10	<p>Yazının icadı tarihte önemli bir yere sahiptir.</p> <p>Yazıyı icat eden medeniyet aşağıdakilerden hangisidir?</p> <p>A) Babiller B) Sümerler C) Asurlular D) Frigler</p>
11	<p>Tarihte önemli olaylar farklı isimlerle anılırlar.</p> <p>Hız. İsa'nın doğumu aşağıdakilerden hangisi ile anılmaktadır?</p> <p>A) Milat B) Çağ C) Devir D) Dönem</p>
12	<p>Yazının kullanılmasından önceki dönemlere ---- denir.</p> <p>Cümlede boş bırakılan yere aşağıdakilerden hangisi getirilmelidir?</p> <p>A) Tarih öncesi devirler B) Tarihî devirler C) Milattan önce D) Milattan sonra</p>
13	<p>Yazının kullanılmasından sonraki dönemlere ---- denir.</p> <p>Cümlede boş bırakılan yere getirilmesi gereken doğru ifade aşağıdakilerden hangisidir?</p> <p>A) Tarih öncesi devirler B) Milattan önce C) Milattan sonra D) Tarihî devirler</p>
14	<p>Ramazan ve Kurban bayramlarının tarihlerini belirlememizi sağlayan Ay yılı esaslı takvimi bulan medeniyet aşağıdakilerden hangisidir?</p> <p>A) Urartular B) Babiller C) Sümerler D) Akadlar</p>
15	<p>Hız. İsa'nın doğumu sıfır olarak kabul edilir.</p> <p>Tarihte Hız. İsa'nın doğumundan önceki yıllara verilen isim aşağıdakilerden hangisidir?</p> <p>A) Tarihî devirler B) Milattan önce C) Milattan sonra D) Tarih öncesi devirler</p>

16	<p>Tarihte Hız. İsa'nın doğumundan sonraki yıllara verilen isim aşağıdakilerden hangisidir?</p> <p>A) Orta Çağ B) Milattan sonra C) Milattan önce D) Tarihî devirler</p>
17	<p>Ziggurat adlı tapınakları inşa eden medeniyeti aşağıdaki öğrencilerden hangisi doğru söylemiştir?</p> <p>A)  Asurlular B)  Frigler C)  Lidyalılar D)  Sümerler</p>
18	<ul style="list-style-type: none"> Asma bahçeleri dünyaca ünlüdür. Hammurabi kuralları vardır. <p>Buna göre, özellikleri verilen medeniyet aşağıdakilerden hangisidir?</p> <p>A) Babiller B) Asurlular C) Mısırlılar D) Hititler</p>
19	<p>I. İmparatorluk kurmuşlardır. II. Gelişmiş orduları vardır. III. Yazıyı icat etmişlerdir. IV. Su kanalları icat etmişlerdir.</p> <p>Asurlular hakkında verilen bilgilerden hangisi <u>yanlıştır</u>?</p> <p>A) I. B) II. C) III. D) IV.</p>
20	<p>I. Akadlar II. Babiller III. İyonlar IV. Asurlular</p> <p>Yukarıda verilen medeniyetlerden hangisi Mezopotamya'da <u>kurulmamıştır</u>?</p> <p>A) I. B) II. C) III. D) IV.</p>

Başarılar. 😊
İyi tatiller

ADI:

SOYADI:

SINIFI:

SORU	DİN KÜLTÜRÜ VE AHLAK BİLGİSİ TESTİ SORULARI
1	<p>Aşağıdakilerden hangisi evrendeki ölçü ve düzeni korumak için yapılması gerekenlerden biri <u>değildir</u>?</p> <p>A) Ekinlere zarar veren farelerin neslinin yok edilmesi</p> <p>B) Denizlerin kirlenmesinin önüne geçilmesi</p> <p>C) Yaşadığımız yerin ağaçlandırılmasına destek verilmesi</p> <p>D) Soluduğumuz havanın temiz kalması için tedbir alınması</p>
2	<p>"Göklerin ve yerin mülkü O'nundur. O bir çocuk edinmemiştir, mülkünde ortağı yoktur. Her şeyi yaratmış, ona ölçü, biçim ve düzen vermiştir." (Furkan suresi, 2. ayet)</p> <p>Bu ayetten aşağıdakilerden hangisi <u>çıkarılamaz</u>?</p> <p>A) Her şeyin sahibi Allah'tır.</p> <p>B) Her şeyi yaratan Allah'tır.</p> <p>C) Bir ve tek olan Allah'tır.</p> <p>D) Peygamberleri gönderen Allah'tır.</p>
3	<p>Evren, üzerinde yaşadığımız Dünya ile tüm yıldız ve gezegenleri içine alan varlıklar bütünüdür. Evrendeki her şey, belli bir düzen içinde varlığını sürdürür. Gece ile gündüz sürekli olarak birbirini takip eder. Mevsimler bir düzen içinde art arda gelir. Yağmurun, karın, dolunun yağması bir düzen içinde olur. Evrende mükemmel bir düzen ve işleyiş vardır.</p> <p>Bu metne göre aşağıdakilerden hangisi <u>söylenemez</u>?</p> <p>A) Evrenin kendisi Allah'ın varlığına işaret eder.</p> <p>B) Evrendeki düzenli işleyiş yaratıcının birliğini gösterir.</p> <p>C) Evrenin kendisi olağanüstü özelliklere sahiptir.</p> <p>D) Evrendeki her şey uyum ve ölçülüdür.</p>
4	<p>"Eğer yerde ve gökte Allah'tan başka tanrılar bulunsaydı yer ve gök (bunların nizamı) kesinlikle bozulup gitmişti." (Enbiyâ suresi, 22 ayet.)</p> <p>Bu ayete göre Allah ile ilgili olarak aşağıdakilerden hangisi vurgulanmaktadır?</p> <p>A) Var ve bir olduğu</p> <p>B) Her şeyden haberdar olduğu</p> <p>C) Merhametli ve şefkatli olduğu</p> <p>D) İnsanı ve cinleri yaratan olduğu</p>

5	<p>Büşra: "Kim, Allah'a, meleklerine, peygamberlerine, Cebrail'e ve Mikail'e düşman olursa bilsin ki Allah da inkârcı kafirlerin düşmanıdır." (Bakara suresi, 98. ayet)</p> <p>Metin: "İlahınız bir tek Allah'tır. O'ndan başka ilah yoktur. O, rahmandır, rahimdir." (Bakara suresi, 163. ayet)</p> <p>Ömer: "De ki: O, Allah birdir. Allah sameddir. O, doğurmamış ve doğmamıştır. Onun hiçbir dengi yoktur." (İhlas suresi, 1-4. ayetler)</p> <p>Merve: "Eğer yerde ve gökte Allah'tan başka tanrılar bulunsaydı yer ve gök (bunların nizamı) kesinlikle bozulup gitmişti." (Enbiyâ suresi, 22 ayet)</p> <p>Öğrencilerin söylediği ayetler konu bakımından gruplandırılırsa hangi öğrenci dışarda kalır?</p> <p>A) Büşra C) Ömer</p> <p>B) Metin D) Merve</p>
6	<p>Öğretmen: "Eğer yerde ve gökte Allah'tan başka ilahlar olsaydı ne olurdu?"</p> <p>Aslı: "Her şey daha güzel olurdu."</p> <p>Cemil: "Allah'ın işi kolaylaşırdı."</p> <p>Derya: "Her şeyin düzeni bozulurdu."</p> <p>İbrahim: "İlahlar görev paylaşımı yapardı."</p> <p>Öğretmenin sorusuna doğru cevap veren öğrenci aşağıdakilerden hangisidir?</p> <p>A) Aslı C) Derya</p> <p>B) Cemil D) İbrahim</p>

ADI: SOYADI: SINIFI:

7	<p>Şu sonsuz göklere bak: Milyarlarca yıldız var; Bir yörünge üstünde, Şaşmadan dolanırlar.</p> <p>Başka tanrı olsaydı Bu düzen sağlanmazdı Göklerin düzeni tek Kanuna bağlanmazdı.</p> <p>Birinin yaptığını, Bir diğeri bozardı. Biri birine küser, Bazen belki kızardı.</p> <p>Bu kızgınlık anında, Düzen altüst olurdu. Kâinattaki düzen, Durmadan bozulurdu.</p> <p>Oysa ki biz eminiz, Allah birdir ve tektir. Kullar bunu bilerek İbadet edecektir.</p> <p>Ahmet Mahir PEKŞEN</p> <p>Bu şiirin ana düşüncesi aşağıdakilerden hangisidir?</p> <p>A) İbadetlerin zamanında yapılması B) Evrendeki düzenin bir yaratıcı tarafından yapılması C) Evrendeki işleyişin sürekli bozulması D) Gökyüzünde pek çok gezegenin olması</p>
8	<p>Allah'ın var ve bir olmasını ifade eden ve İslam inancının temelini oluşturan kavram aşağıdakilerden hangisidir?</p> <p>A) Tevekkül B) Teslimiyet C) Tevhit D) Takva</p>

9	<p>Evrendeki mükemmel düzen ve uyum her varlığın Allah tarafından belli bir plana göre yaratıldığını gösterir. Evrendeki düzen, milyonlarca yıldır bozulmadan devam etmektedir. Evrendeki düzen, Yüce Allah'ın var ve bir olduğunun delilidir.</p> <p>Aşağıdakilerden hangisi Allah'ın var ve bir olmasının delilleri arasında <u>sayılmaz</u>?</p> <p>A) Mevsimlerin art arda gelmesi B) Gece ile gündüzün birbirini takip etmesi C) Yağmurun ve karın yağması D) İnsanların medeniyetler kurması</p>
10	<p>"De ki: O, Allah birdir. Allah sameddir. O, doğurmamış ve doğmamıştır. Onun hiçbir dengi yoktur."</p> <p>(İhlas suresi, 1-4. ayetler)</p> <p>İhlas suresinde Allah'a ait sıfatlardan hangisi <u>yer almaz</u>?</p> <p>A) Allah'ın her şeyi işitmesi B) Allah'ın bir olması C) Allah'ın ezeli olması D) Allah'ın hiçbir şeye benzememesi</p>
11	<p>Ayşe, bir gün okulda din kültürü ve ahlak bilgisi dersinde öğretmenine, "Allah'ın bir olduğunu nasıl anlarız?" diye bir soru sormuştur.</p> <p>Öğretmenin bu soruya verdiği cevap aşağıdakilerden hangisi olmalıdır?</p> <p>A) Bu tür soruları sormak inancımızı tehlikeye düşürür. B) İnanmak yeterlidir, bu tür soruların cevabı olmaz. C) Birden çok ilah olsaydı evrendeki düzen bozulurdu. D) Çocukların bu tür soruları anlaması mümkün değildir.</p>
12	<p>Aşağıdakilerden hangisi Allah'ın her şeyi bildiğine ve gördüğüne inanan bir kişinin davranışı <u>olamaz</u>?</p> <p>A) Kötü davranışlardan kaçınır. B) Zararlı alışkanlıklardan uzak durur. C) İmtihanda arkadaşını kâğıdına bakmaktan çekinmez. D) Yalnız kaldığında günah işlemekten korkar.</p>

ADI:

SOYADI:

SINIFI:

13	<p>Allah'ın her şeyi görmesini ifade eden kavram aşağıdakilerden hangisidir?</p> <p>A) İlim B) Basar C) Samed D) Semi</p>
14	<p>"Eğer yerde ve gökte Allah'tan başka tanrılar olsaydı" diye düşünen bir kişinin ulaşacağı en anlamlı ve doğru sonuç aşağıdakilerden hangisidir?</p> <p>A) İş bölümü yaparlardı. B) İnsanlar için daha iyi olurdu. C) Her şeyin düzeni bozulurdu. D) Her bir tanrının iş yükü hafiflerdi.</p>
15	<p>"Eğer yerde ve gökte Allah'tan başka tanrılar bulunsaydı yer ve gök (bunların nizamı) kesinlikle bozulup gitmişti. Demek ki arşın Rabbi olan Allah, onların yakıştırdıkları sıfatlardan münezzehtir." (Enbiyâ suresi, 22. ayet)</p> <p>Bu ayette aşağıdakilerden hangisi vurgulanmaktadır?</p> <p>A) Allah'ın birliği B) Allah'ın merhameti C) Allah'ın ilmi D) Allah'ın sıfatları</p>
16	<p>"Yeryüzünde birbirine komşu kıtalar, üzüm bağları, ekinler, bir kökten ve çeşitli köklerden dallanmış hurma ağaçları vardır. Bunların hepsi aynı su ile sulanır. Böyle iken onlara birbirinden farklı renkler ve lezzetler veririz. İşte bunlarda akıllarını kullanan bir toplum için ibretler vardır." (Râd suresi, 4. ayet)</p> <p>Bu ayette vurgulanan ana düşünce aşağıdakilerden hangisidir?</p> <p>A) Allah'ın varlığı B) Allah'ın merhameti C) Allah'ın her şeyi bilmesi D) Allah'ın doğmamış ve doğurmamış olması</p>
17	<p>Yapılanların Allah tarafından karşılıksız kalmayacağına inanan bir kişinin davranışı aşağıdakilerden hangisi <u>olamaz</u>?</p> <p>A) Faydalı ve güzel işler yapması B) Gayret göstermeden duaya sarılması C) Sorumluluklarını yerine getirmesi D) Büyüklere saygılı davranması</p>


18	<p>Allah'ın her şeyi bilmesini ifade eden kavram aşağıdakilerden hangisidir?</p> <p>A) İlim B) Semi C) Kudret D) Tekvin</p>
19	<p>Allah'ın bir olmasını aşağıdaki ifadelerden hangisi <u>en iyi</u> açıklamaktadır?</p> <p>A) Eşi ve benzerinin olmaması B) Ortağının olmaması C) Bir aileye sahip olmaması D) Hiçbir şeye ihtiyaç duymaması</p>
20	<p>"...O, karada ve denizde ne varsa bilir, onun ilmi dışında bir yaprak bile düşmez. O, yerin karanlıkları içindeki tek bir taneyi dahi bilir..." (En'âm suresi, 59. ayet)</p> <p>Bu ayette Allah'ın sıfatlarından hangisi vurgulanmıştır?</p> <p>A) Basar B) İlim C) Semi D) Hayat</p>




Başarılar.
İyi tatiller 😊

ADI:












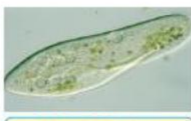

SOYADI:

SINIFI:

SORU	FEN BİLİMLERİ TESTİ SORULARI															
1	<p>Güneş ile ilgili aşağıdaki ifadelerden hangisi yanlıştır?</p> <p>A) Güneş orta büyüklükte bir yıldızdır.</p> <p>B) Dünya hem kendi etrafında hem de Güneş'in etrafında döner.</p> <p>C) Güneş ile Dünya aynı büyüklüktedir.</p> <p>D) Güneş'in merkezindeki sıcaklık, yüzeyindeki sıcaklıktan fazladır.</p>															
2	<p>▲ , kendi etrafında dönüşünü 24 saatte tamamlar. Bu dönüş sayesinde ■ oluşur.</p> <p>★ , kendi etrafında dönüşü Dünya'nın kendi etrafında dönüş süresine eşittir.</p> <p>Yukarıdaki paragrafta ▲ , ■ ve ★ ile gösterilen boşluklara aşağıdakilerden hangisi getirilmelidir?</p> <table><tr><td>▲</td><td>■</td><td>★</td></tr><tr><td>A) Dünya</td><td>Ay</td><td>Gece - Gündüz</td></tr><tr><td>B) Ay</td><td>Mevsimler</td><td>Dünya</td></tr><tr><td>C) Dünya</td><td>Gece - Gündüz</td><td>Ay</td></tr><tr><td>D) Ay</td><td>Gece - Gündüz</td><td>Güneş</td></tr></table>	▲	■	★	A) Dünya	Ay	Gece - Gündüz	B) Ay	Mevsimler	Dünya	C) Dünya	Gece - Gündüz	Ay	D) Ay	Gece - Gündüz	Güneş
▲	■	★														
A) Dünya	Ay	Gece - Gündüz														
B) Ay	Mevsimler	Dünya														
C) Dünya	Gece - Gündüz	Ay														
D) Ay	Gece - Gündüz	Güneş														
3	<p>Güneş, Dünya ve Ay ile ilgili,</p> <p>I. En büyük olanı Güneş, en küçük olanı ise Ay'dır.</p> <p>II. Üçünün şeklide birbirine benzemez.</p> <p>III. Güneş ve Ay'ın Dünya'ya olan uzaklıkları eşittir.</p> <p>İfadelerinden hangileri yanlıştır?</p> <p>A) Yalnız I. B) Yalnız III.</p> <p>C) I ve II. D) II ve III.</p>															
4	 <p>Ay'ın yüzeyine ilk ayak basan Neil Armstrong'un ayda ayak izleri hâlâ ilk günkü gibi durmaktadır.</p> <p>Bunun nedeni aşağıdakilerden hangisinde doğru verilmiştir?</p> <p>A) Ay'ın yüzeyindeki kum yapısından kaynaklanır.</p> <p>B) Atmosfer bulunmadığı için hava olayları gözlenmez.</p> <p>C) Ayak izi koruma altına alınmıştır.</p> <p>D) Ayak izi üzerine alçı dökülmüştür.</p>															

5	<p>Güneş enerjisi ile ilgili olarak aşağıdakilerden hangisi söylenemez?</p> <p>A) Yeryüzüne ışınlarla ulaşır.</p> <p>B) Bir çok enerjinin kaynağıdır.</p> <p>C) Bitkiler besin üretirken kullanır.</p> <p>D) Demir ve bakır gibi madenlerin oluşmasını sağlar.</p>								
6	<p>I. Güneş hem kendi eksenini etrafında döner hem de Dünyanın etrafında dolanır.</p> <p>II. Kendi eksenini etrafında doğudan batıya doğru döner.</p> <p>III. Güneş, Dünya etrafında dönüşünü 30 günde tamamlar.</p> <p>Buna göre yukarıdakilerden hangileri yanlıştır?</p> <p>A) Yalnız I. B) Yalnız II.</p> <p>C) I ve II. D) I, II ve III.</p>								
7	<div style="border: 1px solid blue; padding: 5px; margin-bottom: 10px;"> <ul style="list-style-type: none"> • Türk matematikçi ve gök bilimcidir. • Gerçeğe en yakın hâliyle Ay'ın ilk haritasını çizen bilim insanıdır. • Çeşitli Güneş saatleri yapmıştır. • İstanbul'un enlem ve boylamını ölçmüştür. • Fatih Sultan Mehmet'in davetiyle Ayasofya müzesinde eğitmen olarak görev yapmıştır. </div> <p>Aslı'nın yaptığı çalışmalarını yazdığı Ünlü Türk gök bilimcisi aşağıdakilerden hangisidir?</p> <table border="0"> <tr> <td>A) </td><td>B) </td></tr> <tr> <td>Biruni</td><td>Ali Kuşçu</td></tr> <tr> <td>C) </td><td>D) </td></tr> <tr> <td>Evliya Çelebi</td><td>İbni - Sina</td></tr> </table>	A) 	B) 	Biruni	Ali Kuşçu	C) 	D) 	Evliya Çelebi	İbni - Sina
A) 	B) 								
Biruni	Ali Kuşçu								
C) 	D) 								
Evliya Çelebi	İbni - Sina								
8	<p>Mikroskopik canlılar ile ilgili aşağıdakilerden hangisi yanlıştır?</p> <p>A) Bütün çeşitleri faydalıdır.</p> <p>B) Toprakta, suda, besinlerin üzerinde, vücudumuzda yaşayabilirler.</p> <p>C) Besinlerin üzerinde çoğalarak bozulmalara neden olabilirler.</p> <p>D) Sadece mikroskopla görülebilirler.</p>								

ADI: SOYADI: SINIFI:

9	 <p>29 gün boyunca Ay'ı gözlemlediğimizde Ay'ın görüntüsünün günden güne değiştiğini görürüz. Bu değişim her ay devam eder.</p> <p>Yukarıda açıklaması ve resimleri verilen durum aşağıdakilerden hangisinin sonucu oluşur?</p> <p>A) Dünya'nın kendi etrafında dönmesi B) Dünya'nın Güneş etrafında dönmesi C) Ay'ın Dünya etrafında dönmesi D) Ay'ın kendi etrafında dönmesi</p>	<p>Bakteriler ile ilgili aşağıdaki öğrencilerden hangisinin verdiği bilgi yanlıştır?</p> <p>A)  Çok soğuk olan buzullarda yaşayabilirler.</p> <p>B)  Çok sıcak olan kaplıcalarda yaşayabilirler.</p> <p>C)  Atıkların bol bulunduğu yerlerde yaşayabilirler.</p> <p>D)  Bütün bakteriler zararlıdır.</p>
10	<p>400 yıl önce kendi icadım olan teleskopla kâğıt üzerine düşürdüğüm Güneş lekelerini gözlemledim. Belirli zaman aralıklarıyla yaptığım gözlemlerimde Güneş'in belirli bir yöne doğru hareket ettiğini gözlemledim.</p> <p>Elif, fen bilimleri dersinde bilim insanları ve onların yaptıkları çalışmalar ile ilgili poster çalışması yapmaktadır. Bunun için Elif yukarıda verilen bilgileri hangi bilim insanı resminin altına yerleştirmelidir?</p> <p>A)  Einstein</p> <p>B)  Archimedes</p> <p>C)  Aristo</p> <p>D)  Galileo</p>	<p>Aşağıdakilerden hangisi mikroskopik bir canlı değildir?</p> <p>A)  Öglena</p> <p>B)  Amip</p> <p>C)  Terliksi Hayvan</p> <p>D)  Karıncalar</p> <p>Aşağıdaki seçeneklerden hangisi mikroskopik canlıların zararlı etkilerinden değildir?</p> <p>A) Besinlerin küflenmesi B) Besinlerin temizlenmesi C) Besinlerin mayalanması D) Mikroskopik hastalıklar</p>
11	<p>Mikroskopik canlılar ile ilgili,</p> <p>I. En basit yapılı olanlarına bakteri denir. II. Çok soğuk ve çok sıcak ortamlarda yaşayabilirler. III. Hava ile çok uzak mesafelere yayılabilirler.</p> <p>İfadelerinden hangileri doğrudur?</p> <p>A) I ve II. B) II ve III. C) I ve III. D) I, II ve III.</p>	<p>Aşağıdaki canlılardan hangisini gözlemleyebilmek için mikroskoba ihtiyaç yoktur?</p> <p>A) Sıtma mikrobi B) Amip C) Şapkalı mantar D) Öglena</p>

ADI:

SOYADI:

SINIFI:

16	<p>I. Sütten peynir yapımı II. Canlı kalıntıların çürütme III. Hastalıklara sebep olma</p> <p>Yukarıdakilerden hangileri mikroskopik canlıların yararlarındandır?</p> <p>A) I ve II. B) I ve III. C) II ve III. D) I, II ve III.</p>
17	<p>Mikroskopik canlılar, tek hücreli ve çok hücreli mikroskopik canlılar olmak üzere ikiye ayrılır. Bakteri, amip, öglena ve paramezyum gibi canlılar tek hücreli mikroskopik canlılara örnektir. Mikroskopik canlıların en çok bilineni tek hücreli olan bakterilerdir.</p> <p>Aşağıda bakteriler hakkında verilen bilgilerden hangisi yanlıştır?</p> <p>A) Bakteriler yararlı ve zararlı bakteriler olmak üzere ikiye ayrılır. B) Bakteriler dünyadaki atık maddelerin yok olmasına etki etmez. C) Zararlı bakteriler besinlerin bozulmasına neden olur. D) Yararlı bakteriler sütten yoğurt, peyniri üzüm-den sirke yapılmasını sağlar.</p>
18	<p>Aşağıdakilerden hangisi mikroskopik canlıların sebep olduğu hastalıklardan biri değildir?</p> <p>A) Tifo B) Verem C) Kolera D) Böbrek Taşı</p>
19	<p>Mikroskopik canlılar tarafından parçalanıp toprağa karıştırılmayan madde aşağıdakilerden hangisidir?</p> <p>A) Hayvan kalıntıları B) Plastik C) Bitki kalıntıları D) Yemek atıkları</p>

20	<div style="display: flex; flex-wrap: wrap; justify-content: space-around;"> <div style="border: 1px solid blue; border-radius: 10px; padding: 10px; margin: 5px;">1 Kolera</div> <div style="border: 1px solid blue; border-radius: 10px; padding: 10px; margin: 5px;">2 Verem</div> <div style="border: 1px solid blue; border-radius: 10px; padding: 10px; margin: 5px;">3 Sıtma</div> <div style="border: 1px solid blue; border-radius: 10px; padding: 10px; margin: 5px;">4 Zatiire</div> </div> <p>Yukarıda numaralandırılarak verilen hastalıklardan hangilerine mikroskopik canlılar neden olur?</p> <p>A) 1 ve 2. B) 3 ve 4. C) 1, 2 ve 3. D) 1, 2, 3 ve 4.</p>
----	--

Başarılar.
iyi tatiller 😊

ADI:

SOYADI:

SINIFI:

SORU	TÜRKÇE TESTİ SORULARI
1	<p>Malzemeler</p> <ul style="list-style-type: none"> • 1 dilim ekmek • 1 muz • 5 badem • 2 yemek kaşığı tahin • 2 yemek kaşığı pekmez • 1 yemek kaşığı kakao <p>Aşağıdaki tariflerden hangisi bu malzeme listesinin tümü kullanılarak oluşturulmuştur?</p> <p>A) Tahin, bal ve kakaoyu bir kâsede iyice karıştırın. Krema kıvamına geldiğinde bir bıçakla ekmeğin üzerine sürün. Muzu küçük küçük doğrayıp ekmeğin üzerine yerleştirin. Bademleri ise muzların üstüne dik olarak koyun. Tatlıınız hazır, afiyet olsun.</p> <p>B) Tahin, pekmez ve kakaoyu bir kâsede iyice karıştırın. Krema kıvamına geldiğinde bir bıçakla ekmeğin üzerine sürün. Muzdan küçük parçalar kesin. Bunları da ekmeğin üzerine yerleştirin. İşte tatlıınız hazır, afiyet olsun.</p> <p>C) Tahin, pekmez ve kakaoyu bir kâsede iyice karıştırın. Krema kıvamına geldiğinde bir bıçakla bisküvilerin üzerine sürün. Muzu küçük parçalar hâlinde doğrayın ve kremanın üzerine yerleştirin. Bademleri de muzların üstüne dik olarak koyun. Tatlıınız hazır, afiyet olsun.</p> <p>D) Tahin, pekmez ve kakaoyu bir kâsede iyice karıştırın. Krema kıvamına gelince bir bıçakla ekmeğin üzerine sürün. Muzu küçük parçalar hâlinde kesin. Bunları kremanın üzerine yerleştirin. Bademleri de muzların üstüne dik olarak koyun. İşte tatlıınız hazır, afiyet olsun.</p>
2	<ul style="list-style-type: none"> • Müşterisi olmayıp boş oturmak • En zor koşullarda bile kazancını sağlamak • Bir kimseye, onu sinirlendirmeyecek biçimde davranmak <p>Aşağıdakilerin hangisinde bu açıklamalardan herhangi birini karşılayan bir deyim <u>kullanılmamıştır</u>?</p> <p>A) Ne kadar uğraşsam da ağzını bıçak açmıyordu.</p> <p>B) Tartışmalarda onun suyuna gitmeyi tercih ediyordu.</p> <p>C) Şehre geldiğinden beri ekmeğini taştan çıkarıyordu.</p> <p>D) Yaptığı indirimlere rağmen sinek avlıyordu.</p>
3	<p>Anagram, bir sözcükteki harflerin yerleri değiştirilerek elde edilen yeni sözcüktür. Örneğin "kitap-patik", "kete-teke" kelimeleri birbirinin anagramıdır.</p> <p>Bu bilgiye göre aşağıdaki cümlelerin hangisinde birbirinin anagramı olan kelimeler <u>kullanılmamıştır</u>?</p> <p>A) Roman, bir orman köyünde yaşayanları anlatıyor.</p> <p>B) Çekiç, bahçedeki çiçek tohumlarının yanındaydı.</p> <p>C) Çırak, doğal gaz borusunda kaçak olduğunu söyledi.</p> <p>D) Ne güzeldi mektep yıllarında o yolları tepmek!</p>
4	<p>Fırsatların elden kaçırılmasından duyulan pişmanlığa "hayıflanma" denir.</p> <p>Buna göre aşağıdaki cümlelerin hangisinde hayıflanma anlamı vardır?</p> <p>A) Borç almayı bildiği gibi borcunu zamanında ödemeyi de bilse keşke.</p> <p>B) Onu derinden etkileyeceğini tahmin etmeme rağmen tüm gerçekleri söyleyiverdim.</p> <p>C) Kitapları düzgün bir şekilde yerleştirseydin aradığını hemen bulurdun.</p> <p>D) Dünkü toplantıda çalışma düzeni ile ilgili fikirlerimizi açık açık dile getirmeliydik.</p>

ADI: SOYADI: SINIFI:

5

Anadolu, hayvan çeşitliliği açısından zengin bir coğrafya ancak geçmişte burada yaşayan birçok hayvan türünün nesli tükenmiş durumda. Asya fili, yaban öküzü, Anadolu parsı ve çita bunlardan yalnızca birkaçı. Bu durum dünya geneli için de geçerli. Dünyadaki hayvan çeşitliliğinin giderek azalmasının pek çok nedeni var. İklim değişikliği, doğal afetler vb. nedenler arasında ilk sırada insanoğlunun etkisi yer alıyor. Şehirleşme, doğal yaşam alanlarının tahrip edilmesi, kaçak ve aşırı avlanma ise insan kaynaklı nedenlerin en başta gelenleri.

Bu parçada aşağıdakilerin hangisine değnilmemiştir?

- A) Hayvan soylarının tükenmesinin iklim değişikliğine yol açtığına
- B) Anadolu'daki bazı hayvan türlerinin nesillerinin tükendiğine
- C) Dünyadaki hayvan çeşitliliğinin gün geçtikçe azaldığına
- D) İnsanların, hayvan türlerine zarar veren hatalı birçok eylemi olduğuna

6



Bu afiştten, söz konusu yarışmayla ilgili aşağıdaki bilgilerden hangisine ulaşılamaz?

- A) Kimlerin katılabileceğine
- B) Hangi alanlarda yapılacağına
- C) Kim tarafından düzenleneceğine
- D) Ne zaman sonuçlanacağına

ADI:

SOYADI:

SINIFI:

7


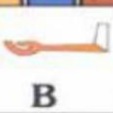










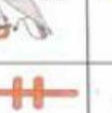










Doğal lifler, ip hâline getirilmeden önce eğirme işlemi gerçekleştirilir. Bu işlemin ilk aşamasında lifler uzunluk, çap, yoğunluk ve nem oranlarına göre gruplara ayrılır. Daha sonra taraklanarak düğümleri açılır ve birbirleriyle paralel konuma getirilir. Kısa olanlar ayıklandıktan sonra çekilip bükülerek ipe dönüştürülür.

Bu metne göre aşağıdakilerden hangisi "eğirme"nin tanımıdır?

- A) Kumaş, halı vb.nin kenarına makine ile zikzaklı dikiş yapmaktır.
 B) Yün, pamuk vb.ni iplik durumuna getirmektir.
 C) Tezgâhtaki ipliği kumaş hâline getirmektir.
 D) İplik, yün vb.ni birbirine geçirerek işlemektir.





8

Aşağıdaki tabloda Antik Mısır alfabesi ve bu alfabedeki sembollerin Türkçedeki karşılıkları verilmiştir.

• Antik Mısır alfabesinde kelimeler soldan sağa okunur.

"Her şeyi yaptı - - - - sonuç istediği gibi olmadı." cümlesinde boş bırakılan yere getirilebilecek en uygun sözcük aşağıdakilerin hangisinde Antik Mısır alfabesine göre doğru yazılmıştır?

- A)  B) 
 C)  D) 

9

- I. Fırında 1500 dereceye kadar ısıtılır.
 II. Kum, soda ve kireç fabrikada karıştırılarak fırınlara gönderilir.
 III. Ortalama 850 derecelik ideal işlenme sıcaklığına geldikten sonra işlenir.
 IV. Isıtılarak cam hâline gelen bu karışım, dinlendirme kanallarında soğutulur.

Numaralanmış cümleler olayların oluş sırasına göre aşağıdakilerin hangisinde doğru sıralanmıştır?

- A) I - III - IV - II B) I - IV - II - III C) II - I - IV - III D) II - III - I - IV

ADI:

SOYADI:

SINIFI:

10

Kişilerin, canları sıkıldığında kâğıt üzerine yaptığı çizimler, duygu ve düşüncelerini yansıtır. Bu çizimlerden bazılarının anlamı aşağıda verilmiştir.

Yıldız: Kendini geliştirme çabası içinde olduğunun,

Ağaç: Kişinin, yüksek bir egoya sahip olduğunun,

Rastgele çizgiler: İçinde bulunulan durumdan rahatsızlık duyulduğunun,

Üçgen: Mantiğini kullanmanın,

Daire: Sakin olma eğiliminin,

Çöp adam: Duyguların kontrol altına alındığının göstergesidir.

İş görüşmesi için sıra bekleyen Emir, kendisini çok tedirgin hissediyordu. Bir müddet sonra, yıllarca bu alanda çalışıp tecrübe kazandığını ve bu iş için en doğru kişilerden biri olduğunu düşünerek rahatladı.

Bu bilgilere göre Emir'in, iş görüşmesini beklerken aşağıdaki çizimlerden hangisini yapması beklenir?



11

Bir Minibüse Sığan Dil

Amazon Ormanları'nda yaşayan kabilelerden birine ait Arikapu dilini konuşanların tamamı bir minibüse sığabilir.

Yok Olma Tehlikesi

UNESCO verileri, dünyada yedi binin üzerinde farklı dil konuşulduğunu gösteriyor. Uzmanlara göre bu dillerin yarısı 21. yüzyılda yok olma tehlikesi altında.



30 Dile Sıkışan Dünya

Dünya nüfusunun yüzde 80'i Türkçenin de içinde bulunduğu otuz dili konuşuyor.

Çince Açık Ara Önde

En çok konuşulan dil, 1,2 milyar Çinlinin ana dili olan Çince'dir. Onun ardından İspanyolca, İngilizce, Hintçe ve Arapça geliyor.

En Zor Dil

Öğrenilmesi en zor dil, İspanya'nın kuzeyi ile Fransa'nın güneybatısında yaşayanların konuştuğu Baskçadır. Baskçanın dünya üzerinde konuşulan diğer dillerle hiçbir bağlantısı yoktur. Sözcük yapısı ve dağarcığı oldukça karışıktır.

Bu bilgilerden hareketle aşağıdakilerin hangisine ulaşılabilir?

- A) Türkçe en çok konuşulan dillerin başında gelir.
- B) Baskçanın kendine özgü bir yapısı vardır.
- C) Arikapu, dünyada konuşulan en eski dildir.
- D) Dünyada en çok konuşulan dil, en zengin dildir.

ADI:

SOYADI:

SINIFI:

Aşağıda bazı oyunlarla ilgili bilgiler verilmiştir.

Bahçedeki Midilli

Çocuklar el ele tutuşarak bir halka yaparlar. Midilli olan çocuk ortadadır. Çocuklarla midilli arasında şöyle bir konuşma geçer:

- Midilli, sen bahçemize nasıl girdin?
- İçeriye atladım.
- Nasıl çıkacaksın?
- İşte böyle!

Daha sonra midilli çeşitli deneyimler yaparak halkadakilerin kolları arasından halka dışına çıkmaya çalışır. Midilli dışarı çıkar çıkmaz oyuncu- lardan dördü midilliye yakalamaya çalışır. İlk yakala- yan, bir sonraki oyun için midilli olur.

Zıpçıktı Çiçek Açtı

Çocuklar halka biçiminde çömelir. Halkanın ortasında ayakta duran bir oyuncu "Zıpçıktı çiçek açtı!" diye bağınca halkadaki oyuncular hızla ayağa kalkar, kollarını yana açar ve yine çömelir. "Zıpçıktı çiçek açmadı." dediğinde ise mevcut durumlarını bozmamaları gerekir. "Zıpçıktı çiçek açtı!" denince çömelir ya da "Zıpçıktı çiçek açmadı!" denince ayağa kalkan çocuk yanmış olur ve oyun dışı kalır.

Çürük Yumurta

Çocuklar arasından bir ebe seçilir. Öteki çocuklar halka olup çömelerek ellerini dizleri önünde birleştirirler. Oyun başlayınca ebe, halkanın ortasında dolaşarak "Bu yumurta sağlam mı, çürük mü?" der ve bir arkadaşının başına, önden hafifçe iterek dokunur. Dokunulan çocuğun, dengede kalması gerekir. Dengesi bozulup geriye düşen ya da kenetli elleri çözülen çocuk yanmış olur ve oyun dışı kalır.

Mısır Patlatma

Çocuklar halka olup çömelir. Öğretmen "Çocuklar, sizinle mısır patlatacağız! Hepinizin elinde birer elek var. İçindeki mısırları önce ateşte ısıtalım." der. Çocuklar ateşte mısır patlatıyormuş gibi kollarını sağa sola sallamaya başlar. Bu sırada öğretmen "Pat!" deyince bütün çocuklar yerinden ileri sıçrar ve yine eski durumunu alır. Ancak öğretmen "Pat!" demeden sıçrayan olursa ona arkadaşlarının seçtiği bir ceza verilir.

Ali'nin, oynadığı oyunlarda yaşadıklarıyla ilgili bilinenler şunlardır:

- Ceza aldığı için bir arkadaşını sırtında taşımıştır.
- Yanlışlıkla ayağa kalktığı için yanmıştır.
- Arkadaşının arkasından koşarak onu yakalamayı başarmıştır.

Bu bilgilere göre Ali, aşağıdaki oyunlardan hangisini oynamamıştır?

- A) Bahçedeki Midilli B) Zıpçıktı Çiçek Açtı
C) Çürük Yumurta D) Mısır Patlatma

Somon balıklarının yaşamı, ırmaklarda ve ırmaklarla bağlantılı göllerde başlar. Yetişkin somonlar yumurtalarını kuyrukla- rı ile açtıkları çukurlara bırakır. Bundan yaklaşık dört ay sonra yumurtadan çıkan balıklar büyümeye başlar. Bir yıl içinde yeterli büyüklüğe ulaşan balıklar, ırmaktan denize göç eder yani doğdukları yerden binlerce kilometre uzağa gider. İlginç olan, bu balıkların açık denizden, doğdukları nehre veya göle hatta doğdukları çukura hiç şaşımada- n geri dönebilme- leridir. Bunu nasıl yaptıklarının henüz kesin bir cevabı yok. Bazı bilim insanları somonlarda göçmen kuşlarına benzer bir yön belirleme duyusunun olduğunu söylerken bazıları bunun kimyasal bir algılama yeteneği olduğunu savunuyor.

Bu metinde aşağıdaki sorulardan hangisinin cevabı yoktur?

- A) Somonların doğdukları yere geri dönme nedeni nedir?
B) Somonların, doğdukları yeri nasıl bulduyuyla ilgili görüşler nelerdir?
C) Somon balıklarının yaşadığı yerler nelerdir?
D) Yavru somonların denize yolculukları ne zaman başlar?

ADI:

SOYADI:

SINIFI:

14

Bir sözcüğün akla gelen ilk anlamına "gerçek anlam", gerçek anlamından tamamen uzaklaşarak kazandığı yeni anlama "mecaz anlam" denir.

Buna göre,

Türk dili ve edebiyatının anıt eserlerinden biri olan Kutadgu Bilig, Yusuf Has Hacıp tarafından yazılmıştır. Eserde adalet, akıl, mutluluk ve devleti temsil eden dört kahramanın çevresinde gelişen olaylar anlatılarak devrin hükümdarına öğütler verilmiştir.

metninde numaralanmış sözcüklerden hangisi mecaz anlamda kullanılmıştır?

- A) I. B) II. C) III. D) IV.

15

Günlük hayatta kullanılan birçok ürün, canlılar dünyasından ilham alınarak üretilmiştir.

Aşağıdakilerden hangisi bu cümlede sözü edilen duruma örnek olamaz?

- A) Halk arasında "pıtrak" adı verilen bitkinin giysilere yapıştığını gören araştırmacıların, cırt bandını üretmeleri
B) Balıkçılın uçuş hızının, uzun gagalarından kaynaklandığını gören uzmanların hızlı treni tasarlamaları
C) Radarların çalışma prensibinin, karanlıkta gözleri iyi görmediği hâlde avını ustalıkla yakalayan yarasadan esinlenilerek oluşturulması
D) Daha hızlı büyümeleri ve verimlerinin artması için bilim insanları tarafından ineklere büyüme hormonu verilmesi

16

Aşağıdaki grafikte bazı ülkelerin pirinç ekim ve hasat (ürün kaldırma, ekin biçme işi) dönemleri verilmiştir.





	Ocak	Şubat	Mart	Nisan	Mayıs	Haziran	Temmuz	Ağustos	Eylül	Ekim	Kasım	Aralık
Türkiye												
Mısır												
Pakistan												
Hindistan												
Burma												
Endonezya												
Tayland												
Bangladeş												
Çin												

Ekim Dönemi Hasat Dönemi

Bu grafikten aşağıdakilerin hangisi çıkarılamaz?

- A) Türkiye'nin pirinç ekim dönemleri Pakistan'a göre daha sınırlıdır.
B) Pirinç ekiminin ve hasadının yılın tamamında yapılabildiği iki ülke vardır.
C) Pirinç hasadı en fazla eylül ve ekimde gerçekleştirilmektedir.
D) Mayıs ayında, verilen ülkelerin hepsinde pirinç ekimi yapılmaktadır.

ADI: SOYADI: SINIFI:

17	<p>Üç gündür kimseyle konuşmamıştım. Bu durum hoşuma gitti. Bir süre sessiz kalmak iyi geldi. Kelimeler bazen duygularımızı anlatmakta yetersiz kalıyor çünkü.</p> <p>Bu sözleri söyleyen kişinin duygularını aşağıdaki dizelerden hangisi ifade edemez?</p> <p>A) Dünyada insanmış zor olan Söylenemiyor çok şey Susmadan</p> <p>B) En güzel tercihimdi Anlatmamak Yetmeyen, kelimelerdi sanki</p> <p>C) Herkesin konuştuğu bir dünyada Ben sustum Ne kadar susulacaksa O kadar sustum Kendimle konuşuyorum şimdi yalnız</p> <p>D) Zamansız konuşmalardan yanayım Dostla Dostça yapılan</p>
18	<p>İki balonu aynı boyutta olacak şekilde şişirin ve ağızlarına düğüm atın. Yaklaşık 30 cm uzunluğunda üç parça ip kesin. Kestiğiniz iplerden birinin ucunu balonlardan birine bağlayıp ipin diğer ucunu cetvelin bir ucuna bantlayın. Aynı işlemi ikinci balon için de tekrarlayın. Cetvelin ortasına da bir parça ip bağlayıp duvardaki bir çiviye asın. Balonlar aynı boyutta olduğundan dengede kalacaktır.</p> <p>Aşağıdaki görsellerden hangisi bu metindeki yönergelerden herhangi biriyle ilgili değildir?</p> <p>A) </p> <p>B) </p> <p>C) </p> <p>D) </p>
19	<ul style="list-style-type: none"> Birbiri ardınca sıralanan eş görevli kelimelerin arasına konur. Art arda gelen, birbiri ile bağlantılı cümleleri ayırmak için konur. Kendisinden sonraki cümleye bağlı olarak ret, kabul ve teşvik bildiren <i>hayır, yok, evet, peki, pekâlâ</i> gibi kelimelerden sonra konur. <p>Aşağıdaki cümlelerin hangisinde virgül (,) bu işlevlerinin dışında kullanılmıştır?</p> <p>A) Kalemelerini, silgisini, defter ve kitaplarını çantasına koydu.</p> <p>B) Tamam, yarın akşam hep birlikte sinemaya gidiyoruz.</p> <p>C) Yaşlı adam sabah uyanıyor, kahvaltısını yapıp dükkânın yolunu tutuyor.</p> <p>D) O, yaşamına küçük bir sahil kasabasında devam edecekti.</p>

ADI:

SOYADI:

SINIFI:

20



Aşağıdaki dizeler konuları bakımından bu görsellerle eşleştirildiğinde hangisi dışta kalır?

- A) Sular sarardı, yüzün perde perde solmakta
Kızıl havaları seyret ki akşam olmakta
- B) Yağ hay mübarek
Şarıl şarıl
Yıka taşları, toprakları
Tarlalar yeşerinceye dek
- C) Ellerim takılırken rüzgârların saçına
Asıldı arabamız bir dağın yamacına
Her tarafta yükseklik, her tarafta ıssızlık
Yalnız, arabacının dudağında bir ıslık
- D) Bahar seninle güzel
Kanadında benekler
Kıskanır mı acaba
Rengini kelebekler

Başarılar. 😊
İyi tatiller