

ADI:

SOYADI:

SINIFI:

SORU

MATEMATİK TESTİ SORULARI

Tablo: Ayakkabı Fiyatları

Ayakkabı Listesi	Fiyatı (TL)
Bayan Ayakkabısı	70
Erkek Ayakkabısı
Spor Ayakkabısı	75
Çocuk Ayakkabısı	40

Yukarıdaki tabloda fiyatları verilen ayakkabılardan üçer çift alan Tülay Hanım satıcıya 750 TL verdiği göre, erkek ayakkabısı için kaç TL ödemiştir?

A. 70 B. 65 C. 55 D. 50

$$2 \times (8 + 7) - (4 : 4)$$

işleminin sonucu kaçtır?

A. 26 B. 27 C. 29 D. 30

$$240 \times A = 24\ 000$$

işlemine göre, A kaçtır?

A. 10 B. 100
C. 1000 D. 10 000

$$400 \times 705$$

çarpımının 10'a bölümünden kalan kaçtır?

A. 10 B. 9 C. 5 D. 0

Tablo: Otomobil fiyatları

Peşin fiyatı: 30 000 (TL)	Toplam (TL)
12 ay taksit	33 480
18 ay taksit	36 000
24 ay taksit	42 000

Yukarıdaki tabloya göre 18 ay taksitle otomobil alan Murat'ın, her ay kaç TL taksit ödemesi gerekir?

A. 1400 B. 2000 C. 2600 D. 2800

6

1 kilogramı 75 kr.tan 12 kg portakal alan bir kişi, kaç TL öder?

A. 10 B. 9,5 C. 9 D. 7,5

Tablo: Giyecek Fiyatları

Giyeceğin Adı	Birim Fiyatı (TL)
Kaban	100
Kemer	5
Kravat
Yelek
Eşofman Takımı	28

7

Toptan alışveriş yapan Deniz Hanım tablodaki ürünlerden onar tane aldı ve satıcıya 1600 TL ödediğine göre, kravatın tanesi kaç TL'dir?

A. 12 B. 15 C. 20 D. 22

Tablo: Buzdolabı Fiyatları

Peşin	720 TL	Toplam
6 taksit	750 TL
12 taksit	900 TL
18 taksit	1080 TL

Ahmet buzdolabı almak için beyaz eşya mağazasına gitti. Farklı fiyatlarla karşılaştı. Tablodaki fiyatlara bakarak 18 taksitli olanı tercih etti.

Buzdolabının bir taksidi kaç TL'dir?

A. 60 B. 65
C. 70 D. 80

9

$$(6633 : 11) - (550 : 55)$$

işleminin sonucu kaçtır?

A. 600 B. 593 C. 243 D. 100

$$(9 \times 9) + (5 \times 4) + \square = 110$$

eşitliğinin sağlanması için \square yerine hangi doğal sayı yazılmalıdır?

10

A. 10 B. 9 C. 8 D. 7

ADI:

SOYADI:

SINIFI:

11	<p>Bir kümeste 16 tavşan ve 72 tavuk vardır. Kümesteki hayvanların ayak sayıları toplamı kaçtır?</p> <p>A. 176 B. 208 C. 320 D.352</p>										
12	<p>Tablo: Terlik Fiyatları</p> <table border="1"> <thead> <tr> <th>Ürün</th> <th>Fiyatı (TL)</th> </tr> </thead> <tbody> <tr> <td>Bayan Terliği</td> <td>30</td> </tr> <tr> <td>Çocuk Terliği</td> <td>15</td> </tr> <tr> <td>Erkek Terliği</td> <td>30</td> </tr> <tr> <td>Sandalet</td> <td>35</td> </tr> </tbody> </table> <p>Tablodaki fiyatları verilmiş olan ürünlerden Ömer Bey, kendisine 2 terlik ve 3 sandalet satın aldı. Kasaya 165 TL verdiğine göre Ömer Bey'in aldığı terliğin tanesi kaç TL'dir?</p> <p>A. 20 B. 25 C. 30 D.35</p>	Ürün	Fiyatı (TL)	Bayan Terliği	30	Çocuk Terliği	15	Erkek Terliği	30	Sandalet	35
Ürün	Fiyatı (TL)										
Bayan Terliği	30										
Çocuk Terliği	15										
Erkek Terliği	30										
Sandalet	35										
13	<p>Yanda verilen bölme işleminde bölüm ile kalan sayının toplamı kaçtır?</p> <table border="1"> <tr> <td>4045</td> <td>40</td> </tr> </table> <p>A. 5 B. 101 C. 104 D.106</p>	4045	40								
4045	40										
14	<p>225'in 2'ye bölümünden kalan a, 473'ün 5'e bölümünden kalan b ise, a + b kaçtır?</p> <p>A. 6 B. 5 C. 4 D.3</p>										
15	<p>$20 \times 5 \times 100 \times 30$ çarpımının 5'e bölümünden kalan kaçtır?</p> <p>A. 9 B. 8 C. 4 D. 0</p>										









16	<p>$\square \times 7 = (7590 - 6372)$ olduğuna göre, \square kaçtır?</p> <p>A. 168 B. 174 C. 180 D.184</p>												
17	<p>Bir bölme işleminde bölen 25, bölüm 12 ise bölünen sayı en fazla kaç olur?</p> <p>A. 275 B. 284 C. 300 D.324</p>												
18	<p>$ABC + ABC + ABC + ABC + ABC = 1875$ olduğuna göre, ABC sayısı kaçtır?</p> <p>A. 525 B. 400 C. 375 D.200</p>												
19	<p>Tablo: Televizyon Fiyatları</p> <table border="1"> <thead> <tr> <th>Peşin</th> <th>624 TL</th> <th>Toplam</th> </tr> </thead> <tbody> <tr> <td>6 taksit</td> <td>104 TL x 6</td> <td></td> </tr> <tr> <td>12 taksit</td> <td>60 TL x 12</td> <td></td> </tr> <tr> <td>18 taksit</td> <td>42 TL x 18</td> <td></td> </tr> </tbody> </table> <p>Yukarıdaki ödeme koşullarına göre, Asumanlar 12 taksit ile bir televizyon aldılar. Asumanların toplam kaç TL para ödemesi gerekir?</p> <p>A. 648 B. 684 C. 692 D.720</p>	Peşin	624 TL	Toplam	6 taksit	104 TL x 6		12 taksit	60 TL x 12		18 taksit	42 TL x 18	
Peşin	624 TL	Toplam											
6 taksit	104 TL x 6												
12 taksit	60 TL x 12												
18 taksit	42 TL x 18												
20	<p>5 öğrenci, bir günde 8 litre su içmektedir. 25 öğrencinin bulunduğu bir sınıfta öğrenciler 60 günde toplam kaç litre su içerler?</p> <p>A. 2400 B. 2350 C. 2200 D.2000</p>												

Başarılar. 😊
İyi tatiller

ADI:

SOYADI:





SINIFI:

SORU	SOSYAL BİLGİLER TESTİ SORULARI	
1	<p>Anadolu'ya yazıyı getiren medeniyeti aşağıdaki öğrencilerden hangisi doğru söylemiştir?</p> <p>A)  Lidyalılar</p> <p>B)  Frigler</p> <p>C)  Hititler</p> <p>D)  Asurlular</p>	<p>5</p> <p>Önemli olaylar ---- (yıllık) denilen taş tabletlere yazılırdı.</p> <p>Cümlede boş bırakılan yere getirilmesi gereken doğru ifade aşağıdakilerden hangisidir?</p> <p>A) Pankuş B) anal C) takas D) ziggurat</p>
2	<p>I. Verimli topraklarının olması II. Su kaynaklarının bol olması III. Ulaşımının uygun ve gelişmiş olması</p> <p>Yukarıda verilenlerden hangileri Anadolu'nun yerleşme yeri olarak seçilmesinde etkilidir?</p> <p>A) Yalnız I. B) Yalnız II. C) I ve II. D) I, II ve III.</p>	<p>6</p> <p>I. Hititler II. Urartular III. Frigler</p> <p>Yukarıdaki medeniyetlerden hangileri Anadolu'da kurulmuştur?</p> <p>A) Yalnız I. B) Yalnız II. C) I ve II. D) I, II ve III.</p>
3	<p>Anadolu, tarih boyunca birçok medeniyete ev sahipliği yapmıştır.</p> <p>Anadolu'ya "Bin Tanrılı İli" unvanını veren medeniyet aşağıdakilerden hangisidir?</p> <p>A) Hititler B) Frigler C) Lidyalılar D) Babiller</p>	<p>7</p> <p>Doğu Anadolu'da güçlü bir medeniyet kuran İlk Çağ uygarlığını doğru bilen öğrenci aşağıdakilerden hangisidir?</p> <p>A)  Urartular</p> <p>B)  Akadlar</p> <p>C)  İyonlar</p> <p>D)  Yunanlar</p>
4	<p>Yazının icadı sayesinde önemli bilgiler kaydedilmeye başlanmıştır.</p> <p>Tarihin ilk yazılı antlaşmasına verilen isim aşağıdakilerden hangisidir?</p> <p>A) Anallar B) Hammurabi C) Kadeş D) Hiyeroglif</p>	<p>8</p> <ul style="list-style-type: none"> Devletin başkenti Hattuşaş'tır. Pankuş adlı meclisleri vardır. <p>Özellikleri verilen medeniyet aşağıdakilerden hangisidir?</p> <p>A) Hititler B) Sümerler C) Asurlular D) İyonlar</p>
		<p>9</p> <ul style="list-style-type: none"> Ankara'yı başkent yapmışlardır. En ünlü kralı Midas'tır. Tarım ve hayvancılıkla uğraşmışlardır. <p>Özellikleri verilen medeniyet aşağıdakilerden hangisidir?</p> <p>A) Asurlular B) Mısırlılar C) Romalılar D) Frigler</p>





ADI:

SOYADI:

SINIFI:

10	<p>Urartular kuruldukları bölgede önemli faaliyetlerde bulunmuşlardır.</p> <p>Urartular hakkında aşağıda verilen bilgilerden hangisi <u>yanlıştır</u>?</p> <p>A) Başkenti Tuşpa'dır. B) Su kanalları inşa etmişlerdir. C) Taş oymacılığında ilerlemişlerdir. D) Parayı icat etmişlerdir.</p>	14	<p>İyonlar, kuruldukları bölge sayesinde önemli gelişmelere neden olmuştur.</p> <p>Anadolu uygarlıklarından biri olan İyonlar hakkında verilen aşağıdaki bilgilerden hangisi <u>yanlıştır</u>?</p> <p>A) Deniz kıyısında yaşamışlardır. B) Efes şehrinde yaşamışlardır. C) Bilime önem vermişlerdir. D) Tarihin ilk yazılı antlaşmasını imzalamışlardır.</p>
11	<p>Paranın icadı İlk Çağ'da meydana gelen gelişmeler arasındadır.</p> <p>Parayı icat eden medeniyet aşağıdakilerden hangisidir?</p> <p>A) Persler B) Akadlar C) Lidyalılar D) Mısırlılar</p>	15	<p>Frigler saban kırana ve öküzünü öldürüne idam cezası vermişlerdir.</p> <p>Bu durum Friglerde aşağıdakilerin hangisinin önemli olduğunu gösterir?</p> <p>A) Tarım B) Ticaret C) Turizm D) Sanayi</p>
12	<p>Anadolu medeniyetleri, oluşturdukları kültür ile birçok devleti etkilemiştir.</p> <p>Anadolu medeniyetleri hakkında verilen aşağıdaki bilgilerden hangisi <u>yanlıştır</u>?</p> <p>A) Tarım önemli geçim kaynağıdır. B) Piramitleri inşa etmişlerdir. C) Hayvancılık önemli bir yere sahiptir. D) Krallık ile yönetilmişlerdir.</p>	16	<p>Fibula denilen çengelli iğneyi icat eden medeniyeti aşağıdaki öğrencilerden hangisi doğru bilmiştir?</p> <p>A)  Romalılar B)  Lidyalılar C)  Frigler D)  Yunanlar</p>
13	<p>İlk Çağ uygarlıklarına ait birçok efsane vardır.</p> <p>Efsaneye göre dokunduğu her şeyi altına çeviren Frigya kralı aşağıdakilerden hangisidir?</p> <p>A) Aristo B) Midas C) Herodot D) Hammurabi</p>	17	<p>Para icat edilmeden önce insanlar alışverişlerinde --- usulünü kullanıyordu.</p> <p>Boş bırakılan yere gelebilecek doğru ifade aşağıdakilerden hangisidir?</p> <p>A) ziggurat B) anal C) Pankuş D) takas</p>

ADI: SOYADI: SINIFI:

18	<p>I. Ticaretle uğraşmışlardır. II. Kral Yolu'nu icat etmişlerdir. III. Ege Bölgesi'nde yaşamışlardır.</p> <p>Özellikleri verilen medeniyet aşağıdakilerden hangisidir?</p> <p>A) Lidyalılar B) Urartular C) Romalılar D) Persler</p>
19	<p>I. Hipokrat II. Hekataios III. Heredot</p> <p>Verilen bilim insanlarından hangileri İyonlar Dönemi'nde yaşamıştır?</p> <p>A) Yalnız I. B) Yalnız II. C) I ve II. D) I, II ve III.</p>
20	<p>Alfabeyi icat eden medeniyeti aşağıdaki öğrencilerden hangisi doğru bilmıştır?</p> <p>A)  Lidyalılar</p> <p>B)  Fenikeliler</p> <p>C)  Asurlular</p> <p>D)  Hititler</p>

Başarılar. 😊
İyi tatiller

ADI:

SOYADI:

SINIFI:

SORU	DİN KÜLTÜRÜ VE AHLAK BİLGİSİ TESTİ SORULARI
1	<p>Allah görür karanlıkta Kımıldayan her bir şeyi O yarattı gecelerde Işıldayan ay dedeyi</p> <p>İşitir en küçük sözü Bilir kalpten geçenleri Doğru yola çağırıyor Eğri yolu seçenleri</p> <p>Ahmet EFE</p> <p>Bu şiirde aşağıdakilerden hangisine değinilmemiştir?</p> <p>A) Allah'ın her şeyi bilmesine B) Allah'ın yaratmasına C) Allah'ın her şeyi görmesine D) Allah'ın bir olmasına</p>
2	<p>Yüce Allah'ın her şeyi işitmesi aşağıdaki-lerden hangisiyle ifade edilir?</p> <p>A) Kudret B) Basar C) Semi D) İrade</p>
3	<p>"Nerede olursanız olun, o sizinle beraberdir. Allah, yaptıklarınızı görür." (Hadid suresi, 4.ayet)</p> <p>Bu ayette Allah'ın hangi sıfat vurgulanmaktadır?</p> <p>A) Kelam B) Basar C) Semi D) İrade</p>
4	<p>"Eğer Allah seni bir zarara uğratırsa, onu kendisinden başka giderecek yoktur. Ve eğer sana bir hayır verirse, (bunu da geri alacak yoktur). Şüphesiz O her şeye kadirdir." (En'âm suresi, 17. ayet)</p> <p>Bu ayette Allah'a ait sıfatlardan hangisi vurgulanmaktadır?</p> <p>A) Allah'ın bir olması B) Allah'ın her şeye gücünün yetmesi C) Allah'ın her şeyi görmesi D) Allah'ın yarattıklarına benzememesi</p>
5	<p>Allah'ın her şeye gücünün yetmesi anlamına gelen ismi aşağıdakilerden hangisidir?</p> <p>A) Rahmân B) Rahîm C) İrade D) Kâdir</p>

6	<p>Ramazan ayında oruç tutan bir Müslüman hiç kimsenin görmediği bir yerde bile orucunu bozmaz.</p> <p>Bu durum aşağıdakilerden hangisi ile daha çok ilgilidir?</p> <p>A) Allah'ın gücünün sınırsız olması B) Allah'ın her şeyi görmesi C) Allah'ın hiçbir şeye muhtaç olmaması D) Allah'ın benzerinin olmaması</p>
7	<p>"O, görüleni de görülmeyeni de bilir; çok büyüktür, yücedir. Sizden, sözü gizleyenle onu açığa vuran, geceleyin gizlenenle gündüzün yürüyen (onun ilminde) eşittir." (Ra'd suresi, 9-10. ayetler)</p> <p>Verilen ayetlerden aşağıdakilerden hangisi çıkarılamaz?</p> <p>A) Allah her şeyi bilendir. B) Allah her şeyden yücedir. C) Allah doğmamış ve doğurmamıştır. D) En büyük Allah'tır.</p>
8	<p>Yüce Allah, dünyada, bütün canlılara şefkat gösteren, mümin kâfir ayrımı yapmaksızın insanlara merhamet eden, her türlü nimeti sürekli verendir.</p> <p>Bu parçada Yüce Allah'a ait aşağıdaki isimlerden hangisinden bahsedilmektedir?</p> <p>A) Kâdir B) Rahmân C) Basar D) Semi</p>
9	<p>Yasin: Allah'ın her şeyi görmesine sem'i denir.</p> <p>Erdal: Allah'ın güzel isimlerine Esmâ-i Hüsnâ denir.</p> <p>Batuhan: Allah'ın kullarına merhamet etmesi Rahmân ismiyle ilgilidir.</p> <p>Beyza: Allah'ın her şeyi bilmesi ilim sıfatıyla alakalıdır.</p> <p>Yukarıdaki öğrencilerden hangisi Allah'ın sıfatlarını yanlış tanımlamıştır?</p> <p>A) Yasin B) Erdal C) Batuhan D) Beyza</p>

ADI:

SOYADI:

SINIFI:





10	<p>Hazreti Ömer, halifeliği zamanında sütçülerin süte su katmasını yasaklamıştı. Bir gece Medine'de dolaşırken yoruldu ve biraz dinlenmek üzere bir evin duvarına yaslandı. Evin içinde anne ile kızı arasında geçen konuşmayı duydu. Annesine kızına, sütlerle biraz su kativer demişti. Kız ise annesine halifenin sütlerle su katılmasını yasakladığını hatırlattı. Ancak annesi halifenin kendilerini görmediği söyledi. Bunun üzerine kızı "----" dedi.</p> <p>Bu metin aşağıdakilerden hangisi ile devam ederse Allah'ın her şeyi gördüğüne inanan bir kızın davranışı <u>olamaz</u>?</p> <p>A) Tamam anneciğim haklısın, halife bizi göremez, duyamaz.</p> <p>B) Anneciğim halife görmeyebilir ama Allah her şeyi görür, bu dediğin doğru değil.</p> <p>C) Anneciğim bu davranış kul hakkına sebep olmaz mı?</p> <p>D) Dürüst bir insanın yapacağı iş değil anneciğim senin teklifin.</p>	14	<p>Yüce Allah'ın herşeyi görmesini ifade eden sıfatı aşağıdakilerden hangisidir?</p> <p>A) Kâdir C) Semi</p> <p>B) Basar D) Rahîm</p>
11	<p>"Yeryüzünde bulunan her canlı yok olacak. Ancak azamet ve ikram sahibi Rabbinin zâtı baki kalacak."</p> <p>(Rahman suresi, 26-27. ayetler)</p> <p>Bu ayetlerde Allah'a ait sıfatlardan hangisine değinilmektedir?</p> <p>A) Hayat sahibi olmasına B) Her şeye gücünün yettiğine C) Başlangıcının olmamasına D) Sonunun olmamasına</p>	15	<p>"...Allah sana bir hayır verirse (bunu da geri alacak yoktur.) O, her şeye gücü yetendir." (En'âm suresi, 17. ayet)</p> <p>Bu ayette Allah'a ait sıfatlardan hangisi vurgulanmaktadır?</p> <p>A) Rahîm C) Kudret</p> <p>B) Rahmân D) Semi</p>
12	<p>Allah'ın bir olmasını ifade eden sıfatı aşağıdakilerden hangisidir?</p> <p>A) Kudret B) Vahdaniyet C) Basar D) Rahmân</p>	16	<p>Ektiğiniz tohuma ne dersiniz? Onu siz mi bitiriyorsunuz yoksa bitiren biz miyiz? Dileseydik onu kuru bir çöp yapardık da şaşkınlık içinde şöyle geveleyip dururdunuz: "Muhakkak biz çok ziyandayız!" "Daha doğrusu büsbütün mahrumuz!" İçtiğiniz suya ne dersiniz? Siz mi onu buluttan indirdiniz, yoksa indiren biz miyiz? Dileseydik onu acı bir su yapardık. O hâlde şükretseydiniz ya!</p> <p>(Vâkıa suresi, 63-70. ayetler.)</p> <p>Bu ayetlerde Yüce Allah'ın hangi özelliği vurgulanmaktadır?</p> <p>A) Her şeyi bilmesi B) Her şeyi görmesi C) Her şeyi yaratması D) Her şeyi duyması</p>
13	<p>"De ki: O, Allah birdir." (İhlas suresi, 1. ayet)</p> <p>Bu ayette Yüce Allah'ın hangi sıfatından bahsedilmektedir?</p> <p>A) Kelam C) İrade</p> <p>B) İlim D) Vahdaniyet</p>	17	<p>"Onlar, kendi nefisleri(nin yaratılış incelikleri) hakkında hiç düşünmediler mi? Hem Allah, gökler ile yeri ve ikisi arasındakileri ancak hak ve hikmete uygun olarak ve belirli bir süre için yaratmıştır. Şüphesiz insanların birçoğu Rablerine kavuşacaklarını inkâr ediyorlar." (Rûm suresi, 8. ayet.)</p> <p>Bu ayetten aşağıdaki yargılardan hangisi çıkarılamaz?</p> <p>A) Her şeyi yaratan Allah'tır. B) Allah'ın yarattığı her şeyin bir amacı vardır. C) Yaratılan her şeyin bir sonu olacaktır. D) Allah'ın yarattığı her şey görülmez.</p>



ADI:

SOYADI:

SINIFI:

18	 Allah her şeye gücü yetendir.  Allah fısıltı ile konuşulanları işitmez.  Allah'ın gördükleri sınırlıdır.  Allah yoktan değil, var olandan yaratabilir. <p>Yukarıdaki öğrencilerden hangisinin yargısı doğrudur?</p> <p>A) Fatma B) Selma C) Murat D) Hüseyin</p>
19	<p>Allah'ın yaratma sıfatı ile ilgili aşağıdaki ifadelerden hangisi yanlıştır?</p> <p>A) Evrendeki görülen görülmeyen her şeyi yaratan Allah'tır. B) Allah'ın yaratması tamamlanmıştır. C) Allah'ın bir şeyi yaratması ona "ol" demesinden ibarettir. D) Allah'ın bir şeyi yaratması için ön hazırlık yapması gerekmez.</p>

20	<p>Evren, üzerinde yaşadığımız dünya ile gezegenleri içine alan varlıklar bütünüdür. Allah'ın yarattığı bu evrende bir düzen vardır. İçinde yaşadığımız doğayı gözlemlediğimiz ve düşündüğümüz zaman, varlıklar arasında bir denge, düzen ve uyum olduğunu anlarız. Çeşitli galaksiler, gezegenler ve milyonlarca yıldızdan oluşan evren; genişliği ve büyüklüğü ile insanları hayrete düşürür.</p> <p>Bu parçadan aşağıdakilerden hangisi <u>çıkarılamaz</u>?</p> <p>A) Allah'ın varlığı B) Allah'ın kudretinin büyüklüğü C) Allah'ın bir olması D) Doğanın düzenin kendiliğinden olduğu</p>
----	--

Başarılar.
İyi tatiller 😊

ADI:

SOYADI:

SINIFI:

SORU	FEN BİLİMLERİ TESTİ SORULARI															
1	<div> <div>1 Kendi besinlerini kendileri üretemezler.</div> <div>2 Şapkalı, küf, maya ve parazit olmak üzere dört çeşittir.</div> <div>3 Küf mantarları hamurun mayalanmasını sağlar.</div> <div>4 Şapkalı mantarlardan bazıları besin olarak kullanılır.</div> </div> <p>Mantarlar ile ilgili yukarıda verilen bilgilerden hangisi <u>yanlıştır</u>?</p> <p>A) 1. B) 2. C) 3. D) 4.</p>															
2	<table> <tr> <th></th><th>MANTAR ÇEŞİTLERİ</th><th>ÖZELLİKLER</th></tr> <tr> <td>I.</td><td>Şapkalı mantar</td><td>Açıkta kalan besinlerin üzerinde ürerler.</td></tr> <tr> <td>II.</td><td>Küf mantarı</td><td>Besin olarak kullanılabilirler. Bazı türleri zehirlidir.</td></tr> <tr> <td>III.</td><td>Maya mantarı</td><td>Hamurun kabarmasını sağlarlar.</td></tr> <tr> <td>IV.</td><td>Parazit mantarlar</td><td>Bitkilerde ve hayvanlarda hastalıklara yol açarlar.</td></tr> </table> <p>Yukarıdaki tabloda mantar çeşitlerine ait özellikler verilmiştir.</p> <p>Tabloda hangi numaralı kutucukların yeri değiştirilirse mantar çeşitleri ile özellikler doğru eşleştirilmiş olur?</p> <p>A) I ve III. B) II ve III. C) III ve IV. D) I ve II.</p>		MANTAR ÇEŞİTLERİ	ÖZELLİKLER	I.	Şapkalı mantar	Açıkta kalan besinlerin üzerinde ürerler.	II.	Küf mantarı	Besin olarak kullanılabilirler. Bazı türleri zehirlidir.	III.	Maya mantarı	Hamurun kabarmasını sağlarlar.	IV.	Parazit mantarlar	Bitkilerde ve hayvanlarda hastalıklara yol açarlar.
	MANTAR ÇEŞİTLERİ	ÖZELLİKLER														
I.	Şapkalı mantar	Açıkta kalan besinlerin üzerinde ürerler.														
II.	Küf mantarı	Besin olarak kullanılabilirler. Bazı türleri zehirlidir.														
III.	Maya mantarı	Hamurun kabarmasını sağlarlar.														
IV.	Parazit mantarlar	Bitkilerde ve hayvanlarda hastalıklara yol açarlar.														
3	<div> <p>Yediğimiz mantar çeşidi I dır. Bu mantarlardan doğada bulduklarımızı rastgele yememeliyiz. Çünkü bunlar II olabilir.</p> </div> <p>Yukarıda verilen ifadelerde I ve II numaralı boşluklara getirilecek olan kavramlar aşağıdakilerden hangisinde doğru verilmiştir?</p> <table> <tr> <th>I</th><th>II</th></tr> <tr> <td>A) küf mantarları</td><td>zehirli</td></tr> <tr> <td>B) şapkalı mantarlar</td><td>çok zengin besin içerikli</td></tr> <tr> <td>C) maya mantarları</td><td>zehirli</td></tr> <tr> <td>D) şapkalı mantarlar</td><td>zehirli</td></tr> </table>	I	II	A) küf mantarları	zehirli	B) şapkalı mantarlar	çok zengin besin içerikli	C) maya mantarları	zehirli	D) şapkalı mantarlar	zehirli					
I	II															
A) küf mantarları	zehirli															
B) şapkalı mantarlar	çok zengin besin içerikli															
C) maya mantarları	zehirli															
D) şapkalı mantarlar	zehirli															

4	<p>Genellikle ılık ve nemli bölgelerde yaşarlar.</p> <p>Yaprakları bulunmadığı için kendi besinlerini kendileri üretemezler.</p> <p>Mantarların hepsi yararlıdır.</p> <p>Mantarlar bitki değildir.</p> <p>Yukarıda mantarlar ile ilgili öğrenciler bilgiler vermektedirler.</p> <p>Buna göre hangi öğrencinin mantarlar ile ilgili verdiği bilgi yanlıştır?</p> <p>A) Berrin B) Berkay C) Berrak D) Berke</p>																
5	<p>I. Bahçede ve ormanlarda doğal olarak yetişebilir. Bu mantarların bazı türleri zehirlidir.</p> <p>II. Ekmek, peynir, kesilmiş elma, salça gibi besinler uzun süre açıkta bırakıldıklarında üzerlerinde renkli ve pamuk görünümünde bir tabaka oluşturur.</p> <p>III. Hamurun mayalanması ve peynir yapımında rol oynayan mantarlardır.</p> <p>IV. El, ayaklarda kaşıntı ve yaraların oluşmasına sebep olur. Bebeklerin ağzında pamukçuk ve insanlarda saçkıran denilen hastalıkların meydana gelmesinde rol alan mantarlardır.</p> <p>Yukarıda mantarlar hakkında bilgiler verilmiştir.</p> <p>Buna göre aşağıdaki seçeneklerden hangisinde doğru eşleştirme yapılmıştır?</p> <table border="0"> <tbody> <tr> <td>A) I. Şapkalı mantar</td><td>B) I. Maya mantarı</td></tr> <tr> <td>II. Küf mantarı</td><td>II. Hastalık yapan mantar</td></tr> <tr> <td>III. Maya mantarı</td><td>III. Şapkalı mantar</td></tr> <tr> <td>IV. Hastalık yapan mantar</td><td>IV. Küf mantarı</td></tr> <tr> <td>C) I. Maya mantarı</td><td>D) I. Şapkalı mantar</td></tr> <tr> <td>II. Hastalık yapan mantar</td><td>II. Maya mantarı</td></tr> <tr> <td>III. Küf mantarı</td><td>III. Küf mantarı</td></tr> <tr> <td>IV. Şapkalı mantar</td><td>IV. Hastalık yapan mantar</td></tr> </tbody> </table>	A) I. Şapkalı mantar	B) I. Maya mantarı	II. Küf mantarı	II. Hastalık yapan mantar	III. Maya mantarı	III. Şapkalı mantar	IV. Hastalık yapan mantar	IV. Küf mantarı	C) I. Maya mantarı	D) I. Şapkalı mantar	II. Hastalık yapan mantar	II. Maya mantarı	III. Küf mantarı	III. Küf mantarı	IV. Şapkalı mantar	IV. Hastalık yapan mantar
A) I. Şapkalı mantar	B) I. Maya mantarı																
II. Küf mantarı	II. Hastalık yapan mantar																
III. Maya mantarı	III. Şapkalı mantar																
IV. Hastalık yapan mantar	IV. Küf mantarı																
C) I. Maya mantarı	D) I. Şapkalı mantar																
II. Hastalık yapan mantar	II. Maya mantarı																
III. Küf mantarı	III. Küf mantarı																
IV. Şapkalı mantar	IV. Hastalık yapan mantar																

ADI:

SOYADI:

SINIFI:




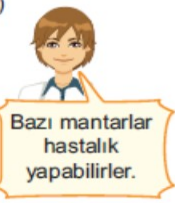

6	<p>Aşağıdakilerden hangisi mantarların etkisiyle <u>gerçekleşmez</u>?</p> <p>A) Besinlerin küflenmesi B) Bazı hastalıklara sebep olma C) Havadaki oksijen oranının artması D) Hamurun mayalanması</p>
7	<p>Aşağıdakilerden hangisi yararlı mantarların özelliklerindendir?</p> <p>A) Besinlerin küflenmesine neden olma B) Hamurun kabarmasını sağlama C) Birçok bitkide hastalığa neden olma D) Zehirlenmelere yol açma</p>
8	<p>Aşağıdakilerden hangisi bir mantar çeşidi <u>değildir</u>?</p> <p>A) Maya mantarları B) Küf mantarları C) Yapraklı mantarlar D) Şapkali mantarlar</p>
9	<p>Küf mantarlarının tamamı yararlıdır.</p> <pre> D Y / \ Maya mantarı Hiçbir mantar çeşidi şekerli ılık suda kendi besinini kendisi çoğalırlar. üretmez. / \ / \ D Y D Y 1. çıkış 2. çıkış 3. çıkış 4. çıkış </pre> <p>Mantarlar ile ilgili yukarıda verilen ifadeler doğruysa "D", yanlışsa "Y" yönünde ilerlediğinde hangi numaralı çıkışa ulaşılır?</p> <p>A) 1. B) 2. C) 3. D) 4.</p>
10	<p>Mantarlar aşağıdaki ortamlardan hangisinden <u>yaşayamazlar</u>?</p> <p>A) Çöller B) Nemli yerler C) Ormanlar D) Çayırırlar</p>
11	<p>Bir besin maddesinin üzerinde küf mantarlarının çoğalabilmesi için uygun olan ortam şartları aşağıdakilerden hangisinde doğru olarak verilmiştir?</p> <p>A) Kuru / Oda Sıcaklığında B) Nemli / Ilık C) Nemli / Soğuk D) Kuru / Soğuk</p>

12	 <p>Yukarıda çeşitli resimleri verilen canlı ile ilgili aşağıdaki öğrencilerden hangisinin hazırlamış olduğu poster doğrudur?</p> <p>A)  Şapkali mantarlar kendi besinlerini kendileri üretirler.</p> <p>B)  Bütün şapkali mantarlar yenilebilir.</p> <p>C)  Zehirli ve zehirsiz olanları farklı ortamlarda yaşarlar.</p> <p>D)  Vitamin ve protein bakımından zengin besinlerdir.</p>
13	<ul style="list-style-type: none"> Genelde insan, hayvan ve bitkilerde hastalığa neden olurlar. Bazıları besin olarak tüketilebilir. Şekerli ılık su içerisinde hızla çoğalırlar. <p>Yukarıda bazı mantar türleri ile ilgili bilgiler verilmiştir.</p> <p>Aşağıdaki mantar çeşitlerinden hangisi ile ilgili bilgi <u>verilmemiştir</u>?</p> <p>A)  Şapkali mantar</p> <p>B)  Küf Mantarı</p> <p>C)  Maya mantarı</p> <p>D)  Parazit mantarlar</p>

ADI: SOYADI: SINIFI:

14	<p>I. Küf mantarları canlı kalıntıları çürüterek yaşarlar.</p> <p>II. Maya mantarları çıplak gözle görülebilirler.</p> <p>III. Parazit mantarları vitamin ve protein bakımından zengin besinlerdir.</p> <p>Mantarlar ile ilgili yukarıda verilen bilgilerden hangileri doğrudur?</p> <p>A) Yalnız I. B) Yalnız II.</p> <p>C) II ve III. D) I ve III.</p>
----	---

15	<p>I. Mantarların tamamı mikroskopik canlılardır.</p> <p>II. Şapkalı mantarların tamamı zehirlidir.</p> <p>III. Mikroskopik canlılardan olan bakterilerin tamamı zararlıdır.</p> <p>Yukarıda verilen ifadelerden hangileri yanlıştır?</p> <p>A) Yalnız I. B) II ve III.</p> <p>C) I ve II. D) I, II ve III.</p>
----	--

16	<div style="text-align: center;">  <p>Mantarların Özellikleri Nelerdir?</p> </div> <p>Yukarıdaki tahtaya "Mantarların Özellikleri Nelerdir" yazan Işık Öğretmen'in sorusuna aşağıdaki öğrencilerden hangisi yanlış cevap vermiştir?</p> <div style="display: flex; justify-content: space-around;"> <div style="text-align: center;"> <p>A)</p>  </div> <div style="text-align: center;"> <p>B)</p>  </div> </div> <div style="display: flex; justify-content: space-around;"> <div style="text-align: center;"> <p>C)</p>  </div> <div style="text-align: center;"> <p>D)</p>  </div> </div>
----	--

17	<p>Aşağıdakilerden hangisi mantarların yararlarından biri <u>değildir</u>?</p> <p>A) Besin olarak kullanılma</p> <p>B) Penisilin gibi antibiyotiklerin yapımında kullanılma</p> <p>C) Hamuru mayalandırmak için kullanılma</p> <p>D) Besinlerin küflenmesine neden olma</p>
----	--

18	<div style="display: flex; justify-content: space-around;"> <div style="text-align: center;">  <p>Şapkalı mantar</p> </div> <div style="text-align: center;">  <p>Domates</p> </div> </div> <p>Yukarıda resimleri verilen canlılarda ortak olarak gözlemlenen özellikler aşağıdakilerden hangisi olabilir?</p> <p>A) Yaprak bulundurma</p> <p>B) Yaşamsal faaliyetler için besin kullanma</p> <p>C) Çiçek bulundurma</p> <p>D) Kendi besinini kendisi üretme</p>
----	--

19	<p>Kısa sürede bozulabilen sütü saklayabilmek için günümüzde kullanılan yöntem, aşağıdakilerden hangisidir?</p> <p>A) Vakumlama</p> <p>B) Pastörize etme</p> <p>C) Tuzlama</p> <p>D) Konserve yapma</p>
----	--

20	<p>"Besinlerin küflenmesinde mantarlar etkilidir."</p> <p>Mantarların yaşam alanlarını dikkate alarak besinlerin küflenmesini engellemek için aşağıdakilerden hangileri yapılmalıdır?</p> <p>I. Nemden korumak</p> <p>II. Buzdolabında saklamak</p> <p>III. Ilık ortamda saklamak</p> <p>A) I ve II. B) I ve III.</p> <p>C) II ve III. D) I, II ve III.</p>
----	--

Başarılar.
İyi tatiller 😊

ADI:

SOYADI:

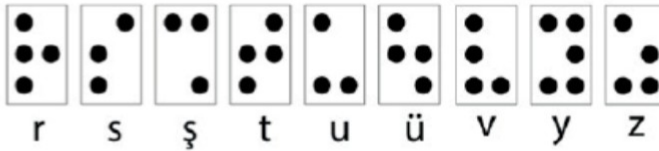
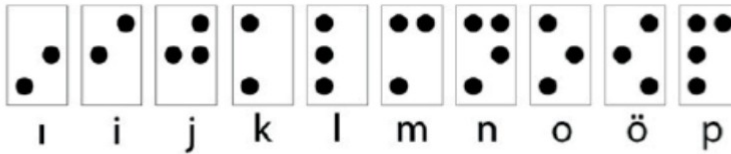
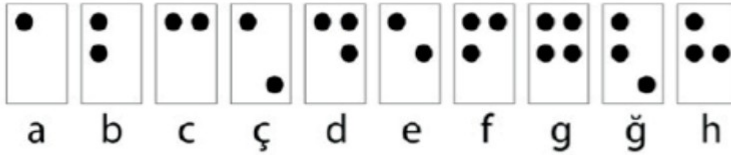
SINIFI:

SORU


TÜRKÇE TESTİ SORULARI

Görme engelli bireylerin okuma ve yazma için kullandığı, kabartmalı yazılardan oluşan Braille alfabesi kendisi de görme engelli olan L. Braille (Breyl) tarafından icat edilmiştir. Bu alfabede kelimeler soldan sağa okunur.

Braille Alfabeti



Buna göre Braille alfabesiyle,



şeklinde yazılan kelime aşağıdakilerden hangisidir?

A) ÇARIK

B) ÇAKIR

C) ÇIKAR

D) ÇIRAK

2

Önce hafiften bir rüzgâr esiyor
Yavaş yavaş sallanıyor
Yapraklar ağaçlarda
Uzaklarda, çok uzaklarda
Sucuların hiç durmayan çingirakları

Bu dizelerde aşağıdaki duyu organlarından hangisiyle ilgili bir ayrıntıya yer verilmemiştir?

A) Koklama

B) Görme

C) Dokunma

D) İşitme

3

Başlık, bir yazının veya kitabın bölümlerinin başına konan ve konuyu kısaca tanıtan ifadedir.

Buna göre,

- Anlayışlı ve kibar olmak
- Hata yaptığında özür dilemek
- Yüksek sesle gülmek
- Eleştiri yaparken kırıncı olmamaya özen göstermek

davranışlarından söz eden bir yazının başlığı aşağıdakilerden hangisi olmalıdır?

- A) Hoşgörü
- B) Dürüstlük
- C) Alçak Gönüllülük
- D) Nezaket

ADI:

SOYADI:

SINIFI:

4	<p>Böceklerle beslenen sinekkapan, sulak alanlarda yaşayan bir bitkidir. Bu bitki, yapraklarının üzerinde dolaşan böcekleri, dikenli yapraklarını kapatıp özel bir sıvı salgılayarak etkisiz hâle getirir. Sinekkapanda elektrik içeren bir mekanizmanın olduğu belirlenmiştir. Bitki, yapraklarının iki ucunda yer alan üçgen şeklindeki tüyler sayesinde fiziksel uyarıları elektriksel uyarılara dönüştürüp avını yakalayabilmektedir.</p> <p>Güneşgülü, yapraklarının dış yüzeyinde tüyler bulunan bir bitkidir. Yuvarlak yapıdaki yaprakları, yapışkan bir sıvı salgılar. Bu sıvının kokusuna ve rengine aldanan avlar yaprakların üzerine konunca yapraklar içe doğru kıvrılarak avın kaçmasını engeller. Böcekler bu tuzağa kolayca yakalanır çünkü güneşgülünün yaprakları hemen her yöne kıvrılabilme özelliğine sahiptir ve böceği hemen sarabilir.</p> <p>Aşağıdakilerin hangisi bu metinlerde tanıtılan bitkilerin ortak özelliklerinden biri <u>değildir</u>?</p> <p>A) Etçil olmaları B) Yapraklarının farklı yönlerde kıvrılabilmesi C) Avlarını, salgıladıkları sıvının yardımıyla yakalamaları D) Yapraklarında tüylerin bulunması</p>
5	<p>Bazı ninnilerde, çocuk yetiştirirken anne ve baba dışındaki aile büyüklerine de görevler düştüğü belirtilir.</p> <p>Aşağıdaki ninnilerden hangisi bu cümlede sözü edilen duruma örnektir?</p> <p>A) Al babası, al babası Oğlunu bağrına al babası Kitap al da hazırla Yavrunu mektebe sal babası</p> <p>B) Bebeğimin yüzü aktır Beyaz elbisesi paktır Beşiği pek yumuşaktır Uyu bebeğim uyu Uyku sana haktır</p> <p>C) Benim kızım uyusun ninni Uyusun da büyüsün ninni Kızım öğretmen olsun da Çocukları okutsun ninni</p> <p>D) Dandini dandini dayısı bakar Yanına yağlık emmisi takar Ağzına şeker babası eker Cebine harçlık dedesi döker Yesin oğlum ninni</p>
6	<p>I. Beyin sinyallerini takip eden bu teknoloji, algıladığı verileri anlaşılır bir biçimde telaffuz edebiliyor.</p> <p>II. Hedef gerçekleşirse konuşma sorunları yaşayan insanların bu teknoloji sayesinde iletişim kurması mümkün olabilecektir.</p> <p>III. Bir grup mühendis, insan düşüncesini sese çeviren bir teknoloji geliştirdi.</p> <p>IV. Sistemin karmaşık kelimeler ve cümlelerle ilgili testlerden de geçmesi gerekiyor.</p> <p>Numaralanmış cümlelerle anlamlı bir paragraf oluşturulmak istendiğinde sıralama aşağıdakilerden hangisi olur?</p> <p>A) II - III - I - IV B) II - IV - III - I C) III - I - IV - II D) III - II - IV - I</p>

ADI:

SOYADI:

SINIFI:

Ok; yay vasıtasıyla atılan, ucunda sivri bir demir bulunan ince ve kısa çubuğa verilen isimdir. Dört kısımdan oluşur:

Çubuk: Okun, yelek ve temren arasında kalan bölümdür.

Yelek: Okun, yay kirişine takılan bölümünde yer alan ve havada düzgün dönerek uymasını sağlayan tüydür.

Gez: Okun arkasında bulunan ve yaya takılmasını sağlayan oyuk kısımdır.

Temren: Okun ucuna takılan madenî parçadır.

Bu bilgilere göre okun bölümleri aşağıdakilerin hangisinde doğru gösterilmiştir?

- A) TEMREN GEZ YELEK ÇUBUK
- B) GEZ ÇUBUK YELEK TEMREN
- C) TEMREN ÇUBUK YELEK GEZ
- D) TEMREN ÇUBUK GEZ YELEK

Aşağıda bir dergiye abone olan dört çocuğun bu dergiye gönderdiği mektuplardan bazı bölümler verilmiştir:

Meral: Seni büyük bir ilgiyle takip ediyorum. "Yazar ve Şairlerin Hayatı" köşesini çok seviyorum.

Harun: İyi ki seninle tanışmışım. En çok "İlginç Bilgiler" bölümünü seviyorum. Daha yeni abone olmama rağmen seni beğenerek okuyorum.

Salih: Seninle birlikte gönderilen etkinlikleri özel bir kutuda saklıyorum. Bunları arkadaşlarımla birlikte yapmaktan büyük zevk alıyorum. Her ayın on beşini ipe çekiyorum.

Neslihan: Bizim evde yediden yetmişe herkes seni büyük bir zevkle okuyor. Senin sayende okulda öğretmenimin sorduğu pek çok soruya doğru cevap veriyorum.

Bu mektuplardan hareketle söz konusu dergiye ilgili aşağıdakilerden hangisi söylenemez?

- A) Her yaş grubuna hitap etmektedir.
B) Dikkat çekici konuların yer aldığı bir bölümü vardır.
C) Yazar ve şairlerle görüşme fırsatı sunmaktadır.
D) Belirli tarihlerde postalanan aylık bir dergidir.

Soru eki olan "mi" cümleye pekiştirme, zaman, rica ve koşul anlamları da katabilir.

Buna göre "mi" soru eki aşağıdakilerin hangisine yay ayrıç içinde verilen anlamı katmamıştır?

- A) Leylaklar açtı mı buraların havası değişir. (Zaman)
B) Şu aralar zor mu zor bir süreçten geçiyoruz. (Pekiştirme)
C) Konularını tekrar ettin mi unutmazsın. (Koşul)
D) Onu gördük mü hepimizin yüzü gülmeye başladı. (Rica)

ADI:

SOYADI:

SINIFI:

10



Aşağıdakilerden hangisi bu başlık ve görselden hareketle yazılan bir metnin konusu olmaya en uygundur?

- A) Anıların geleceği için yapılması gerekenler
- B) Anıların doğadaki denge için önemi
- C) Anıların yaşam alanları
- D) Anıcılığın yaygınlaştırılması

11

Dilimizin üstündeki küçük kabarcıklar, tat tomurcukları olarak adlandırılır. Bir insanın dilinde yaklaşık iki bin ila sekiz bin tat tomurcuğu vardır. Bu tomurcukların üst kısımlarındaki küçük deliklerde bulunan ince lifler, dilin yüzeyindeki tat moleküllerini algılar. Oluşan sinyalleri dilin alt ucundaki sinir demetine ileterek beyne gönderir. Tat tomurcukları ortalama on gün sonra yok olur ve dilin üstünde farklı yerlerde yeniden oluşur.

Bu metinde "tat tomurcukları" ile ilgili aşağıdakilerden hangisine değinilmemiştir?

- A) Nerede bulunduğu
- B) İşlevinin ne olduğuna
- C) Ne kadar süre etkin olduğuna
- D) Hangi hızla çoğaldığına

12

Büyük yazar ve şairlerin sırrı, gösterişli cümlelerde değil, gündelik dildeki kelimelere yükledikleri yeni ve şaşırtıcı anlam-larda gizlidir. Onlar, cümlelere gelişigüzel yerleştirdiğimiz kelimeleri, aklımıza hiç gelmeyen bir biçimde kullanarak günlük dilin ötesine geçerler.

Bu parçada yazar ve şairlerin hangi özelliği vurgulanmaktadır?

- A) Cesareti
- B) Doğallığı
- C) Sıra dışılığı
- D) Öz güveni

13

- I ve II numaralı sözcükler anlam bakımından birbirinin yerini tutabildiği için eş anlamlıdır.
- II ve III numaralı sözcükler birbiriyle çelişen özellikleri ifade ettiği için zıt anlamlıdır.

Aşağıdakilerin hangisinde sözcükler bu açıklamaya göre düzenlenmiştir?

	I	II	III
A)	Esir	Tutsak	Özgür
B)	Zengin	Fakir	Yoksul
C)	Üzgün	Mutsuz	Mutlu
D)	Cömert	Pinti	Cimri

14

Deyimler, bir olayı ya da durumu etkileyici bir şekilde anlatmak için kullanılan söz gruplarıdır. Örneğin "çok özlemek" anlamında - - - -, "karşısındakine dokunacak veya kötü bir sonuç doğuracak söz söylemek" anlamında - - - -, "önemsiz ve küçük bir sorunu büyütme" anlamında - - - - deymi kullanılır.

Aşağıdaki deyimlerden hangisi bu metinde boş bırakılan yerlerden herhangi birine getirilemez?

- A) bir bardak suda fırtına koparmak
- B) çam devirmek
- C) avucunun içi gibi bilmek
- D) burnunda tutmek

ADI:

SOYADI:

SINIFI:

15

Bu metni inceleyen bir müşteri, sözü edilen ürünle ilgili aşağıdaki bilgilerden hangisine ulaşamaz?

A) Renk seçenekleri

B) Yıkabilirliği

C) Dayanıklılığı

D) Yapıldığı malzeme

16

I. Metin

İlim ilim bilmektir
İlim kendin bilmektir
Sen kendini bilmezsen
Ya nice okumaktır

II. Metin

- Hiç bitmeyecek mi senin bu okuman?
- Bitmeyecek.
- Hiç mi?
- Hiç!
- Niyetin yazar olmak mı yani?
- Hayır.
- Ya ne?
- ----!

II. metindeki konuşma aşağıdakilerden hangisiyle tamamlanırsa I. metinde verilmek istenen mesaj yansıtılmış olur?

A) Âlim olmak

B) Şair olmak

C) Yalnız olmak

D) İnsan olmak

ADI:

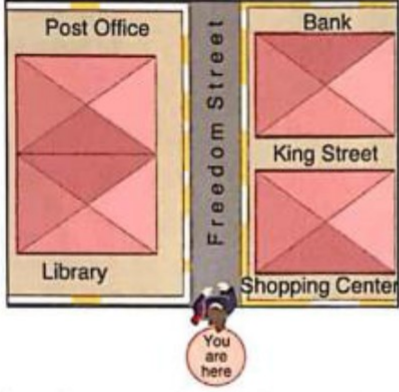
SOYADI:



SINIFI:

17	<p>Dede: — Sana bir soru soracağım, yavrum: Sürahi mi bardağa eğilir, bardak mı sürahiye?</p> <p>Torun: — Sürahide su olduğu için sürahi, bardağa eğilir.</p> <p>Dede: — Aferin sana! İşte bilge insanlar da gönlünü yere sermeyi bilen alçak gönüllü kişiler olduğu için bilgi ve görgüsünü aktarıırken karşısındakinin önünde eğilir. Atalarımız boşuna "- - -" dememiş.</p> <p>Bu metinde boş bırakılan yere anlam akışına göre aşağıdaki atasözlerinden hangisi getirilmelidir?</p> <p>A) Ne doğarsan aşına, o çıkar kaşığına. B) Ağaç, meyvesi olunca başını aşağı salar. C) Buğday başak verince orak pahaya çıkar. D) Lafla peynir gemisi yürümez.</p>
18	<p>Renklerin duygular üzerindeki etkisiyle ilgili birçok çalışma var. Peki, nasıl oluyor bu? Tabii ki düşüncelerle. Mesela bulutların rengine bakıp günün bize hazırladığı sürprizlere dair bir düşünceye kapılırsınız ve bu, duygu durumumuzu etkiler ya da beyaz bir kâğıt üzerindeki siyah yazıları rahatlıkla okuyabiliriz. Kâğıtla yazının renkleri birbirine çok yakın olursa yazıyı okumak zorlaşır, bu da insanın duygu durumunu etkiler.</p> <p>Bu metinde aşağıdakilerden hangisi insana özgü bir özellik kazanmıştır?</p> <p>A) renkler B) bulutlar C) gün D) yazı</p>
19	<div style="display: flex; justify-content: space-around;"> <div style="border: 1px solid #ccc; padding: 10px; width: 45%;"> <p>Fransa'nın bir kentinde vatandaşlar halka açık alanlara yerleştirilen öykü makineleri sayesinde istedikleri an kısa hikâyeler okuyabiliyor. Bu makineler, kısa hikâyeleri kasa fişine benzer bir biçimde ücretsiz olarak basıyor.</p> </div> <div style="border: 1px solid #ccc; padding: 10px; width: 45%;"> <p>Malatya'daki otobüs duraklarında bekleyen vatandaşlar için "Durak Kütüphanesi Projesi" hayata geçirildi. Durakların yanına yerleştirilen mini kütüphanelerle, vatandaşlar otobüs beklerken kitap okuyabilecek.</p> </div> </div> <p>Bu metinlerde sözü edilen uygulamaların amacı aşağıdakilerden hangisi olabilir?</p> <p>A) Kitap okumanın yeri ve zamanı olmadığını göstermek B) Çocuklara küçük yaşta okuma alışkanlığı kazandırmak C) Her okurun, kendine özgü bir okuma tekniği olduğunu ortaya koymak D) Kitap okumanın hafızayı güçlendirdiğini vurgulamak</p>
20	<ul style="list-style-type: none"> • Bazı kısaltmaların sonunda kullanılır. • Sayılardan sonra sıra bildirmek için kullanılır. • Kitap ve dergi künyelerinin sonunda kullanılır. <p>Aşağıdaki cümlelerin hangisinde noktanın (.) bu işlevlerinden herhangi birinin örneği <u>yoktur</u>?</p> <p>A) Ömer Seyfettin'in "Kaşağı" adlı hikâyesini okuduğumda henüz ilkökul 5. sınıftaydım. B) Bakanlık, hazırladığı örnek soruları https://odsgm.meb.gov.tr adresinden yayımlıyor. C) Levent, Ağâh Sırrı, Dil Üstüne, TDK Yayınları, Ankara, 1973. D) Saray, köşk, kale vb. yapı adlarının bütün kelimeleri büyük harfle başlar.</p>

Başarılar. 😊
İyi tatiller

ADI: SOYADI: SINIFI:








SORU	İNGİLİZCE TESTİ SORULARI
1	<p>1 - 3. sorulardaki boş bırakılan yerlere gelecek ifadeleri aşağıdaki görsele göre bulunuz.</p>  <p>Mike : Excuse me, how can I go to the?</p> <p>Kate : Go straight ahead, then take the first turning on the right. It's on your left.</p> <p>Mike : Thank you very much.</p> <p>A) post office B) library C) shopping center D) bank</p>
2	<p>The library is the shopping center.</p> <p>A) opposite B) next to C) between D) on</p>
3	<p>The shopping center</p> <p>A) is on Freedom Street B) is next to the post office C) is under the library D) is between the post office and library</p>
4	<p>Tom : Is your Art class?</p> <p>Michael : On Tuesdays and Fridays.</p> <p>A) What B) How many C) Where D) When</p>
5	<p>Jack : How many do you speak?</p> <p>Carol : Three. English, German and Spanish.</p> <p>A) books B) languages C) favorite D) classes</p>


6	<p>I'm in a now.</p> <p>I like reading books.</p> <p>A) toyshop B) bank C) library D) pharmacy</p>
7	 <p>Yukarıda verilen görsel hangi seçenekte yer almaktadır?</p> <p>A) Library B) Bank C) Pool D) Mosque</p>
8	<p>8-10. sorulardaki boş bırakılan yerlere uygun dşpen ifadeyi bulunuz.</p> <p>Excuse me.</p> <p>Go straight ahead. It is on your left.</p> <p>A) How are you? B) How can I go to the museum? C) How old are you? D) What is your name?</p>
9	<p>My mum wants some meat for dinner.</p> <p>So I am at the now.</p> <p>A) museum B) toy shop C) butcher D) barber</p>
10	 <p>A) Excuse me. How can I go to the cinema? B) Where is the cinema? C) Where are you? D) Do you like cinema?</p>

ADI:

SOYADI:

SINIFI:

11	 <p>Yukarıdaki görsel hangi seçeneği ifade etmektedir?</p> <p>A) Turn left. B) Turn right. C) Go straight ahead. D) It is on the right.</p>
12	 <p>Ahmet'in sorduğu yer aşağıdakilerden hangisidir?</p> <p>A)  B)  C)  D) </p>
13	 <p>Yukarıdaki diyalogda geçen işaretlerin yerine sırasıyla aşağıdaki ifadelerden hangisi getirilmelidir?</p> <p>A) Go straight ahead - Turn right. B) Go straight ahead - Turn left. C) Turn left - Turn right. D) It is on your right - Go straight ahead.</p>
14	<p>Sarah likes animals. She is at the.....</p> <p>A) pharmacy B) bakery C) grocery D) zoo</p>

15	<p>Aşağıda verilen görsele göre 15-20.sorularda boş bırakılan yerlere uygun kelime ya da ifadeyi işaretleyiniz.</p>  <p>Tourist : Excuse me! How can I go to the Bowling Alley?</p> <p>Policeman : Go straight ahead. Then, take the first turning on the right.</p> <p>A) Turn right. B) Turn left. C) Turn right into Hayat Street. D) It is on your left.</p>
16	<p>The hospital is the post office.</p> <p>A) near B) next to C) between D) opposite</p>
17	<p>The bus station is</p> <p>A) next to the library B) between the bookstore and school C) near the zoo D) between the school and police station</p>
18	<p>Ahmet : Excuse me! Where is the zoo?</p> <p>Cahit : Go straight ahead. Take the second right.</p> <p>A) It is on your right. B) It is on your left. C) It's opposite the supermarket. D) The zoo is next to the hospital.</p>
19	<p>The school is</p> <p>A) on Kızıl Street B) on Özgür Street C) in front of the hotel D) on Hayat Street</p>
20	<p>Arda : Excuse me! How can I go to the bookstore?</p> <p>Sezen :</p> <p>A) Go straight ahead. It is on your right. B) Go straight ahead. Take the second turning on the right. C) Go straight ahead. Turn left. It's on your right. D) Turn right. It is near the hospital.</p>