

1.



Millî Mücadelede yaşanan olayların sıralamasını doğru bir şekilde yapmak istersek hangi iki sinin yerlerini değiştirmeliyiz?

- A) 1 ve 2 B) 2 ve 4
C) 3 ve 4 D) 4 ve 5

2.



Atatürk, İstanbul'un işgal altında olduğunu görür görmez Türk milletini ve vatanını kurtarmak için çalışmalarına başladı. Arkadaşlarıyla görüşmeler yaptı ve kararını verdi. Anadolu'ya geçecek ve Millî Mücadele'yi başlatacağı. Mustafa Kemal bu düşüncesini gerçekleştirmek için ✱ vapuruyla □ tarihinde ✓ çıktı.

	✱	□	✓
A)	Samsun	23 Nisan 1920	Ankara'ya
B)	Bandırma	19 Mayıs 1919	Erzurum'a
C)	Savarna	29 Ekim 1923	Samsun'a
D)	Bandırma	19 Mayıs 1919	Samsun'a

3. Atatürk'ün, Kurtuluş Savaşı'nı başlatmadan önce genelgeler yayınlamasının ve kongreler toplanmasının asıl nedeni aşağıdakilerden hangisidir?

- A) Saltanatı kaldırmak
B) Cumhurbaşkanı seçilmek
C) Milletin birlik ve beraberliğini sağlamak
D) Savaş yapılmasını engellemek

4.



Sakarya Savaşı ile ilgili aşağıda verilen bilgilerden hangisi yanlıştır?

- A) Fransızlara karşı savaşılmıştır.
B) Atatürk'e "Gazi" unvanı verilmiştir.
C) Türk Ordusu savaşı kazanmıştır.
D) İnönü Savaşlarından sonra yapılmıştır.

5.



Batı Cephesi, Kurtuluş Savaşı'nın en uzun süren ve en şiddetli savaşlarının yapıldığı cephesidir. Şekildeki asker bu cephede Türk ordusunun savaştığı devlete nişan almaktadır.

Askerin nişan aldığı bu devlet, hedef tahtasında kaç numaralı bölümdedir?

- A) 1 B) 2
C) 3 D) 4

6. Türkiye Büyük Millet Meclisi, aşağıdaki tarihî olayların hangisinden önce açılmıştır?

- A) Cumhuriyetin ilan edilmesi
B) Atatürk'ün Samsun'a çıkması
C) Erzurum Kongresi'nin düzenlenmesi
D) Mondros Ateşkes Anlaşmasının imzalanması

7.



Millî Mücadele Dönemi'nde Türk Ordusu Doğu Cephesi'nde aşağıdakilerden hangisine karşı savaşmıştır?

- A) Yunanlılara B) İtalyanlara
C) Fransızlara D) Ermenilere

8.



Türk Ordusu Batı Cephesi'nde aşağıdaki savaşlardan hangisini **yapmamıştır**?

- A) I. İnönü Savaşı B) Trablusgarp Savaşı
C) II. İnönü Savaşı D) Sakarya Savaşı

9. Aşağıdakilerden hangisi Kurtuluş Savaşı'nda Batı Cephesi'nde faaliyet gösteren milli kahramanlarımızdan biridir?

- A) Ali Saip Bey C) Şerife Bacı
B) Şahin Bey D) Yörük Ali Efe

10. Mustafa Kemal'e kazandığı Zaferi nedeniyle TBMM tarafından "mareşal" rütbesi ve "gazi" unvanı verilmiştir.

Verilen cümlede boş bırakılan yere aşağıdakilerden hangisi getirilmelidir?

- A) Çanakkale
B) Dumlupınar
C) Sakarya
D) Trablusgarp

11.

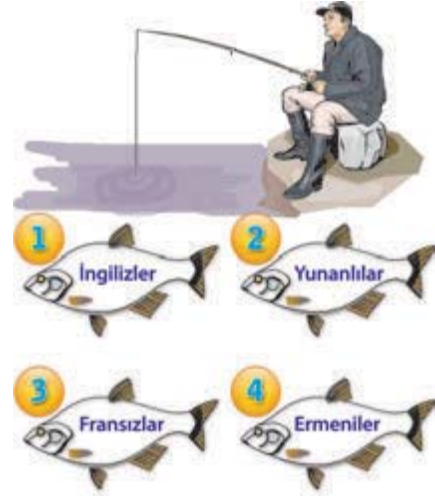


- Kurtuluş Savaşı yıllarında en zorlu mücadelenin verildiği cephe.
- Bu cephede Yunanistan ile savaşılmıştır.
- Bu cephedeki savaşlar 11 Ekim 1922'de imzalanan Mudanya Mütarekesi'ne kadar devam etmiştir.

Yukarıda sözü edilen cephe aşağıdakilerden hangisidir?

- A) Güney Cephesi
B) Doğu Cephesi
C) Batı Cephesi
D) Çanakkale Cephesi

12.



Balıkçı, üzerinde Sakarya Savaşı'nda savaştığımız işgal gücünün yazılı olduğu balığı tutacaktır.

Balıkçı kaç numaralı balığı tutmalıdır?

- A) 1 B) 2
C) 3 D) 4

13.

1

19 Mayıs 1919'da
Samsun'a gittim

2

Harp Akademisini
bitirdim.



3

Çanakkale Savaşı'nda düşman
güçlerine karşı savaştım.

Atatürk, hayatındaki bazı olaylardan zaman sırası karışık olarak söz etmiştir.

Yukarıda verilen olayların doğru sıralanışı hangisidir?

- A) 1 - 2 - 3 B) 2 - 1 - 3
C) 3 - 2 - 1 D) 2 - 3 - 1

14.

Ali Saip Ursavaş	Kahramanmaraş
Sütçü İmam	Şanlıurfa
Şahin Bey	Gaziantep

Kurtuluş Savaşı Kahramanları ile halka önderlik yaptıkları şehirlerin isimleri tablosunun doğru olabilmesi için hangi değişiklik yapılmalıdır?

- A) Şahin Bey ile Sütçü İmam yer değişmelidir.
B) Şanlıurfa ile Gaziantep yer değişmelidir.
C) Ali Saip Bey ile Sütçü İmam yer değişmelidir.
D) Kahramanmaraş ile Gaziantep yer değişmelidir.

15.



Urfa, Antep ve Maraş'ta Türk halkının silahlı direnişi hangi devletin işgaline karşı yapılmıştır?

- A) İngiltere B) Fransa
C) İtalya D) Yunanistan

16.

Mondros Ateşkes Anlaşması'ndan sonra İtilaf Devletleri ülkemizi işgal etmeye başlamışlardır. Güney Cephesi'nde Fransız işgallerine karşı Kuvayımiliye birlikleri kurularak büyük bir mücadele verilmiştir.

Buna göre, aşağıdakilerden hangisi Fransızlara karşı savaşta yer almış Milli Mücadele kahramanları arasında **yer almaz?**

- A) Hasan Tahsin B) Ali Saip Bey
C) Şahin Bey D) Sütçü İmam

17.



Kâzım Karabekir



Fevzi Çakmak



İsmet İnönü



Refet Bele

Yukarıdaki kişilerin ortak özelliği aşağıdakilerden hangisidir?


- A) Başbakanlık görevinde bulunmaları
B) Kuvay-ı Milliye'ye komutanlık yapmaları
C) TBMM'ye başkanlık yapmaları
D) Kurtuluş Savaşı'na yön vermeleri

18.

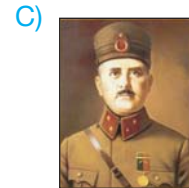
Millî Mücadele Dönemi'nde, Doğu Cephesi'nde Ermenilere karşı büyük başarılar kazanan Türk ordusunun komutanlığını aşağıdakilerden hangisi yapmıştır?




Ali Fuat Cebesoy



Fevzi Çakmak



Kâzım Karabekir



Refet Bele

19. Türkiye Cumhuriyeti kurulmadan önceki devletimizin adı aşağıdakilerden hangisidir?

- A) İtilaf Devleti
- B) Türkiye Devleti
- C) Osmanlı Devleti
- D) İttifak Devleti

20. Millî Mücadele yıllarında aşağıdaki şehirlerden hangisi işgale uğramamıştır?



21. Aşağıdaki savaşlardan hangisinin kaybedilmesi sonucunda yurdumuz işgal edilmeye başlamıştır?

- A) I. Dünya Savaşı
- B) II. Dünya Savaşı
- C) Sakarya Savaşı
- D) II. İnönü Savaşı

22. Mondros Ateşkes Anlaşması'na göre Osmanlı Devleti ordularını dağıtacak, orduya ait silahları yenen devletlerin gözetimindeki depolara koyacaktı.

Bu durumun aşağıdakilerden hangisini kolaylaştırdığı söylenebilir?

- A) Kurtuluş Savaşı'nın kazanılmasını
- B) Galip devletlerin Anadolu'yu işgal etmesini
- C) Osmanlı Devleti'nin varlığını sürdürmesini
- D) Cumhuriyetin ilan edilmesini

23. Mondros Ateşkes Anlaşması'ndan sonra yurdumuzu işgal etmeye çalışan devletler arasında aşağıdakilerden hangisi yer almamıştır?

- A) Amerika
- B) Fransa
- C) İtalya
- D) Yunanistan

24. Aşağıdaki cümlelerin hangisinde, Millî Mücadele'nin başlamak üzere olduğu dönemle ilgili yanlış bilgi verilmiştir?

- A) Yurdumuzun bazı bölgeleri düşmanlar tarafından işgal edilmişti.
- B) Ordularımıza ve silahlarımıza el konulmuştu.
- C) Osmanlı Devleti 1.Dünya Savaşı'nı kazanmış ve çok güçlüydü.
- D) Osmanlı Devleti, halkın mal ve can güvenliğini sağlayamıyordu.

25.



Şenol, Millî Mücadele döneminde yurdumuzu işgal eden bazı devletleri balık kılıcı etkinliğinde yukarıdaki numaralandırılmış yerlere yazmak istiyor.

Şenol'un bu etkinliğe aşağıdaki devletlerden hangisini yazması doğru olmaz?

- A) İngiltere
- B) Fransa
- C) Yunanistan
- D) Almanya

26.



Aşağıdaki işgalci devletler ve işgal ettikleri yerlerle ilgili eşleştirmelerden hangisi yanlıştır?

- A) İtalya - Antalya ve çevresi
- B) Ermeniler - Kars ve çevresi
- C) Yunanlılar - İzmir ve çevresi
- D) Fransızlar - Trabzon ve çevresi

27. İşgal edilen vatani savunmak için işgal bölgelerindeadlı millî direniş örgütleri kuruldu.

Yukarıdaki cümlede boş bırakılan yere aşağıdakilerden hangisi yazılmalıdır?

- A) Kuvayi Milliye
- B) Türk Silahlı Kuvvetleri
- C) İtilaf güçleri
- D) Türkiye Büyük Millet Meclisi

28.

Atatürk, yaşamı boyunca çeşitli güçlüklerle karşılaşmış ama bu güçlükleri başarıyla aşmıştır. Türkiye Büyük Millet Meclisinin, gaz lâmbasıyla aydınlatıldığı, cepheye kadınların omuzlarında mermi taşıdığı hatırlanırsa Kurtuluş Savaşı'nda karşılaşılan güçlükler daha iyi anlaşılır.



Yukarıdaki paragrafta Atatürk'ün hangi özelliği vurgulanmıştır?

- A) Hoşgörülü oluşu
- B) Yenilikçi oluşu
- C) Kararlı, cesur ve sabırlı oluşu
- D) Çocukları çok sevmesi

29. Mustafa Kemal'in askerlik başarısı gösterdiği ilk savaş aşağıdakilerden hangisidir?

- A) I. İnönü Savaşı
- B) Trablusgarp Savaşı
- C) Sakarya Savaşı
- D) II. İnönü Savaşı



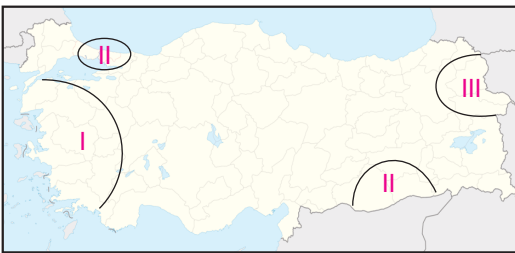
30.



Atatürk'ün yukarıdaki sözü onun hangi yönünü ortaya koymaktadır?

- A) Sözünde durmasını
- B) İleri görüşlülüğünü
- C) Çalışkan olmasını
- D) Bağımsızlığa önem vermesini

31.



Yukarıdaki haritada Mondros Ateşkes Antlaşması'ndan sonra Anadolu'da işgal edilen yerler numaralandırılarak gösterilmiştir.

Buna göre (II) ile gösterilen yerler hangi devlet tarafından işgal edilmiştir?

- A) İtalya
- B) Fransa
- C) İngiltere
- D) Yunanistan

32. Kurtuluş Savaşı'nda kadın olmasına rağmen erkek kılığına girerek vatan savunmasında görev alan kadın kahramanımız hangisidir?

- A) Halim Çavuş
- B) Halid Edip
- C) Şerife Bacı
- D) Nezaha Onbaşı

33. Kurtuluş Savaşı sırasında gösterdikleri üstün kahramanlıklar sonucu İstiklal Madalyası verilerek ödüllendirilen şehirlerimiz bulunmaktadır.

Aşağıda verilen şehirlerimizden hangisi İstiklal Madalyası'na sahip **değildir**?

- A) Kahramanmaraş
- B) Şanlıurfa
- C) Afyonkarahis
- D) Gaziant

34. Aşağıda verilen Milli Mücadele kahramanlarımızdan hangisi Güney Cephesi'nde görev **almamıştır**?

- A) Sütçü İmam
- B) Kazım Karabekir
- C) Şahin Bey
- D) Ali SAip Bey

35. Aşağıdakilerden hangisini Kurtuluş Savaşı'nın yapılmasının sebepleri arasında **sayamayız**?

- A) Ülkemiz topraklarının işgal edilmeye başlanması.
- B) Ülkemiz topraklarını genişletme isteğimiz.
- C) Bağımsızlığımızın tehlikeye düşmesi.
- D) Bağımsız yaşama isteğimiz.

A. Aşağıda ifadeleri kutucuklardaki sözcüklerden uygun olanlar ile tamamlayınız.

İstiklal Yolu

etnografya

millî

Antep

Gümrü

İnönü zaferleri

egemenlik

şanlı

birleştirici

1. Anlaşması ile uluslar arası ilk siyasi ve askeri başarımızı kazandık.
2. TBMM, Millî Mücadele’de gösterdiği kahramanlıklar nedeniyle Urfa ilimize unvanını vermiştir.
3.Türk milletinin TBMM’ye ve düzenli orduya güvenini artırdı. Mustafa Kemal, İsmet Paşa’ya çektiği kutlama telgrafın da “Siz orada yalnız düşmanı değil milletin ters giden talihini de yendiniz.” diyerek kazanılan zaferlerin önemini vurguladı.
4. Mustafa Kemal’in millî güçleri tek çatı altında toplaması onun bir kişiliğe sahip olduğunu gösterir.
5. Şahin Bey savunması sırasında şehit düşmüş kahramanlarımızdan biridir.
6. Millî kültürümüzü yansıtan maddî kültür öğeleri müzelerinde sergilenir.
7. Millî Mücadele’de üzerinde silah ve cephanelerin taşındığı İnebolu’dan Ankara’ya uzanan yola adı verilmiştir.

C. Aşağıda Millî Mücadele’imizle ilgili olaylardan bazıları ve bunların tarihleri karışık olarak verilmiştir. Her bir olayın başındaki kutucuğa ait olduğu tarihin numarasını yazınız.

- | | |
|---|--------------------|
| <input type="checkbox"/> Başkomutanlık Meydan Muharebesi | 1. 15 Mayıs 1919 |
| <input type="checkbox"/> Büyük Millet Meclisinin açılışı | 2. 30 Ekim 1918 |
| <input type="checkbox"/> İzmir’in işgali | 3. 30 Ağustos 1922 |
| <input type="checkbox"/> Mustafa Kemal’in Samsun’a çıkışı | 4. 23 Nisan 1920 |
| <input type="checkbox"/> Büyük Taarruz’un başlaması | 5. 19 Mayıs 1919 |
| <input type="checkbox"/> Mondros Ateşkes Anlaşması | 6. 9 Eylül 1922 |
| <input type="checkbox"/> Mudanya Ateşkes Anlaşması | 7. 26 Ağustos 1922 |
| <input type="checkbox"/> İzmir’in kurtuluşu | 8. 11 Ekim 1922 |