

Adı:
Soyadı:

2019-2020 EĞİTİM ÖĞRETİM YILI
MENEMEN ATATÜRK İLKOKULU
4-A SINIFI MÜZİK DERSİ 1. DÖNEM 1. YAZILI SINAVI

Puan

1. Aşağıdaki verilen dizek üzerine bir sol anahtarı çiziniz. (20 puan)

2. Aşağıdaki dizeğin çizgi ve aralık numaralarını üzerine yazınız. (20 puan)

Çizgi numaraları

Aralık numaraları

3. Aşağıda verilen terimlerin numarasını; görsellerin önündeki daireye yazarak eşleştiriniz.(20 puan)






1. Sol Anahtarı

2.Dizek

3.Ölçü Çizgisi

4.Bitiş Çizgisi

5. Zaman Belirteci



4. Aşağıdaki dizeğe dört tane ölçü çizgisi çiziniz.(20 puan)

5. Aşağıda verilen soruları cevaplayınız.(20 puan)

- a) İstiklal Marşı'nın şairi kimdir?
- b) İstiklal Marşı'nın bestecisi kimdir?
- c) Müzikte sesleri gösteren özel işaretlere ne ad verilir?
- d) Zaman belirtecinin görevi nedir?

Başarılar...