

Adı ve Soyadı:

2019-2020 Eğitim Öğretim Yılı

Numara:

Sınıfı Müzik Dersi 1. Dönem 1. Yazılısı

1) İstiklal Marşı'nda boş bırakılan yerleri yanlışsız bir şekilde dolduralım. (16p)

İSTİKLÂL MARŞI

Söz: Mehmet Âkif ERSOY

Müzik: Osman Zeki ÜNGÖR

Korkma, sönmez buyüzen al san**cak**;

Sönmedenüstünde tüten en son ocak.

O benimyıldızıdır, parlayacak;

O benimdir, o benim **ancak**.

....., kurban olay**ım**, çehreni ey nazlı hi**lâl**!

Kahraman ırkıma bir! Ne bu şiddet, bu celâl?


Sana olmaz dökü**len**sonra helâl.

Hakkıdır, Hakk'a tapan milletimin

2) Aşağıdaki "dizek" üzerinde çemberler verilmiştir. Çemberler "kaçıncı aralık", "kaçıncı çizgi" olduklarını göstermektedir. Yandaki isimlerle eşleştiriniz.(Çember içine yazınız) (27p)


- | | | |
|----------|---|---|
| 1. Çizgi | → | 1 |
| 2. Çizgi | → | 2 |
| 3. Çizgi | → | 3 |
| 4. Çizgi | → | 4 |
| 5. Çizgi | → | 5 |

- | | | |
|-----------|---|---|
| 1. Aralık | → | A |
| 2. Aralık | → | B |
| 3. Aralık | → | C |
| 4. Aralık | → | D |



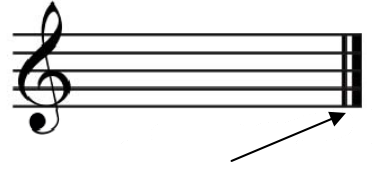
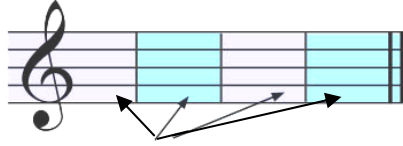

3) Ok ile gösterilenlerin isimlerini kutuya bakarak yazınız. (3 X 5p = 15p)

nota sapı - kuyruk - nota gövdesi



4) Aşağıdaki kelimeleri uygun olan noktalı yerlere yazalım. (7 X 4p =28p)

Dizek - Sol Anahtarı - Ölçü Çizgisi - Bitiş Çizgisi - Zaman Belirteci - Nota - Ölçü

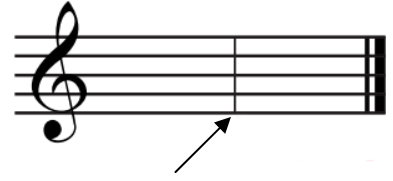


.....

.....

.....

.....



.....

.....

.....

5) Yandaki kutunun içindeki notanın aynısını istenen yerlere çizin.(6+4+4 =14p)

a) 1. Aralığa yandaki notayı çizin

b) 2. Çizgiye yandaki notayı çizin

c) 2. Aralığa yandaki notayı çizin

